

MATEMATİK TEKRAR ÇALIŞMASI 1



$\begin{array}{r} 31 \\ - \dots \\ \hline 26 \end{array}$	$\begin{array}{r} 4 \\ + 58 \\ \hline \dots \end{array}$	$\begin{array}{r} 75 \\ - 19 \\ \hline \dots \end{array}$	$\begin{array}{r} \dots \\ - 44 \\ \hline 20 \end{array}$	$\begin{array}{r} 18 \\ - 4 \\ \hline \dots \end{array}$	$\begin{array}{r} 94 \\ - \dots \\ \hline 44 \end{array}$
$\begin{array}{r} 10 \\ + 76 \\ \hline \dots \end{array}$	$\begin{array}{r} \dots \\ - 6 \\ \hline 83 \end{array}$	$\begin{array}{r} \dots \\ - 32 \\ \hline 56 \end{array}$	$\begin{array}{r} 45 \\ + \dots \\ \hline 83 \end{array}$	$\begin{array}{r} 34 \\ + 49 \\ \hline \dots \end{array}$	$\begin{array}{r} \dots \\ + 47 \\ \hline 82 \end{array}$

En yakın onlukları boyayın.							
44	75	84	96				
40	50	70	80	80	90	90	100

"<",">","=" işaretlerinden uygun olanı yazın.		
51 87	9 9	42 90
68 68	93 93	77 12

Sayıları büyükten küçüğe sıralayın. (Sembolle)

92, 65, 73, 23, 99

.....

16	Basamak Adı	Basamak Değeri
10	Onluk	1
6	Birlik	6

$\dots - 4 = 12 - 1$	$7 + 13 = \dots + 6$
$1 + 5 = 12 - \dots$	$\dots + 8 = 5 + 5$

Gerçek Sonuç	Tahmin	Fark
$26 + 43 = \dots$		
$18 + 54 = \dots$		

Gerçek Sonuç	Tahmin	Fark
$56 - 47 = \dots$		
$94 - 46 = \dots$		

1) Yunus'un 93 tane kalemıraşı vardır. Şükriye'nin kalemıraşlarının sayısı Yunus'un kalemıraşlarının sayısından 6 eksiktir. Buna göre Şükriye'nin kaç tane kalemıraşı vardır?

.....

2) Deniz, Ayşenaz ve Ömer'in toplam 91 silgisi var. Deniz'in 30, Ayşenaz'ın 51 silgisi olduğuna göre Ömer'in kaç silgisi vardır?

MATEMATİK TEKRAR ÇALIŞMASI 2

Verilen sayıların okunuşlarını yazınız.

Verilen sayıları rakamlarla yazınız.

53.....

16.....

62.....



otuz yedi.....




altmış beş.....

yetmiş bir.....

Aşağıdaki toplama ve çıkarma işlemlerini zihinden yapınız.

$19 + 12 = \dots$	$15 + 26 = \dots$	$70 - 30 = \dots$	$22 + 13 = \dots$
$30 - 10 = \dots$	$30 - 20 = \dots$	$32 + 14 = \dots$	$60 - 30 = \dots$

Kutuların altına bilyelerin kaç onluk ve kaç birlikten oluştuğunu yazınız.



..... onluk + birlik

..... onluk + birlik

..... onluk + birlik

Dörder ritmik sayarken 10. söylediğimiz sayı kaçtır?

Beşer ritmik sayarken 3. söylediğimiz sayı kaçtır?

Dörder ritmik sayarken 9. söylediğimiz sayı kaçtır?

Üçer ritmik sayarken 8. söylediğimiz sayı kaçtır?

53, 57, 61, 65, 69, örüntüsünü devam ettirdiğinizde hangi sayıya ulaşınız?

4, 7, 10, 13, 16, 20 örüntüsünü bozan sayıyı bulun.

58, 56, 54, 52, 51, 48 örüntüsünü bozan sayı hangisidir?

