



Öğrencinin Adı-Soyadı:.....

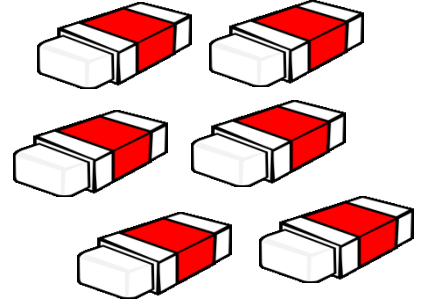
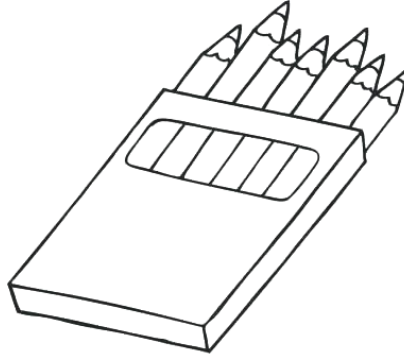
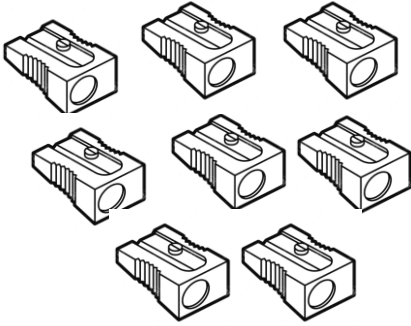
Numarası:.....

DESTE


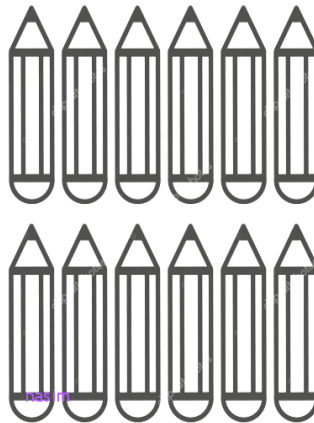

Deste: Aynı türden 10 varlığın oluşturduğu aruba **deste** denir.



Aşağıdaki varlıkların 1 desteden kaç tane az olduğunu kutucuklara yazınız.



Aşağıdaki varlıkların 1 desteden kaç tane fazla olduğunu kutucuklara yazınız.

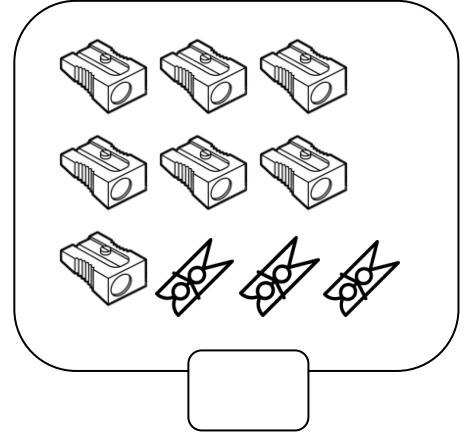
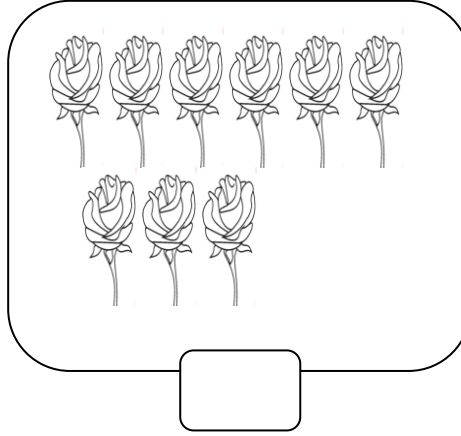
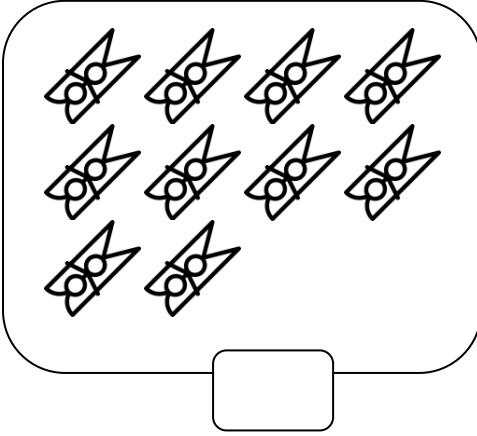





Öğrencinin Adı-Soyadı:.....

Numarası:.....

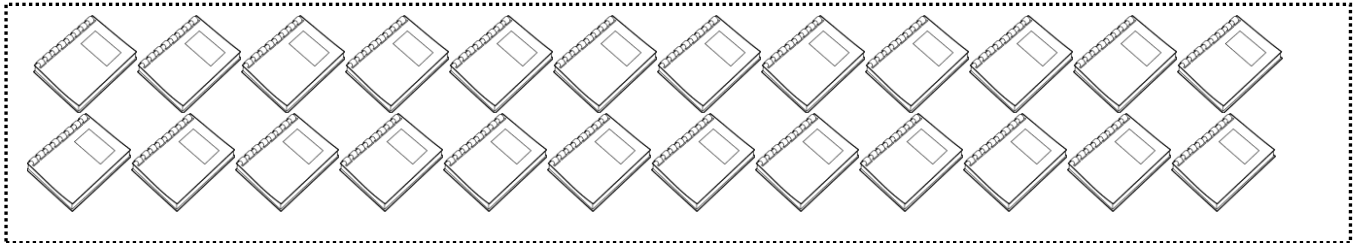
Aşağıdaki nesne gruplarının hangilerinin **1 deste** olduğunu bulup işaretleyiniz.



Aşağıdaki kalemlerin **1 destesini** boyayınız.



Aşağıdaki defterlerin **2 destesini** boyayınız.



Aşağıdaki boşlukları doldurunuz.

1. 2 destede.....tane nesne vardır.
2. 1 destedetane nesne vardır.
3. 2 deste + 4 =..... eder.
4. Aynı türden tane nesne 1 deste oluşturur.
5. 4 deste+ 5=eder.

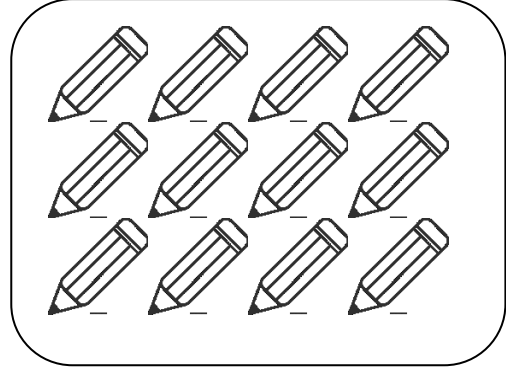


Vazoya **1 deste** çiçek çiz.



DÜZİNE


Düzine: Aynı türden 12 varlığın oluşturduğu gruba düzine denir.



Annenize vermek için aşağıdaki güllerin **1 düzinesini** boyayınız.



Annen çamaşır sermek için **2 düzine** mandal aldı. Aşağıdaki mandallardan annenin aldığı mandal sayısı kadar boya.



Aşağıdaki boşlukları doldurunuz.

1. 2 düzinede.....tane nesne vardır.
2. 1 düzinede.....tane nesne vardır.
3. 1 düzine + 4 = eder.
4. Aynı türden tane nesne 1 düzine oluşturur.
5. 2 düzine + 2= eder.

Aşağıdaki cümleleri oku. Cümleler doğruysa "D" yanlışsa "Y" yaz.

- () Deste düzineden azdır.
() 1 deste 1 düzineye eşittir.
() 2 deste 1 düzineye eşittir.
() Düzine desteden fazladır.