

MATEMATİK TEKRAR ÇALIŞMASI 1



$\begin{array}{r} 90 \\ - \dots \\ \hline 14 \end{array}$	$\begin{array}{r} 36 \\ - 20 \\ \hline \dots \end{array}$	$\begin{array}{r} 40 \\ - 32 \\ \hline \dots \end{array}$	$\begin{array}{r} 63 \\ - \dots \\ \hline 26 \end{array}$	$\begin{array}{r} \dots \\ + 4 \\ \hline 14 \end{array}$	$\begin{array}{r} 99 \\ - 37 \\ \hline \dots \end{array}$
$\begin{array}{r} 49 \\ + 36 \\ \hline \dots \end{array}$	$\begin{array}{r} 20 \\ + \dots \\ \hline 70 \end{array}$	$\begin{array}{r} \dots \\ - 9 \\ \hline 52 \end{array}$	$\begin{array}{r} 28 \\ + 54 \\ \hline \dots \end{array}$	$\begin{array}{r} 41 \\ + 15 \\ \hline \dots \end{array}$	$\begin{array}{r} 61 \\ + 12 \\ \hline \dots \end{array}$

En yakın onlukları boyayın.							
19	38	41	86				
10	20	30	40	40	50	80	90

Sayıları büyükten küçüğe sıralayın. (Sembolle)

12, 7, 95, 31, 25

.....

$$3 + \dots = 5 + 10$$

$$\dots + 6 = 1 + 10$$

Gerçek Sonuç	Tahmin	Fark
$13 + 41 = \dots$		
$27 + 41 = \dots$		

1) Eymen'in 26 lirası vardı. Annesi Eymen'e bir miktar para verince Eymen'in 69 lirası oldu. Buna göre annesi Eymen'e kaç lira vermiştir?

2) Emir 47 yaşındadır. Yunus, Emir'den 34 yaş küçüktür. Buna göre Emir ve Yunus'un yaşları toplamı kaçtır?

MATEMATİK TEKRAR ÇALIŞMASI 2

Verilen sayıların okunuşlarını yazınız.

Verilen sayıları rakamlarla yazınız.

56.....
53.....
62.....






otuz altı.....
yirmi üç.....
seksen sekiz.....

Aşağıdaki toplama ve çıkarma işlemlerini zihinden yapınız.

$34 + 11 = \dots$	$28 + 18 = \dots$	$90 - 20 = \dots$	$36 + 14 = \dots$
$60 - 30 = \dots$	$37 + 12 = \dots$	$50 - 40 = \dots$	$80 - 20 = \dots$

Kutuların altına bilyelerin kaç onluk ve kaç birlikten oluştuğunu yazınız.



..... onluk + birlik onluk + birlik onluk + birlik

İkişer ritmik sayarken 6. söylediğimiz sayı kaçtır?

Beşer ritmik sayarken 2. söylediğimiz sayı kaçtır?

İkişer ritmik sayarken 2. söylediğimiz sayı kaçtır?

İkişer ritmik sayarken 4. söylediğimiz sayı kaçtır?

59, 57, 55, 54, 51, 49 örüntüsünü bozan sayı hangisidir?

36, 32, 28, 24, 20, örüntüsünde noktalı yere kaç yazılmalıdır?

18, 17, 16, 15, 14, örüntüsünü devam ettirdiğinizde hangi sayıya ulaşınız?

