

MATEMATİK TEKRAR ÇALIŞMASI 1



$\begin{array}{r} 99 \\ - 28 \\ \hline \end{array}$	$\begin{array}{r} \\ - 5 \\ \hline \end{array}$	$\begin{array}{r} 41 \\ + 42 \\ \hline \end{array}$	$\begin{array}{r} 18 \\ + \\ \hline \end{array}$	$\begin{array}{r} 20 \\ + 5 \\ \hline \end{array}$	$\begin{array}{r} 69 \\ + 28 \\ \hline \end{array}$
....	81	34
$\begin{array}{r} 81 \\ - \\ \hline \end{array}$	$\begin{array}{r} \\ - 64 \\ \hline \end{array}$	$\begin{array}{r} \\ + 47 \\ \hline \end{array}$	$\begin{array}{r} 2 \\ + 96 \\ \hline \end{array}$	$\begin{array}{r} 8 \\ - 3 \\ \hline \end{array}$	$\begin{array}{r} \\ + 21 \\ \hline \end{array}$
17	1	48	49

En yakın onlukları boyayın.							
32	74	66	45				
30	40	70	80	60	70	40	50

"<",">","=" işaretlerinden uygun olanı yazın.		
21 33	40 45	48 17
91 90	56 83	99 58

Sayıları küçükten büyüğe sıralayın. (Sembolle)
38, 58, 98, 24, 99
.....

33	Basamak Adı	Basamak Değeri
$\begin{array}{c} \rightarrow \\ \rightarrow \end{array}$

$.... + 2 = 1 + 4$	$12 - = 2 + 4$
$.... - 5 = 2 + 1$	$.... + 10 = 10 + 2$

$12 - = 2 + 4$	$.... + 10 = 10 + 2$
---------------------	----------------------

Gerçek Sonuç	Tahmin	Fark
$81 + 11 =$		
$62 + 13 =$		

Gerçek Sonuç	Tahmin	Fark
$82 - 24 =$		
$27 - 14 =$		

- 1) Nisanur'un 1 deste kalemı vardı. Nisanur kalemlerinin 5 tanesini kaybetti. Nisanur'un kaç tane kalemı kalmıştır?
- 2) Şükriye 41 yaşındadır. Emir, Şükriye'den 5 yaş küçüktür. Buna göre Emir 8 yıl sonra kaç yaşında olur?

MATEMATİK TEKRAR ÇALIŞMASI 2

Verilen sayıların okunuşlarını yazınız.

Verilen sayıları rakamlarla yazınız.

35.....

altmış dört.....

21.....

doksan




15.....

otuz yedi.....

Aşağıdaki toplama ve çıkarma işlemlerini zihinden yapınız.

$13 + 19 =$	$29 + 10 =$	$30 - 10 =$	$22 + 19 =$
$90 - 10 =$	$16 + 26 =$	$90 - 20 =$	$50 - 10 =$

Kutuların altında bilyelerin kaç onluk ve kaç birlikten oluştuğunu yazınız.



..... onluk + birlik

..... onluk + birlik

..... onluk + birlik

Üçer ritmik sayarken 7. söylediğimiz sayı kaçtır?

Üçer ritmik sayarken 9. söylediğimiz sayı kaçtır?

İkişer ritmik sayarken 4. söylediğimiz sayı kaçtır?

Dörder ritmik sayarken 10. söylediğimiz sayı kaçtır?

50, 47, 44, 41, 39, 35 örüntüsünü bozan sayı hangisidir?

54, 52, 50, 48, 47, 44 örüntüsünü bozan sayı hangisidir?

77, 74, 71, 68, 65, örüntüsünde noktalı yere kaç yazılmalıdır?

