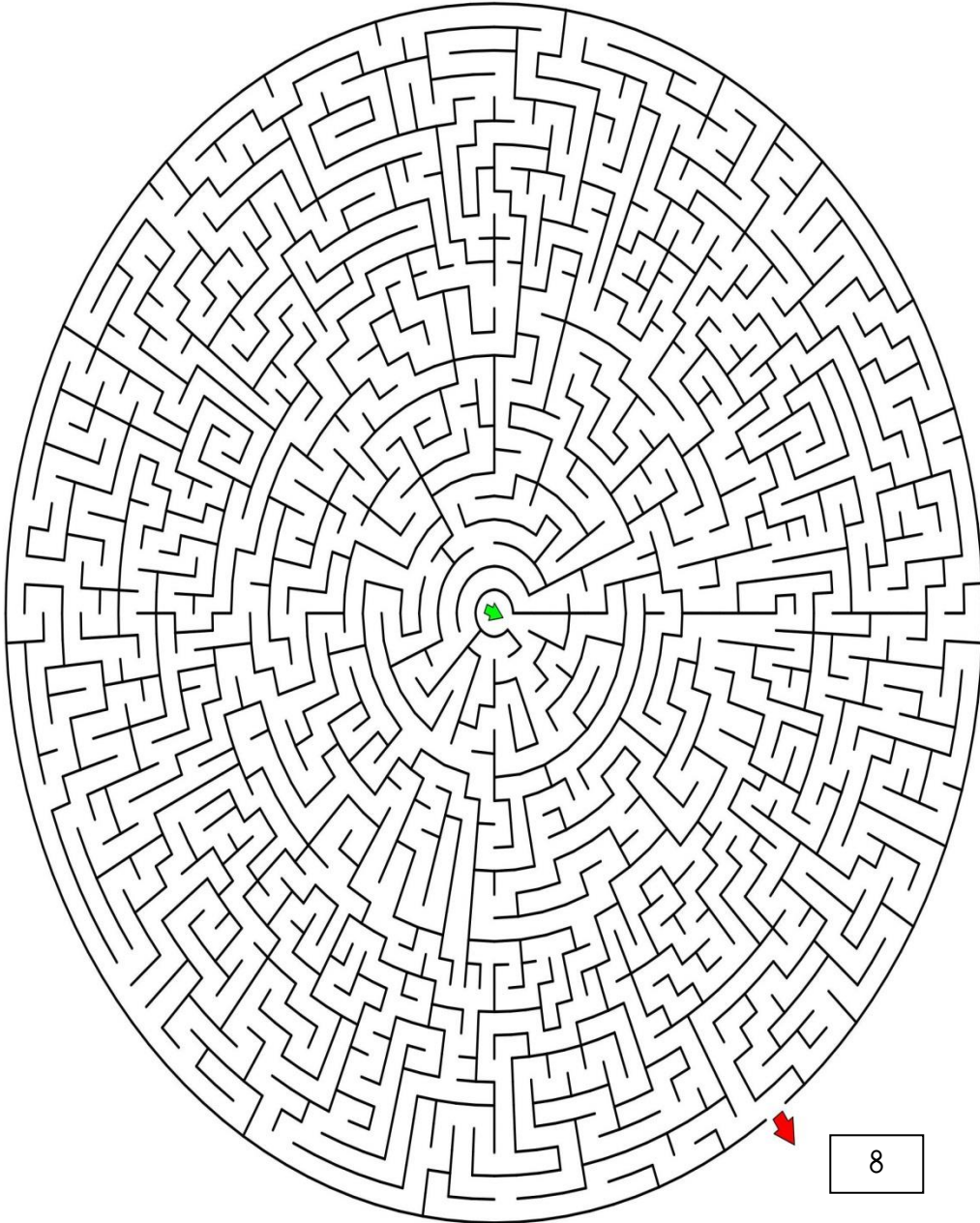




Ortadaki oktan başlayarak çıkış okuna ulaşmaya çalışalım.



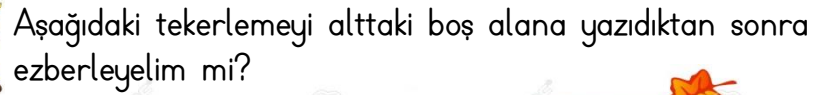
8

ADI SOYADI:



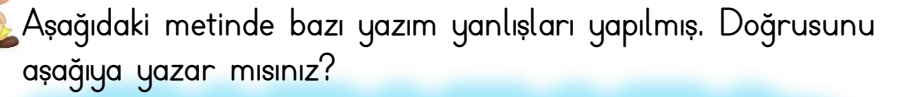
Çocuklar ,aşağıda verilen eş anlamlı kelimeleri birbirleri ile eşleştirelim mi?

Sene	Doktor
Sonbahar	Güz
Hekim	Yıl
Muallim	Ev
Talebe	Öğrenci
Konut	Öğretmen
Yurt	Konuk
Sözcük	Kelime
Misafir	Vatan
Armağan	Kalp
Okul	Mektep
Yürek	Hediye



Günlerden bir gün
İşler karıştı tersi tersine
Nokta, virgül, satır başı
İşin yoksa başını kaşı
Ben yandım.

TIP !



Annelerinin afacan yavruları yusuf ile yunus bir gün Bahçeye çıkmışlar? Yunus annesinin elini bıraktığı Gibi koşmaya başlamış, yusuf ise bisikletine binmiş. Anneleri ise hangisinin peşinden Koşturacağını bilememiş? Önce koşarken yunus düşmüş yere. Başlamış ağlamaya, Annesi tam ona doğru yönelmiş ki bu sefer de yusuf başlamış ağlamaya. O da düşmüş bisikletten. Anneleri hangisinin peşinden Koşsun?



Sınıfımızın kuralları ile ilgili aşağıdaki ifadelerden doğru olanların başındaki daireye gülen yüz (😊) çizelim.

- ☐ Derse zamanında gelmeliyiz.
- ☐ Sınıfımızı temiz tutmalıyız.
- ☐ Düşüncelerimizi açıklarken kaba olabiliriz.
- ☐ Sınıf içi etkinlikleri birlikte planlamalıyız.
- ☐ Sınıf içi etkinliklere katılmak zorunda değiliz.
- ☐ Sınıftaki sorumluluklarımızı yerine getirmeliyiz.
- ☐ Okulda ve sınıfta istediğimiz kişiye rahatsız edebiliriz.
- ☐ Derste konuşmak için parmak kaldırmamıza gerek yoktur.
- ☐ Derste ayakta gezebiliriz.
- ☐ Çöplerimizi çöp kutusuna atmalıyız.
- ☐ Ödevlerimizi zamanında yapmalıyız.
- ☐ Öğretmenimizi dikkatle dinlemeliyiz.
- ☐ Çantamıza ders programımıza göre ders araç gereçlerini koymamıza gerek yoktur.



Aşağıya sınıfımızla ilgili başka kurallar da yazar mısınız?

.....

.....



Aşağıdaki varlıkların sayısını önce tahmin edelim, ardından sayıp gerçek sayısını yazalım.





Aşağıdaki sayıların basamak adlarını ve basamak değerlerini yazalım.

	Basamak Adı	Basamak Değeri
37		

	Basamak Adı	Basamak Değeri
45		

	Basamak Adı	Basamak Değeri
89		


	Basamak Adı	Basamak Değeri
91		

	Basamak Adı	Basamak Değeri
65		

	Basamak Adı	Basamak Değeri
40		

	Basamak Adı	Basamak Değeri
51		

	Basamak Adı	Basamak Değeri
29		



İki resim arasındaki 12 farkı bulabilir misiniz?

