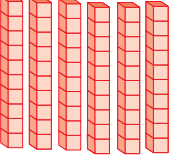



Adı ve Soyadı :

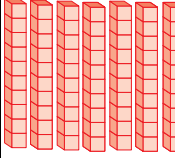

ADALET İLKOKULU 2/A SINIFI MATEMATİK ÇALIŞMA SAYFASI





Aşağıdaki basamak tablolarını uygun şekilde doldurunuz.

ONLUK	BİRLİK
	



Sayı	
Basamak Adı	
Basamak Değeri	
Sayının Okunuşu	

ONLUK	BİRLİK
	

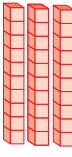

Sayı	
Basamak Adı	
Basamak Değeri	
Sayının Okunuşu	

ONLUK	BİRLİK
	



Sayı	
Basamak Adı	
Basamak Değeri	
Sayının Okunuşu	

ONLUK	BİRLİK
	

Sayı	
Basamak Adı	
Basamak Değeri	
Sayının Okunuşu	

ONLUK	BİRLİK
	



Sayı	
Basamak Adı	
Basamak Değeri	
Sayının Okunuşu	

ONLUK	BİRLİK
	

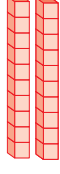

Sayı	
Basamak Adı	
Basamak Değeri	
Sayının Okunuşu	

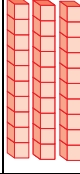

ONLUK	BİRLİK
	



Sayı	
Basamak Adı	
Basamak Değeri	
Sayının Okunuşu	



ONLUK	BİRLİK
	

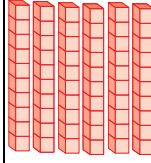

Sayı	
Basamak Adı	
Basamak Değeri	
Sayının Okunuşu	

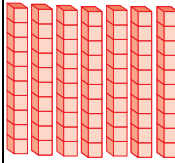

	ONLUK	BİRLİK
		
Sayı		
Basamak Adı		
Basamak Değeri		
Sayının Okunuşu		



	ONLUK	BİRLİK
		
Sayı		
Basamak Adı		
Basamak Değeri		
Sayının Okunuşu		

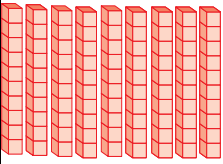

	ONLUK	BİRLİK
		
Sayı		
Basamak Adı		
Basamak Değeri		
Sayının Okunuşu		

	ONLUK	BİRLİK
		
Sayı		
Basamak Adı		
Basamak Değeri		
Sayının Okunuşu		

	ONLUK	BİRLİK
		
Sayı		
Basamak Adı		
Basamak Değeri		
Sayının Okunuşu		

	ONLUK	BİRLİK
		
Sayı		
Basamak Adı		
Basamak Değeri		
Sayının Okunuşu		

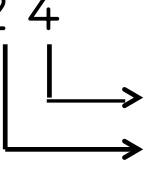
	ONLUK	BİRLİK
		
Sayı		
Basamak Adı		
Basamak Değeri		
Sayının Okunuşu		

	ONLUK	BİRLİK
		
Sayı		
Basamak Adı		
Basamak Değeri		
Sayının Okunuşu		

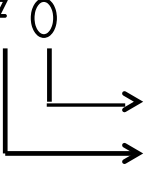
Aşağıdaki sayıların basamak adlarını yazınız. Basamak değerlerini bulunuz.

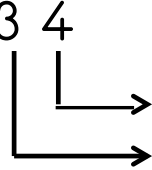
8 2	<u>Basamak Adı</u>	<u>Basamak Değeri</u>

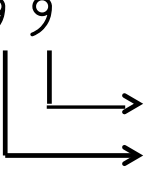

6 9	<u>Basamak Adı</u>	<u>Basamak Değeri</u>

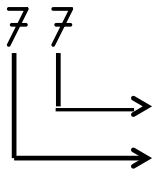

2 4	<u>Basamak Adı</u>	<u>Basamak Değeri</u>


4 8	<u>Basamak Adı</u>	<u>Basamak Değeri</u>


7 0	<u>Basamak Adı</u>	<u>Basamak Değeri</u>


3 4	<u>Basamak Adı</u>	<u>Basamak Değeri</u>


9 9	<u>Basamak Adı</u>	<u>Basamak Değeri</u>


7 7	<u>Basamak Adı</u>	<u>Basamak Değeri</u>


5 0	<u>Basamak Adı</u>	<u>Basamak Değeri</u>

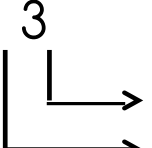

8 8	<u>Basamak Adı</u>	<u>Basamak Değeri</u>


4 3	<u>Basamak Adı</u>	<u>Basamak Değeri</u>


2 6	<u>Basamak Adı</u>	<u>Basamak Değeri</u>


3 3	<u>Basamak Adı</u>	<u>Basamak Değeri</u>


6 5	<u>Basamak Adı</u>	<u>Basamak Değeri</u>


1 3	<u>Basamak Adı</u>	<u>Basamak Değeri</u>


4 1	<u>Basamak Adı</u>	<u>Basamak Değeri</u>


Aşağıdaki sayıların onluk ve birlik sayılarını bulunuz. Okunuşunu yazınız.

SAYI	ONLUK	BİRLİK	SAYININ OKUNUŞU
484..... onluk	...8.... birlik	kırk sekiz
56 onluk birlik
65 onluk birlik
72 onluk birlik
80 onluk birlik
49 onluk birlik
37 onluk birlik
25 onluk birlik
14 onluk birlik
53 onluk birlik
66 onluk birlik
74 onluk birlik
92 onluk birlik
11 onluk birlik
23 onluk birlik
34 onluk birlik
45 onluk birlik
56 onluk birlik
65 onluk birlik
74 onluk birlik
83 onluk birlik
90 onluk birlik
94 onluk birlik
17 onluk birlik
29 onluk birlik
36 onluk birlik
63 onluk birlik
51 onluk birlik
20 onluk birlik
30 onluk birlik
71 onluk birlik
82 onluk birlik
99 onluk birlik