

1.) İstenen yerleri doldurunuz.

Sayı	57	
Onluk - Birlik		
Basamak Adları		
Basamak Değeri		
Bloklarla gösterim		
Abaküs ile gösterim		

2.) İstenen yerleri doldurunuz.

73: 7 onluk + 3 birlik

85: .....

46: .....

91: .....

28: .....

70: .....

54: .....

37: .....

5 : .....

1 : .....

3.) 75 sayısının basamak adlarını yazınız.

4.) 58 sayısının basamak değerlerini yazınız.

5.) 41 sayısını bloklarla gösteriniz.

6.) 67 sayısını abaküs ile gösteriniz.

7.) 23 sayısında 2 rakamının basamak adı nedir?


8.) 84 sayısında 4 rakamının basamak değeri kaçtır?

9.) 57 sayısında 7 rakamının basamak adı nedir?

10.) 48 sayısında 4 rakamının basamak değeri kaçtır?

11.) Basamak değeri 7 ve 80 olan sayı kaçtır?

12.) Basamak değeri 50 ve 2 olan sayı kaçtır?

Sayı	Basamak Adları	Basamak Değeri
82		
	.....	.....
	.....	.....

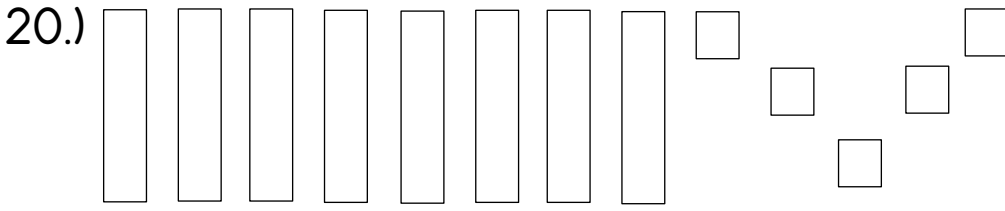
14.) 4 birlik ve 7 onluktan oluşan sayı kaçtır?

15.) 8 onluk ve 3 birlikten oluşan sayı kaçtır?

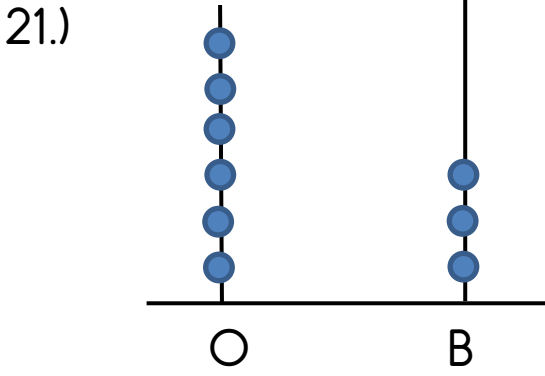
16.) 9 birlikten oluşan sayı kaçtır?      17.) 4 onluktan oluşan sayı kaçtır?

18.) Basamak değeri 60 ve 2 olan sayı kaçtır?

19.) Basamak değeri 7 ve 40 olan sayı kaçtır?



Yukarıda onluk ve birlik bloklarla gösterilen sayı kaçtır? .....



Yukarıda abaküs ile gösterilen sayı kaçtır? .....

22.) 6 onluktan oluşan sayı kaçtır?      23.) 7 birlikten oluşan sayı kaçtır?

24.) İstenen yerleri istediğiniz gibi doldurunuz.

Sayı		
Onluk - Birlik		
Basamak Adları		
Basamak Değeri		
Bloklarla gösterim		
Abaküs ile gösterim		

SerkanTaburoğlu