


Adım: Ahmet
Annemin adı: Ayşe
Babamın adı: Yusuf
Annemin kız kardeşinin adı: Derya
Babamın kız kardeşinin adı: Özge
Annemim erkek kardeşinin adı: İshak
Babamın erkek kardeşinin adı: Ramazan

1.ve 2. Soruları yukarıdaki tabloya göre cevaplayınız.

1. Derya ,Ahmet'in neyi olur?
A) Halası B) Teyzesi C) Annesi
2. Ramazan, Ahmet'in neyi olur?
A) Babası B) Dayısı C) Amcası

3. Aşağıdaki öğünlerden hangisi kahvaltı için uygundur?



4.



Sağlığımız için yukarıdaki besinlerden kaç tanesini tüketmeliyiz?

- A) 2 B) 3 C) 4

1

2

Market

3

5. Enes okulunun yakınındaki yerleri tarif etmek için yukarıdaki şekli çizdi. Okulun solunda cami ,caminin altında market olduğunu söyledi. Buna göre;

Buna göre Enes'in okulu kaç numara ile gösterilen yerdir?

- A) 1 B) 2 C) 3

6. Aşağıda verilen ihtiyaçlardan hangisi diğerlerinden sonra gelir?

- A) Meyve sebze almak.
B) Tiyatroya gitmek.
C) Kış için mont almak.

7. Aşağıdaki bilgilerden hangisi yanlıştır?

- A) Abur cubur yiyeceklerle beslenip direncimizi arttırmalıyız.
B) Yiyeceklerimiz temiz ve doğal olmalıdır.
C) Büyümek ,gelişmek ve sağlıklı yaşamak için dengeli beslenmeliyiz.

8. Hangisi sağlıklı bir akşam yemeğidir?

A)

B)




C)



- ☐ Yemekten sonra ellerimi yıkar, dişlerimi fırçalarım.
- ☐ Anneme yemekten sonra mutlaka teşekkür ederim.
- ☐ Yemekte kardeşimin çatalını kullanabilirim.
- ☐ Yemekte müzik dinlerken şarkı söylerim.
- ☐ Ben evin içinde dolaşarak yemek yerim.

9. Yukandakilerden kaç tanesi görgü kuralıdır?
A) 2 B) 3 C) 4

10. Aşağıdaki öğrencilerden hangisi kaynakları bilinçli kullanıyordur?

- A)  Odamdan çıkarken lambayı söndürürüm.
- B)  Kullanmadığım zamanlarda da bilgisayarımı açık bırakırım.
- C)  Kapattığım hâlde musluğun damladığını fark ederim ama bunu önemsemem.

- Spor yapmak.
- Der çalışmak.
- Kişisel bakıma özen göstermek.
- Yeteri kadar uyumak.
- Dengeli ve düzenli beslenme.

11. Vücudumuzun sağlıklı bir şekilde büyüüp gelişmesi için yukarıdakilerden kaç tanesini yapmalıyız?
A) 5 B) 4 C) 3

Ütü yapma	Çamaşır yıkama
Yemek yapma	Yatak toplama

12. Yukandakilerden kaç tanesi ailede üstlenebileceğimiz görevlerdendir?
A) 1 B) 2 C) 3

13. Aşağıdakilerden hangisi grup çalışmalarının yararlarından değildir?

- A) Sorumluluk duygusunu geliştirir,
B) Yeteneklerimizi geliştirir.
C) Bencillik duygumuzu geliştirir.

- Hemşire
- Polis
- Diş hekimi
- Eczacı

14. Yukandakilerden kaç tanesi sağlık alanında hizmet veren mesleklerdendir?
A) 2 B) 3 C) 4

Pinar, yaz kampında tanıştığı Selma'ya mektup gönderecektir.

15. Pinar'ın yazdığı mektup zarfının üzerinde hangi bilginin olmasına gerek yoktur?
A) Sokak adı
B) Şehir adı
C) Okulun adı

16. Hangi öğrencinin davranışı yemekte görgü kurallarına uymaz?

- A)  Yemekten sonra ağzımı koluma silerim.
- B)  Yemekte ağızım doluymken konuşmam.
- C)  Yemekte çatal, kaşık, bıçak kullanırım.