

## TÜRKÇE

1	Kemal
2	Leyla
3	.....
4	Oya

Yukarıdaki tablodaki kelimeler sözlük sırasına göre sıralanmıştır. Boş olan yere aşağıdaki kelimelerden hangisi yazılamaz?

- A) Nüpel B) Mehmet C) Ömer



Yukarıda verilen görseldeki olay oluş sırasına göre sıralanırsa sıralama nasıl olur?

- A) 2 - 1 - 4 - 3  
B) 2 - 4 - 1 - 3  
C) 1 - 2 - 4 - 3

Aşağıdaki cümlelerin hangisinde yazım yanlışı yoktur?

- A) Yarın Kurban bayramının birinci günü.  
B) Türkiye 'nin başkenti Ankara'dır.  
C) Okulumuz Tarsusa gezi düzenleyecek.

Aşağıdaki cümlelerin hangisinde özel isim kullanılmamıştır?

- A) Köğelim Köpük görseniz ne tatlı.  
B) Van'dan teyzemler geldi.  
C) Evde pamuk kalmayınca almaya gittim.

5.

Meltem bir haftadır masal kitabı okuyordu. Meltem 'in okuduğu masalda ilginç şeyler yazıyordu. Hayal ürünü olan masal çok dikkat çekiciydi. Meltem okuduğu masalın bazı bölümlerini annesine anlatıyordu.

Aşağıdakilerden hangisi Meltem'in anlattıkları içerisinde olamaz?

- A) Dev her gün beş koyun yermiş.  
B) Prens , şakacı çalılardan zor kurtulmuş.  
C) Çoban koyunları otlatmaya gitmiş.



6.

Satır sonuna sığmayan kelimeler farklı şekilde yazılabilir. Yukarıdaki öğrencilerden hangisi satır sonuna sığmayan kelimeyi yanlış ayırmıştır?

- A) Gamze B) Beratcan C) Buse

7.

Köpek ağacın altında dinlendi.

Yukarıdaki cümlede hangi sorunun cevabı yoktur?

- A) Kim B) Nasıl C) Nerede

8.

pilan	spor	Eşofman
patates	ciyer	kibrit

Yukanda verilen sözcüklerden doğru yazılanlar boyanırsa tablonun tablonun görünümü nasıl olur?



A)

B)

C)

9.

Beyazıt kıraathanelerinden birinde bir arkadaş bekliyordum. İki üç kişi sönmüş sobanın başında alçak sesle konuşuyor, diğerleri de çay içiyordu.

Yukandaki metne göre hikaye unsurlarından yer ve zaman hangi seçenekte verilmiştir?

	Yer	Zaman
A)	Beyazıtta bir kıraathane	Kış mevsimi
B)	Beyazıt meydanı	Kış mevsimi
C)	Kıraathane	İlkbahar

10.

1. oyun
2. sabahtan
3. oynadım
4. kadar
5. akşama

Yukandaki kelimelerden anamlı ve kurallı bir cümle oluşturulursa sıralama nasıl olur?

- A) 2 - 5 - 4 - 1 - 3  
B) 5 - 2 - 4 - 1 - 3  
C) 2 - 5 - 4 - 3 - 1

11.

Aşağıdaki kelimelerin hangisinde kesme işareti yanlış yerde kullanılmıştır?

- A) Ankara'da  
B) Türkiyen'in  
C) Esmâ'nın

12.

	KELİMELE	EŞ ANLAMI	ZİT ANLAMI
1.	Soru	Cevap	Yanıt
2.	İhtiyar	yaşlı	genç
3.	Hızlı	süratli	yavaş

Yukandaki tabloda kelimelerin eş ve zıt anlamları verilmiştir. Kaç numaralı satırda yanlışlık yapılmıştır?

- A) 3 B) 2 C) 1



İshak çok yavaştı ..... yinede Mustafa'yı geçti.

13.

Yukandaki cümlede noktalı yere hangisi gelmelidir?

- A) bu yüzden B) ama C) veya

14.

En sevdiği kitapları yatağının altına saklamıştı. Ne okuyor ne de başka birine veriyordu. Bu duruma ablası çok kızıyordu.



Yukandaki metnin konusu nedir?

- A) Çirkin kitaplar  
B) Ablamın kızgınlığı  
C) Okunmayan kitaplar

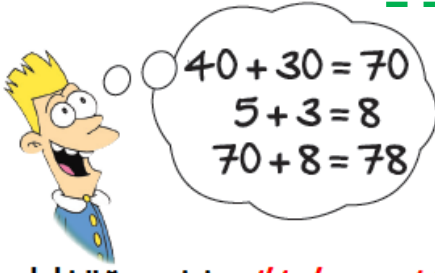
15.

Geçenlerde dayımla birlikte parka gitmiştik. Orda oynayan çocuklar, bisiklet sürenler vardı. Bir de ağaçta yavrularına yem getiren kuş vardı. O kuşu dakikalarca izledim. Kanatlarında mavi renkler de vardı...

Yukandaki metinle ilgili verilen bilgilerden hangisi yanlıştır?

- A) Kuşun kanadında mavilikler varmış.  
B) Oynayan çocuklar varmış.  
C) Çocuk düşen kuşu eve götürmüş.

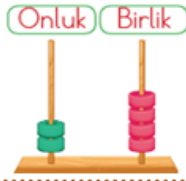
## MATEMATİK



1.

Yukandaki öğrencinin *zihinden yaptığı* işlem aşağıdakilerden hangisidir?

- A)  $45 + 33$       B)  $15 + 63$       C)  $18 + 60$



2.

Yukanda abaküsle gösterilen sayıdan başlayarak *ileriye doğru 4'er* sayarsam *5. söylediğim* sayı kaç olur?

- A) 36      B) 40      C) 44

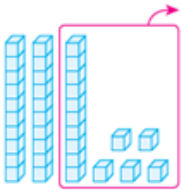
30'a yuvarlabilen toplar kovaya atılacaktır.

3.



*Kovaya atılan* topların sayısı kaçtır?

- A) 3      B) 4      C) 5



4.

Yandaki işlem ile ilgili verilen bilgilerden hangisi *yanlıştır*?

- A) Eksilen sayı 15'tir.  
B) Fark 20'dir.  
C) Çıkan sayı 15'tir.

Bizim sayımız koyunlardan 4 eksiktir.



5.



Bizim sayımız 3 düzine kadardır.

Hayvanların verdiği bilgilere göre bu çiftlikte *tahmini olarak* kaç tane hayvan vardır?

- A) 68      B) 70      C) 60

6.

$$\begin{array}{r} 87 \\ - 19 \\ \hline \end{array}$$

Yandaki işlemin sonucuyla aşağıdakilerden hangisinin sonucu *aynıdır*?

- A)  $29 + 29$   
B)  $45 + 23$   
C)  $38 + 40$

7.



Büşra ile Birgül *ikiz* kardeşler.

Büşra 8 yaşında olduğuna göre iki kardeşin *3 yıl sonraki* yaşları *toplamı* kaçtır?

- A) 16      B) 19      C) 22

8.

$$14 + 4 = 20 - \square$$

Yukandaki eşitliğe göre  $\square$  yerine aşağıdaki sayılardan hangisi yazılmalıdır?

- A) 4      B) 3      C) 2





9. 19 kişinin olduğu bilet kuyruğunda, sondan 9.sırada olan kişi baştan kaçınıcı sıradadır?  
A) 9. B) 10. C) 11.

$$\begin{array}{r} 36 \\ + \blacksquare \\ \hline 48 \end{array} \quad \begin{array}{r} \bullet \\ + 56 \\ \hline 81 \end{array}$$

- Verilen işlemlere göre  $\blacksquare + \bullet$  kaçtır?  
A) 27 B) 37 C) 38


11. Gamze'nin kitaplığında 34 kitap vardır. Buna göre 3.raftaki kitap sayısı kaçtır?



- A) 8 B) 13 C) 15



Hangi sayıdan 16 çıkarırsak 70 kalır?

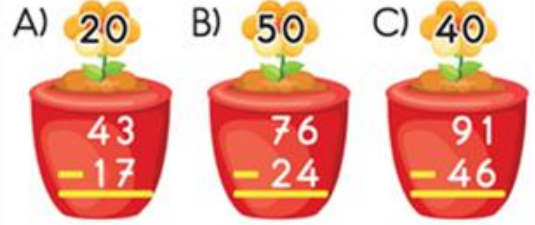


- Timur öğretmenin sorusunu hangi öğrenci doğru cevaplamıştır?  
A) Buket B) Arzu C) Selçuk

Aşağıda saksılar üzerinde bulunan işlemlerin tahmini sonuçları çiçeklerin ortasına yazılmıştır.

13.

Buna göre, hangisinde yanlışlık yapılmıştır?



14.

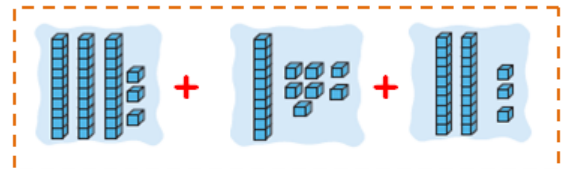
Bir bahçede 34 elma ağacı ve 49 ceviz ağacı vardır. Bahçedeki ağaçların 14 tanesi kurumuştur. Buna göre bu bahçede kaç tane ağaç kalmıştır?

Aşağıdaki işlemlerden hangisi, verilen problemin çözümüdür?

- A)  $34 + 49 = 83$  B)  $49 - 14 = 35$   
 $83 - 18 = 65$   $35 + 34 = 69$

- C)  $34 + 49 = 83$   
 $83 + 14 = 97$

15.



Yukarıda onluk bloklarla gösterilen sayıların toplamı kaçtır?

- A) 73 B) 72 C) 63

## HAYAT BİLGİSİ

1.

1. Islak ellerinizi sabunla iyice köpürtün.
2. Ellerinizin her noktasını iyice ovalayın.
3. Ellerinizi akan su ile ıslatın.
4. Ellerinizi yıkadıktan sonra iyice

Ellerimizin yıkanması ile ilgili verilenlerin oluş sırası hangisinde verilmiştir?

- A) 3 - 1 - 4 - 2  
B) 1 - 2 - 3 - 4  
C) 3 - 1 - 2 - 4

2.

su	kalem
bisiklet	ekmek
ayakkabı	çikolata

Yukarıda verilen tabloda istek olmayanları boyarsam tablonun görünümü nasıl olur?



3.

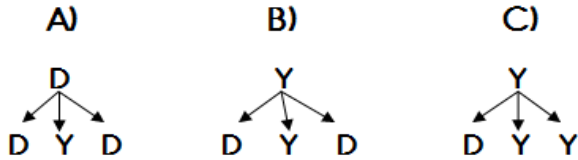
Anneannemizin  
çocuklarından biri  
babamızdır.

Babamın kız  
kardeşine  
hala deriz.

Amcamın  
eşine teyze  
derim.

Teyzemizin  
kardeşlerinden  
biri annemdir.

Şemadaki bilgiler "Doğru- Yanlış" olma durumuna göre belirtilirse hangisi oluşur?



4.

Spor yapmak	Çok uyumak
Temiz olmak	Dengeli beslenmek

Sağlıklı büyümek için yukarıdakilerin kaç tanesini yapmalıyız?

- A) 4      B) 3      C) 2

5.

Dinleme  
Kurallarımız

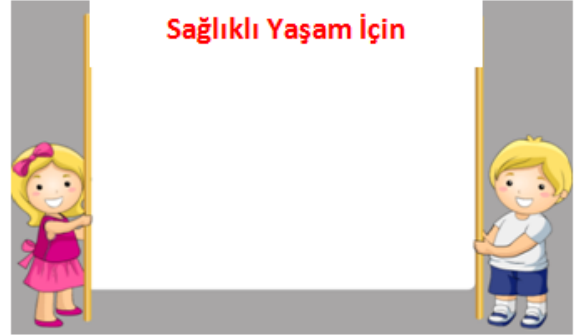
Konuşanın  
sözünü  
kesmemeliyiz.

Yukarıdaki şemada boş olan kutucuklara aşağıdakilerden hangisi yazılamaz?

- A) Konuşanın yüzüne bakmalı ,başka şeylerle ilgilenmemeliyiz.  
B) Konuşmacıyı dinler gibi yapmalıyız.  
C) Konuşandan izin alarak konuşmalıyız.

6.

## Sağlıklı Yaşam için



Fatma ile İbrahim "Sağlıklı Yaşam" için neler yapmalıyız konulu pankart hazırlamak istiyorlar. Pankarta aşağıdakilerden hangisini yazmama- lırlar?

- A) Dengeli ve düzenli beslenin.  
B) Açıkta satılan yiyecekleri tüketmeyin.  
C) Geç yatıp geç kalkın.

**Onur:** Her yemekten sonra dişlerimi fırçalarım.

**Meltem:** Haftada bir kez saçlarımı tararım.

**Can:** Uzunlukça tırnaklarımı keserim.

**Osman:** Ayda bir kez banyo yaparım.

7.

Yukarıdaki öğrencilerden hangileri için "Kişisel bakımına özen gösteriyor." diyebiliriz?

- A) Onur ve Can  
B) Can ve Meltem  
C) Osman ve Can

**Menesa :** Dişim çok ağrıyordu, diş doktoruna gittik.

Dişlerim çok sağlıklı değilmiş.

**Gamze:** Benim dişlerim çok sağlıklı ve hiç çürük yok.  
Çünkü .....

8.

Bu konuşmaya göre Gamze noktalı olan yerde aşağıdakilerden hangisini **söylemiş** olabilir?

- A) Çürüyen dişlerimi hemen çektiririm. Bu yüzden ağızımda çürük diş yoktur.
- B) Dişlerimi sadece çikolata ve şeker yedikten sonra fırçalıyorum.
- C) Düzenli olarak hem dişlerimi fırçalıyorum hem de diş doktoruna gidiyorum



ASMİN

Burası benim yerim , yerimden hamen kalk!



YUSUF

Ellerine sağlık abla, pasta çok güzel olmuş



AHMET

Tebrik ederim, çok güzel bir çalışma olmuş!

Yukarıdaki çocuklardan hangisi nezaket ifadesi **kullanmamıştır**?

- A) ASMİN B) YUSUF C) AHMET

10.



Aile büyüklerimizle bayramlaşmaya gideriz. Hastalanan akrabalarımızı ziyaret ederiz. İhtiyaç duyan bir yakınımıza yardımcı olmaya çalışırız.

Bu sözlerle göre Hüseyin ile ilgili aşağıdakilerden hangisi **söylenebilir**?

- A) Okulda grupta yapılan etkinliklere katılmıştır.
- B) Akrabalık ilişkilerinin önemini anlamıştır.
- C) Evdeki ve okuldaki sorumluluklarının farkına varmıştır.

11.



Gün içerisinde yapacağımız işleri planlamanın faydaları nelerdir?

Öğretmenin sorduğu soruya hangi öğrenciler **doğru** cevap vermiştir?



Nüpel

Düzenli bir yaşamımız olur.



Derya

Zamanımızı tasarruflu kullanırız.



Mustafa

Uyumak için daha çok zamanımız kalır.



Mert

Daha fazla oyun oynayabiliriz.

A) Nüpel ve Derya

B) Mustafa ve Mert

C) Mert ve Nüpel

12.

Yakın çevremizde yardıma ihtiyaç duyan insanlara karşı duyarlı olmalıyız.

Buna göre aşağıdaki davranışlardan hangisi **yanlıştır**?

- A) Otobüste hamile birini görürsem ona yer veririm.
- B) Yolda fiziksel engeli olan birini görürsem ona yardım ederim.
- C) Hasta olan arkadaşımızın isteklerini önemsem.

13.

Aşağıdakilerden hangisi evdeki sorumluluklarımızdan biri **değildir**?

- A) Okula zamanında gitmek.
- B) Ev işlerine yardımcı olmak.
- C) Odamızı düzenli tutmak.



