





2'er Geri Ritmik Sayma



Gölde 20 balık vardır. Timsah göldeki balıklarla beslenmektedir. Eksik olan sayıları tamamlayınız.



Gölde 20 sinek vardır. Kurbağa göldeki sineklerle beslenmektedir. Eksik olan sayıları tamamlayınız.



Gölde 20 solucan vardır. Leylek göldeki solucanlarla beslenmektedir. Eksik olan sayıları tamamlayınız.



Gölde 20 kurbağa vardır. Yılan göldeki kurbağalarla beslenmektedir. Eksik olan sayıları tamamlayınız.

