

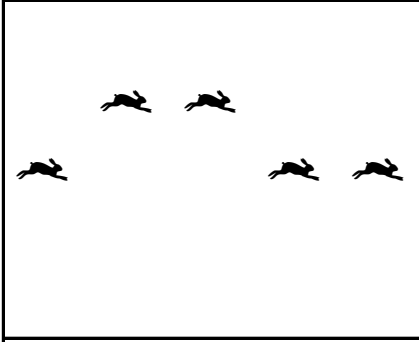


Kutulardaki hayvanların on tanesini yuvarlak içine alın. Kutulardaki hayvan sayılarının onluk, birliklerini ve sayılarını altlarındaki tablolarda gösterin.






| Onluk | Birlik |
|-------|--------|
| | |
| | |

| Onluk | Birlik |
|-------|--------|
| | |
| | |

| Onluk | Birlik |
|-------|--------|
| | |
| | |

Kutulardaki hayvanların on tanesini yuvarlak içine alın. Kutulardaki hayvan sayılarının onluk, birliklerini ve sayılarını altlarındaki tablolarda gösterin.



| Onluk | Birlik |
|-------|--------|
| | |
| | |

| Onluk | Birlik |
|-------|--------|
| | |
| | |

| Onluk | Birlik |
|-------|--------|
| | |
| | |