



T.C.

MENTEŞE İLÇE MİLLÎ EĞİTİM MÜDÜRLÜĞÜ

9. DENEME SINAVI

Adı ve Soyadı :
Sınıfı :
Öğrenci Numarası :

SORU SAYISI : 90

SINAV SÜRESİ : 135 Dakika

Sözel Bölüm

Türkçe : 20 soru
İnkılap Tarihi ve Atatürkçülük : 10 soru
Din Kültürü ve Ahlak Bilgisi : 10 soru
Yabancı Dil : 10 soru

Sayısal Bölüm

Matematik : 20 soru
Fen Bilimleri : 20 soru

- Bu deneme sınavı, 2017 - 2018 Eğitim - Öğretim yılı içerisinde yapılacak olan Lise Geçiş Sınavı (LGS) amacıyla hazırlanan "Deneme Sınavı"dır.
- Sorular, 8. sınıf kazanımları dikkate alınarak oluşturulmuştur.

SINAV BAŞLAMADAN ÖNCE
KİTAPÇIĞIN ARKA KAPAĞINDAKİ UYARILARI MUTLAKA OKUYUNUZ.

MENTEŞE İLÇE MİLLİ EĞİTİM MÜDÜRLÜĞÜ

LİSELERE GEÇİŞ DENEME SINAVI TASARIM VE DİZGİ HAZIRLAYAN ÖĞRETMENLER

Ramazan DEVRİM
Hüseyin ERENLER

Bilişim Teknolojileri
Fotoğraf/Grafik

Zübeyde Hanım Mesleki ve Teknik Anadolu Lisesi
Zübeyde Hanım Mesleki ve Teknik Anadolu Lisesi

LİSELERE GEÇİŞ DENEME SINAVI SORU SEÇME KOMİSYONUNDA GÖREVLENDİRİLEN ÖĞRETMENLER

ADI SOYADI	BRANŞI	GÖREV YERİ
Tuba PEHLİVAN	Türkçe	Akçaova Ortaokulu
Suna KARABOĞA	Türkçe	Cumhuriyet Ortaokulu
Ebru YILDIZ ÇARPAR	Türkçe	Merkez 75. Yıl Ortaokulu
Selcan ALGI DEMİRTAŞ	Matematik	Türdü 100. Yıl Ortaokulu
Deniz KOCAEKİZ	Matematik	Denizova Ortaokulu
Hale K. ATEŞ	Matematik	Şahidi Ortaokulu
Fulya KONCA ŞENTÜRK	Fen Bilimleri	Kafaca 100. Yıl Ortaokulu
Fatma GÜNTAŞ	Fen Bilimleri	Bayır Ortaokulu
Serap ŞENGÜL	Fen Bilimleri	Özel Kulvar Ortaokulu
Sadike GÖLGE	Sosyal Bilgiler	Bayır Ortaokulu
Funda AYDIN ÇATAL	Sosyal Bilgiler	Cumhuriyet Ortaokulu
Uğur KARACA	Sosyal Bilgiler	İmam Hatip Ortaokulu
Ayşe ORHAN	İngilizce	Merkez IMKB Ortaokulu
Ersin BEĞTORUN	İngilizce	Gazeller Ortaokulu
Eda ÇELİK	İngilizce	Özel Teknoloji ve Kültür Ortaokulu
Ömer OCAK	Din Kültürü ve Ahlak Bilgisi	Merkez 75. Yıl Ortaokulu
Güntülü KAYA	Din Kültürü ve Ahlak Bilgisi	Akçaova Ortaokulu
Kübra KÖKSAL	Din Kültürü ve Ahlak Bilgisi	İmam Hatip Ortaokulu



T.C.

MENTEŞE İLÇE MİLLÎ EĞİTİM MÜDÜRLÜĞÜ

9. DENEME

SÖZEL BÖLÜM



MENTEŞE İLÇE MİLLÎ EĞİTİM MÜDÜRLÜĞÜ

SÖZEL BÖLÜM

1. “İşlemek” sözcüğü aşağıdaki cümlelerin hangisinde “Aydın Denizli arasında tren işliyor.” cümlesindeki anlamıyla kullanılmıştır?

- A) En iyi işleyen lokanta bizimki.
- B) Antalya-Kemer arasında işleyen dolmuşlar nereden kalkıyor?
- C) İşyeri iki elemanla işliyor.
- D) Gömleğine nakış işledi.

2. Aşağıdaki cümlelerin hangisinde zıt anlamlı sözcükler bir arada kullanılmamıştır?

- A) İyi para kazandı ancak kötü bir yaşam sürdü.
- B) Her inişin bir yokuşu vardır.
- C) Her gecenin gündüzü vardır.
- D) Bin dost var ise az, bir düşman var ise çoktur.

3. Ahmet tahtaya deyimleri ve karşılıklarına da anlamlarını yazmıştır ancak bir yerde hata yapmıştır.

Aşağıdaki eşleştirmelerin hangisinde yanlışlık yapılmıştır?

- | | |
|----------------------|--------------------|
| A) Etekleri tutuşmak | Çok sevinmek |
| B) Gaflet basmak | Uykusu gelmek |
| C) Damdan düşer gibi | Birdenbire ,yersiz |
| D) Gözü pek | Korkusuz |

4. Aşağıdaki cümlelerin hangi ikisi anlam özelliği bakımından benzerlik gösterir? (neden-amaç-koşul)

- I. İş görüşmesi yapmak üzere randevu aldı.
- II. Kendi kanıtladığı için ne yazsa satıyor.
- III. Ceren okula yeni başladım diye mutluydu.
- IV. Sen iyileş ki ben mutlu olayım.

- A) I-II B) II-III C) III-IV D) I-IV

5. “Yazılarımda, çevremde görülebilecek olayları konu edinmişimdir hep. Az sözle çok şey anlatmak, okuyucuların aynı şeyi anlayabilmesini sağlamak ve her anlattığımın altına kendi imzama atmak, yazılarımda başarıya ulaşmamı sağlayan ilkelerdir.” diyen bir yazarın eserleri için hangi anlatım özelliğinden bahsedemeyiz?

- A) Özlülük B) Özgünlük C) Açıklık D) Akıcılık

6. Aşağıdaki parçalardan hangisinin anlatımı üçüncü tekil kişi ağızındandır?

- A) Durmadan konuşuyor, nefes almadan. Ben de dinlediğimi belli etmek için kafa sallıyordum.
- B) Araştırmadan inanmamak lazım, nerden geldiğini soruşturmadan da almamak. Sağlıklı yaşamak için bunu kural haline getirdim.
- C) Cevizin dibindeki sincap sıçradı ve dikenle çevrilmiş ağacın tepesine çıkmaya çalıştı fakat boşuna çıkamadı ve yere düştü.
- D) Sabah erken kalkmaktan oldum olası nefret etmişimdir. Babam da inadına erken kalkar, kalktığı bir şey değil, beni de rahatsız eder.

7. I. Türkler, bu sporu binlerce yıl önce Orta Asya’da başlamışlar, yüzyıllar boyunca bu geleneği sürdürerek Selçuklularla birlikte Anadolu’ya getirmişlerdir.

II. Cirit oyunlarının tarihi çok eskilere gider.

III. Anadolu’nun geleneksel seyirlik oyunları arasında cirit oyunlarının yeri büyüktür.

IV. Bu yüzden cirit oyununun Anadolu’da en azından 900 yıllık bir tarihi vardır.

Yukarıdaki cümlelerden anlamlı bir paragraf oluşturulduğunda sıralama nasıl olur?

- A) II-IV-I-III B) III-II-I-IV
C) II-I-III-IV D) III-I-IV-II

MENTEŞE İLÇE MİLLİ EĞİTİM MÜDÜRLÜĞÜ

SÖZEL BÖLÜM

8-11. soruları aşağıdaki metne göre cevaplayınız.

“Toros Dağları'nın etekleri ta Akdeniz'den başlar. Kıyıları döven ak köpüklerden sonra doruklara doğru yavaş yavaş yükselir. Akdeniz'in üstünde daima top top bulutlar salınır. Kıyıları dümdüz, cıllanmış gibi düz kirlili topraklardır. Killi toprak et gibidir. Bu kıyıları saatlerce ,içe kadar deniz kocar, tuz kocar. Tuz keskindir. Düz ,killi, sürülmüş topraklardan sonra Çukurova'nın bükleri başlar. Örümüşçesine sık çalılar, kamışlar, böğürtlenler, yaban asmaları, sazlarla kaplı, koyu yeşil, ucu bucağı, belirsiz alanlardır bunlar. Karanlık bir ormandan daha yabani, daha karanlık!

...

Gürültünün geldiği yer, Değirmenoluk suyunun gözüdür. Göz değildir ya, bura halkı oraya suyun gözüdür der. Öyle bilir. Bir kayanın dibinden köpükler saçarak kaynar. İçine bir ağaç parçası atılırsa bir gün, iki gün, hatta bir hafta suyun üstünde taşı bile oynatır, batırmaz. Halbuki suyun gözü burası değildir. Ta uzaklardan, çamlar arasından kekik kokuları yüklenerek Akçadağ'dan gelir. Burada da kayanın altından girer, köpürerek, kaynayarak, bir delice hormurtuyla öbür ucundan çıkar.”

Yaşar KEMAL (İnce Memed)

8. Aşağıdakilerden hangisi bu parçayla ilgilidir?

- A) Görsel anlatıma çok önem verilmemiştir.
- B) Betimleme özelliği taşımamaktadır.
- C) Masal öğelerinden yararlanılmamıştır.
- D) Akıcı bir anlatımı yoktur.

9. Yukarıdaki parçada geçen “suyun gözü” sözünün anlamı aşağıdakilerden hangisidir?

- A) Suyun topraktan çıktığı yer
- B) Suyun sesler çıkarak aktığı yer
- C) Suyun düzlükte aktığı yer
- D) Suyun kıvrımlar çizerek aktığı yer

10. Yukarıdaki metinden Çukurova'nın büklerinin hangi özelliğinden bahsedilmemiştir?

- A) Çok geniş bir alandadır.
- B) Bitki örtüsü yoğundur.
- C) Sazlıklar çok yer kaplamaktadır.
- D) Killi topraklar yer kaplamaktadır.

11. Yukarıdaki metinde kullanılan düşünceyi geliştirme yolları hangi seçenekte doğru verilmiştir?

- A) Örneklendirme-Benzetme
- B) Karşılaştırma-Tanımlama
- C) Tanımlama-Örneklendirme
- D) Karşılaştırma-Benzetme

12. Aşağıdaki cümlelerin hangisinde aşamalı bir durum söz konusudur?

- A) Güneş, tepelerin ardından doğuyordu.
- B) Hasta ilacını içmek istemiyordu.
- C) Bulutların rengi gittikçe kararıyordu.
- D) Bahçedeki öğrencileri topluca içeri girdiler.

13. Aşağıdaki cümlelerin hangisinde yay ayraçların içine farklı bir noktalama işareti getirilmelidir?

- A) Hayır () şimdi seninle konuşamam.
- B) Öğretmenler () yeni nesil sizin eseriniz olacaktır.
- C) Arkadaş () yurduma alçakları uğrama sakın.
- D) Bu davranışı senden hiç beklemezdim ()

Menteşe İlçe Milli Eğitim Müdürlüğü 2017/2018

2018

MENTEŞE İLÇE MİLLÎ EĞİTİM MÜDÜRLÜĞÜ

SÖZEL BÖLÜM

14. Ünlü yazarın cenaze töreninde birkaç yazardan başka kimse yoktu. Romanlarını çeken tanınmış yönetmenler, sağlığında birlikte fotoğraflarını boy boy gazete sayfalarını süsleyen sinema oyuncularından kimse katılmamıştı. Okurları da yoktu. Bir şair arkadaşım en doğru yargıya varmıştı: artık nasırlaşan bir toplum olduk.

Yukarıdaki parçada asıl anlatılmak istenen aşağıdakilerden hangisidir?

- A) Toplumun giderek duyarsızlaşması
- B) Yazarlara saygı gösterilmemesi
- C) Sinema oyuncularının yazarlara değer vermemesi
- D) Okurların, sevdiği yazarın ölümüne kayıtsız kalması

15. "En hassas noktasını anlamış olduktan sonra dostluğumuz daha derinleşti." cümlesinin öge dizilişi aşağıdakilerden hangisinde sırasıyla verilmiştir?

- A) Yer Tamlayıcısı-Nesne-Zarf Tamlayıcısı-Yüklem
- B) Zarf Tamlayıcısı-Özne-Zarf Tamlayıcısı-Yüklem
- C) Zarf Tamlayıcısı-Nesne-Zarf Tamlayıcısı-Yüklem
- D) Yer Tamlayıcısı-Özne-Yer Tamlayıcısı-Yüklem

16. "İçini zengin ışıklarla donatmış insanlar, kalabalıklar içinde yaşasalar da hep kendi evlerinde otururlar."

Yukarıdaki cümlede altı çizili ifadelerin sözcük türleri, aşağıdakilerden hangisinde sırasıyla verilmiştir?

- A) Fiilimsi-çekimli fiil- fiilimsi - çekimli fiil
- B) İsim-çekimli fiil -fiilimsi -çekimli fiil
- C) İsim -fiilimsi -isim- çekimli fiil
- D) Fiilimsi- çekimli fiil – isim- çekimli fiil

17. Aşağıdaki cümlelerin hangisinde ad eylem (isim fiil) tamlanan görevindedir?

- A) Bu kararların açıklanması gerekiyor.
- B) Dikkat çekmek için çaba harcadı.
- C) Burada durmanın sonu yok.
- D) Kaçmak sorunları çözmenin yolu değildir.

18. Aşağıdaki altı çizili birleşik sözcüklerden hangisinin yazımında yanlışlık yapılmıştır?

- A) Orası olağan üstü güzelliğe sahip bir yer.
- B) Annesi akşamüzeri eve dönmesini istedi.
- C) Annesi narçiçeği renginde bir elbise almış.
- D) Suçunun olduğunu kabul etmiş.

19. Aşağıdaki cümlelerin hangisinde çatı aranmaz?

- A) İlerledikçe yaşı bencilleşiyordu.
- B) Televizyon izlerken uyuyakalmış.
- C) Çok çalıştı ödevlerini bitirmek için.
- D) Evler oldukça eskiydi bu dağ köyünde.

20. Aşağıdaki cümlelerden hangisi yüklem türü bakımından diğerlerinden farklıdır?

- A) Kedi mamasını yemiş de doymamış gibiydi.
- B) Halterin bu yılki kaldırma rekorunu tarih yazdı.
- C) Sporcuların yanlarında duranlar akrabalarıydı.
- D) Beni hüznümlere salanlar en yakın arkadaşlarımdır.

Menteşe İlçe Millî Eğitim Müdürlüğü 2017/2018



MENTEŞE İLÇE MİLLÎ EĞİTİM MÜDÜRLÜĞÜ

SÖZEL BÖLÜM

21. Atatürk bir konuşmasında Kurtuluş Savaşı için, "Biz ilhamlarımızı gökten ve gaipen değil, doğrudan doğruya hayattan almış bulunuyoruz" demiştir.

Atatürk'ün bu sözü hangi kişisel özelliğini açıklamaktadır?

- A) Askeri yönünü
- B) Dahi yönünü
- C) İleri görüşlülüğünü
- D) Gerçekçi olma özelliğini

22. Bir devletin barış görüşmelerine gönderdiği temsilcinin diplomatik yeteneklerinin yüksek olması beklenir.

Buna göre; TBMM Lozan Antlaşması'na temsilci olarak İsmet Paşa'yı göndermiştir. İsmet Paşa'nın Lozan'a temsilci olarak gönderilmesinde onun hangi çalışması etkili olmuştur?

- A) Kurtuluş Savaşı'nda Batı Cephesi Komutanlığı yapması
- B) Erkan-ı Harbiye Vekaletliği yapmış olması
- C) TBMM'de başbakanlık yapması
- D) Mudanya Ateşkes Anlaşması'nda TBMM'yi temsil etmesi

23. İtilaf Devletleri, Yunanistan'ın TBMM'ye karşı giriştiği savaşta başarılı olarak Sevr Antlaşması'nın uygulanmasını sağlayacağına inanıyorlardı.

Aşağıdaki savaşlardan hangisinin İtilaf Devletleri'nin Yunanistan'a olan güvenlerini sarstığı savunulamaz?

- A) II. İnönü
- B) Sakarya
- C) Kütahya - Eskişehir
- D) Büyük Taarruz

24. Amasya Genelgesi'nde "Milletin geleceğini yine milletin azim ve kararı kurtaracaktır." kararı yer almıştır. Amasya Genelgesinde alınan bu karar aşağıdakilerden hangisinin göstergesidir?

- A) Temsil Heyeti'nin kurulması gerektiğinin
- B) Erzurum'da bir kongre yapılması gerektiğinin
- C) Milli mücadelenin sadece millet tarafından kazanılabileceğinin
- D) Milli Cemiyetlerle mücadele edilmesi gerektiğinin

25. Aşağıdakilerden hangisi TBMM'ye karşı çıkarılan ayaklanmaların amaçları arasında yer almaz?

- A) Milli Birlik ve Bütünlüğe zarar vermek
- B) Anadolu'yu işgallerden korumak
- C) Saltanatın otoritesini arttırmak
- D) Ulusal güçleri etkisiz kılmak

26. Aşar vergisinin kaldırılması

• Ziraat Bankası aracılığıyla köylüye ucuz kredi sağlanması

• Tarım Kredi Kooperatifleri'nin kurulması

• Devlet Üretim Çiftliklerinin kurulması

Atatürk döneminde gerçekleştirilen bu faaliyetlerin ortak amacı aşağıdakilerden hangisidir?

- A) Ekonomide bankacılığın etkinliğini arttırmak.
- B) Milli Sanayi'nin kurulmasını sağlamak.
- C) Özel mülkiyeti etkin kılmak.
- D) Tarımsal gelişmeyi sağlamak.

Menteşe İlçe Milli Eğitim Müdürlüğü 2017/2018

MENTEŞE İLÇE MİLLİ EĞİTİM MÜDÜRLÜĞÜ

SÖZEL BÖLÜM

27. "Türkiye'nin gerçek sahibi ve efendisi ,gerçek üretici olan köylüdür. O halde herkesten daha çok refah , mutluluk ve servete hak kazanan ve layık olan da köylüdür."

Mustafa Kemal Paşa'nın bu sözleri aşağıdaki inkılaplardan hangisinin gerçekleşmesine işaret etmiştir?

- A) Aşar vergisinin kaldırılması
- B) Miladi takvimin kabul edilmesi
- C) Harf İnkılabının gerçekleşmesi
- D) Çok partili siyasi hayata geçiş

28. I. Ermenilere karşı savaştığımız Doğu cephesini kapatan ve TBMM 'nin ilk siyasi başarısıdır.

II. Fransız ve Ermenilere karşı savaştığımız Güney Cephesini kapatan ve Misak-ı Milli'den 2.tavizi verdiğimiz antlaşmadır.

III. Yunanlılara karşı savaştığımız Batı Cephesi'nde Kurtuluş Savaşı'nın başarıyla sonuçlandığını gösteren antlaşmadır.

IV. Sakarya Meydan Muharebesi'nden sonra Azerbaycan, Ermenistan ve Gürcistan ile imzalanan doğu sınırlarımıza kesinlik kazandıran Moskova Antlaşması'nın tamamlayıcısı niteliğindedir.

Yukarıda Mustafa Kemal Atatürk'e ait bu sözler nerede söylenmiştir?

	I	II	III	IV
A	Gümrü	Mudanya	Ankara	Kars
B	Ankara	Gümrü	Mudanya	Kars
C	Ankara	Gümrü	Kars	Mudanya
D	Gümrü	Ankara	Mudanya	Kars

29. Mondros Ateşkes Antlaşması'ndan sonra İtilaf Devletleri'nin Anadolu'yu işgal etmeye başlaması üzerine Türk halkı tarafından "Milli Cemiyetler" kurulmuştur.

Milli cemiyetlerin özellikleri arasında aşağıdakilerden hangisi yer almaz?

- A) Kuruluşlarında vatan, millet ve Türklük duyguları hâkimdir.
- B) Düşmana karşı silahlı mücadele etmişlerdir.
- C) İstanbul Hükümeti tarafından desteklenmişlerdir.
- D) İşgallere karşı basın, yayın ve hukuk yollarını kullanarak mücadele etmişlerdir.

30. 24 Temmuz 1923 tarihinde imzalanmış olan Lozan Barış Antlaşması'nın hangi konu ile ilgili maddesi Türkiye'nin egemen devlet haklarına ters bir durum oluşturmuştur?

- A) Kapitülasyonlar
- B) Dış Borçlar
- C) Boğazlar
- D) Azınlıklar

31. Bana şunlar hakkında söz verin,ben de size cenneti müjdeleyeyim: Konuştuğunuz zaman doğru konuşun,söz verdiğinizde sözünüzü tutun,size emanet edileni koruyun.

Hz.Muhammed(sav) bu hadisiyle aşağıdakilerden hangisini öğütlemektedir?

- A) Danışarak iş yapmayı
- B) İnsanlara değer vermeyi
- C) Merhametli olmayı
- D) Güvenilir olmayı

MENTEŞE İLÇE MİLLÎ EĞİTİM MÜDÜRLÜĞÜ

SÖZEL BÖLÜM

32. 1- İnsanlar arasındaki makam mevki unvan gibi farklılıkları ortadan kaldırır.

2- Herkesi eşit konuma getirir.

3- İnsanları gösteriştan uzak sade bir görümüne kavuşturur.

Yukarıdaki öncüllerden hangi ibadetin faydası ile ilgili bilgi verilmiştir?

- A) Kurban kesme
- B) Sadaka verme
- C) İhrama girme
- D) Şeytan taşlama

33. Hz. Muhammed (s.a.v.), farklı inançta olanlara toplumun huzurunu bozmadıkları sürece, müdahale etmemiş, ibadetlerine karışmamıştır.

Bu durum Hz. Muhammed'in hangi ahlaki özelliğini gösterir?

- A) Hoşgörölü olduğunu
- B) Sabırlı olduğunu
- C) Cesaretli olduğunu
- D) Güvenilir olduğunu

34. Kur'an okurken bir şey dikkatimi çekti. Pek çok ayette aklın kullanılması, ders alınması, düşünölmesi öğütlenmektedir.

Aşağıda verilen ayet meallerinden hangisi bu açıklamaya uygun bir örnek değildir?

- A) "İnsan neden yaratılmış olduğuna bir baksın, bir düşünsün."
- B) "İman edip sâlih ameller işleyen kimseler için mağfiret ve bol rızık vardır."
- C) "Doğrusu ancak akı sahipleri öğüt alır."
- D) Göklerin ve yerin yaratılışında akıl sahipleri için dersler vardır.

35. Aşağıdakilerden hangisinden zekât verilmez?

- A) Altın, gümüş, para ve ticaret eşyalarından
- B) Günlük hayatta kullanılan eşyalardan
- C) Küçükbaş ve büyükbaş hayvanlardan
- D) Toprak ürünlerinden

36. Ali babasıyla hayvan pazarından değişik hayvanlar aldı. Bunların bir tanesi kurban olma şartını taşımamaktadır. Verilenlerden hangisi kurbanlık şartını taşımaz?

- A) İki yaşında deve
- B) İki yaşında sığır
- C) Bir yaşında koyun
- D) Yaşını doldurmuş oğlak

37. Gelir dağılımının adil olduğu toplumlarda yoksulluk azdır, adaletin olmadığı toplumlarda barış bozulur. Eşitlik ve adalet yoksa toplumda bunalım ve kargaşa ortaya çıkar. **Yukarıdaki metin hangi yasadan bahsetmektedir?**

- A) Fiziksel Yasa
- B) Toplumsal Yasa
- C) Kimyasal Yasa
- D) Biyolojik Yasa

38. Allah'ın sevgisini kazanmak amacıyla kişinin servetinden hayırda bulunmasına ne denir?

- A) Sadakayıcıriye
- B) Fıtır Sadakası
- C) Zekat
- D) İnfak

39. Aşağıdakilerden hangisi taassubun sonuçlarından biri olamaz?

- A) Toplumda barış ve huzurun oluşmasını engeller
- B) Toplumun hak ve özgürlüklerinin ortadan kalkmasına neden olur
- C) Özgür düşüncenin gelişmesini engeller
- D) Farklı düşüncelere karşı hoşgörü ortamını oluşturur

MENTEŞE İLÇE MİLLİ EĞİTİM MÜDÜRLÜĞÜ

SÖZEL BÖLÜM

40. Yüce Rabbimiz her şeyi yerli yerince, gereğince, bir denge ve düzen, bir plana göre yaratmıştır. Evrene bir takım yasalar koymuştur. K.Kerimde bu yasalara ne ad verilmiştir?

- A) Beytullah B) Sünnetullah
C) Seyfullah D) Cemalullah

41. Sam: It is Bob's birthday tomorrow. I want to buy him a trendy jacket.

Alvin: You know he is not into fashion.

- A) He is crazy about trendy clothes.
B) He likes reading.
C) He prefers casual clothes.
D) He prefers wearing fashionable clothes.

42.



Shamil: I'm organising a footvolley tournament on Saturday afternoon. Fancy joining us?

Mohammad: That would be great. So, what time are you going to go?

Shamil: We are going to go to Patong Beach at 4 in the afternoon.

Mohammad:

Shamil: Patong Beach.

- A) Is Shamil there?
B) Can I take your name?
C) When do you go?
D) Can you repeat the name of the place please?

43. Tina: Hi Sally. It's Tina.

Sally: Hi Tina.

Tina : How are you? I'm worried about you. You didn't attend to guitar course yesterday.

Sally: Oh, my dog is ill and I'm taking care of it.

Tina:

- A) That's awesome.
B) I'm pleased to hear that.
C) I hope you will get better soon.
D) I hope it will get better soon.

44. A:

B: Nearly three hours?

- A) How many photos do you upload to your blog in a day?
B) How often do you go online?
C) How do you communicate on the net?
D) How much time do you spend on the net in a day?

45. The most important _____ in most Turkish dishes is olive oil.

- A) ingredient B) dough C) mixture D) process

46. All children must.....their bed sand.....their rooms in the dormitory.

- A) tidy up / make B) set / do
C) make / tidy up D) obey / keep

MENTEŞE İLÇE MİLLİ EĞİTİM MÜDÜRLÜĞÜ

SÖZEL BÖLÜM

47.

In my opinion the Internet is important in our lives. I use it for my homework, projects and e mailing people. We have got one computer at home and everybody in my family uses it. But I have a smart phone and I can use the Internet. I don't like games or chatrooms. So I don't use it for fun. I seldom use it to read the news about our country and world.



What is Amanda's purpose for using the Internet?

- A) She uses the Internet to chat with her friends.
- B) She sometimes uses the Internet for playing online games.
- C) She searches for information about her projects.
- D) She downloads games to have fun.

49. In order to see how far they can go or test themselves, people try different kinds of sports such as sky diving, bungee jumping or ice climbing. These people are called

- A) technology experts
- B) internet addicts
- C) adrenalin junkies
- D) counselor

48. Find the unsuitable sentence in the paragraph.

(I) Bodrum is a seaside town on the south west of Turkey.
(II) It's famous for white houses. (III) It's one of the best tourist attractions in Turkey. (IV) I prefer ancient cities.

- A) I
- B) II
- C) III
- D) IV

50. İsmet: What does "run your own restaurant" mean?

Sezgin: It means you

- A) work part time at a restaurant
- B) you walk in front of a restaurant
- C) have got a restaurant
- D) stay at a restaurant

****Sözel bölüm bitti. Cevaplarınızı kontrol ediniz.**



T.C.

MENTEŞE İLÇE MİLLÎ EĞİTİM MÜDÜRLÜĞÜ

9. DENEME

SAYISAL BÖLÜM



MENTEŞE İLÇE MİLLÎ EĞİTİM MÜDÜRLÜĞÜ

SAYISAL BÖLÜM

1. 12A ve 4B sayıları ile ilgili aşağıdaki bilgiler veriliyor.
12A sayısı ile 4B sayısı aralarında asal sayılardır.
12A sayısı çift sayı, 4B sayısı ise 5 ile tam olarak bölünebilmektedir.

Buna göre A+B'nin en büyük değeri kaçtır?

- A) 9 B) 12 C) 13 D) 14

2.

A	D	2
B	E	2
B	F	3
C	G	5
1	H	5
1		

Yandaki asal çarpan algoritmasına göre aşağıdakilerden hangisi yanlıştır?

- A) A=30 ve D=300 dür.
B) Ebob(A,D) = 30 ve Ekok (A,D) =300 dür.
C) C=5 ve H=5tir.
D) A=60 tır.

3. Aşağıdakilerden hangisi doğrudur?

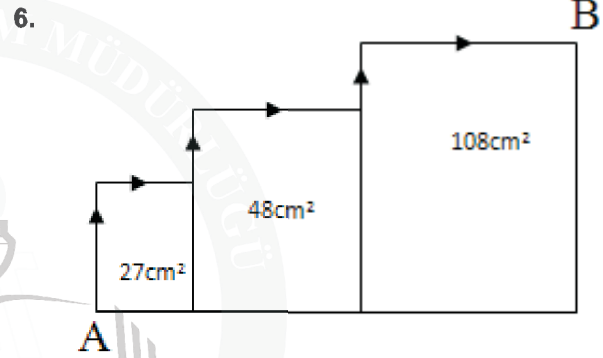
- A) $7^{-2} = -49$ B) $(-4)^3 = 64$
C) $2^{-5} = -\frac{1}{32}$ D) $(-3)^2 = \frac{1}{9}$

4. 5^{m+3} sayısı aşağıdakilerden hangisiyle ifade edilir?

- A) 15 tane 5^m
B) 5^m 'nin 15 katı
C) 125 tane 15^m
D) 5^m 'nin 125 katı

5. Boyu 90 cm olan bir tahtanın ucundan $3\sqrt{5}$ cm'lik kısım kesilmiştir. Buna göre; tahtanın boyu cm cinsinden hangi iki tamsayı arasındadır?

- A) 80-81 B) 81-82 C) 82-83 D) 83-84



Şekilde alanları 27 cm^2 , 48 cm^2 ve 108 cm^2 olan karesel bölgeler verilmiştir. A noktasındaki bir karınca oklar ile gösterilen yerden B noktasına giderse kaç cm yürümüş olur?

- A) $15\sqrt{3}$ B) $16\sqrt{3}$ C) $19\sqrt{3}$ D) $20\sqrt{3}$

7. Yandaki kutucuk içinde verilen irrasyonel sayılar, çarpım sonucu rasyonel olacak şekilde birbirleriyle çarpılıyorlar. Buna göre, kutucuk içindeki hangi sayı irrasyonel olarak kalır?

- A) $\sqrt{63}$ B) $\sqrt{28}$ C) $\sqrt{27}$ D) $\sqrt{20}$

MENTEŞE İLÇE MİLLİ EĞİTİM MÜDÜRLÜĞÜ

SAYISAL BÖLÜM

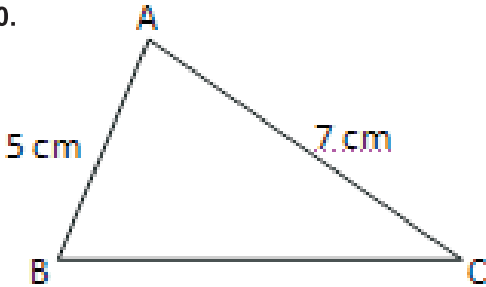
8. 32 kişilik bir sınıftan rastgele seçilen bir öğrencinin erkek olma olasılığı $\frac{9}{16}$ dır. Sınıftan kaç kız ayrılırsa erkek olma olasılığı $\frac{2}{3}$ olur?

- A) 6 B) 4 C) 5 D) 6

9. Ali öğretmenin sınıfından rastgele bir erkek öğrenci seçme olasılığı rastgele bir kız öğrenci seçme olasılığının 2 katı ise sınıf mevcudu ne olabilir?

- A) 27 B) 28 C) 32 D) 35

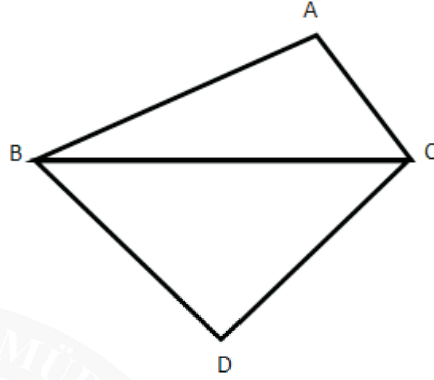
10.



Yukarıda verilen ABC üçgeni çeşitkenar bir üçgen olduğuna göre $|BC|$ nin alabileceği kaç tam sayı değeri vardır?

- A) 9 B) 8 C) 7 D) 6

11.



Yukarıdaki ABC üçgeninde $\angle A > 90^\circ$ ve $\angle D < 90^\circ$ ve $|AB|=5$ cm, $|AC|=4$ cm, $|BD|=6$ cm, $|DC|=8$ cm olduğuna göre, $|BC|$ kaç farklı tam sayı değeri alabilir?

- A) 4 B) 3 C) 2 D) 1

12. Köşelerinin koordinatları A(-3, 5), B(5, 3), C(-4, -2) olan üçgenin 180° döndürüldüğünde köşe noktalarının koordinatları toplamı nedir?

- A) 2 B) -6 C) -4 D) 4

13. Kartezyen koordinat sisteminde M(3a-12,7) noktası y ekseninde ve N(-6,a+2b) noktası x ekseninde olduğuna göre, a+b kaçtır?

- A) -2 B) 2 C) 4 D) 6

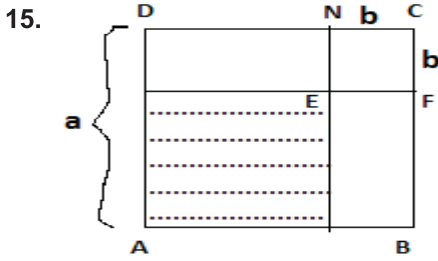
14. $X=\sqrt{5}+\sqrt{3}$, $Y=\sqrt{5}-\sqrt{3}$ olduğuna göre $\left(\frac{x+y}{2xy}\right)^2$

ifadesinin değeri aşağıdakilerden hangisidir?

- A) $\frac{5}{4}$ B) $\frac{5}{2}$ C) $\frac{4}{5}$ D) $\frac{5}{3}$

MENTEŞE İLÇE MİLLİ EĞİTİM MÜDÜRLÜĞÜ

SAYISAL BÖLÜM



ABCD karesinin bir kenarının uzunluğu a birim EFCN karesinin bir kenarının uzunluğu b birim olduğuna göre, taralı alanı bulmak için, aşağıdakilerden hangisi kullanılabilir?

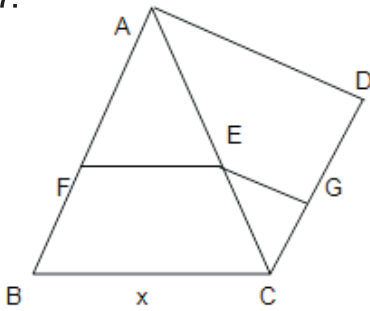
- A) $(a+b)^2 = a^2 + 2ab + b^2$
- B) $a^2 - b^2 = (a-b) \cdot (a+b)$
- C) $(a \cdot b)^2 = a^2 \cdot b^2$
- D) $(a-b)^2 = a^2 - 2ab + b^2$

16. $x = 4375$
 $y = 4370$

olduğuna göre, $x^2 - 2xy + y^2$ ifadesinin değeri kaçtır?

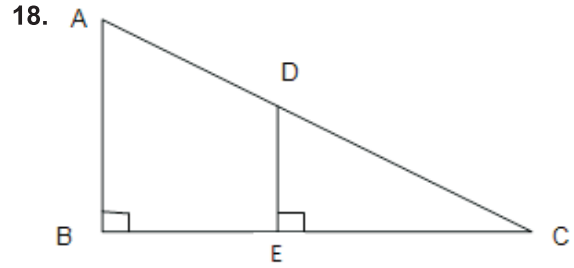
- A) 4370
- B) 8745
- C) 625
- D) 25

17.



ABC ve ACD birer üçgen $[FE] \parallel [BC]$, $[EG] \parallel [AD]$, $FE = 6$ cm, $AD = 24$ cm $EG = 8$ cm olduğuna göre, $BC = x$ kaç derecedir?

- A) 8
- B) 9
- C) 10
- D) 12



Yukarıdaki şekilde ABC ve DEC dik üçgenler, $AD = 26$ cm, $DE = 5$ cm ve $EC = 12$ cm olduğuna göre; $BE + AB$ kaç cm'dir?

- A) 34
- B) 36
- C) 37
- D) 39

19. $\frac{x}{2} + a = -2$ denklemi ile $2x - 3a = 6$ denkleminin çözüm kümeleri aynı olduğuna göre a 'nın değeri kaçtır?

- A) 1
- B) $\frac{1}{2}$
- C) $-\frac{3}{2}$
- D) -2

20. Aşağıdaki denklemi verilen doğrulardan hangisi (2, -2) noktasından geçer?

- A) $x + 2y = 6$
- B) $2x + y = 6$
- C) $2x - 3y = -4$
- D) $x - y = 4$

MENTEŞE İLÇE MİLLİ EĞİTİM MÜDÜRLÜĞÜ

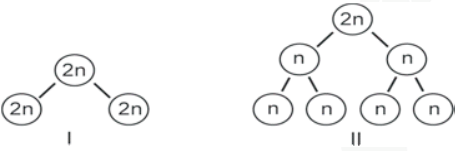
SAYISAL BÖLÜM

21. I. Kilo artar ve boy uzar
II. Sivilce oluşumu
III. Utangaçlık
IV. Ses kalınlaşması

Ergenlik dönemindeki değişimler ile ilgili aşağıdaki yorumlardan hangisi doğrudur?

- A) I ve II, kızlarda ve erkeklerde görülen bedensel değişimdir.
B) III, sadece kızlarda görülen ruhsal değişimdir.
C) IV, hem kızlarda hem erkeklerde görülen bedensel değişimdir.
D) I, yalnızca erkeklerde görülen bedensel değişimdir.

22.



Canlılardaki hücre bölünmesinin iki farklı tipi numaralanmış modellerle gösterilmiştir.

Bu bölünme tipleri ile ilgili olarak aşağıdakilerden hangisi yanlıştır?

- A) I'deki bölünmeyle vücutta onarım sağlanabilir.
B) I'deki bölünmeyle bazı canlılar üreyebilir.
C) II'deki bölünme sonunda oluşan hücrelerin genetik yapısı birbirinin aynısıdır.
D) II'deki bölünme tipi eşeyli üreyen canlılarda görülür.

23. DNA ile ilgili verilen aşağıdaki bilgilerden hangisi yanlıştır?

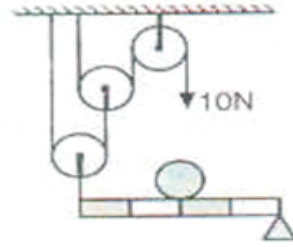
- A) DNA, hücrenin yönetici molekülüdür ve beslenme, solunum, üreme gibi tüm canlılık faaliyetlerini yönetir.
B) DNA molekülü birden fazla yapının belirli bir düzene göre bir araya gelmesiyle oluşur ve tek zincirli halka şeklindedir.
C) DNA'yı temsil eden modeli James Watson ve Francis Crick adlı bilim insanları keşfetmişlerdir.
D) DNA'nın yapısında kalıtsal özelliklerimize etki eden gen bölgeleri bulunur ve kalıtsal bilgiler genler tarafından taşınır.

24. Basit makineler ile ilgili;

- I. İş yapma kolaylığı sağlar.
II. Kuvvetin büyüklüğünü değiştirebilir.
III. İş ve enerjiden kazanç sağlar.
İfadelerinden hangileri doğrudur?

- A) I ve III. B) I, II ve III. C) Yalnız I. D) I ve II.

25.



Sekildeki sistemde kuvvet kazancı kaç Newton 'dur?

- A) 80 B) 40 C) 20 D) 160

26. X elementi 2. Periyot 3A grubundadır. Buna göre aşağıdakilerden hangisi X elementi ile iyonik bağlı bir bileşik oluşturabilir?

- A) ${}^2\text{He}$ B) ${}^{12}\text{Mg}$ C) ${}^8\text{O}$ D) ${}^{13}\text{Al}$

27. Sanayi bölgelerinde fosil yakıtları kullanımı havaya verilen gazlardan dolayı asitli yağmurlara neden olmaktadır.

- I. O_2 II. SO_2 III. NO_2

Bu gazlar verilenlerinden hangileri olabilir?

- A) Yalnız I B) Yalnız III C) I ve II D) II ve III

MENTEŞE İLÇE MİLLİ EĞİTİM MÜDÜRLÜĞÜ

SAYISAL BÖLÜM

34. - Ses her maddesel ortamda aynı süratte yayılmaz.
- Sesin yayılma sürati sıcaklığa ve taneciklerin arasındaki uzaklığa bağlı olarak değişir.
Ses ile ilgili verilen bu bilgilere göre aşağıdakilerden hangisi yanlıştır?

- A) Ses katı maddelerde gaz maddelere oranla daha hızlı yayılır.
B) Ses soğuk havada sıcak havadan daha yavaş yayılır.
C) Sesi daha iyi duyabilmek için evlerimizin pencerelerinde içinin havası alınmış çift camlı sistemler kullanırız.
D) Ses denizde havadakinden daha hızlı yayılır.

35. I. Buzdolabındaki soğutucu gazlar
II. Deodorantlar
III. Yangın söndürücüler
IV. Plastik köpükler

Yukarıda verilenlerden kaç tanesi ozon tabasının incelmesine sebep olan unsurlardandır?

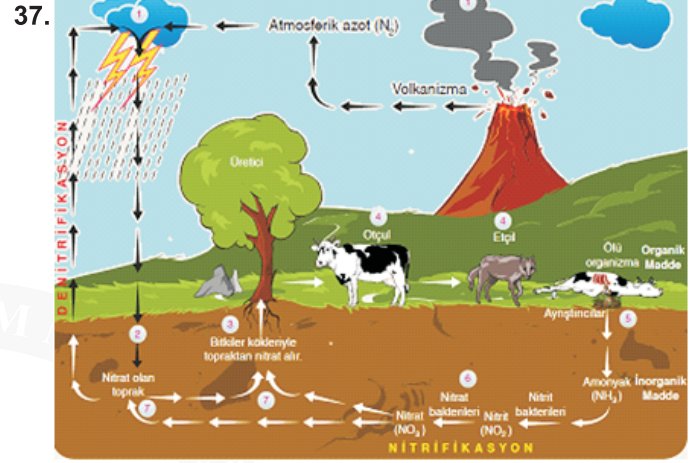
- A) 1 B) 2 C) 3 D) 4

36. Aşağıda fotosentez olayı ile ilgili maddeler verilmiştir.

- Oksijen - su - karbondioksit - glikoz

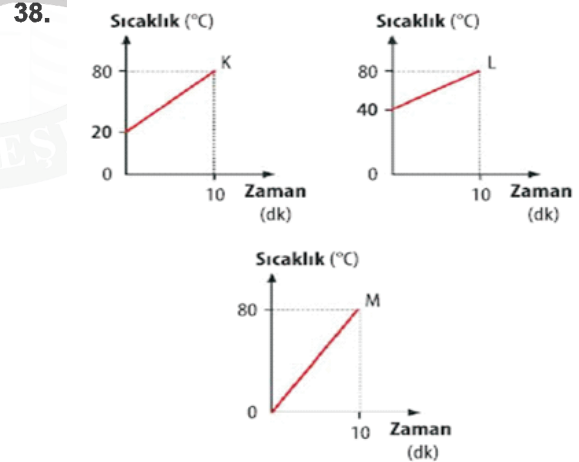
Bu maddelerin fotosentez olayında kullanılanlar ve üretilenler olarak gruplandırılması aşağıdakilerin hangisinde verilmiştir?

Kullanılan Maddeler	Üretilen Maddeler
A) Oksijen,su	Glikoz,karbondioksit
B) Glikoz,karbondioksit	Oksijen,su
C) Karbondioksit,su	Glikoz,oksijen
D) Oksijen,glikoz	Karbondioksit,su



Canlılar atmosferdeki azotu doğrudan vücutlarına alamazlar. Buna göre aşağıdakilerden hangisi atmosferdeki azotun canlılar tarafından kullanılmasını sağlar?

- A) Fotosentez B) Şimşek
C) Solunum D) Gök gürültüsü



Kütleleri aynı olan K, L ve M maddeleri özdeş ısıtıcılarla 10 dakika ısıtılıyor. Yukarıdaki sıcaklık-zaman grafikleri elde ediliyor. Buna göre bu maddelerin öz ısılarının karşılaştırılması hangi seçenekte verilmiştir?

- A) $L > K > M$ B) $M > K > L$ C) $K > M > L$ D) $L > M > K$



MENTEŞE İLÇE MİLLÎ EĞİTİM MÜDÜRLÜĞÜ

SAYISAL BÖLÜM

39. 20 °C 200 g suya 2400 cal ısı verildiğinde son sıcaklığı ne olur? (c_{su} : 1 cal/g.°C)

- A) 32 B) 74 C) 15 D) 14

40. I. Isı; Sıcaklığı yüksek olan maddeden sıcaklığı düşük olan maddeye aktarılan enerjidir.

II. Sıcaklığı aynı kütleleri farklı olan maddeler arasında ısı alışverişi gerçekleşir.

III. Sıcaklık bir enerji çeşididir.

Yukarıdaki ifadelerden hangisi ya da hangileri doğrudur?

- A) Yalnız I B) I ve III
C) I ve II D) I , II ve III

Menteşe İlçe Milli Eğitim Müdürlüğü 2017/2018

****Sayısal bölüm bitti. Cevaplarınızı kontrol ediniz.**



T.C.
MENTEŞE İLÇE MİLLÎ EĞİTİM MÜDÜRLÜĞÜ

SINAV BAŞLAMADAN ÖNCE AŞAĞIDAKİ UYARILARI MUTLAKA OKUYUNUZ.

1. Bu kitapçıkta 6 bölüm bulunmaktadır. 1-Türkçe, 2-Sosyal Bilgiler, 3-Din Kültürü ve Ahlak Bilgisi, 4-İngilizce, 5-Matematik, 6-Fen Bilimleri.
2. Cevap anahtarına ad soyad ve diğer bilgilerinizi işaretlemeyi unutmayınız. Kimlik bilgilerinizin doğru olduğundan emin olunuz.
3. Sınav başladıktan sonra çevrenizdekilerle konuşmayınız.
4. Soruları cevaplamaya istediğiniz sorudan başlayabilirsiniz. Cevabınızı cevap anahtarındaki ilgili soru numarasını dikkate alarak uygun bölüme kodlayınız.
5. Cevabını bilmediğiniz soru üzerinde fazla zaman kaybetmeden diğer sorulara geçiniz. Zaman kalırsa bu sorulara daha sonra dönebilirsiniz.
6. Sınav puanınızın hesaplanmasında üç (3) yanlış bir (1) doğruyu götürcektir.
7. Cevap anahtarınızı sınav süresince başkalarının göremeyeceği şekilde önünüzde bulundurunuz.
8. Sınav sırasında sözlük, hesap makinesi, cep telefonu ve bilgisayarınızın bu özelliklerini kullanmayınız.
9. Sınav süresince yerinizden ayrılmayınız.



MENTEŞE İLÇE MİLLİ EĞİTİM MÜDÜRLÜĞÜ

LİSELERE GEÇİŞ DENEME SINAVLARI KONTROL KOMİSYONUNDA GÖREVLENDİRİLEN ÖĞRETMENLERİN LİSTESİ

Nuran SULAR	Türkçe	Çiftlik Ortaokulu
Halide MEMİŞ	Türkçe	Kafaca 100. Yıl Ortaokulu
Deniz DEĞİRMEN	Türkçe	Teknoloji ve Kültür Ortaokulu
Abdullah DEMİREL	Matematik	Şehbal Baydur Ortaokulu
Tahir EROĞLU	Matematik	Şehit İbrahim Karaoğlanoğlu Ortaokulu
Nisa KARABAŞ	Matematik	Çiftlik Ortaokulu
Çağdaş TÜLÜ	Fen Bilimleri	Yenice Ortaokulu
Ercan DEMİREL	Fen Bilimleri	Teknoloji ve Kültür Ortaokulu
Sezen GÜZEL	Fen Bilimleri	Şehbal Baydur Ortaokulu
Yasemin KIVRAK	Sosyal Bilgiler	Kötekli Salih Zeki Gür Ortaokulu
Davut ALDAN	Sosyal Bilgiler	Göktepe Ş.J.U.Ç. Berkant Şara Ortaokulu
Yücel TAŞ	Sosyal Bilgiler	Yerkesik Ortaokulu
Serap TÜGEL	İngilizce	Yeşilyurt Ortaokulu
Aslı DAĞDİBİ	İngilizce	Şehit İbrahim Karaoğlanoğlu Ortaokulu
Ganze BATIBA Y GÜRBÜZ	İngilizce	Kuzluk Süleyman ÖZTÜRK Ortaokulu
M. Akif SARIKAYA	Din Kültürü ve Ahlak Bilgisi	Göktepe Ş.J.U.Ç. Berkant Şara Ortaokulu
Gülcan ÇELİK	Din Kültürü ve Ahlak Bilgisi	Dokuzçam Ortaokulu
Saniye ERDOĞAN	Din Kültürü ve Ahlak Bilgisi	Yenice Ortaokulu

T.C.
MENTEŞE İLÇE MİLLİ EĞİTİM MÜDÜRLÜĞÜ

