



T.C.

MENTEŞE İLÇE MİLLÎ EĞİTİM MÜDÜRLÜĞÜ

DENEME SINAVI

Adı ve Soyadı :
Sınıfı :
Öğrenci Numarası :

SORU SAYISI : 90
SINAV SÜRESİ : 135 Dakika

Sözel Bölüm

Türkçe : 20 soru
İnkılap Tarihi ve Atatürkçülük : 10 soru
Din Kültürü ve Ahlak Bilgisi : 10 soru
Yabancı Dil : 10 soru

Sayısal Bölüm

Matematik : 20 soru
Fen Bilimleri : 20 soru

- Bu deneme sınavı, 2017 - 2018 Eğitim - Öğretim yılı içerisinde yapılacak olan Lise Geçiş Sınavı (LGS) amacıyla hazırlanan "Deneme Sınavı"dır.
- Sorular, 8. sınıf kazanımları dikkate alınarak oluşturulmuştur.

SINAV BAŞLAMADAN ÖNCE
KİTAPÇIĞIN ARKA KAPAĞINDAKİ UYARILARI MUTLAKA OKUYUNUZ.

MENTEŞE İLÇE MİLLİ EĞİTİM MÜDÜRLÜĞÜ

LİSELERE GEÇİŞ DENEME SINAVI TASARIM VE DİZGİ HAZIRLAYAN ÖĞRETMENLER

Ramazan DEVRİM
Hüseyin ERENLER

Bilişim Teknolojileri
Fotoğraf/Grafik

Zübeyde Hanım Mesleki ve Teknik Anadolu Lisesi
Zübeyde Hanım Mesleki ve Teknik Anadolu Lisesi

LİSELERE GEÇİŞ DENEME SINAVI SORU SEÇME KOMİSYONUNDA GÖREVLİ OLAN ÖĞRETMENLER

Mehmet SÜL
Mehmet VİCDAN
Sibel KARADAĞ SUCU
Asuman YÜKSEL
Dilek BEZKOKTU
Dilek GİREN
Kenan TOSUN
Süleyman ACAR
Şükran ŞAHİN
Ortaokulu
Gülşah MUTLU
Ortaokulu
Hayal ÜNAL
Melek ARAS
Cemalettin KÖSE
Muzaffer ATLI
Şelale ÖZTÜRK ŞİMŞEK
Adile ÖZALAN
Ortaokulu
Egemen Murat KAPLAN
Sema GÖLGE

Türkçe
Türkçe
Türkçe
Sosyal Bilgiler
Sosyal Bilgiler
Sosyal Bilgiler
Din Kültürü ve Ahlak Bilgisi
Din Kültürü ve Ahlak Bilgisi
Din Kültürü ve Ahlak Bilgisi
İngilizce
İngilizce
İngilizce
Matematik
Matematik
Matematik
Fen Bilimleri
Fen Bilimleri
Fen Bilimleri

Türdü 100. Yıl Ortaokulu
Merkez 75. Yıl Ortaokulu
Şâhidi Ortaokulu
Merkez İMKB Ortaokulu
Nazmi Zehra İyibilir Ortaokulu
Özel Kulvar Ortaokulu
Türdü 100. Yıl Ortaokulu
Nazmi Zehra İyibilir Ortaokulu
TOKİ Şehit Jandarma Yarbay Alim Yılmaz
TOKİ Şehit Jandarma Yarbay Alim Yılmaz
Şâhidi Ortaokulu
Özel Kulvar Ortaokulu
Şâhidi Ortaokulu
Nazmi Zehra İyibilir Ortaokulu
Merkez 75. Yıl Ortaokulu
TOKİ Şehit Jandarma Yarbay Alim Yılmaz
Türdü 100. Yıl Ortaokulu
Merkez İMKB Ortaokulu



T.C.

MENTEŞE İLÇE MİLLÎ EĞİTİM MÜDÜRLÜĞÜ

DENEME-1

SÖZEL BÖLÜM

MENTEŞE İLÇE MİLLÎ EĞİTİM MÜDÜRLÜĞÜ

SÖZEL BÖLÜM

1- Bir otoparktaki yan yana yedi park yeri soldan sağa doğru, 1'den 7'ye kadar numaralandırılmıştır. Bu yerlere 3 spor araba ,2 binek araç ve 2 kamyonet şu kurallara göre park edecektir:

- Spor arabaların yan yana park edilmesi zorunludur.
- Binek araçların yan yana park edilmesi zorunludur.
- Kamyonetler yan yana veya ayrı olarak park edilebilir.

3 numaralı yere bir binek araç,6 numaralı yere bir spor araba park edilirse, kaç numaralı yere kesinlikle bir kamyonet park edilmesi gerekir?

- A) 3 B) 2 C) 1 D) 5

2- Thomas Edison, elektrik ampulünü çalıştırmak için tam iki bin farklı madde denemiş ama hiçbirisi işe yaramamıştı. Bilim adamının yardımcısı, aylar süren ve neticesiz kalan çabalardan sızlanarak şöyle dedi:"Bütün emeğimiz boşa gitti. Hiçbir şey elde edemedik. Edison kendinden emin bir sesle cevapladı yardımcısını:"Hayır! Çok uzun bir yol katettik ve çok şey öğrendik. İyi bir ampulün çalışması için iki bin maddenin kullanılamayacağını öğrendik!"

Verilen paragrafta asıl anlatmak istenen düşünce aşağıdaki yargılardan hangisidir?

- A) Başarılı olmak için başarısızlıklarımızdan da ders çıkarmalıyız.
B) Ampul yapmak zor ve masraflı bir iştir.
C) Başarmak emek ister.
D) Hırs, her zaman iyi bir şey değildir.

Kaktüslerle kaplı çöl dağlarının yumuşak eğimli yamaçlarla turkuvaz rengi durgun koylara indiği, orka türü balinaların ve manta tırpanası adındaki genişliği altı metreyi bulan tropikal balıkların sularında süzülüşü, ıssız Espiritu Santo adası , Eskimo balıkçılarının kayıklarına benzeyen bir kanoyla denize açılmak için dünyadaki en uygun yerlerden biridir.

Yaklaşık 32 metre uzunluğundaki Espiritu Santo, deniz açılınca dar bir berzahla komşusu Isla Partida adasına bağlanır. Bu adacıklar Meksika anakarası ile parmağa benzeyen Baja Yarımadası'nı birbirinden ayıran ışıltılı Cortes Denizi'nde yer alır. Ekimden mayısa kadar üzerinde güneşin eksik olmadığı bu ılık sulara, kayığı alabora etme denemesi yaparken ıslanmayı önemsemezsiniz.

3. 4. Ve 5. Soruları yukarıdaki parçaya göre cevaplayınız.

3- Bu parçada aşağıdaki sorulardan hangisinin cevabı yoktur?

- A) Espiritu Santo 'nun kıyı uzunluğu ne kadardır?
B) Espiritu Santo 'nun komşu adasının adı nedir?
C) Espiritu Santo hangi aylarda yağış almaktadır?
D) Espiritu Santo sularında hangi canlı türleri yaşamaktadır?

4- Bu parçanın dil ve anlatımıyla ilgili aşağıdakilerden hangisi söylenebilir?

- A) Betimlemeye başvurulmamıştır.
B) Benzetme yapılmamıştır.
C) Karşılaştırma cümlesi kullanılmamıştır.
D) Nesnel cümlelere yer verilmemiştir.



MENTEŞE İLÇE MİLLÎ EĞİTİM MÜDÜRLÜĞÜ

SÖZEL BÖLÜM

5- Bu parçada altı çizili cümlede hangi öge bulunmamaktadır?

- A) Zarf Tamlayıcısı
- B) Yer Tamlayıcısı
- C) Belirtili Nesne
- D) Belirtisiz Nesne

6- Aşağıdaki atasözleriyle konuları bakımından üçlü grup oluşturulduğunda hangisi dışta kalır?

- A) Baş başa vermeyince taş yerinden kalmaz.
- B) Bin bilsen de bir bilene danış.
- C) Yalnız kalanı kurt yer.
- D) Bir elin nesi var, iki elin sesi var.

7- "Asıl işlevi fiil olup aldığı –ma,-iş,-mak ekleriyle isim görevinde kullanılan kelimelere isim-fiil denir."

Yukarıdaki tanıma göre aşağıdaki cümlelerin hangisinde isim-fiil kullanılmıştır?

- A) Çalışmak onun tek eğlencesiydi.
- B) Seni görünce şaşırmış.
- C) Denize düşen yılana sarılır.
- D) Seven insan ne yapmaz?

8- Eylül sonunda Boğaz, bambaşka bir şekilde karşınıza çıkar. Bu mevsimde Kanlıca'da veya Emirgân'da avare olarak tek başınıza dolaşmaya çıkarsanız bütün sıkıntılarınızın sizi terk ettiğini görürsünüz. Sonbahar, birçok yazarın belirttiği gibi insanı kederlendiren bir mevsimdir. Ama bu mevsimde Boğaz, kederleri ve düşünceleri olduğu gibi alıp götürür.

Paragrafta aşağıdakilerin hangisinden söz edilmemiştir?

- A) Sonbaharda Boğaz'ın bambaşka bir şekilde görüldüğünden.
- B) Sonbaharın insanı hüznolendiren bir mevsim olduğundan
- C) Sonbaharda Boğaz'ı seyretmenin insanı üzüntülerinden uzaklaştırdığından
- D) Boğaz'ı tek başına gezmenin pek eğlenceli olmadığından.

9- Aşağıdaki cümlelerin hangisinde bir yazım yanlış yapılmıştır?

- A) Amerika'nın kuzeyine gidecekmış.
- B) Terketmedi sevdan beni.
- C) Avukat Hasan Bey toplantıya katılmayacakmış.
- D) Antep fıstığını çok severim.

10- "Başka milletlerin edebiyatında olduğu gibi Türk edebiyatında da doğrudan doğruya ilhama tâbi, biraz çalakalem şiirler yazan şairler olduğu gibi bir kuyumcu titizliğiyle çalışan, bu uğurda uykusuz geceler, sıkıntılı günler, belki aylar, hatta yıllar geçiren şairler de vardır."

Yukarıda verilen parçada aşağıdaki söz sanatlarından hangisi kullanılmıştır?

- A) Kişileştirme
- B) Konuşturma
- C) Abartma
- D) Benzetme

11- Aşağıdaki cümlelerin hangisinde noktalama işaretiyle ilgili bir yanlışlık yapılmıştır?

- A) Çatma, kurban olayım, çehreni ey nazlı hilal! Kahraman ırkıma bir gül! Ne bu şiddet, bu celal?
- B) Seyfettin Ömer, Akvaryum Yayınevi, İstanbul, 2009
- C) Ulusun, korkma! Nasıl böyle bir imanı boğar, 'Medeniyet!' dediğin tek dişi kalmış canavar?
- D) Sayın, öğretmenim beni dinler misiniz acaba?

Menteşe İlçe Milli Eğitim Müdürlüğü 2017/2018

MENTEŞE İLÇE MİLLÎ EĞİTİM MÜDÜRLÜĞÜ

SÖZEL BÖLÜM

“Bana kalırsa halkın dili, çoğu yazarlarımızdan daha zengindir. Bu dili bilen ya da öğrenen yazar, gerektikçe bunu kullanarak yazı diline katkıda bulunabilir. Dili kullanmadaki gücü önünde, onu zenginleştirip geliştirebilir. Ama bu sözcükler halkın dilinde bozulmuş olan biçimler yazıya aktarılсын, demek değildir. “

12- Metinde geçen altı çizili kelimelerden hangisi fiilimsi değildir?

- A) yazarlarımızdan
- B) bilen
- C) gerekçikçe
- D) kullanmadaki

13- Kendisini üstün varlık olarak algılayan kişi, çevresinden gelen en küçük eleştiriye bile katlanamaz. Gerçek benliğiyle yüzleşmesine neden olan durumları, dünyanın sonu gelmiş gibi, görür. Bu nedenle gururunu incitebilecek bir durumla karşılaştığında ya da karşılaşmak üzere olduğunu hissettiğinde, o durumdan kaçmaya çalışır. Kaçamadığı durumlarda ise gururuna darbe indirenlerden öç almaya çalışır.

Bu paragrafta tanıtılan kişi ile ilgili özelliklerden hangisi doğru değildir?

- A) Sorunlardan kaçmaya çalışan
- B) Kendini diğer insanlardan üstün gören
- C) Başkalarının sorunlarını çözmeye çalışan
- D) Eleştirilere açık olmayan

14- Bu, Roma' ya üçüncü gelişimdir. Ama Roma, orada doğup orada büyüyenler için bile bitmez. Her heykel, her tablo, her anıt, size her görünüşünde güzelliğin yeni bir sırrını açacaktır. Roma' da heykel vatandaş olmuştur. O, müzede değil, bizim gibi sokaklarda dolaşıyor, meydanlarda geziniyor, parklarda dinleniyor! Sabahleyin ağzından sular dökülen aslanları seyrederek Doney' e gittim. Burası, büyük otellerin, şık mağazaların ve camlarından hare hare sular akan çiçeklerin sıralandığı büyük bir cadde üstünde, Via Veneto' da bir kahvedir ama Mehmet Akif'in “Mahalle Kahvesi” değil, bir temizlik ve zarafet sergisi...

Yusuf Ziya ORTAÇ

Bu paragraf aşağıdaki yazı türlerinden hangisine örnektir?

- A) Gezi yazısı
- B) Sohbet
- C) Günlük
- D) Deneme

15- Türklerin ata sporu olan cirit oyunları, Asya'da ve Avrupa'da başka milletleri de etkilemiştir. Ciride benzer oyunlar türemiştir. Atlı polo oyunu bunlar arasındadır. Ne var ki cirit oyunlarının özelliğini yitirmeden yeni bir düzenleme ve özendirme ile yaşatılması gerekmektedir. Anadolu'nun geleneksel sporu cirit unutulmaktan kurtarılmalıdır.

Yukarıdaki paragrafta aşağıdaki düşüncelerin hangisine değinilmemiştir?

- A) Cirit oyunu Avrupa'dan başka milletleri de etkilemiştir.
- B) Cirit oyununun unutulması söz konusudur.
- C) Atlı polo oyunu ciride benzer.
- D) Anadolu'da da ciride benzer yeni oyunlar türetilmelidir.

Menteşe İlçe Millî Eğitim Müdürlüğü 2017/2018

MENTEŞE İLÇE MİLLÎ EĞİTİM MÜDÜRLÜĞÜ

SÖZEL BÖLÜM

16- I. Damlaya damlaya göl olur.
Taşıma suyla değirmen dönmez.

II. Fazla mal göz çıkarmaz.
Azıcık aşım ağrısız başım.

III. Bülbülün çektiği dili belası.
Bilmemek ayıp değil sormamak ayıp.

IV. Acele ile menzil alınmaz.
Acele bir ağaçtır meyvesi pişmanlık.

Yukarıdaki atasözlerinden hangi ikisi anlamca birbirleriyle çelişmemektedir?

- A) I B) II C) III D) IV

17- Dün akşamdan beri lapa lapa kar yağıyor. (1)Sanki gökten pamuklar dökülüyor. (2)Bu sabah da, karın pencerelere serpilişini, çerçevelerin dibine birikişini sevinçle seyrettim. (3)Öğretmen de bakıyor, ellerini ovuşturuyordu. (4)Kartopu oynamayı, sular buz tutunca üzerinde kaymayı, sonra da eve dönüp ocağın başında ısınmayı düşünüyordum.

Yukarıdaki numaralandırılmış cümlelerden hangisi anlatımın akışını bozmaktadır?

- A)4 B)3 C)2 D)1

18- “Reklam Fransızcadan dilimize aktarılan bir sözcük.Sözlüğe baktığımızda karşısında şunların yazılı olduğunu görüyoruz: Bir şeyi halka tanıtmak,beğendirmek ve böylece sürümünü sağlamak için söz,yazı ya da resimle yapılan her türlü çaba.İlgi uyandırarak,istek yaratarak talebi teşvik etmek.

Reklam şirketlerinin temsilcileriye bu konuda şöyle demekteler:Reklam,halka malları sergileyerek insanda seçim özgürlüğünün oluşmasını sağlar.Böylece bir yandan mal ucuzlarken birey de özgürce seçme olanağına kavuşur.”

Reklam sözcüğüyle ilgili,

- I.İnsanlar ürünleri tanır,bilgi edinir .
II.İnsanların karar verme duygusunu olumsuz etkiler.
III.İnsanların seçmesi için çeşitlilik sağlar.
IV.Abartılı reklamlar müşterileri yanıltır.

Yargılardan hangilerine ulaşılabilir?

- A)I-II B)I-III
C)III-IV D)I-IV

19- “Başarılı olmak için başarısız olmayı göze almak gerektiğini çoğu kez unuturuz.Başarının temelinde birçok başarısız deneme yatar.Başarısız denemeleri incelediğimizde niçin başarısız olduğumuzu anlamadan başarılı adıma ulaşamayız.”

Yukarıdaki paragraftan hangi düşünce çıkarılamaz?

- A)Başarılı olmak için başarısızlıkların sebeplerini araştırmalıyız.
B)Deneyimler insanları git gide başarıya götürür.
C)Her başarısızlık, ilerideki başarısızlığın hazırlık aşamasıdır.
D)Başarılı insanlar başarısız olmayı da göze almalıdır.

Menteşe İlçe Millî Eğitim Müdürlüğü 2017/2018

MENTEŞE İLÇE MİLLÎ EĞİTİM MÜDÜRLÜĞÜ

SÖZEL BÖLÜM

20- Aşağıdaki paragraflardan hangisinde anlatım farklı bir kişinin ağzından yapılmıştır?

- A) Maya,bu sözleri söyledikten sonra koltuğa oturdu,ellerini kucağında kavuşturdu,görmeyen gözlerini ateşe doğru çevirdi.Gücünün sonuna gelmişti artık.Geleceği göremiyordu.Yorgun belleğinin tek bilebildiği,yaptığı yolculuğun boşuna olduğuydu.
- B) Geri kalan atları arabaya doğru getirdim.Tek kelime söylemeden iki adam da arabaya bindi.Şimdi alçak bulutları görebiliyordum.Uzaktardaki tarlaların ötesinden kuşların cıvıltılı seslerini duyabiliyordum.
- C) Caddeden iniyordum ki üç adam önümde durdu.Giysileri birbirine benziyordu.Birkaç saniye bakmamla anladığım buydu.Yanılmadığıma da inanıyorum.O anda bir şimşek çaktı beynimde...Şimdi anımsadım.Çemberlitaş'ta gördüm onları.
- D) Bir ağaca dayandım.Elim ayağım titriyor,yüreğim tıkanacakmış gibi daralıyordu.Dolu dolu gözlerimi sessizce yanımdan geçen başları önlerine eğilmiş,halkın karaltısına çevirdim.Ağlayan kadınların hıçkırıklarını duyuyordum.

Selanik; Manastır, Üsküp, Belgrat ve İstanbul'a demiryolu ağıyla bağlanmış bir şehirdir. Ayrıca şehrin çok uluslu bir yapıya sahip olması şehirde farklı dillerin konuşulmasını değişik gelenek ve göreneklerin görülmesini sağlamıştır. Bu çok uluslu yapısından dolayı Milliyetçilik akımından olumsuz etkilenmiştir

21-Yukarıdaki açıklamalarda Selanik şehrinin hangi özelliği hakkında bilgi verilmemiştir?

- A) Etnik Yapısı
B) Kültürel Yapısı
C) Ekonomik Özellikleri
D) Sosyal Yapısı

22- Mustafa Kemal, önce mahalle mektebine ardından'na gitti.Bu okulu bitirdikten sonra Selanik Mülkiye Rüştîyesi'ne, sonra da'na girmiştir.

Yukarıdaki metinde boş bırakılan yerlere aşağıdakilerden hangisi gelmelidir?

- A) Sıbyan Mektebi-Şemsi Efendi İlkokulu
B) Şemsi Efendi ilkokulu-Darülfünun
C) Manastır Askeri İdadisi-Selanik Askeri Rüştîyesi
D) Şemsi efendi İlkokulu-Selanik Askeri Rüştîyesi

23- “Siyasi birliğini Avrupa'nın diğer büyük devletlerinden çok daha geç tamamlayan İtalya, gelişen sanayisine hammadde bulmak amacıyla sömürgecilik faaliyetlerine girişmiştir.”

Aşağıdakilerden hangisi İtalya'nın bu faaliyetlerinin bir sonucudur?

- A) Trablusgarp Savaşı
B) I.Dünya Savaşı
C) Çanakkale Savaşı
D) I.Balkan Savaşı

24-İtilaf Devletleri Mondros Ateşkes Antlaşması'yla; Doğu Anadolu'da bir Ermeni devleti kurduğunu amaçlamış ve bu amaçla anlaşmaya

..... maddeyi eklemiştir.Bu maddede

Yukarıdaki paragrafta boş bırakılan yerlere hangileri getirilirse doğru olur?

- A. 7.-Anadolu'nun herhangi bir yerinde İtilaf devletlerinin kendi güvenliklerini tehdit eden bir karışıklık çıkarsa , İtilaf Devletleri burayı işgal edebileceklerdir.
B. 24.-Doğuda karışıklık çıkarsa itilaf İtilaf Devletleri burayı işgal edebileceklerdir.
C. 24.-Boğazlar boşaltılarak İtilaf Devletleri'ne teslim edilecektir.
D. 7.-Ordu terhis edilecek, orduya ait silah,cephane,mühimmat ve her türlü araç-gereç İtilaf devletleri'ne teslim edilecektir.



MENTEŞE İLÇE MİLLÎ EĞİTİM MÜDÜRLÜĞÜ

SÖZEL BÖLÜM

25- Mustafa Kemal'in Samsun'a çıkışından hemen önce, İzmir ve çevresinde başlayan Yunan işgalleri Aydın, Manisa hattında yayılmaya başlamıştı. Mustafa Kemal Yunan işgalinin protestosu için mitingler yapılmasını, valilik ve kolordu komutanlıklarından istemiştir. Buna göre Mustafa Kemal'in bu isteğinin temel amacı aşağıdakilerden hangisidir?

- A) İşgalci güçlere karşı düzenli orduyu kurmak
- B) İtilaf Devletlerinin Yunanlılara baskı yapmasını sağlamak
- C) Ulusal bilincin uyanmasını sağlamak
- D) Anadolu harekâtının İstanbul Hükümeti'nce tanınmasını sağlamak

26- Amasya Genelgesi'nde yer alan maddelerden bazıları şunlardır.
*Vatanın bütünlüğü, milletin bağımsızlığı tehlikededir.
*Milletin bağımsızlığını yine milletin azim ve kararı kurtaracaktır.
*Milletin haklarını savunmak için milli bir kurulun varlığı çok gereklidir.

Genelgenin bu maddelerine dayanarak aşağıdakilerden hangisine daha çok ulaşılabilir?

- A) Padişaha karşı ayaklanmaya çalışma
- B) İstanbul Hükümeti'nin istifasını isteme
- C) Devletin çöküntü içinde olduğunu vurgulama
- D) Milli mücadeleye çağırma

27- Aşağıdakilerden hangisi Kurtuluş Savaşı yıllarında toplumda meydana gelen olayların edebiyata yansımaya örnek gösterilebilir?
A) Halide Edip Adıvar'ın ordu hizmetinde yaşadıklarını "Türk'ün Ateşle İmtihanı" adlı eserinde anlatması
B) Halkı bilinçlendirmek amacıyla Hâkimiyet-i Milliye gazetesinin çıkarılması
C) İşgaller karşısında halkın protesto mitingleri düzenlemesi
D) Milli Mücadele yıllarında orduya kadınların da destek olmaları

28- Aşağıdaki antlaşma - sonuç eşleştirmelerinden hangisi yanlıştır?

- A) Gümrü Antlaşması-TBMM'nin uluslararası alanda kazandığı ilk siyasi başarıdır.
- B) Mudanya Ateşkes Ant.-Doğu sınırimız bugünkü şeklini almıştır.
- C) Ankara Ant.-Hatay dışında Türkiye-Suriye sınırı çizilmiştir.
- D) Moskova Ant.-Sovyet Rusya TBMM Hükümeti'ni tanımıştır.

29- Düzenli ordunun kurulması
-İstiklal marşının ilan edilmesi
-1921 Anayasası (Teşkilat ı Esasinin) ilan edilmesi
- I.İzmir İktisat Kongresi ile ülkeye ait ekonominin kurulması
gibi gelişmeler aşağıdakilerden hangisinin göstergesidir?

- A) Bağımsız bir ülke olma yolundaki aşamalar
- B) Uluslararası alanda tanınma
- C) Manda ve himaye fikrini kabullenme
- D) Milli egemenliğe geçişin aşamaları

30- Lozan Barış Antlaşması'nda aşağıdakilerden hangisi Misak-ı Milli'ye uygun bir şekilde çözüme kavuştu?

- A)Boğazlar sorunu.
- B)Kapitülasyonlar.
- C)Hatay sorunu.
- D)Musul meselesi.

Menteşe İlçe Millî Eğitim Müdürlüğü 2017/2018

MENTEŞE İLÇE MİLLÎ EĞİTİM MÜDÜRLÜĞÜ

SÖZEL BÖLÜM

31- Aşağıdaki ayetlerden hangisi Allah'ın her şeyi bir ölçüye göre yarattığına örnek değildir?

- A) Güneş ve ay belli bir hesaba göre hareket eder
- B) O yaratıp şekillendiren ahenk ve düzen verendir
- C) Rahmanın yaratılışında hiçbir uyumsuzluk göremezsin
- D) Allah'ın nimetlerini saymaya kalksanız sayamazsınız

32- “Kim doğru yolu seçerse bunu ancak kendi iyiliği için seçmiş olur, kim de doğruluktan saparsa kendi zararına sapmış olur. Hiçbir günahkâr, başkasının günah yükünü üstlenmez...”

İsrâ Suresi-15. Âyet

Bu ayetten yararlanılarak aşağıdaki yargılardan hangisine ulaşılabilir?

- A) İnsan, özgür irade sahibidir.
- B) İnsan yaptıklarının tümüyle kadere ait olduğu bilinciyle hareket etmelidir.
- C) İnsan sorumluluğu başkasında arayamaz.
- D) İnsan, sonucuna katlanamayacağı davranışlardan uzak durmalıdır.

33- Aşağıdaki ayetlerden hangisi fiziksel yasayla ilgilidir?

- A) "Gökleri yedi kat yaratan odur. Rahman'ın yaratmasında bir uyumsuzluk göremezsin. Gözünü çevir de bir bak bir bozukluk görüyor musun? (Mülk suresi 3. Ayet)"
- B) Her toplumun belirli bir eceli vardır. Ecelleri geldiğinde onu ne bir an erteleyebilirler ve ne de bir an öne alabilirler (A'raf suresi 34. ayet)
- C) Allah'tan başka hiçbir ilah yoktur. Müminler yalnız Allah'a dayanıp güvensinler (Tegabun suresi 13. Ayet)
- D) Biz sana Kuran'ı vahyetmekle geçmiş milletlerin haberlerinin güzel şekilde anlatıyoruz (Yusuf suresi 3. Ayet)

- 34- I. Allah'tan başka ilah yoktur.
II. O daima diridir (haydır), bütün varlığın idaresini yürütendir (kayyumdur)
III. O, kullarının önlerinde ve arkalarında ne varsa hepsini bilir
IV. O'nun sonsuz kudreti gökleri ve yeri kaplar.

Ayete'l Kürsi'nin anlamında yer alan bu ifadelerden hangisi tevhidi ifade eder?

- A) I B) II C) III D) IV

35- Hac ve umre ibadeti yerine getirilirken başka zamanlarda yapılmasında sakınca olmayan davranışların belli bir süre yasaklanmasına denir.

-Arefe günü öğle vaktinden bayram sabahına kadar önce Arafat Dağında sonrada Müzdelife denilen alanda durarak ibadet ve dua etmeye denir.
-Hacer'ül Esved 'in bulunduğu yerden başlayarak Kâbe'nin etrafında yedi defa dönmeye denir.

-Mekke'de bulunan Safa ile Merve tepeleri arasında yedi defa gidip gelmeyedenir.

Yukarıdaki boşluklara sırayla aşağıdakilerden hangisi gelmelidir?

- A) ihram – vakfe – tavaf – say
- B) tavaf – ihram – say – vakfe
- C) say – vakfe – ihram – say
- D) ihram – tavaf – say – vakfe

36- Oturulan ev, evde kullanılan eşyalar, giyilen elbiseler ve için zekat verilmez.

Boş bırakılan yere aşağıdakilerden hangisinin gelmesi uygun olur?

- A) toprak ürünleri
- B) sahip olunan madenler
- C) binek olarak kullanılan araç
- D) ticaret malı

Menteşe İlçe Millî Eğitim Müdürlüğü 2017/2018

MENTEŞE İLÇE MİLLÎ EĞİTİM MÜDÜRLÜĞÜ

SÖZEL BÖLÜM

37- "Allah'ım davetine uydum,emrindeyim.Eşin ve ortağın yoktur.Sana yöneldim,hamt ve nimet senin,mülk de senindir.Eşin ve ortağın yoktur."

Telbiye duasıyla ilgili hangisi söylenemez?

- A) Kainatta her şey Allah'a aittir.
- B) Allah'a teslimiyetin en güzel ifadesidir.
- C) Günahlardan arınmanın yöntemidir.
- D) Allah'ın varlığı ve birliği ifade edilir.

38- I. Kurban etinin tamamı evde tüketilmelidir.
II. Allah'a yaklaşmak amacıyla yapılır.
III. Belirli şartları taşıyan her Müslüman yükümlüdür.

Kurban ibadetiyle ilgili yukarıda verilenlerden hangileri doğrudur?

- A) I ve II B) I ve III C) II ve III D) I, II ve III

39- Peygamberimiz, Bedir Savaşı esirleri hakkında ne yapacağına arkadaşlarıyla görüşerek karar vermiştir. Bedir Savaşı'nda, savaş alanının seçiminde de sahabelerin görüşlerini almıştır.Yukarıda verilen özellikler peygamberimizin hangi ahlaki özelliğini gösterir?

- A) Bilgiye verdiği önemi
- B) Merhametini
- C) İstişareye verdiği önemi
- D) Verdiği sözde durduğunu

40- Peygamberimiz ilk vahiyden sonra Hz.Hatice'ye giderek başından gecenleri anlatmış ve onunla Varaka b.Nevfel'e gidip fikir almışlardır.

- Hendek savaşı öncesinde şehrin etrafına hendekler kazılırken kendisi de bizzat çalışmıştır.
- Hz.Fatıma hariç bütün çocukları kendisi hayatta iken vefat etmiştir.O bu zorlukları sabrederek aşmıştır.

Yukarıdaki örneklerde Peygamber Efendimiz'in hangi özelliğine değinilmemiştir?

- A) Hz.Muhammed (s.a.v) sabırlı ve cesaretliydi.
- B) Hz.Muhammed (s.av) danışarak iş yapmıştır.
- C) Hz.Muhammed (s.a.v) bilgiye önem verirdi.
- D) Hz.Muhammed (s.a.v) çalışmayı severdi.

41- Aşağıdaki diyalogun doğru sıralanışı hangisidir?

- I. I'd love to but whose concert is it?
- II. No,not at all .Why are you asking?
- III. Sorry,but I'm not into rock music.
- IV. It's a concert of a famous rock band.
- V. I have two tickets for a concert tonight.Would you like to go with me?
- VI. Listen,Mary.Are you busy this evening?

- A) VI-II-V-I-IV-III B) VI-V-II-I-IV-III
C) III-IV-II-IV-I-V D) VI-III-IV-I-II-V

42- Which match is wrong?

- A) Accepting: Of course. What time?
- B) Inviting: Would you like to come with me?
- C) Refusing: Yeah, I'll be there for sure.
- D) Apologising: I'm sorry, but I can't.

MENTEŞE İLÇE MİLLÎ EĞİTİM MÜDÜRLÜĞÜ

SÖZEL BÖLÜM

43- Cümleye gelen uygun kelimeyi işaretleyiniz.

My buddy likes _____ clothes. He finds them easy and comfortable. So he wears just jeans and t-shirt.

- A) Trendy B) Fashion
C) Casual D) Outfit

44- Richard:How about going to the cinema tomorrow?

Martha:I'd love to, but

- A)that would be great B)that sounds good
C)Why not? D)I have lots of homework to do.

45-



- I. Next, pour ½ cup of mixture into a frying pan.
II. Then, blend the mixture for one minute.
III. After that, heat it until golden, then flip.
IV. First, put the eggs, sugar, flour and milk in a blender.
V. Finally, serve your pancake with honey.

Karışık olarak verilmiş cümlelerin anlamlı bir bütün oluşturacak şekilde sıralandığı seçeneği işaretleyiniz.

- A) IV – III – II – I – V
B) IV – II – V – I – III
C) IV – I – II – III – V
D) IV – II – I – III – V

46- Henry: What are you eating?

Kate: A chocolate muffin.

Henry:?

Kate: Eggs, sugar, flour...

- A) Is it delicious?
B) What's in it?
C) How often do you eat it?
D) How do you make it?

47- A.Do you know how does a mobile phone network work?

B.....

- A.What does it mean?
B.The mobile phone uses two frequencies, one for talking and one for listening.

- A) Millions of people around the world use mobile phones.
B) Yes I've a mobile phone in my pocket.
C) Actually it uses radio waves to communicate.
D) This doesn't happen very often.

48- Suna: Hello, Suna speaking.

Taner: Hi Suna, this is Taner. Is your brother in?

Suna: I'll get him.

- A) He's not available at the moment.
B) He is not at home now.
C) Hold on a minute, please.
D) This is Alper, speaking.



MENTEŞE İLÇE MİLLÎ EĞİTİM MÜDÜRLÜĞÜ

SÖZEL BÖLÜM

49- I love the Internet because it is great to find information,..... friends,download music,watch movies.

- A) keep in touch with
- B) wireless modem
- C) online games
- D) printer

50-

ONLINE SAFETY

- I. Give out your personal information without your parents' permission
- II. Decide your online dates with your parents.
- III. Upload your photos without asking your parents.
- IV. Don't hurt other people online
- V. Don't tell your parents if you take disturbing messages.

According to family contract above, which ones are false?

- A) II and IV
- B) I ,III and IV
- C) III and IV
- D) I ,III and V

****Sözel bölüm bitti. Cevaplarınızı kontrol ediniz.**



T.C.

MENTEŞE İLÇE MİLLÎ EĞİTİM MÜDÜRLÜĞÜ

DENEME-1

SAYISAL BÖLÜM

MENTEŞE İLÇE MİLLÎ EĞİTİM MÜDÜRLÜĞÜ

SAYISAL BÖLÜM

1- A doğal sayısının bir çarpanı 6, B doğal sayısının bir çarpanı 15 ise A.B doğal sayısının bir çarpanı aşağıdakilerden hangisi olmayabilir?

- A) 8 B) 9 C) 10 D) 18

2- 1,2,3,x ,6, y,12,16,24,z sayıları bir doğal sayının sırasıyla çarpanları ise z- (x+y) kaçtır?

- A) 6 B) 12 C) 24 D)36

3- Bir yarış arabası uzunluğu 960 km olan bir yolun yarısını ortalama 120 km/h süratle, diğer yarısını ortalama 60 km/h süratle gidiyor.

Buna göre, yolun tamamını kaç saatte gider?

- A) 16
B) 12
C) 8
D) 6

4- $9^0 - 7^1 + (-2)^3$ İşleminin sonucu nedir?

- A) -14 B) -6 C) -8 D) 1

5- Ülkemizde yılda ortalama 17 milyon ton akaryakıt tüketilmektedir.



10 yılda ülkemizde tüketilen akaryakıtın ton biriminden bilimsel gösterimi hangisidir?

- A) $17 \cdot 10^6$ B) $17 \cdot 10^7$
C) $1,7 \cdot 10^8$ D) $1,7 \cdot 10^7$

6- $\frac{(-1)^{1938} - (-1881)^0 - (0)^{1923}}{(-1)^{-3}}$ işleminin sonucu

aşağıdakilerden hangisidir ?

- A)-2 B)0 c)2 D)-1

7- Derya telefon almak için bir mağazaya gittiğinde telefonun etiketinin üzerinde a,b,c birbirinden farklı pozitif tamsayılar olmak üzere sayısını görmüştür.

$$T = 2^a \cdot 5^b \cdot 7^c$$

Buna göre Derya'nın beğendiği telefonu alabilmesi için ödeyeceği ücret en az kaç TL olur?

- A.1900 B.1500 C.1400 D.1200

8-



kutucuk içinde verilen irrasyonel sayılar, çarpım sonucu rasyonel olacak şekilde birbirleriyle çarpılıyorlar. Buna göre, kutucuk içindeki hangi sayı irrasyonel olarak kalır?

- A) $\sqrt{63}$
B) $\sqrt{28}$
C) $\sqrt{27}$
D) $\sqrt{20}$

MENTEŞE İLÇE MİLLÎ EĞİTİM MÜDÜRLÜĞÜ

SAYISAL BÖLÜM

9- Karekökü tamsayı olan iki basamaklı en büyük ve en küçük sayıların toplamı kaçtır?

- A) 13 B) 56 C) 70 D) 97

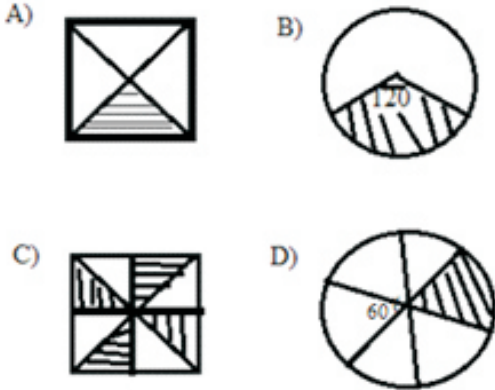
10- Elinde 120 adet karo bulunan Yusuf bu birim karolara aşağıda verilen karo sayılarından Hangisi ekleyerek karesel bir bölge oluşturamaz?

- A) 1
B) 24
C) 40
D) 105

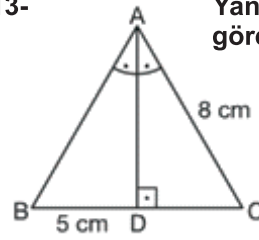
11- Bir ışık yılı yaklaşık 9 500 000 000 000 km olduğuna göre metre olarak bilimsel gösterimi nasıl yazılır?

- A) $9,5 \cdot 10^5$ B) $9,5 \cdot 10^6$
C) $9,5 \cdot 10^2$ D) $9,5 \cdot 10^4$

12- Aşağıda verilen şekillerin her birine birer ok atılıyor. Hangi şekilde atılan okun taralı alanı vurma olasılığı en fazladır?



13-



Yandaki ABC üçgeninde verilenlere göre üçgenin çevresi kaç cm dir?

- A) 23 B) 24 C) 25 D) 26

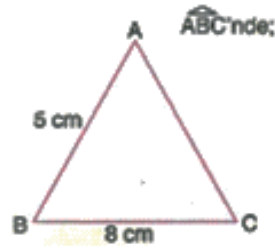
14-

| | |
|------|--|
| I. | $ AC = 6 \text{ cm}, m(\hat{A}) = 50^\circ, m(\hat{B}) = 65^\circ$ |
| II. | $ AB = 4 \text{ cm}, AC = 7 \text{ cm}, m(\hat{B}) = 70^\circ$ |
| III. | $a = 6 \text{ cm}, b = 9 \text{ cm}, c = 7 \text{ cm}$ |
| IV. | $m(\hat{M}) = 70^\circ, KM = 12 \text{ cm}, m(\hat{K}) = 40^\circ$ |

İkizkenar bir üçgen çizmek isteyen Sude yukarıdaki elemanları verilen üçgenlerden hangisi yada hangileri kullanabilir?

- A) Yalnız 1 B) 1 ve 2
C) 1 ve 4 D) 3 ve 4

15-



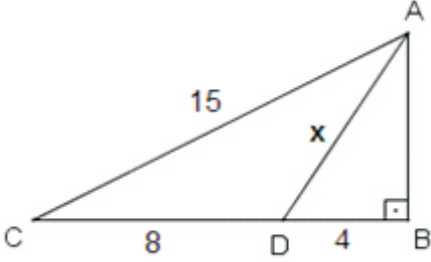
yukarıdaki üçgen çeşitkenar bir üçgendir. Buna göre IACI kaç farklı değer alır?

- A) 6 B) 7 C) 8 D) 9

MENTEŞE İLÇE MİLLİ EĞİTİM MÜDÜRLÜĞÜ

SAYISAL BÖLÜM

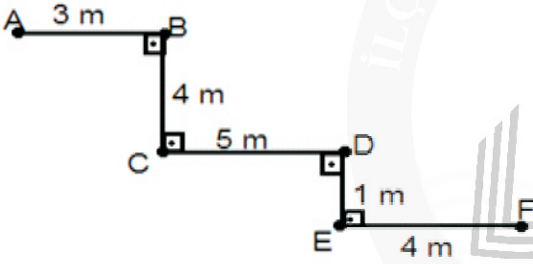
16-



Yukarıda verilenlere göre AD uzunluğu nedir?

- A) $\sqrt{91}$ B) $\sqrt{93}$ C) $\sqrt{95}$ D) $\sqrt{97}$

17-



Yukarıda verilen bilgilere göre A ile F arasındaki en kısa mesafe kaç metredir?

- A) 17 B) 15 C) 13 D) 11

- 18- I) Biçimi
II) Boyutu
III) Yönü
IV) Yeri

Yukarıda verilen maddelere göre döndürülen bir cismin hangi özellikleri değişmez?

- A) I-II B) III-IV C) II-IV D) I-III

19- ABC üçgeninin orijin etrafında 90° döndürülmesiyle $A'B'C'$ üçgeni oluşuyor. $A'(1,5)$ ve $A(a,b)$ ise $a+b$ ifadesinin alabileceği kaç farklı değer vardır?

- A) 1
B) 2
C) 3
D) 4

20- Köşelerinin koordinatları $A(-6,3)$, $B(-6,-2)$ ve $C(6,-2)$ olan üçgenin çevre uzunluğu kaç birimdir?

- A) 17 B) 25 C) 30 D) 34

21- Aynı türün bireyleri arasında aşağıdakilerden hangisi ya da hangileri farklıdır?

- I. Nükleotit Çeşiti
II. Nükleotit Sayısı
III. Gen çeşiti
IV. Nükleotit Sırası

- A) I, II ve IV B) II ve IV
C) II, III ve IV D) I, II ve III

MENTEŞE İLÇE MİLLÎ EĞİTİM MÜDÜRLÜĞÜ

SAYISAL BÖLÜM

22- Hafta sonu tatilinde teyzesini ziyarete giden Rasim, teyzesinde kırmızı renkli güzel bir gül görmüştür. Bu gül çok hoşuna gitmiş ve teyzesinden tohumunu isteyerek kendi evine dikmiştir. Fakat gül bitkisi büyüyüp çiçek açtığında çiçeğin teyzesinde gördüğü renkten farklı bir renkte olduğunu görmüştür.

Yukarıdaki olay ile ilgili arkadaşları Rasim'e;

Hilal: Tohumu kesinlikle yanlış gül bitkisinden aldığı için çiçeğin rengi farklı oldu.

Melih: Tohumun oluşma sürecinde mayoz görüldüğü için çiçek farklı renkte olabilir.

Doğukan: Tohumdan bitkinin oluşma sürecinde mayoz gerçekleştiği için farklı renkte olmuştur.

Yaşar: Gülü az suladığı için farklı renkte açmıştır. demişlerdir.

Buna göre hangi öğrencinin açıklaması doğru bir açıklama olmuştur?

- A) Hilal
- B) Melih
- C) Doğukan
- D) Yaşar

23- Harf-Hece-Kelime-Cümle sıralamasındaki benzer ilişki aşağıdaki seçeneklerden hangisinde vardır?

- A) Gen-Kromozom-Nükleotit-DNA
- B) DNA-Nükleotit-Gen-Kromozom
- C) Kromozom-DNA-Nükleotit-Gen
- D) Nükleotit-Gen-DNA-Kromozom

24- DNA ile ilgili verilen bilgilerden hangisi doğru değildir?

- A) Çift zincirden meydana gelmiştir.
- B) Tüm hücrelerde çekirdek içinde bulunur.
- C) Üreme, kalıtım ve hücre yönetiminde görev alır.
- D) Sarmal bir yapıdadır.

25- I. Döllenmenin gerçekleştiği organdır.

II. Yumurta hücreleri üretilen kısımdır.

III. Zigotun yerleşip, geliştiği kısımdır.

Dişi üreme yapı ve organlarının görevleri verilmiştir.

Hangi yapıya ait görevden bahsedilmemektedir?

- A) Yumurtalık
- B) Vajina
- C) Döl Yatağı
- D) Yumurta Kanalı

26- Mitoz ve mayoz bölünmeler ile ilgili yapılan bir etkinlikte aşağıda verilen ifadelerin başına doğru ise "D", yanlış ise "Y" yazılması istenmiştir.

| İfadeler | D / Y |
|---|-------|
| 1. Mayoz bölünmede kromozom sayısı sabit kalır. | |
| 2. Mitoz bölünmenin başlarında parça değişimi görülür. | |
| 3. Mayoz bölünme yalnızca eşeyli üreyen canlılarda görülür. | |
| 4. Mitoz bölünme hayat boyu devam eder ve tüm canlılarda görülür. | |

Tablo doğru şekilde tamamlandığında kaç "doğru" elde edilir?

- A) 1
- B) 2
- C) 3
- D) 4

27- Aşağıdaki basit makinelerden hangisi yoldan kazandırıp kuvvetten kaybettirir?

- A) El Arabası
- B) Cımbız
- C) Gazoz Açacağı
- D) Pense

Menteşe İlçe Millî Eğitim Müdürlüğü 2017/2018

2014

MENTEŞE İLÇE MİLLÎ EĞİTİM MÜDÜRLÜĞÜ

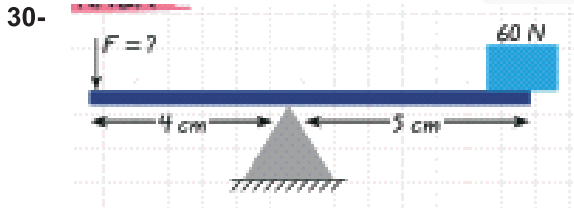
SAYISAL BÖLÜM

28- Ca^{2+} , F^{-} iyonlarının oluşturduğu bileşiğin formülü aşağıdakilerden hangisidir?

- A) CaF B) CaF_2
C) Ca_2F D) Ca_2F_3

29- Aşağıdakilerden hangisi ergenlik döneminde bireyin kendisine “ben kimim?” sorusunu sorduğu ruhsal değişimlerdenidir?

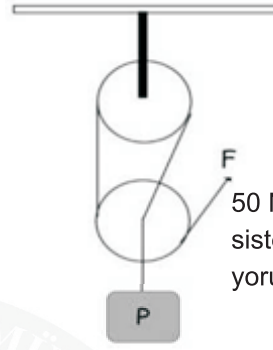
- A) Bağımsızlık arayışı
B) İletişim sorunları
C) Zihinsel değişim
D) Kimlik arayışı



Kaldıracın dengede kalabilmesi için uygulanan F kuvvetinin büyüklüğünü iki katına çıkarmak için aşağıdakilerden hangisinin tek başına yapılması yeterlidir?

- A) F kuvveti 1 cm desteğe yaklaştırılmalıdır.
B) Yük desteğe 2 cm yaklaştırılmalıdır.
C) Yük desteğe 3 cm yaklaştırılmalıdır.
D) F kuvveti 2 cm desteğe yaklaştırılmalıdır.

31-



Yandaki düzenekte P yükü 50 N ve sistem dengededir. Bu sistem ile ilgili aşağıdaki yorumlarda bulunulmuştur:

Emre: F kuvveti 25 N'dir.

Ümit: P yükünü 1m yukarı çıkarmak için ipi 3 m çekmek gerekir.

Umut: Sistemde 1 sabit 1 de hareketli makara kullanılmıştır.

Hangi öğrenci veya öğrencilerin yorumları doğrudur?

- A) Emre ve Ümit B) Ümit ve Umut
C) Yalnız Umut D) Emre, Ümit ve Umut

32- Şerife şekilde bileşik makine düzeneğinde çıkırığın koluna 60 N kuvvet uygulayınca cisim dengede kalıyor.



Buna göre cismin ağırlığı aşağıdakilerden hangisi kesinlikle olamaz?

- A) 120N B) 125N C) 130N D) 135N

Menteşe İlçe Millî Eğitim Müdürlüğü 2017/2018

2018

MENTEŞE İLÇE MİLLÎ EĞİTİM MÜDÜRLÜĞÜ

SAYISAL BÖLÜM

33-



Yukarıda X, Y ve Z elementlerinin elektron dizilimleri verilmiştir.

- 1) X ve Y elementleri aynı periyottadır.
 - 2) Y ve Z elementleri aynı gruptadır.
 - 3) X ve Z elementlerinin kimyasal özellikleri benzerdir.
- verilenlerden hangileri doğrudur?

- A) 1, 2 ve 3 B) Yalnız 3
C) 1 ve 3 D) 2 ve 3

34- X elementi 2 elektron alarak kararlı hale geliyor. Buna göre aşağıda verilen elementlerden hangisi ile iyonik bağlı bileşik oluşturabilir?

- A) ${}_1\text{H}$ B) ${}_7\text{N}$
C) ${}_{10}\text{Ne}$ D) ${}_{11}\text{Na}$

35-



Fabrika bacalarından, otomobil egzozlarından çıkan zehirli gazlar havada yağmur damlaları ile birleşerek asit yağmurlarını oluşturmaktadır. Asit yağmurları ormanları, toprağı, deniz ve gölleri ve buralarda yaşayan canlıları olumsuz etkilemektedir.

Aşağıdaki gazlardan hangisi asit yağmurlarına sebep olmamaktadır?

- A) SO_2 B) NO_2 C) CO_2 D) Ar

36-

| | | | |
|---------------|----------------|-------------------------|--------------------------|
| NH_3 | HNO_3 | H_2SO_4 | CH_3COOH |
| I | II | III | IV |

Fatma Yukarda verilen kimyasalları kullanarak nötrleşme tepkimesi hazırlamak istiyor. Buna göre hangi kimyasalları kullanırsa istediğı sonuca ulaşır?

- A) I ve III
B) II ve III
C) III ve IV
D) II ve IV

MENTEŞE İLÇE MİLLÎ EĞİTİM MÜDÜRLÜĞÜ

SAYISAL BÖLÜM

37-



Sizce Oksijen atomu Hidrojen atomunun isteğine nasıl karşılık vermiştir?

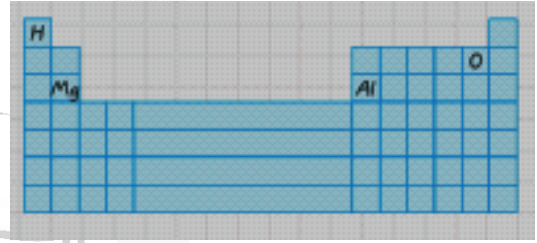
- A) Olmaz çünkü ben kararlıyım.
- B) Veririm tabi lafı mı olur.
- C) Veremem çünkü benim de elektrona ihtiyacım var.
- D) Metal olmasaydım verirdim.

39- Be_3Al_2

Yukarıda bileşik formülü verilen maddenin element sayısı ve atom sayısı sırası ile aşağıdakilerden hangisidir?

- A) 3 ve 5
- B) 5 ve 5
- C) 5 ve 2
- D) 2 ve 5

40



Yukarıdaki periyodik tabloda yerleri verilen elementlerden hangi ikisinin katman sayısı aynıdır?

- A) Mg-Al
- B) H-Mg
- C) H-O
- D) Al-O

38- Gazlı içeceklerin asidik özellik göstermesinin aşağıdakilerden hangisiyle açıklanabilir?

- A) Çözelti olmaları
- B) İçinde karbondioksit gazının çözünmesinden kaynaklanan H^+ iyonu bulunması
- C) Şeker eklenmiş olması
- D) Katkısız olması

****Sayısal bölüm bitti. Cevaplarınızı kontrol ediniz.**




**T.C.
MENTEŞE İLÇE MİLLÎ EĞİTİM MÜDÜRLÜĞÜ**

SINAV BAŞLAMADAN ÖNCE AŞAĞIDAKİ UYARILARI MUTLAKA OKUYUNUZ.

- 1- Sınav başladıktan sonra çevrenizdekilerle konuşmayınız.
- 2- Soruları cevaplamaya istediğiniz sorudan başlayabilirsiniz.
- 3- Cevabını bilmediğiniz sorular üzerinde fazla zaman kaybetmeden diğer sorulara geçiniz. Zaman kalırsa bu sorulara daha sonra dönebilirsiniz.
- 4- Sınav puanınızın hesaplanmasında sadece doğru cevaplarınız dikkate alınacaktır.
- 5- Cevap anahtarınızı sınav süresince başkalarının göremeyeceği şekilde önünüzde bulundurunuz.
- 6- Sınav sırasında sözlük, hesap makinası, cep telefonu ve bilgisayarınızın bu özelliklerini kullanmayınız.
- 7- Sınav süresince yerinizden ayrılmayınız.

T.C.
MENTEŞE İLÇE MİLLİ EĞİTİM MÜDÜRLÜĞÜ



TÜRKÇE CEVAP ANAHTARI

1. C
2. A
- 3.C
- 4.D
- 5.D
6. B
7. A
8. D
- 9.B
- 10.D
11. D
12. A
13. C
- 14.A
- 15.B
- 16.D
- 17.B
- 18.B
- 19.C
- 20.A

DİN KÜLTÜRÜ AHLAK BİLGİSİ CEVAP ANAHTARI

- 1.D
- 2.B
- 3.A
- 4.A
- 5.A
- 6.C
- 7.C
- 8.B
- 9.C
- 10.C

İNKİLAP TARİHİ CEVAP ANAHTARI

1. C
2. D
- 3.A
- 4.B
- 5.C
6. D
7. A
8. B
- 9.A
- 10.B

İNGİLİZCE CEVAP ANAHTARI

- 1.A
- 2.C
- 3.C
- 4.D
- 5.D
- 6.B
- 7.C
- 8.C
- 9.A
- 10.D

MATEMATİK CEVAP ANAHTARI

1.C
2.D
3.C
4.C
5.C
6. B
7.C
8.C
9.D
10.C
11.A
12.C
13.D
14.C
15.B
16.D
17.C
18.A
19.B
20.C

FEN BİLİMLERİ CEVAP ANAHTARI

1. C
2. B
3.D
4.B
5.B
6.B
7.B
8.B
9.D
10.D
11.B
12.A
13.C
14.D
15.D
16.A
17.C
18.B
19.D
20.A