

# 8.SINIF

## 3.DENEME SINAVI



---

---

**Bu deneme sınavı, Hatay İl Milli  
Eğitim Müdürlüğü ARGE birimi  
tarafından, Kare Etüt Merkezi,  
Genç Akademi Eğitim Merkezi  
ve Hatay TED Koleji  
Öğretmenlerinin katkılarıyla  
hazırlanmıştır. Emegi geçen  
herkese teşekkür ederiz.**

# TÜRKÇE

## Deneme Sınavı 3

Bu sınav 20 soru içermektedir.  
Tavsiye edilen süre 40 dakikadır.

# 8.

## Sınıf

Adı : .....  
Soyadı : .....  
Sınıfı : .....  
No : .....

1. (I) Kişi, karşısında duran bir ağaca baktı mı, yanındakilerin de onu kendisi gibi gördüğünü sanır, oysa iş, hiç de öyle değildir. (II) Çünkü her kişi, baktığı nesne ya da varlıkta farklı şeyler görür, farklı şeyler algılar. (III) Aynı doğa parçası karşısında ressamların yaptığı resimlerde hiçbir benzerlik bulunmaması bundandır. (IV) Ressam ve romancının ikisi de iyi bir eğitimden geçer.

**Paragrafta akışı bozan cümle hangisidir?**

- A) IV B) III.  
C) II. D) I.

2. Aşağıdakilerden hangisi bir paragrafın giriş cümlesi olmaya daha uygundur?

- A) Şiirin değerini belirleyen temel öge, seçilen konudur.  
B) Çünkü ders kitapları genellikle bilgi kazandıran ve düşünceyi terbiyeye hizmet eden kitaplardır.  
C) İzlenimciliğin başarısı ise yalnızca ona bağlıdır.  
D) Daha acısı bu yanılgı bugüne kadar sürüp gidiyor.

3. Yakın arkadaşlarımıza, eşimize, çocuklarımıza duruşumuz ya da bakışımızla düşündüklerimizi hissettirmeye çalışırız. Büyük çoğunlukla onlar da bu mesajları alır, düşünce ve duygumuzu anlarlar. İletişim kurduğumuz kişilerle kültürümüzdeki ortak özellikler ne ölçüde fazlaysa birbirimizin beden dilini anlamamız da o kadar kolaylaşır.

**Paragrafa göre insanların beden diliyle anlaşabilmelerinin koşulu nedir?**

- A) Aynı duyguları paylaşmaları  
B) Ortak kültür değerine sahip olmaları  
C) Birbirine saygılı davranmaları  
D) Ortak zevklerden yararlanmaları

4. Hoşgörü, kasıtlı yapılmamış yanlışlık içindir. Bilerek yapılan kötülüğü bağışlamak, hoşgörü ile karşılamak kötülüğe hak vermek olur. Yunus Emre : "Yaratılanı sev yaratandan ötürü ". derse de insanoğlunun gücü olağanüstü olmadığından hoşgörüyle bile topluma karşı sorumlu olur.

**Bu parçada yazar, düşünceyi geliştirme yollarından hangisine başvurmuştur?**

- A) Örnekleme B) Betimleme  
C) Tanık gösterme D) Öyküleme

5. Kutup bölgelerinde ya da dağ başlarında bulunan büyük kar ve buz kütlelerine buzul denir. Buzullar iklim koşullarına göre hareket eder. Soğuk dönemlerde vadilere kadar inen buzullar, sıcak dönemlerde dağların eteklerine kadar çekilir. Bu hareketler sırasında, zeminden kopardıkları küçük taş parçalarını da taşır. Bu parçaların birikmesiyle oluşan şekillere "moren" adı verilir.

**Bu parçada buzullarla ilgili olarak aşağıdakilerden hangisine değinilmemiştir?**

- A) Nerelerde görülebileceğine  
B) Hangi koşullardan etkilendiğine  
C) Ne zaman vadilere kadar indiğine  
D) Türkiye 'de nerede rastlandığına

6. İnsanlığın gelişimi, değişimi kaçınılmazdır. Bu durum sanatın, uygarlığın, kültürün de değişimini doğurur. Değişen sanat ; toplumu etkiler, değiştirir, geliştirir.

**Bu paragrafı en iyi özetleyen cümle aşağıdakilerden hangisidir?**

- A) Her çağın özellikleri farklıdır.  
B) Sanatsal değişim süreklilik içindedir.  
C) İnsanlığın değişimi ile uygarlığın, sanatın gelişimi arasında sıkı bir ilişki vardır.  
D) İnsanlar zamanla değişiyorlar.

7. ----- Kendi yapmaz, yapamaz; kalkar başkalarının yaptıklarına karışır. İnceleyecek, yargılayacakmış; değerlisini bir yana ayıracak, değersizini bir yana; güzeli, kalıcıyı alacak; başarısız, geçiciyi atacak. Bilirmiş o, duymuş, sezermiş... Siz oturacaksınız uzun uzun çalışacak, aylarca, belki yıllarca didineceksiniz bir şiir ya da bir öykü yazacak, bir resim çizecek, bir yapıt ortaya koyacaksınız. Birde bakacaksınız ki eleştirmen, şöyle yukarıdan almış, buyurup duruyor sizin yapıtınız üzerine.

**Bu parçanın, aşağıdakilerden hangisi ile başlatılması uygun olur?**

- A) Ne anlaşılabilir biridir şu eleştirmen!
  - B) Eleştiri, yalnız gerçekleri ortaya koymak değildir.
  - C) Tarafsızlığını koruyamayan eleştirmen inandırıcılığını yitirir.
  - D) Hiçbir eleştirmen, zaman kadar başarılı değildir.
8. Ozan'ın ilk şiir kitabının bunca yıl ertelenmesinin nedeni gizlenmeyi seven bir kişiliğinin olmasından çok, yazdıklarını kolay kolay beğenmeyen, kusursuzu arayan biri olmasıydı sanıyorum.

**Kendisinden böyle söz edilen bir sanatçı aşağıdaki deyimlerden hangisiyle nitelendirilmelidir?**

- A) İğneyle kuyu kazan
  - B) İnce eleyip sık dokuyan
  - C) İşini sağlama bağlayan
  - D) İş başından aşkın olan
9. ----- güzel anlatışın niteliklerindendir. Gereksiz sözcükler, anlatımı uzatmakla kalmaz, anlamı da boğar. Güzel yazı ve şiirlerde gereksiz sözcükler birer pürüz gibi göze batar.

**Yukarıda boş bırakılan yere aşağıdakilerden hangisi getirilebilir?**

- A) Duruluk
- B) Özgünlük
- C) Özlülük
- D) Akıcılık

10. Edebiyatı, ne edebiyatla modayı birbirine karıştıran genç yazarlar ne de geçmişin bir noktasına saplanıp kalmış kafalar ortadan kaldırabilir.

**Yukarıdaki cümlede geçen "geçmişin bir noktasına saplanıp kalmak" sözüyle anlatılmak istenen aşağıdakilerden hangisidir?**

- A) Ulusal değerlerden yararlanmak
- B) Geçmişe önyargılı bakmak
- C) Evrensel olmayı başaramamak
- D) Tutucu olmak ve kendini yenilememek

11. "Ben gazetede ki köşemde roman eleştirileri yapmam. Zaten bu köşenin görevi de eleştiri değildir. Amacım, okuyucuya bazı günlük sorunları tanıtmak, bu sorunlar hakkında düşüncelerimi, derinliğe inmeden, kanıtlamaya kalkmadan söylemektir. Kısa, yoğun, günübirlik yazılardır bunlar." **diyen bir sanatçının özellikle hangi türde yazdığı söylenebilir?**

- A) Fıkra
- B) Mektup
- C) Deneme
- D) Makale

12. Bir heykel nasıl yapılır? Önce mermer bir kalıp alırsınız. Sonra onu oyarsınız, kesersiniz, biçersiniz, fazlalıkları atarsınız. Bir biçim çıkarırsınız. Yine atarsınız orasını burasını. Şiir de öykü de roman da öyledir. Ne kadar gereksiz yanı varsa çıkarmak gereklidir. "İki sözcükten en kısasını seçin ." der Flaubert. Ne kadar az, ne kadar öz, ne kadar yalın yazarsanız o kadar iyidir, o kadar gerçektir. Beş yüz altı yüz sayfalık kitapları yarıya indirin, çok daha güzel olur onlar. Sayfalar çoğaldıkça, yapıt önemini yitirir çünkü.
- Bu parçada anlatılmak istenen aşağıdakilerden hangisidir?**

- A) Flaubert 'in uzun yazmaktan çekindiği
- B) Sanatsal ürünlerin malzemesinin aynı olduğu
- C) Resimle edebiyat arasında benzerlik olduğu
- D) Sanat eserlerinin kısa ve özlü olması gerektiği

13. Bir kere sanatçının yaşantısı ile okuyucununki aynı olabilir mi? Unutmayalım ki sanatçının yapıtı oluştururken ki yaşantısı sadece bir duyguyu (sevinç, keder vb.) yaşamak değildir. Bunun yanı sıra yaratma sıkıntıları, zaman zaman yaptığını yetersiz bulmanın verdiği ümitsizlik bazen de teknik bir güçlüğü yenmenin verdiği keyif gibi okuyucuyla paylaşmadığı duygular vardır ki bunları sanatçının yaşamış olduğunu okur bilemez de.

**Aşağıdakilerden hangisi paragraftaki düşünceleri tamamlayan bir sonuç cümlesi olabilir?**

- A) Böylece sanatı, " sanatçının başkasını dile getirmesi " olarak tanımlayabiliriz.
- B) Bu görüşe göre bakılırsa yapıt, sanatçının yaşantısını okura aktaran bir araçtır.
- C) Bu bakımdan okur, sanatçısının yaşantısını aynen duyar demek yanlıştır; bir kısmını duyar demek daha doğrudur.
- D) Böylece kişi, sanat sayesinde başkalarının duygularını paylaşır ve yaşantısını zenginleştirmiş olur.

14. Sanatın amacı, kişinin düşüncesini, duyarlılığını geliştirmek; ona, dünyaya ve insanlara insanca bakma, sezme, kavrama gücü kazandırmaktır. Sanat ürünlerine ilgi duymayan, hayali işlemeyen, başkalarının acılarına, dertlerine ortak olmayan bir bilim adamı, bir yargıç, bir yönetici düşünelim; ne yararı olur bunların toplumlarına, insanlığa? İnsanın, insan sevgisiyle yoğrulmadığı toplumlarda bütün yönleriyle ilkelik egemen olmaz mı?

**Yukarıdaki parça için en uygun başlık aşağıdakilerden hangisi olabilir?**

- A) Sanat ve Düş Gücü
- B) Sanat ve İnsan
- C) Sanat ve Yaratıcılık
- D) Sanatın Gelişimi

15. **Hülya:** Bilgisayarımın şifresini içerisinde filimsi bulunan bir cümle yapmıştım, fakat şu an o cümleyi unuttum!

**Hülya bilgisayarını açması için aşağıdaki cümlelerden hangisini kullanmalıdır?**

- A) Şiir okuyuşuna herkes hayran kaldı.
- B) Ben işlerimi zamanında yaparım.
- C) Komşu komşunun külüne muhtaçtır.
- D) Kadın, çocuğunu merak ediyordu

16. **Aşağıdaki cümlelerin hangisinde, bir yazım yanlışı vardır?**

- A) Bazı durumlarda sabretmek gerekir.
- B) Onu gördükten sonra kendi durumuna şükretti.
- C) Azmetti; karşılaştığı bütün engelleri yenerek amacına ulaştı.
- D) Ardarda yaşadığımız sıkıntılar, doğruyla yanlışı ayırt etmemizi sağladı.

17. Gençlikte günler kısa ( ) yıllar uzun ( ) yaşlılıkta günler uzun ( ) yıllar kısadır ( )  
**Yukarıdaki cümleye sırasıyla hangi noktalama işaretleri getirilmelidir?**

- A) ( ) (:) ( ) (.)
- B) (;) ( ) (.) (.)
- C) ( ) (:) ( ) (.)
- D) ( ) (:) (...) (.)

18. O, sizin en yakın dostunuzdur.  
**Bu cümlelerin öge dizilişi aşağıdaki cümlelerden hangisinin öge dizilişi ile özdeşir?**

- A) Sen sağlığına dikkat etmelisin.
- B) Babam bu şehrin en iyi doktoruymuş.
- C) Küçük çocuk cebindekileri çıkardı.
- D) Tarık gelirken biletini düşürmüş.

19. **Aşağıdaki cümlelerin hangisinde geçişli bir fiilin geçişlilik derecesinin arttırılmasıyla oluşturulan bir fiil vardır?**

- A) Yavru kediler kendilerini çok sevdirdi.
- B) Zorluklar sizi yıldırmamalı.
- C) Çocukları geç saatte uyuttu.
- D) Öğrencilerini ders boyunca güldürmüş.

20. Oyuncaklardan uzak düştüğümüz çocukluğumuzda kar, başlı başına bir eğlence ve oyun kaynağıydı.

**Bu cümlelerin özellikleri aşağıdakilerin hangisinde doğru olarak verilmiştir.**

- A) Basit – devrik – olumlu – isim
- B) Birleşik – kurallı – olumlu – isim
- C) Sıralı – kurallı – olumlu – fiil
- D) Basit – kurallı – olumsuz – fiil

**TEST BİTTİ.**

# MATEMATİK

## Deneme Sınavı 3

Bu sınav 20 soru içermektedir.  
Tavsiye edilen süre 40 dakikadır.

# 8.

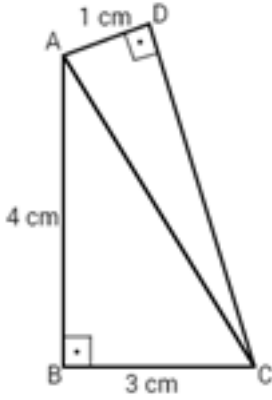
## Sınıf

Adı : .....  
Soyadı: .....  
Sınıfı : .....  
No : .....

1. Aşağıda verilen ifadelerden hangisi özdeşlik değildir?

- A)  $2.(x+5)=10+2x$   
B)  $-3.(7x-2)=6-21x$   
C)  $(x+5).(x-8)=x^2-3x-40$   
D)  $(x-3).(x+7)=x^2-4x-21$

2.



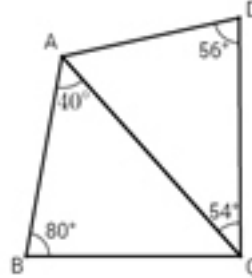
Şekildeki ABCD dörtgeninde  $[AB] \perp [BC]$  ve  $[AD] \perp [DC]$  ise  $|DC|$  kaç cm dir?

- A)  $2\sqrt{3}$  B) 3 C)  $2\sqrt{6}$  D) 4

3. Kenar uzunlukları tam sayı ve çevresi 20 cm olan üçgenin bir kenarının uzunluğu en fazla kaç cm olabilir?

- A) 9 B) 10 C) 11 D) 12

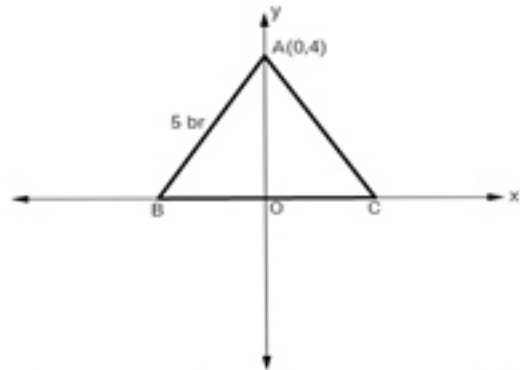
4.



Şekilde verilenlere göre en uzun kenar aşağıdakilerden hangisidir?

- A)  $[AC]$  B)  $[DC]$  C)  $[AB]$  D)  $[AD]$

5.

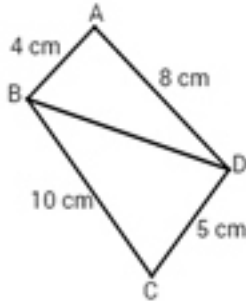


Yukarıda verilen koordinat sisteminde  $|AB|=|AC|$  ise  $ABC$  üçgeninin alanı kaç  $br^2$  dir?

- A) 6 B) 12 C) 20 D) 24



6.



Şekildeki ABCD dörtgeninde  $|BD|$  nin alabileceği kaç farklı tam sayı değeri vardır?

- A) 4      B) 5      C) 6      D) 7

7.

I.  $\angle A = 40^\circ$

II.  $\angle B = 60^\circ$

III.  $|AC| = 8$  cm

IV.  $|AB| = 10$  cm

V.  $\angle C = 80^\circ$

Yukarıda verilen bilgilerden hangi üçü ile belirli bir üçgen çizilemez?

- A) I, II ve IV      B) I, III ve V  
C) I, III ve IV      D) I, II ve V

8.

$A(3,4)$ ,  $B(2,-3)$ ,  $C(4,5)$  ve  $D(-4,-2)$  noktaları koordinat sisteminde  $x$  eksenı boyunca 2 br sola,  $y$  eksenı boyunca 3 br yukarı öteleniyor. Oluşan noktaların koordinatlarının toplamı kaçtır?

- A) 12      B) 13      C) 14      D) 15

9.

$EKOK(3,4,5) - EBOB(3,4,5)$  işleminin sonucu kaçtır?

- A) 61      B) 60      C) 59      D) 58

10.

$$\frac{\sqrt{20} + \sqrt{20} + \sqrt{20}}{\sqrt{5} \cdot \sqrt{5} \cdot \sqrt{5}}$$

işleminin sonucu kaçtır?

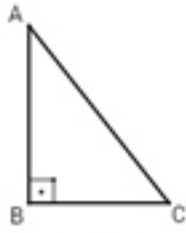
- A)  $\frac{\sqrt{5}}{5}$       B)  $\frac{\sqrt{2}}{5}$       C)  $\frac{6}{5}$       D) 1

11.

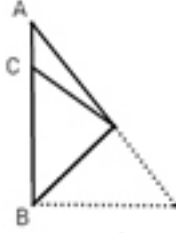
$\sqrt{0,49} - (\sqrt{0,25} - \sqrt{1,21})$  işleminin sonucu kaçtır?

- A) 0,1      B) 0,9      C) 1,1      D) 1,3

12.



I.ŞEKİL



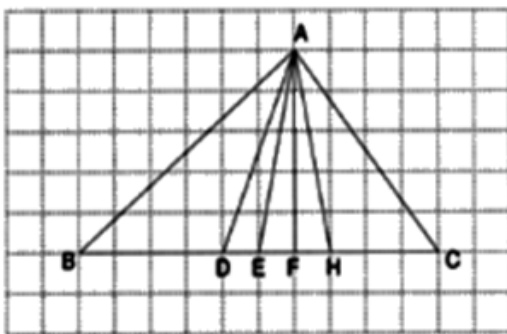
II.ŞEKİL

I.Şekilde bulunan dik üçgen şeklindeki bir kağıt, BC kenarı BA kenarı üzerine gelecek şekilde katlanıyor.

Buna göre; ABC üçgeninin açı ölçülerinin küçükten büyüğe doğru sıralanışı aşağıdakilerden hangisidir?

- A)  $\angle C < \angle B < \angle A$
- B)  $\angle C < \angle A < \angle B$
- C)  $\angle A < \angle C < \angle B$
- D)  $\angle A < \angle B < \angle C$

13.



Aşağıda verilen doğru parçalarından hangisi şekildeki ABC üçgeninin [BC] kenarına alt kenarortaydır?

- A) [AD]    B) [AE]    C) [AF]    D) [AH]

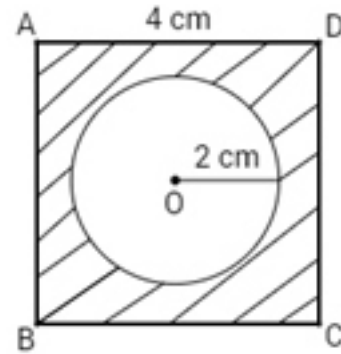
14. Aşağıdakilerden hangisi 0'dan küçük -1'den büyüktür?

- A)  $7^{-2}$     B)  $(-7)^{-2}$
- C)  $(-7)^{-3}$     D)  $(-7)^3$

15. Çift zar atıldığında üst yüze gelen sayıların toplamının 6'dan küçük asal sayı olma olasılığı kaçtır?

- A)  $\frac{7}{36}$     B)  $\frac{5}{36}$     C)  $\frac{1}{6}$     D)  $\frac{1}{4}$

16.



Yukarıdaki atış tahtasına yapılan atış ABCD karesinin iç bölgesine isabet etmiştir. Bu atışın taralı bölgeye isabet etme olasılığı kaçtır?

( $\pi=3$ )

- A)  $\frac{1}{4}$     B)  $\frac{1}{3}$     C)  $\frac{1}{5}$     D)  $\frac{1}{2}$



17. Tanesi  $(9x+5)$  TL olan kalemlerden  $(9x-5)$  tane alan Can toplam kaç TL öder?

- A)  $9x^2 - 25$   
 B)  $81x^2 - 25$   
 C)  $81x^2 - 45x - 25$   
 D)  $81x^2 - 90x - 25$

18. Aşağıdakilerden hangisi  $4x^2 - 12x + 9$  ifadesinin çarpanlara ayrılmış halidir?

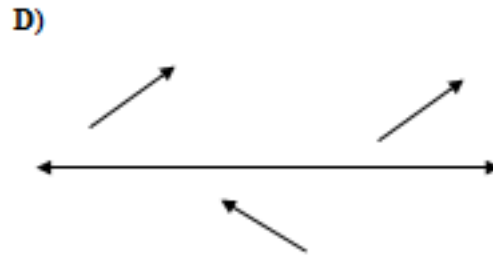
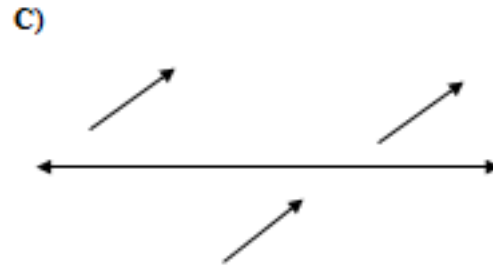
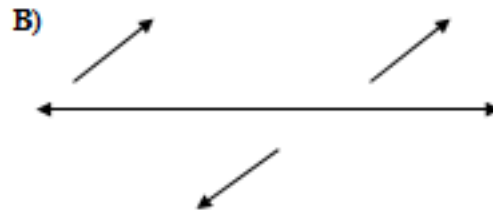
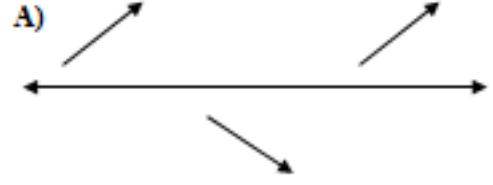
- A)  $(2x - 3)^2$   
 B)  $(2x + 3)^2$   
 C)  $(2x + 3) \cdot (2x - 3)$   
 D)  $(3x + 2) \cdot (3x - 2)$

19. Düzlemde  $A(5, -3)$  noktasının x-eksenine göre yansıması altındaki görüntüsü orijin etrafında saat yönünde  $90^\circ$  döndürülüyor.

Buna göre, oluşan görüntünün koordinatı aşağıdakilerden hangisidir?

- A)  $(-3, 5)$                       B)  $(3, 5)$   
 C)  $(-3, -5)$                       D)  $(3, -5)$

20. Aşağıdakilerin hangisi ötelemeli yansıma örnektir?



TEST BİTTİ.

1. Aşağıda verilen tanımlardan hangisi “kaza ve kader” kapsamında yanlış bir bilgidir?
- A) Kader ve kaza islamın şartlarındandır.  
B) Müslümanlar kaza ve kadere iman ederler.  
C) Yüce Allah'ın evrene koyduğu ölçü ve düzene kader denir.  
D) Cenab-ı Hakk'ın ezelde irade ettiği ve takdir buyurduğunun gerçekleşmesine kaza denir.
2. ”Onlar, gökler ve yer durdukça arada ebedi olarak kalacaklardır.Ancak Rabb'inin dilemesi başka.Şüphesiz Rabb'in istediğini yapandır. ”  
(Hud süresi 107. Ayet)

Yukarıda verilen ayette altı çizili cümleler ile ilişkili olarak Allah'ın hangi sıfatına değinilmek istenmiştir?

- A) Külli irade      B) Cüz-i irade  
C) Akıl              D) İman
3. Ecel de ömür de Allah'ın ..... ettiği konulardır. Allah her canlının ne kadar yaşayacağını ne zaman öleceğini .....denilen kavramla belirlemiştir.

Yukarıdaki tanımda noktalı yerlere sırasıyla aşağıdakilerden hangisi getirilmelidir?

- A) kader-takdir      B) irade-ömür  
C) takdir-kader      D) kaza-kader
4. Aşağıdaki ayetlerden hangisi “tevekkül” kavramıyla ilişkilendirilebilir?
- A) Namaz kılınca artık yeryüzüne dağılın ve Allah'ın lütfundan isteyin. **(Cuma süresi 10.ayet)**  
B) Kim iyi bir iş yaparsa yaparsa kendi yararına, kim kötü bir iş yaparsa kendi zararınadır. **(Fussilet süresi 46.ayet )**  
C) Allah her şahsı ancak gücünün ölçüsünde sorumlu kılar. **(Bakara süresi 286.ayet)**  
D) Kararını verdiğin zamanda artık Allah'a

5. Aşağıdakilerden hangisi biyolojik yasa ile ilgilidir?
- A) Biyolojik yasalar evrenseldir.  
B) Biyolojik yasalarda canlıların üreyip çoğalması belli kurallara göre gerçekleşir.  
C) Biyolojik yasalar kişinin çevresiyle uyum içerisinde yaşamasını sağlar.  
D) Biyolojik yasaların diğer adı Sünnetullah'tır.
6. Ayet'el Kürsi ile ilgili verilenlerden hangisi yanlıştır?
- A) Bakara suresinin 255. Ayetidir.  
B) Sure içinde geçen “Kürsi”, Allah'ın makamı demektir.  
C) Allah'ın her şeyi bildiğine ve yönettiğine değinilmiştir.  
D) Toplam beş ayetten oluşur.
7. “Gökleri yedi kat yaratan o'dur. Rahman'ın yaratmasında bir düzensizlik göremezsin. Gözünü çevir de bir bak. Bir bozukluk görüyor musun?”

Yukarıda verilen ayette asıl vurgulanmak istenen aşağıdakilerden hangisidir?

- A) Evrenin düzenli yaratılışına dikkat çekmiştir.  
B) Allah'ın sonsuz iradesi ve kudreti anlatılmak istenmektedir.  
C) Evrende yaratılan her şeyin bir sonu olduğuna değinilmiştir.  
D) Canlıların belirli bir düzen içerisinde yaratıldıkları söylenmiştir.
8. Aşağıda verilenlerden hangisinin zekat oranı diğerlerinden farklıdır?
- A) Altın-gümüş      B) Gayri menkuller  
C) Küçük baş hayvanlar      D) Toprak ürünleri

# DİN KÜLTÜRÜ VE AHLAK BİLGİSİ

9. Hangisi kişinin hayattayken yaptığı ve ölümünden sonra hanesine sevap yazılmaya devam ettiği bir ibadettir?

- A) Sadaka-ı cariye
- B) Fıtr sadakası
- C) Hac ibadetini yerine getirmesi
- D) Zekatını belirli ölçüde vermesi

10. Aşağıdakilerden hangisine zekat verilmez?

- A) Dedeye
- B) Amcaya
- C) Teyzeye
- D) Kuzene

11. Aşağıdakilerden hangisi İslam dininde hem mal hem beden ile yapılan ibadettir?

- A) Kurban
- B) Hac
- C) Namaz
- D) Zekat

12. İslam dininin kurban kesmeyi emretmesindeki amaç nedir?

- A) Kurban ibadetinin dini yükümlülüğünün olması
- B) İnsanların et yemelerini sağlamak
- C) İnsanlar arasındaki yardımlaşmayı sağlamak
- D) Her müslümanın kurban kesmesinin farz olması

13. Ayşe'nin babası ihtiyaçlarını karşılayacak miktarın dışında 8.000 lira parası olduğunu ve bunun zekatını vermek istediğini söyledi. Ayşe bunun hesabını yapmak istediğine göre babasına söyleyeceği miktar aşağıdakilerden hangisidir?

- A) 180
- B) 220
- C) 2000
- D) 200

14. Aşağıdakilerden hangisi Umre'de yapılması farz olan ibadetlerden biri değildir?

- A) İhrama girmek
- B) Vakfe yapmak
- C) Sa'y yapmak
- D) Tavaf yapmak

15. Taassup, bir inanca, bir düşünceye körü körüne bağlanmaktır.

Bu tanıma göre taassubun ana nedeni aşağıdakilerden hangisidir?

- A) Yalnızlık
- B) Dindarlık
- C) Bilgisizlik
- D) Sevgisizlik

16. Kuran-ı Kerim'e göre bilgi edinme yolları aşağıdakilerden hangisi değildir?

- A) Akıl
- B) Duyular
- C) Tahmin
- D) Vahiy

17. "Mal mülk ve çoluk-çocuk, dünya hayatının süsüdür; ölümsüz olan iyi işler (kalıcı olan erdemli davranışlar) ise Rabb'inin nezdinde hem sevapça hem de ümit bağlamaya daha layıktır."(Kehf süresi 46.ayet)

Yukarıda verilen ayette asıl vurgulanmak istenen nedir?

- A) Hayatta yapılan iyiliklerin en güzeli genç yaşta yapılanlardır.
- B) İnsanlara iyilik yapanların ömrü daha uzun olur
- C) İyilik ve yardımlaşmanın etkisi kalıcıdır
- D) Yardım ederken akrabaya öncelik verilmelidir.

18. Aşağıdaki Hadislerden hangisi çalışmayı sevmek ve zamanı iyi kullanmak ile ilgili değildir?

- A) "Güneşi sağ elime, Ay'ı da sol elime verseler yine de yolumdan dönmem."
- B) "Elinizde bir ağaç fidanı varsa, kıyamet kopmaya başlasa bile, eğer onu dikecek kadar zamanınız varsa mutlaka dikiin."
- C) "Sizden biriniz bir iş yaptığı zaman, onu en güzel şekilde yapsın."
- D) "Rabbim, halkımı bağışla. Onlar ne yaptıklarının farkında değiller."

# DİN KÜLTÜRÜ VE AHLAK BİLGİSİ

19. Aşağıdakilerden hangisi zekat ile ilgili yanlış bir bilgi içermektedir?
- A) Zekat toplumda ekonomik dengesizlikleri azaltır.
  - B) Zekat devlete ödenen vergi yerine geçer.
  - C) Zekat, mal ve paranın yüzde 2,5 oranında verilir.
  - D) Zekat, toplumsal dayanışmaya katkı sağlar.
20. Umre ile ilgili aşağıdaki bilgilerden hangisi doğrudur?
- A) Kurban bayramında gitmek gerekir.
  - B) Umrenin şartları İhram, Tavaf ve Sa'y dır.
  - C) Umre farz olan bir ibadettir.
  - D) Umrede kurban kesmek farzdır.

**TEST BİTTİ.**

HATAY İL MİLLİ EĞİTİM MÜDÜRLÜĞÜ DENEME SINAVI