

7.SINIF 2. DÖNEM SOSYAL BİLGİLER DENEME SINAVI

Adı Soyadı :

Sınıf : 7/.....

No. :

1. Küresel ısınma dünyamızın geleceği için çok büyük bir tehlike oluşturmaktadır. Aşırı ısınması nedeni ile buzullar eritmekte, buzullar üzerinde yaşayan canlıların yaşam alanları giderek azalmaktadır. Ayrıca erime bu hızla devam ederse dünyanın birçok bölgesinin sular altında kalacağı öngörülmektedir.

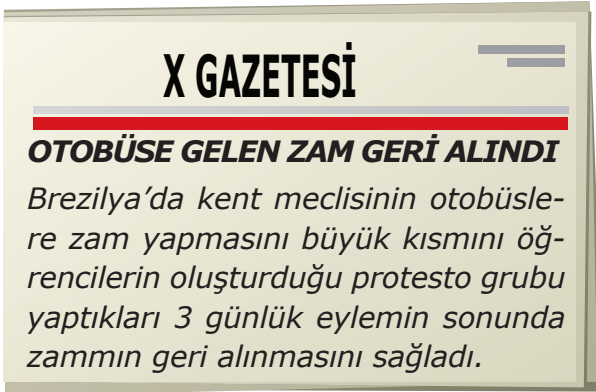
Buna göre;

- I. Küresel ısınma, gezegenimizi geri dönüşü olmayan bir noktaya sürüklemektedir.
II. Çevresel sorunların etkileri sadece insanlar üzerinde olmamaktadır.
III. İklim değişiklikleri nedeni ile tarımsal üretimin düşme ihtimali vardır.

Çıkarımlarının hangisi ya da hangileri yapılabilir?

- A. Yalnız I
B. I ve II
C. Yalnız III
D. II ve III

2.



Verilen gazete haberi aşağıdakilerden hangisine kanıt olarak gösterilebilir?

- A. Brezilya'da toplu taşıma ücretleri ülkemizden pahalıdır.
B. Bireyler yöneticilerin karar alma süreçlerini etkiler.
C. Brezilya'da vatandaşlara çok geniş haklar verilmiştir.
D. Ulaşım araçlarına zam yapılmasına herkes karşı çıkar.

3. Aşağıdaki tabloda I. Dünya Savaşı'nda yer alan devletler ve hedefleri belirtilmiştir.

	Ülke Adı	Beklentileri
I	İngiltere	En büyük sömürgeci devlet olarak sömürgelerimize giden yolu ve sömürge topraklarımızı Almanya'ya karşı korumalıyız.
II	Fransa	Osmanlı toprakları içindeki azınlıklara hak verilmesi gerektiği bahanesiyle onların iç işlerine karışmalıyız.
III	Almanya	Balkan hâkimiyeti için Avusturya-Macaristan ile mücadele ediyoruz. Boğazların bizim olması gerektiğini düşünüyoruz.
IV	Rusya	Osmanlı ile olan yakınlığımız İtilaf Devletleri'nin hoşuna gitmiyor. Osmanlı'nın jeopolitik konumundan ve halifeliğin gücü sayesinde savaşta kârlı çıkan taraf olmak istiyoruz.

Yukarıdaki tablonun doğru olabilmesi için hangi iki beklentinin yeri değiştirilmelidir?

- A. I ve II
B. II ve III
C. II ve III
D. III ve IV

4. Bu cephede İtilaf Devletleri başarıya ulaşır-sa Rusya'ya yardım götürecektir ve böylece Rusya'yı savaşın içinde tutacaktı. Ayrıca İstanbul ve boğazları ele geçirecek Osmanlı'yı savaşın dışına itecekti.

Yukarıda özellikleri anlatılan I. Dünya Savaşı cephesinin adı hangi seçenekte doğru olarak verilmiştir?

- A. Kafkasya Cephesi
B. Çanakkale Cephesi
C. Suriye - Filistin Cephesi
D. Irak Cephesi

5. I. Dünya Savaşı'nın sonuçları:

1. İmparatorluklar yıkıldı.
2. Milliyetçilik ilkesine uygun olarak yeni millî devletler kuruldu.
3. Yenilen devletlerle ağır şartlar içeren anlaşmalar yapıldı.

Yukarıdakilerden hangisi ya da hangileri siyasi sonuçlardır?

- A. Yalnız 2
B. 1 ve 2
C. 2 ve 3
D. 1, 2 ve 3

6. Kanunlara uymak, vergi vermek, askere gitmek, oy kullanmak vatandaşların en temel sorumlulukları arasında yer alır.

Bu sorumluluklar;

- I. Ekonomik,
II. Siyasi,
III. Güvenlik,
IV. Hukuki

alanlarının hangileri ile ilgili ilişkilendirilebilir?

- A. I, II ve III
B. I, III ve IV
C. II, III ve IV
D. I, II, III ve IV

7. Anayasamıza göre egemenliğin sahibi Türk milletidir. Millet, egemenlik hakkını anayasanın koyduğu esaslara uygun olarak çeşitli kurumlarda kullanır. Türkiye Cumhuriyeti Devleti'nde,I.....yetkisi TBMM,II..... yetkisi hükûmet, ...III... yetkisi ise bağımsız mahkemeler tarafından yapılır.

Yukarıda boş bırakılan yerlere yazılması gereken kavramlar hangi seçenekte doğru olarak verilmiştir?

	I	II	III
A.	Yasama	Yargı	Yürütme
B.	Yürütme	Yasama	Yargı
C.	Yasama	Yürütme	Yargı
D.	Yargı	Yürütme	Yasama

8.



Osmanlı Devleti'nde fakirler aç kalmaz, muhtaçlar koruma altına alınır, sağlık ve eğitim kuruluşlarından ücretsiz yararlanırdı. Bu hizmetler için devlet bütçesinden para çıkmazdı.

Bu durum Osmanlı'da aşağıdakilerden hangisinin geliştiğini gösterir?

- A. Vakıf anlayışının
B. Merkezî yapının
C. İskân politikasının
D. Adaletin

9.



Ben bir tımarlı sipahiyim. Tımar arazimi üç yıl üst üste boş bırakırsam bu topraklar elimden alınarak başkalarına verilir.

Osmanlı Devleti'nde yukarıdaki gibi bir uygulama ile;

- I. Üretimin sürekliliğini sağlamak,
II. Fetihlerin durmadan devam etmesine yardımcı olmak,
III. Devletin gelir kaybına uğramasını engellemek

amaçlarının hangisine ya da hangilerine ulaşmak istenmiştir?

- A. Yalnız I
B. I ve II
C. I ve III
D. II ve III

10.

OSMANLI TOPRAK SİSTEMİ

Has Topraklar	Zeamet Topraklar	Tımar Topraklar
Padişaha, hanedana, vezirlere, üst düzey yöneticilere verildi.	Defterdar, alay beyleri ve divan katiplerine verildi.	Devlet hizmetindeki komutan, asker ve memurlara verildi.

Bu bilgilerden yola çıkılarak;

- I. Topraklar mevki ve makamlara göre pay edilmiştir.
II. Topraklar devlet hizmetinde bulunma karşılığında verilmiştir.
III. Toprak sahiplerinin her yıl belli sayıda asker yetiştirme zorunluluğu bulunmaktadır.

çıkarımlarının hangisi ya da hangileri yapılabilir?

- A. Yalnız III
B. I ve II
C. I ve III
D. II ve III

11.

Coğrafi Keşifler sonucunda yeni yolların ve limanların keşfedilmesi ile Osmanlıların elinde bulunan İpek ve Baharat yolları önemini kaybetti. Keşiflerle birlikte Avrupa'da altın ve gümüş gibi madenlerin artması, Osmanlı'daki akçenin önemini yitirmesine neden oldu. İpek ve Baharat yollarından elde edilen gümrük vergileri de düştü.

Yukarıdaki metinde Coğrafi Keşifler'in Osmanlı Devleti'ne hangi alanda yaptığı etkilerinden söz edilmektedir?

- A. Siyasi B. Kültürel
C. Ekonomik D. Askerî

12. Sanayi İnkılabı ile;

- İnsan ve hayvan gücüne dayalı üretimin yerini sanayi ve makine gücü almıştır.
- Atölyelerin yerine fabrikalar kurulmuştur.

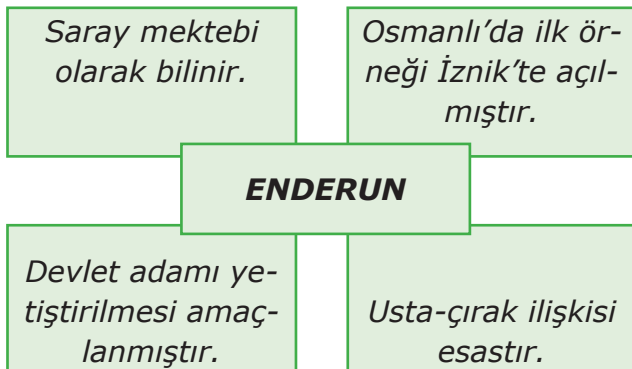
Yukarıdaki gelişmelere bağlı olarak;

- I. Üretim artışı olması,
II. Ham madde ihtiyacının ortadan kalkması,
III. Ülkeler arası ticaretin gelişmesi

durumlarının hangisi ya da hangilerinin ortaya çıkması beklenir?

- A. Yalnız I B. I ve II
C. II ve III D. I ve III

13.



Şemada verilen bilgilerden kaç tanesi Osmanlı eğitim kurumlarından olan "Enderun" ile ilgilidir?

- A. 1 B. 2 C. 3 D. 4

14. Çağlar boyunca toplumlar arasında bilgi alışverişi olmuştur.

Yukarıda anlatılanlara örnek olarak;

- I. Miladi takvimin gelişiminde Mısır ve Roma medeniyetlerinin katkısının bulunması
II. Anadolu'ya yazıyı ticaret sayesinde Asurluların getirmesi
III. Doğu medeniyetlerinin icadı olan Pusula ve matbaanın Haçlı Seferleri ile birlikte Avrupa'ya taşınması

durumlarının hangileri gösterilebilir?

- A. I ve II B. II ve III
C. I, II ve III D. I ve III

15.

(I) Tarihî çağlar Sümerlilerin çivi yazısını bulması ile başlamıştır. (II) Tekerleğin icadı ile birçok şey kolay taşınır hâle gelmiştir. (III) Lidyalılar parayı icat ederek ticarete takas usulünü ortadan kaldırmıştır. (IV) Çinliler matbaayı bularak yazılı metinlerin basımını kolaylaştırmıştır.

Yukarıdaki icatlar ve ait oldukları alan eşleşmelerinden hangisi yanlıştır?

- A. I. Kültür B. II. Ulaşım
C. III. Ekonomi D. IV. Sanat

16. - Osmanlı mehter takımının yaptığı müzik birçok Avrupalı bestekâra ilham kaynağı olmuştur.

- Avrupalı zengin ailelerin duvarlarını Osmanlı motifleri ile bezenmiş Türk halıları süslemiştir.

Bu bilgilere dayanarak;

- I. Avrupalılar Türklerden halı ve kilim dokumayı öğrenmişlerdir.
II. Avrupalılar Türklerin kültürel unsurlarına ilgi duymuşlardır.
III. Türk müziği Avrupalılara esin kaynağı olmuştur.

yorumlarından hangisi veya hangilerine ulaşılabilir?

- A. Yalnız I B. Yalnız II
C. I ve II D. II ve III

17. Osmanlı Donanması Ruslar tarafından;

1770'te Çeşme,
1827'de Navarin,
1853'te ise Sinop'ta yakılmıştır.

Yukarıdaki anlatıma bakılarak Osmanlı Devleti hakkında;

- I. Çeşitli dönemlerde deniz gücü açısından kayba uğradığı,
- II. Denizlerde güvenliği sağlama konusunda sorun yaşadığı,
- III. Denizlerdeki hâkimiyet için sadece Rusya ile mücadele ettiği

sonuçlarının hangisi ya da hangilerine ulaşamaz?

- A. Yalnız III
- B. Yalnız II
- C. Yalnız I
- D. I ve III

18. Yavuz Sultan Selim döneminde Memlûklülere, yapılan Mercidabık ve Ridaniye savaşları ile son verilmiş, Mısır ve Suriye toprakları Osmanlı Devleti'nin kontrolüne girmiştir. Halifelik Osmanlı Devleti'ne geçmiş, "Kutsal Emanetler" İstanbul'a getirilmiştir.

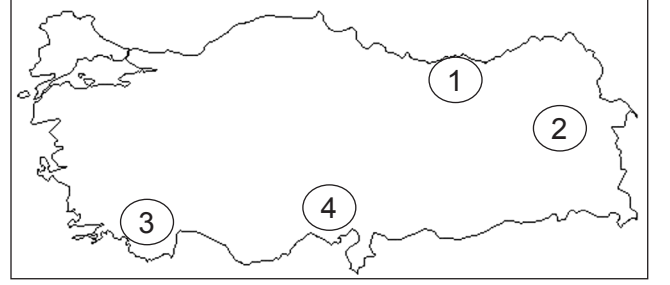
Yukarıdaki anlatıma bakılarak Osmanlı Devleti'nin Memlûk Seferi sonucunda;

- I. Ekonomik,
- II. Dinî,
- III. Sınırların genişlemesi,
- IV. Askerî

alanların hangisinde kazanım elde ettiği söylenebilir?

- A. I ve II
- B. I ve III
- C. II ve III
- D. II, III ve IV

19.



Harita üzerinde işaretli alanlardan hangisi nüfusu mevsimlik olarak artan yerleşim yerlerine örnek olamaz?

- A. 1
- B. 2
- C. 3
- D. 4

20. Kişilere karşı olumlu yaklaşım tarzı sergileme, anlaşılır bir şekilde konuşma, beden dilini kullanma, empati kurabilme, ön yargılı olmama gibi özellikler iletişimin olumlu kurulmasını sağlar. Bunun yanında yargılayıcı ve emredici tarzda konuşma, karşısındakini dikkatle dinlememe, insanlar ile göz teması kurmaktan kaçınma gibi durumlar ise iletişimi engelleyen unsurlardır.

Yukarıdaki metne bakılarak;

- I. İletişimi olumlu ve olumsuz yönde etkileyen birçok unsur bulunmaktadır.
- II. Kişinin karşısındaki insanı anlamaya çalışması iletişimin olumlu yönde devam etmesine zemin hazırlar.
- III. Kendini karşı tarafa anlatabilme iletişimde çok önemlidir.

çıkarımlarının hangisi ya da hangileri yapılabilir?

- A. I, II ve III
- B. Yalnız II
- C. I ve II
- D. Yalnız II