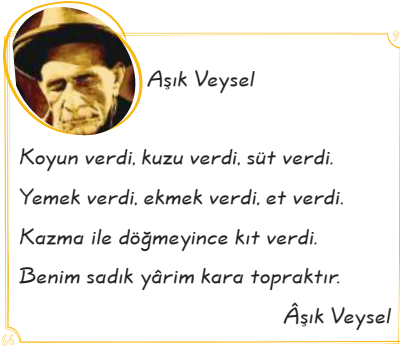


1.



**Aşık Veysel'in aşağıdakilerden hangisi üzerinde önemle durduğu söylenebilir?**

- A) Toprak B) Dostluk  
C) Hayvan D) Para

2.



**Verilen diyagramda "?" ile boş bırakılan yere aşağıdaki kuruluşlardan hangisi yazılmalıdır?**

- A) Türkiye İstatistik Kurumu  
B) Devlet Su İşleri Genel Müdürlüğü  
C) Enerji ve Tabii Kaynaklar Bakanlığı  
D) Ulaştırma Bakanlığı

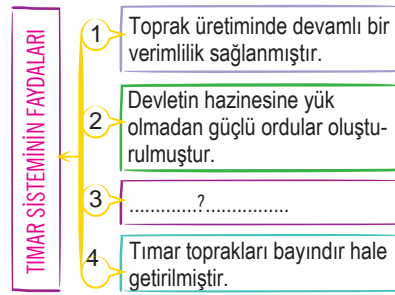
3.



**Buna göre, sosyal bilgiler öğretmeninin tahtaya yazdığı bilgilerde sembollerle gösterilen yerlere sırasıyla aşağıdakilerden hangisi yazılmalıdır?**

- | ▲         | ■      | ★      |
|-----------|--------|--------|
| A) Tımar  | Zeamet | Has    |
| B) Zeamet | Tımar  | Has    |
| C) Tımar  | Has    | Zeamet |
| D) Has    | Zeamet | Tımar  |

4.



**Bu diyagramda "?" ile boş bırakılan yere aşağıdakilerden hangisi yazılmalıdır?**

- A) Topraklarda yaşayan halkın güvenliği sağlanmıştır.  
B) Türkmenlerde paralı askerlik başlamıştır.  
C) Sınırların genişletilmesi kolaylaşmıştır.  
D) Azınlıkların isyan etmesi engellenmiştir.


5.

- Pazarlama
- Gübreleme
- Tohum alanı
- Makineleşme

**Yukarıda verilenlere aşağıdaki başlıklardan hangisi uygundur?**

- A) Tarımda verimliliği artırma yolları  
B) GAP'ın görevleri  
C) Toprak Mahsulleri Ofisinin görevleri  
D) İthalatı artırma yöntemleri

6.



**Diyagrama verilebilecek en uygun başlık aşağıdakilerden hangisidir?**

- A) Orta Çağ'da Keşfedilen Yollar  
B) Türklerin Egemenliği Altında Bulunan Önemli Ticaret Yolları  
C) Geçmişten Günümüze Dünya Ticaretinde Önem Kazanan Yollar  
D) Coğrafi Keşifler Sonucu Değer Kazanan Yollar

7.

- I. Reform - Almanya  
II. Rönesans - İspanya  
III. Sanayi İnkılabı - İngiltere

**Yukarıda verilen eşleştirmelerden hangileri doğrudur?**

- A) I - II B) I - III  
C) II - III D) I - II - III

8.

Orta Çağ'ın sonlarında Asya, Avrupa ve Kuzey Afrika'da yaşayan insanlar, Amerika, Avustralya ve Hint adalarının varlığından habersizdiler.

**Bu yerler aşağıdaki hangi gelişme sonucunda öğrenilmiş ve tanınmıştır?**

- A) Kavimler Göçü  
B) Sanayi İnkılabı  
C) Coğrafi Keşifler  
D) Rönesans Hareketleri

9.

- I. Sanayi İnkılabı  
II Coğrafi Keşifler  
III Rönesans hareketleri  
IV Reform hareketleri

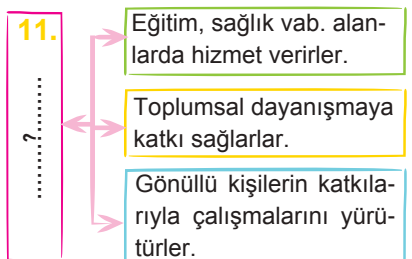
**Yukarıdaki gelişmelerden hangileri Osmanlı Devleti'nin ekonomisini doğrudan olumsuz yönde etkilemiştir?**

- A) I ve B) II ve I  
C) II ve D) III ve

**10. Aşağıdakilerden hangisi Sanayi İnkılabı'nın sonuçları arasında yer almaz?**

- A) Büyük şirketler kurulmuş ve sermayenin önemi artmıştır.  
B) Coğrafi Keşifler başlamıştır.  
C) Köyden kente göç başlamış, kent nüfusu artmıştır.  
D) Uluslararası ekonomik ve kültürel ilişkiler gelişmiştir.

11.



**Yukarıdaki diyagramda "?" ile gösterilen yere hangisi getirilmelidir?**

- A) Ahi teşkilatı B) Medreseler  
C) Vakıflar D) Devlet

12. Günümüzde vakıfların yönetim ve denetimi .....?..... tarafından yapılmaktadır. **Cümlede boş bırakılan yere aşağıdakilerden hangisi yazılmalıdır?**

- A) Diyanet İşleri Başkanlığı
- B) Vakıflar Genel Müdürlüğü
- C) Anayasa Mahkemesi
- D) Sosyal Güvenlik Kurumu

13. I. Karakter özelliklerimiz  
II. Kişisel becerilerimiz  
III. Arkadaşlarımızın görüşleri  
IV. İlgi alanlarımız

**Yukarıdakilerden hangisi meslek seçimi yaparken göz önüne almamız gereken durumlardan biri değildir?**

- A) B) C) I D)

14. I. Tarih ve Coğrafya seven bir öğrencinin Sosyal Bilimler Lisesine gitmesi  
II. Fen ve Matematik derslerini seven bir öğrencinin Fen Lisesine gitmesi  
III. Avukat ya da doktor olmak isteyen bir öğrencinin meslek lisesine gitmesi  
IV. El becerileri gelişmiş bir öğrencinin meslek lisesine yönelmesi

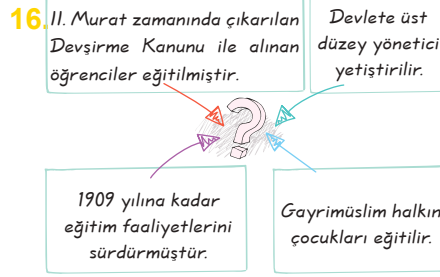
**Yukarıda verilen durumlardan hangisinde meslek seçimi için gerekli olan okulda yanlış tercih yapılmıştır?**

- A) B) C) I D)

Türk Devletleri	Yönetim Kurulu	Yönetim Şekli	Devlet Başkanı Ünvanı
İlk Türk Devletleri	Kurultay	★	Hakan
Müslüman Türk Devletleri	✿	Saltanat	Padişah
Türkiye Cumhuriyeti	TBMM	Cumhuriyet	♥

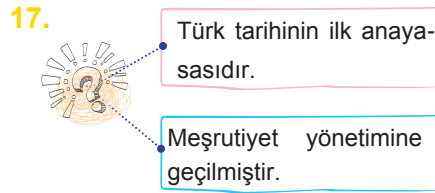
**Yukarıda verilen tabloda sembollerle boş bırakılan yerlere sırasıyla aşağıdakilerden hangisi yazılmalıdır?**

★	✿	♥
A) Monarşi	Divan	Cumhurbaşkanı
B) Divan	Monarşi	Cumhurbaşkanı
C) Cumhurbaşkanı	Divan	Monarşi
D) Cumhurbaşkanı	Monarşi	Divan



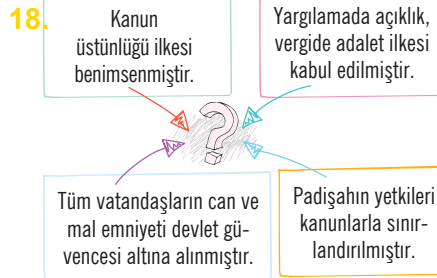
**Şemada boş bırakılan kutuya aşağıdakilerden hangisi yazılmalıdır?**

- A) Enderun mekte
- B) Lonca teşkilatı
- C) Yeniçeri Ocağı
- D) Tımar sistemi



**Şemada "?" ile gösterilen yere aşağıdakilerden hangisi yazılabilir?**

- A) Cumhuriyet
- B) Kanun-i Esasi
- C) Tanzimat Fermanı
- D) Saltanat



**Verilen şemada "?" ile gösterilen yere aşağıdakilerden hangisi yazılmalıdır?**

- A) Cumhuriyet
- B) Islahat Fermanı
- C) Tanzimat Fermanı
- D) Divan-ı Hümayun

20. Ahilik, birbirini seven, birbirine saygı duyan ve yardım eden, açın karnını doyuran, kimsesiz barındıran, işini ibadet aşkıyla yapan, din ve ahlak kurallarına son derece bağlı esnaf ve meslek edindirme teşkilatıdır.

**Anlatılanlara göre Ahilik ile ilgili:**

- I. kendine ait kuralları olduğu,
- II. devlete eleman yetiştirdiği,
- III. mesleğin yanında manevi yönünün de bulunduğu

**yargılarından hangilerine ulaşılabilir?**

- A) I ve B) I ve I
- C) II ve I D) I, II ve I

21. İlk Türk devletlerinde hükümdarlara devlet işlerinde yardımcı olmak üzere kurulan meclise .....?..... denir.

**Yukarıda verilen parçada "?" ile boş bırakılan yere aşağıdakilerden hangisi yazılmalıdır?**

- A) Ferman
- B) Kurultay
- C) Temsil Heyeti
- D) Divan-ı Hümayun



**Eşleştirme tablosunda "?" ile boş bırakılan yere aşağıdakilerden hangisi yazılmalıdır?**

- A) Meşrutiyet B) Islahat Fermanı
- C) Oligarşi D) Teokrasi

23. 15. yüzyıldan itibaren matbaa sayesinde çok sayıda kitabın basılması aşağıdakilerden hangisini sağlamıştır?

- A) İşçi ücretlerini artırmıştır.
- B) Skolastik düşünceye neden olmuştur.
- C) Bilgi ve düşünce alışverişini hızlandırmıştır.
- D) Coğrafi Keşiflerin yapılmasını sağlamıştır.

19. I. Kral Yolu  
II. Baharat Yolu  
III. İpek Yolu

**gibi ticaret yollarından hangileri Türkler tarafından kullanılmıştır?**

- A) Yalnız I B) I ve II
- C) I ve III D) II ve III

24. Cumhuriyetin kurulmasından bu yana ülke ekonomisinde tarım önemli bir yer edinmiş ve birçok kurum tarımı desteklemek için çalışmalar yapmıştır.

Buna göre aşağıdakilerden hangisi tarımı destekleyen kuruluşlardan biri değildir?

A)



B)



C)



D)



Ziraat Bankası

25. II. Mahmut döneminde,

- Divan teşkilatı kaldırılarak yerine bakanlıklar getirildi.
- Yeniçeri ocağı kaldırıldı.
- Avrupa'ya öğrenci gönderildi.

Buna göre aşağıdaki alanlardan hangisi ile ilgili ıslahat yapıldığı söylenemez?

A) Siyasi

B) Ekonomik

C) Eğitim

D) Askeri

26. Türk-İslam toplumlarında ibadete, eğitime, sağlığa ve kültürel etkinliklere yarayan birçok yapı ve kuruluş vakıf yoluyla oluşturulmuştur.

Yukarıda verilen bilgilere göre aşağıdaki yapılardan hangisinin vakıflar aracılığıyla yapıldığı söylenemez?

A) Hastane

B) Cami

C) Medrese

D) Köşk

27. I. İtfaiye bölüğünün kurulması  
II. İlk Türk matbaasının kurulması  
III. Kütüphanelerin açılması  
IV. Kumaş fabrikalarının kurulması

Lale Devrinde yapılmış yukarıdaki yeniliklerden hangileri kültürel alanla ilgilidir?

A) I ve

B) I ve III

C) II ve I

D) II ve IV

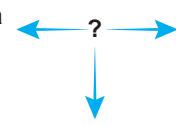
28. Osmanlı Devleti fethettiği yerlerde halka baskı yapmamış, gelenek, inanç ve yaşantı açısından halka tam bir özgürlük sağlamıştır.

- A) Ekonomisini güçlü tutmasına  
B) Devşirme sistemini uygulamasına  
C) Adaletli ve hoşgörülü olmasına  
D) Askeri güce önem vermesine

29. Aşağıdaki vakıf kuruluşlarından hangisinin gösterdiği faaliyet alanı yanlış eşleştirilmiştir?

Kuruluş	Faaliyet Alanı
A) Darüşşifa	Sağlık
B) Aşevi	Kültür
C) Medrese	Eğitim
D) Cami	Dini

Avrupa'da Avicenna olarak tanınır.



Yaptığı çalışmalarla adını tıp tarihine yazdırmıştır.

30. Tıp alanında yaptığı çalışmaları Kanun adlı kitabında toplamıştır.

Şemadaki “?” olan yere aşağıdakilerden hangisi getirilmelidir?

A) Biruni

B) Uluğbey

C) İbni Sina

D) Piri Reis

İsim		Tarih
Numara		Sınav

- A B C D ■
- 11 ○ ○ ○ ○
- 12 ○ ○ ○ ○
- 13 ○ ○ ○ ○
- 14 ○ ○ ○ ○
- 15 ○ ○ ○ ○
- 16 ○ ○ ○ ○
- 17 ○ ○ ○ ○
- 18 ○ ○ ○ ○
- 19 ○ ○ ○ ○
- 20 ○ ○ ○ ○

- A B C D ■
- 1 ○ ○ ○ ○
- 2 ○ ○ ○ ○
- 3 ○ ○ ○ ○
- 4 ○ ○ ○ ○
- 5 ○ ○ ○ ○
- 6 ○ ○ ○ ○
- 7 ○ ○ ○ ○
- 8 ○ ○ ○ ○
- 9 ○ ○ ○ ○
- 10 ○ ○ ○ ○
- 21 ○ ○ ○ ○
- 22 ○ ○ ○ ○
- 23 ○ ○ ○ ○
- 24 ○ ○ ○ ○
- 25 ○ ○ ○ ○
- 26 ○ ○ ○ ○
- 27 ○ ○ ○ ○
- 28 ○ ○ ○ ○
- 29 ○ ○ ○ ○
- 30 ○ ○ ○ ○

BAŞARILAR DİLERİM. ..