


SOSYAL BİLGİLER 6.SINIF 1.DÖNEM KONU TEKRAR TESTİ

1.



Arkadaşlar!
Türkiye fiziki haritasını
incelediğimde Bafra ve
Çarşamba ovalarının ye-
şil, Konya Ovası'nın ise
sarı renkle gösterildiğini
gördüm. Acaba bu fark-
lılığın nedeni ne olabilir?

Beril'in sorusunun doğru cevabı aşağıdakilerden hangisidir?

- A) Yükselti
B) İklim
C) Bitki örtüsü
D) Nüfus

2. **Can** : Türkiye'nin dağlarını, ovalarını, platolarını gös-
teren bir harita çizmem gerekiyor.

Damla : Ben de Türkiye'nin illerini ve idari sınırları-
nı gösteren bir harita çizeceğim.

**Buna göre, Can ve Damla'nın çizeceği haritala-
rın türleri sırasıyla aşağıdakilerden hangisi ol-
malıdır?**

- A) Siyasi - Ekonomik
B) Fiziki - Siyasi
C) Ekonomik - Fiziki
D) Beşeri - Siyasi

3. Ülkemizde görülen iklim olayları çeşitli faktörlere bağ-
lı olarak değişiklik gösterir. Örneğin İzmir, Rize, An-
talya gibi kentlerde görülen günlük sıcaklık farkları
Ankara, Diyarbakır, Kars gibi kentlerde görülen gün-
lük sıcaklık farklarından azdır.

**Buna göre, yukarıda verilen durum üzerinde, aşağı-
daki faktörlerden hangisi etkili olmuştur?**

- A) Denize göre konum
B) Ekvator'a uzaklık
C) Yükselti
D) Dağların uzanış doğrultusu

4.

Akdeniz İklimi		Karadeniz İklimi	
A.	En yağışlı mevsim kıştır.	E.	Nem oranı ve ya- ğış miktarı fazladır.
B.	Ahşap evler yaygın- dır.	F.	Bitki örtüsü orman- dır.
C.	Kar ve don olayına rastlanmaz	G.	Yazlar sıcak ve ku- rak geçer.
D.	Bitki örtüsü maki- dir.	H.	En yağışlı mevsim sonbahardır.

**Yukarıdaki tabloda verilen bilgilerden hangileri
yer değiştirirse tablo doğru olur?**

- A) A - H
B) B - G
C) C - E
D) D - F

5.

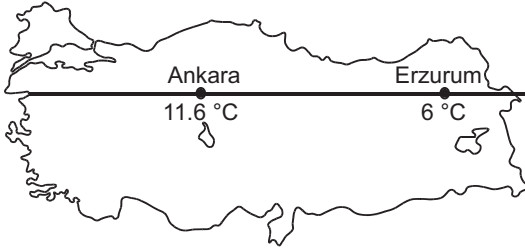


Ben Nil. Adımı iki çöl ara-
sında akan memleketimin
büyük ırmağı Nil'den alı-
yorum. Ülkemde egemen
olan iklim kurak çöl iklimi-
dir. Hurma ağaçları vaha-
larda sulak yerlerde yetişir.

**Buna göre, Nil'in yaşadığı ülkenin iklim özellik-
leriyle ilgili olarak aşağıdakilerden hangisine ula-
şamaz?**

- A) Yıllık yağış miktarı azdır.
B) Nem oranı oldukça düşüktür.
C) Bitki örtüsü kurakçıl çalılardır.
D) Günlük sıcaklık farkları azdır.

6.



Yukarıdaki Türkiye haritasında hemen hemen aynı paraleller üzerinde yer alan Ankara ve Erzurum'un yıllık sıcaklık ortalamaları verilmiştir.

Bu iki ilin sıcaklık ortalamalarının farklı olmasının nedeni aşağıdakilerden hangisidir?

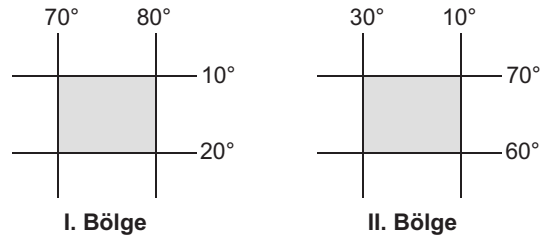
- A) Ankara'nın daha kuzeyde yer alması
- B) Erzurum'un deniz etkisine kapalı olması
- C) Ankara'nın Ekvator'a daha yakın olması
- D) Erzurum'un yükseltisinin daha fazla olması

7. Aşağıda çizgi ölçekler ve karşısında kesir ölçek açılımları verilmiştir.

Bu eşleştirmelerden hangisi yanlıştır?

- A) 1 cm → $\frac{1}{500.000}$
- B) 1 cm → $\frac{1}{800.000}$
- C) 1 cm → $\frac{1}{1.000.000}$
- D) 1 cm → $\frac{1}{1.500.000}$

8.

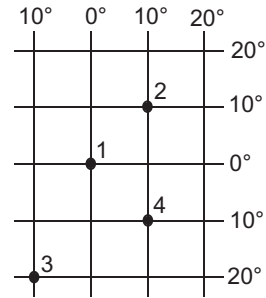


I. Bölge	II. Bölge
I. Güney Yarımküre'dedir.	a. Başmeridyen'in batısındadır.
II. Ekvator'a daha yakındır.	b. Kutuplara daha yakındır.
III. Başmeridyen'in doğusundadır.	c. Paralellerin boyları daha uzundur.
IV. İki meridyen arası mesafe daha azdır.	d. Ekvator'un kuzeyindedir.

Yukarıda matematik konumları verilen bölgelerle ilgili verilen bilgilerden hangileri yer değiştirirse tablo doğru olur?

- A) I - d
- B) II - b
- C) III - a
- D) IV - c

9.



Yukarıda verilen koordinat düzlemindeki işaretli noktalarla ilgili aşağıda verilenlerden hangisi yanlıştır?

- A) 1 numaralı nokta Ekvator'la Başlangıç Meridyeni'nin kesişim noktasında yer alır.
- B) 2 ve 3 numaralı noktalar arasındaki kuş uçuşu uzaklık 6660 km'dir.
- C) 2 ve 4 numaralı noktalarda yerel saat yıl boyunca aynıdır.
- D) 3 numaralı nokta 20° Güney ve 10° Batı Meridyeni'nin kesişim noktasında yer alır.

10.



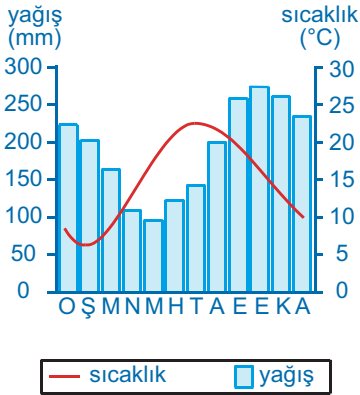
1. Aynı anda farklı iklim özelliklerinin yaşanması
2. İstanbul ve Çanakkale boğazlarına sahip olması
3. Kuzeye gidildikçe sıcaklıkların azalması
4. Üç tarafının denizlerle çevrili olması

Ecem, Türkiye'nin özel konumu ile ilgili bazı bilgiler vermiştir.

Buna göre Ecem'in verdiği bilgilerden hangisinin Türkiye'nin özel konumu ile ilgili olduğu söylenemez?

- A) 1 B) 2 C) 3 D) 4

11.



Yukarıdaki grafikte görülen iklim tipinin yaşandığı yöreyle ilgili aşağıdakilerden hangisi söylenemez?

- A) Yazlar sıcak ve kuraktır.
 B) Kışlar ılık ve yağmurlu geçer.
 C) Bulutlu gün sayısı fazladır.
 D) En fazla yağış sonbaharda görülür.

12.



I. Harita



II. Harita

Yukarıda Türkiye'nin farklı ölçeklerle çizilmiş haritalarıyla ilgili aşağıda verilen bilgilerden hangisi yanlıştır?

- A) I. haritanın hata oranı daha azdır.
 B) II. haritanın ölçeği daha küçüktür.
 C) I. haritanın ayrıntı gösterme gücü fazladır.
 D) II. haritanın ölçek paydasındaki sayı daha küçüktür.

13.



Buna göre, Emre kaç numaralı cümlede paralellere ait bir özellik söylemiştir?

- A) 1 B) 2 C) 3 D) 4

14. Araştırmanın bu basamağının amacı, araştırma hakkında önceden edinilmiş bilgileri ortaya çıkarmak ve bu bilgilerle ilgili tahminler ortaya koymaktır. Bu çalışma “bilimsel tahmin” olarak da isimlendirilebilir.

Yukarıda, bilimsel araştırma basamaklarından hangisine yönelik bir açıklama yapılmaktadır?

- A) Araştırma konusunun belirlenmesi
- B) Konuya yönelik hipotez oluşturulması
- C) Konuyla ilgili kaynak taraması
- D) Araştırma metninin oluşturulması

15. **Eylül** : Gördüğüm en güzel tarihi yapıdır.

Emir : Bu saray Sultan Abdülmecit döneminde yaptırılmıştır.

Aleyna : Atatürk, dünyaya gözlerini Dolmabahçe sarayında kapamıştır.

Furkan : Dolmabahçe Sarayı İstanbul'da bulunmaktadır.

Dolmabahçe Sarayı'nı görmeye giden öğrenciler yukarıdaki ifadeleri kullanmışlardır.

Buna göre, hangi öğrencinin söylediği söz görüş bildirmektedir?

- A) Eylül
- B) Emir
- C) Aleyna
- D) Furkan

16.



Ali Öğretmen'in sorusuna hangi öğrenci yanlış cevap vermiştir?

- A) Göksu
- B) Aylin
- C) Sude
- D) Mert