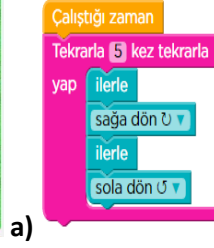
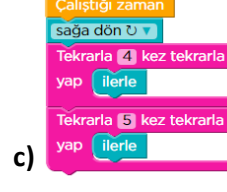
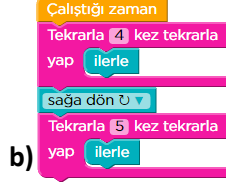


1. Aşağıdaki seçeneklerden hangisi çalıştığında zombi çiçeğe ulaşır?



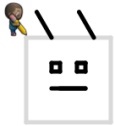
2. Aşağıdaki seçeneklerden hangisi çalıştığında kuş domuza ulaşır?



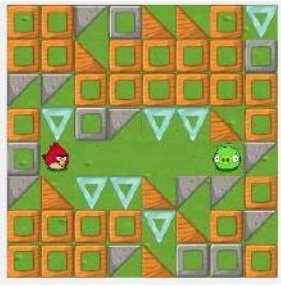
3. Aşağıdaki seçeneklerin hangisinde karakter kareyi tamamlar ?



4. Aşağıdaki seçeneklerin hangisinde karakter kareyi tamamlar



5.



Yandaki kuş karakterini domuz karakterine ulaştırmak için doğru kod bloğu hangisidir?

- a)
- b)
- c)
- d)


6.



Yandaki zombi karakterini ayçiçeği karakterine ulaştırmak için doğru kod bloğu hangisidir?

- a)
- b)
- c)
- d)


7.



Yandaki kuş karakterini domuz karakterine ulaştırmak için doğru kod bloğu hangisidir?

- a)
- b)
- c)
- d)

8.



hangisidir?

Yandaki kuş karakterini domuz karakterine ulaştırmak için doğru kod bloğu



9.



hangisidir?

Yandaki kuş karakterini domuz karakterine ulaştırmak için doğru kod bloğu



10.



bloğu hangisidir?

Yandaki zombi karakterini ayçiçeği karakterine ulaştırmak için doğru kod





11.



Yandaki tilki karakterini meşe palamuduna ulaştırmak için doğru kod bloğu hangisidir?

a)

```

Çalıştığı zaman
kadar tekrarla
yap
  ilerle
  eğer sola doğru yol varsa
  yap sola dön

```

b)

```

Çalıştığı zaman
kadar tekrarla
yap
  eğer ileride yol varsa
  yap ilerle
  sola dön

```

c)

```

Çalıştığı zaman
kadar tekrarla
yap
  ilerle
  eğer sağa doğru yol varsa
  yap sağa dön

```

d)

```

Çalıştığı zaman
kadar tekrarla
yap
  ilerle
  eğer sağa doğru yol varsa
  yap ilerle

```

12.



Yandaki tilki karakterini meşe palamuduna ulaştırmak için doğru kod bloğu hangisidir?

a)

```

Çalıştığı zaman
kadar tekrarla
yap
  eğer ileride yol varsa
  yap ilerle
  değilse sağa dön

```

b)

```

Çalıştığı zaman
kadar tekrarla
yap
  eğer sağa doğru yol varsa
  yap ilerle
  değilse sola dön

```

c)

```

Çalıştığı zaman
kadar tekrarla
yap
  eğer sola doğru yol varsa
  yap ilerle
  değilse sağa dön

```


d)

```

Çalıştığı zaman
kadar tekrarla
yap
  eğer ileride yol varsa
  yap ilerle
  değilse sola dön

```

13.Aşağıdaki sahnede AngryBirds karakterini hedefe ulaştıran hangi yönlendirme doğrudur?



- A) ↑→↓→→→↑→
- B) ←↓→→→↑↑→
- C) →↓→→→↑↑→
- D) →↓→↑→→↑→

14.Aşağıdaki sahne ve kodlara göre AngryBirds kaç numaralı hedefe ulaşır?

						İleri
				1		İleri
				2		Sağa Dön
				3		İleri
				4		İleri
						Sola Dön
						İleri
						Sağa Dön

- A) 1
- B) 2
- C) 3
- D) 4