

Adı:


Soyadı:

Tarih:

MATEMATİK TÜM KAZANIMLAR
SEVİYE BELİRLEME SINAVI

Puan:

1. Yandaki resme göre
aşağıdakilerden
hangisi doğrudur ?




A) Köpek kedinin üstündedir.

B) Kedi masanın altındadır.

C) Kedi köpeğin üstündedir.

2. Aşağıdaki hayvanlardan hangisi
en ağırdır ?



3. Aşağıdaki sayıları okunuşları ile
eşleştirelim.

14

beş

23

on

5

on dört

10

yirmi üç

4. Aşağıdaki ritmik saymaları devam
ettirelim.

1	2	3							
								19	20

5	10	15							
								95	100

10	20	30							100
----	----	----	--	--	--	--	--	--	-----

20	19	18							
							3	2	1

5. Hangi tabakta daha az elma var?

A)



B)



C)



6.



Hayvanlararası Koşu Yarışması

Yarışmayı 2. bitiren yarışmacı
aşağıdakilerden hangisidir?

A)






B)



C)



7. Aşağıdaki saatleri okuyup altlarına yazalım.



8. Aşağıdaki toplama işlemlerini yapalım.

$$\begin{array}{r} 7 \\ + 1 \\ \hline \end{array}$$

$$\begin{array}{r} 6 \\ + 3 \\ \hline \end{array}$$

$$\begin{array}{r} 8 \\ + 1 \\ \hline \end{array}$$

$$\begin{array}{r} 7 \\ + 9 \\ \hline \end{array}$$

$$\begin{array}{r} 4 \\ + 1 \\ \hline \end{array}$$

$$\begin{array}{r} 3 \\ + 6 \\ \hline \end{array}$$

$$\begin{array}{r} 5 \\ + 7 \\ \hline \end{array}$$

$$\begin{array}{r} 4 \\ + 1 \\ \hline \end{array}$$

$$\begin{array}{r} 3 \\ + 3 \\ \hline \end{array}$$

9. Aşağıdaki toplama işlemlerini yapalım.

$$\begin{array}{r} 13 \\ + 3 \\ \hline \end{array}$$

$$\begin{array}{r} 3 \\ + 2 \\ \hline \end{array}$$

$$\begin{array}{r} 11 \\ + 8 \\ \hline \end{array}$$

$$\begin{array}{r} 3 \\ + 2 \\ \hline \end{array}$$

$$\begin{array}{r} 18 \\ + 1 \\ \hline \end{array}$$

$$\begin{array}{r} 3 \\ + 3 \\ \hline \end{array}$$

$$\begin{array}{r} 11 \\ + 1 \\ \hline \end{array}$$

$$\begin{array}{r} 7 \\ + 1 \\ \hline \end{array}$$

$$\begin{array}{r} 9 \\ + 3 \\ \hline \end{array}$$

10. Aşağıdaki çıkarma işlemlerini yapalım.

$$\begin{array}{r} 3 \\ - 2 \\ \hline \end{array}$$

$$\begin{array}{r} 5 \\ - 3 \\ \hline \end{array}$$

$$\begin{array}{r} 2 \\ - 1 \\ \hline \end{array}$$

$$\begin{array}{r} 6 \\ - 6 \\ \hline \end{array}$$

$$\begin{array}{r} 2 \\ - 2 \\ \hline \end{array}$$

$$\begin{array}{r} 6 \\ - 2 \\ \hline \end{array}$$

$$\begin{array}{r} 6 \\ - 1 \\ \hline \end{array}$$

$$\begin{array}{r} 8 \\ - 5 \\ \hline \end{array}$$

$$\begin{array}{r} 3 \\ - 2 \\ \hline \end{array}$$

11. Aşağıdaki çıkarma işlemlerini yapalım.

$$\begin{array}{r} 17 \\ - 8 \\ \hline \end{array}$$

$$\begin{array}{r} 14 \\ - 8 \\ \hline \end{array}$$

$$\begin{array}{r} 16 \\ - 8 \\ \hline \end{array}$$

$$\begin{array}{r} 6 \\ - 2 \\ \hline \end{array}$$

$$\begin{array}{r} 13 \\ - 3 \\ \hline \end{array}$$

$$\begin{array}{r} 13 \\ - 10 \\ \hline \end{array}$$

$$\begin{array}{r} 13 \\ - 12 \\ \hline \end{array}$$

$$\begin{array}{r} 17 \\ - 5 \\ \hline \end{array}$$

$$\begin{array}{r} 6 \\ - 6 \\ \hline \end{array}$$

12.

10 TL ile aşağıdakilerden hangisini alabiliriz?

