

Adı:

Soyadı:

Tarih:

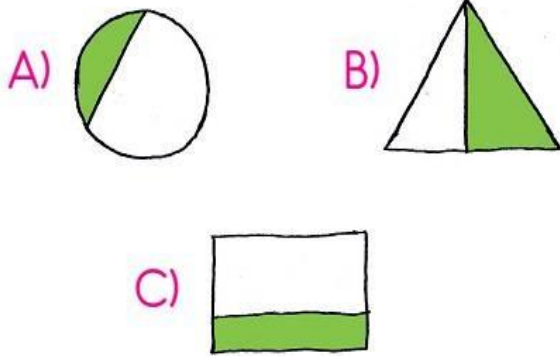
MATEMATİK TÜM KAZANIMLAR
SEVİYE BELİRLEME SINAVI- 2

Puan :

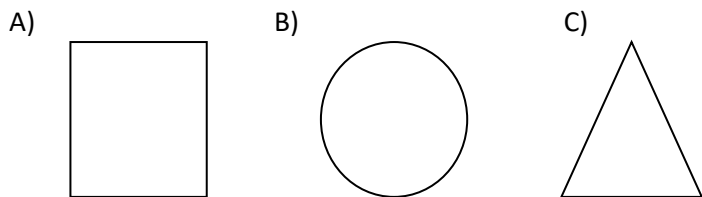
1. Aşağıdaki çocuklardan hangisinin parası daha çoktur?



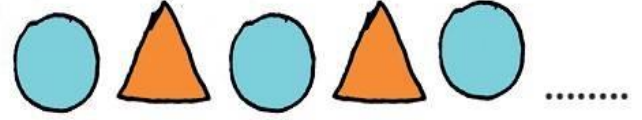
2. Aşağıki şekillerden hangisinin yarısı boyanmıştır?




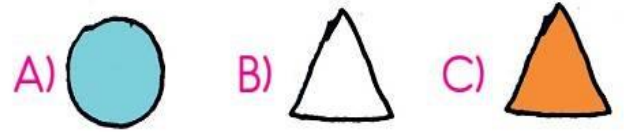
3. Aşağıdaki geometrik şekillerden hangisinin köşesi ve kenarı yoktur?



4.



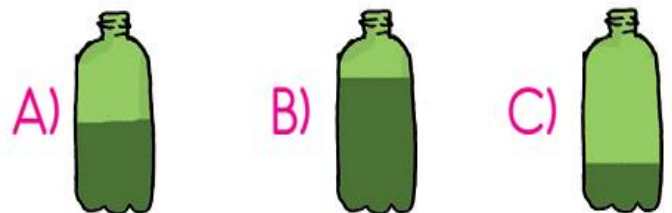
Nesnelerin diziliş sırasına göre noktalı yere hangisi gelmelidir?



5. Yukarıdaki mumlardan hangisi en uzundur ?

A) 1 B) 2 C) 3

6. Aşağıdakilerden hangisinde en fazla miktarda sıvı vardır?



7. Aşağıdaki standart olmayan ölçü birimlerini eşleştirelim.



parmak


karış

ayak

ayak

kulaç

8. Zeynep bayramda 8 lira harçlık aldı. Zeynep aşağıdaki oyuncaklardan hangisini alamaz?



BAHÇEMİZDEKİ MEYVE AĞAÇLARI	
Ayva	10
Elma	9
Armut	5
Erik	3

(9, 10 ve 11. Soruları tabloya göre cevaplayalım.)

9. Bahçemizde kaç tane armut ağacı vardır ?

A) 10 B) 9 C) 5

10. Bahçemizde kaç tane erik ağacı vardır ?

A) 9 B) 3 C) 5

11. Bahçemizdeki ayva ve elma ağaçlarının toplamı kaçtır ?

A) 19 B) 13 C) 1