

Adı Soyadı:

sorunun cevabı olmadığını fark ettin mi?

1.) $\boxed{9} \quad ? \quad \boxed{3} = \boxed{6}$

Yukarıdaki işleme göre ? yerine hangi işaret gelmelidir?

- A. + B. x C. -

2.)

Ocak					
Pazartesi		6	13	20	27
Salı		7	14	21	28
Çarşamba	1	8	15	22	29
Perşembe	2	9	16	23	30
Cuma	3	10	17	24	31
Cumartesi	4	11	18	25	
Pazar	5	12	19	26	

Takvime göre, 5 Ocak hangi gündür?

- A. Salı B. Cuma C. Pazar

3.) $\boxed{} \quad \boxed{8} \quad \boxed{}$

Yukarıda verilen sayının sağındaki ve solundaki sayının toplamı kaç yapar?

- A. 15 B. 16 C. 17

-	5	2
9	A	
8		B

4.) Tabloya göre A kaç yapar?

- A. 14 B. 4 C. 5

5.) Tabloya göre B kaç yapar?

- A. 6 B. 10 C. 7



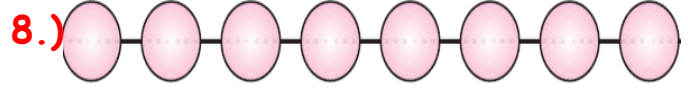
Üstteki toplardan 3 tanesi patladı, 3 tanesinde kardeşime verdim. Bana kaç top kaldı?

- A. 6 B. 3 C. 7



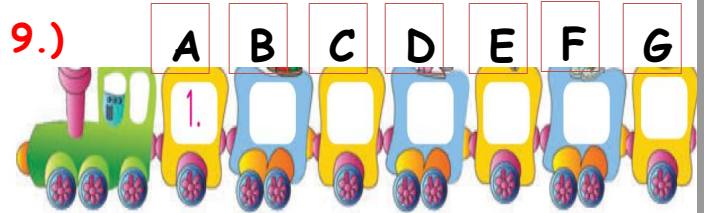
Yandaki çiçeklerden 5 tanesi kurursa kaç çiçek kalır?

- A. 5 B. 3 C. 4



İlk başa 38 yazar ve birer birer yazmaya devam edersek son daireye kaç yazarız?

- A. 45 B. 44 C. 46



Yukarıdaki trenin 3. ve 5. Vagonlarında hangi harfler taşınmaktadır?

- A. C - D B. C - E C. D - F

$$\square + \square = \boxed{A}$$

10.) Yukarıdaki toplama işleminde
A = 15 olduğuna göre,
aşağıdaki işlemlerden hangisi olamaz?

- A. $8 + 7$ B. $9 + 6$ C. $7 + 7$

11.) Aklımdan tuttuğum sayıya
4 ekleyince 20 oluyor.
Acaba aklımdan tuttuğum sayı kaçtır?

- A. 24 B. 16 C. 20

12.) Bir çıkarma işleminde çıkan
Sayı 5, fark ise 7 dir. Eksilen sayı kaçtır?

- A. 12 B. 2 C. 13

13.) Hangi işlemin sonucu diğerle-
rinden daha küçüktür?

- A. $9 + 6$ B. $8 + 7$ C. $6 + 8$

14.) Yukarıdaki şekilde kaç onluk ve birlik
vardır?

- A. 1 onluk - 6 birlik
B. 10 onluk - 7 birlik
C. 1 onluk - 7 birlik



Hangisinde köpek,
sandalyenin altındadır?

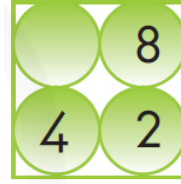
15.)



16.) Fatih 27, Mehmet Ali 12
yaşındadır. Fatih'in yaşı Mehmet Ali'nin
yaşından kaç fazladır?

- A. 39 B. 25 C. 15

17.)



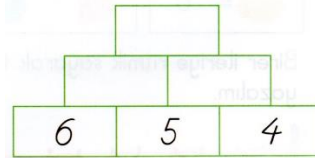
Yandaki sayıların
toplamının 20 olması
için boş yere hangi
sayı gelmelidir?

- A. 6 B. 5 C. 4

18.) Benim yaşı 17'dir. Kardeşim
benden 8 yaş küçüktür.

Buna göre, kardeşi kaç yaşındadır?

- A. 8 B. 25 C. 9



19)

Toplama işlemi yaparak boş kutuları
Doldurun?

20) Yan tarafa Kendinize bir soru
yazarak bunu çözün.