


7)

1 onluk 5 birlik =

Noktalı yere hangi sayı yazılmalıdır.

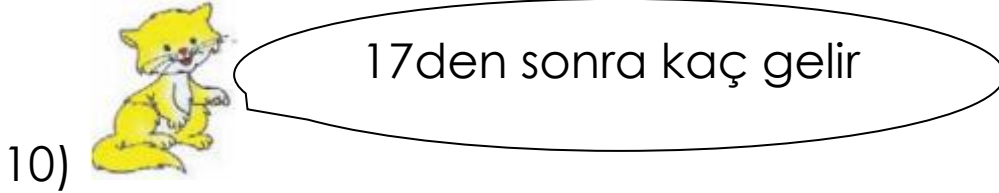
- a) 51 b) 15 c) 10

8) Hangisi en hafiftir.



9) Metin'in 6, Ömer'in 7 bilyesi var.
İkisinin bilyeleri toplamı kaç eder.

- a) 13 b) 12 c) 14



Kedinin sorusunun cevabı kaçtır.

- a) 17 b) 18 c) 16

1. SINIF
2. DÖNEM 1. DENEME SINAVI

ADI :
SOYADI :

AÇIKLAMALAR :

* Türkçe 10 soru, matematik 10 soru,
hayat bilgisi 10 soru toplam 30 soru
vardır. Sınav süresi 60 dakikadır.

HAZIRLAYANLAR
SALİH ÖZENÇ – MUHAMMET ÖZENÇ
2016

TÜRKÇE

ÖMER'İN BİR GÜNÜ

Ömer sabah erken uyandı.

Annesine günaydın dedi. Kahvaltıda bal ve yumurta yedi. Sonra en iyi arkadaşı Kerem ile futbol oynadı.

Akşam eve erken geldi. Akşam yemeğinde etli nohut yedi. Yemekten sonra ödevini yaptı. Yatmadan önce 1 bardak süt içti.

1) Ömer kime günaydın dedi.

a)babasına b)annesine c)abisine

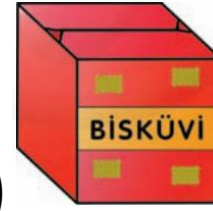
2) Ömer kahvaltıda ne yedi.

a) peynir – ekmek
b) çay – bal
c) bal – yumurta

3) Ömer'in en iyi arkadaşı kimdir.

a)Kerem b) Ali c) Burak

4) Hangisi küpe benzemektedir.



a)



b)



c)

5)




Örüntüde boş bırakılan yere hangisi gelmelidir.



a)



b)



c)

$$\begin{array}{r} 4 \\ + 7 \\ \hline \end{array}$$

6)

Toplama işleminin sonucu kaçtır.

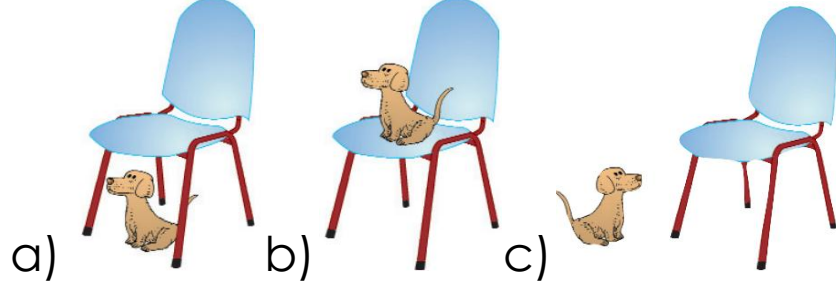
a)11

b)10


c)12

MATEMATİK

1) Hangi resimde köpek sandalyenin altındadır.



2) Hangi resimde en çok elma vardır.



17

3) Yandaki sayı kaçtır.

a) On iki b) on yedi c) yedi

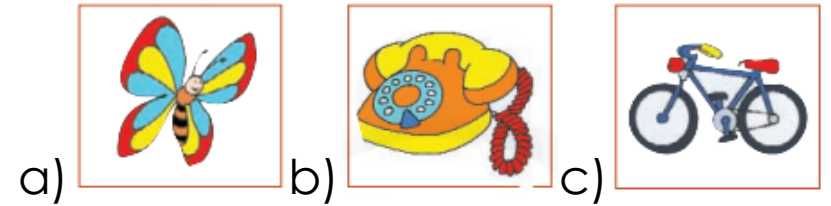
4) Ömer akşam yemeğinde ne yedi.

a) etli pilav
b) etli nohut
c) kuru fasülye

5) Ömer yatmadan önce ne yaptı.

a) 1 bardak süt içti.
b) üzerini çıkardı.
c) dua yaptı.

6) Aşağıdakilerden hangisi kelebeğdir.



Resimdeki eşyanın adı nedir.

a) kitap b) kalem c) çanta


8) “Her sabah kahvaltıda süt içerim”

Yukarıdaki cümlede çocuk her sabah ne içermiş.


- a) Çay b) süt c) ayran

9) Melis dün gelen dedesinden masal anlatmasını istedi.


Yukarıdaki cümleyi anlatan resim hangisidir.




10) Aşağıdaki hayvanlardan hangisinin ismi yanlış yazılmıştır.



7) Hangisi doğru bir davranıştır.




8) Hangi resim depremi anlatır.




9) Hangisi tavuğun yuvasıdır.



10) Hangisi et yiyerek beslenir.



4)



Resimdeki hangi hayvan suda yaşar?

- A) Fil
- B) Tavuk
- C) balık

5)



Yandaki resimde çocuklar kardan adamı hangi mevsimde yapıyorlar.
a) kış b) yaz c) ilk bahar

6) Aşağıdakilerden hangisi bayrağımızdır.



HAYAT BİLGİSİ

1)



5) Yandaki resimdeki adamın mesleği nedir?


- A) Öğretmen
- B) Asker
- C) Doktor

2)

Aşağıdakilerden hangisi görmeye yarayan duyu organımızdır?



3)



Resimde arı mayanın yüz ifadesi nasıldır?

- A) Üzgün
- B) Kızgın
- C) Gülüyor