

1. SINIF KAZANIM ÖLÇME TESTİ-6

Adı-Soyadı					
TÜRKÇE		MATEMATİK		H. BİLGİSİ	
DOĞRU		DOĞRU		DOĞRU	
YANLIŞ		YANLIŞ		YANLIŞ	

AMASYA

TÜRKÇE

Ezgi ve Berke gölün kenarında oynuyorlardı. Anneleri, babalarının gölde tuttuğu balıkları pişiriyordu. Babaları da çeşmeden su almaya gitmişti.

Bu kitap için yazılmıştır.

(İlk üç soruyu yukarıdaki metne göre cevaplayınız.)

1- Ezgi ve Berke nerede oynuyordu?

- A. Ormanda
B. Göl kenarında
C. Parkta

2- Anneleri ne pişiriyordu?

- A. Et
B. Tavuk
C. Balık


3- Babaları nereye gitmişti?

- A. Çeşmeye
B. Bakkala
C. Eve

4- Aşağıdaki harflerden hangisi tek başına bir hecedir?

- A) s
B) e
C) k

5- Aşağıdaki meyvelerden hangisinin adı ünlü harf ile başlar?

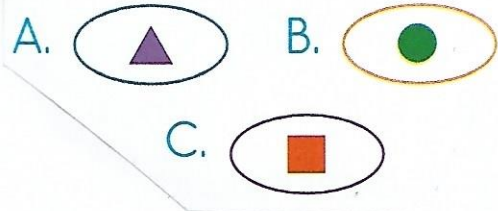


▲ Eski

● Boş

■ Para

6- Yukarıdaki kelimelerden hangisinin karşıt anlamlısı yoktur?



☆ Elimi yüzümü yıkadım.

○ Formamı giyip çıktım.

△ Kahvaltımı yaptım.

7- Yukarıdaki olayların oluş sırası hangisinde doğrudur?

A. ○ - ☆ - △

B. ☆ - △ - ○

C. ○ - △ - ☆

8- "Kitaplık" kelimesi hangi seçenekte hecelerine doğru ayrılmıştır?

- A. Ki - tap - lık
- B. Kit - ap - lık
- C. Kit - apl - ık

9- Aşağıdakilerden hangisi çoğul isimdir?

- A. Orman
- B. Asker
- C. Kitaplar

"Yaşasın, tatil geldi ()"

10- Yukarıdaki cümlemin sonuna hangisi gelmelidir?

- A. Nokta (.)
- B. Soru işareti (?)
- C. Ünlem (!)

11- "Ceyda()nın kitabı yırtıldı mı()" cümlesinde () yerine sırasıyla hangi noktalama işaretleri gelmelidir?

- A) (.) (.) B) (.) (') C) (') (?)

"Annem peynirli börek yapmış."

12- Yukarıdaki cümlede aşağıdaki sorulardan hangisinin cevabı **yoktur**?

- A. Kim yapmış?
- B. Ne zaman yapmış?
- C. Ne yapmış?

saat - dolap - elbise

13- Yukarıdaki sözcükler abecedsel sıralandığında sıralama hangisi gibi olur?

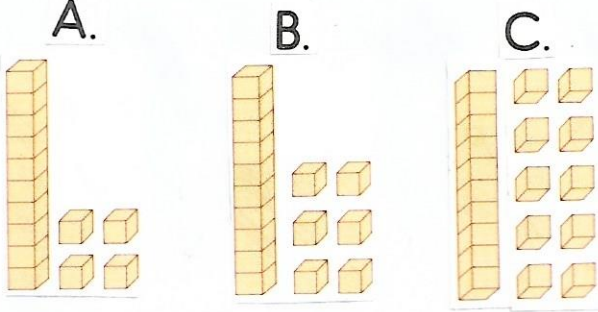
- A. saat-elbise-dolap
- B. dolap-saat-elbise
- C. dolap-elbise-saat

14- "Tuna ankaraya gitti." Cümlesindeki yanlışlar hangi seçenekte düzeltilmiştir?

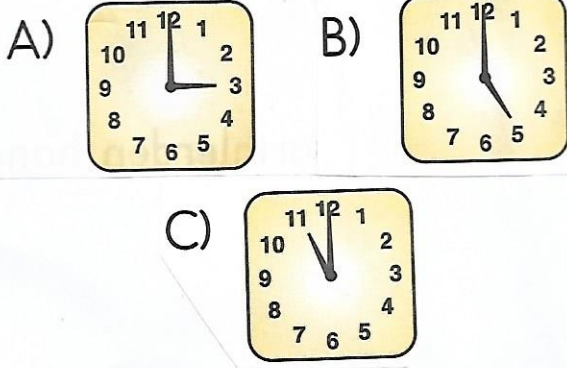
- A. Tuna ankaraya gitti.
- B. Tuna Ankaraya gitti.
- C. Tuna Ankara'ya gitti.

MATEMATİK

- 1- 16 sayısının onluk taban bloklarıyla gösterilişi hangisidir?



- 2- Hangi saat 3.00'ü göstermektedir?



Bugün 15 Mayıs Çarşamba idi.

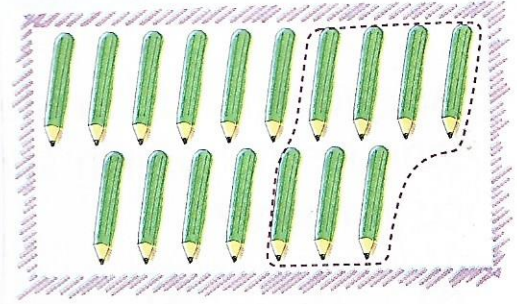
- 3- Buna göre yarın hangi gün olur?



18, 16, 14,, 10, 8,, 4

- 4- Yukarıdaki saymada noktalı yerlere sırasıyla hangi sayılar gelmelidir?

- A) 15 - 9
B) 13 - 7
C) 12 - 6



- 5- Yukarıdaki modellemenin çıkarma işlemi hangisidir?

- A) $17 - 5 = 12$
B) $17 - 6 = 11$
C) $17 - 7 = 10$


Ben 7 yaşındayım.

Ben senden 3 yaş büyüğüm.



- 6- Cemre ve ablasının yaşlarının toplamı kaçtır?

- A. 10 B. 17 C. 20



4 bütün elma eş
yarım elma eder.

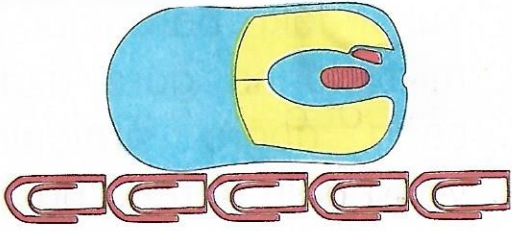
7- Yukarıdaki tümce hangi sa-
yı ile tamamlanmalıdır?

A. 4 B. 8 C. 12



8- Yukarıdaki kitap kaç TL'dir?

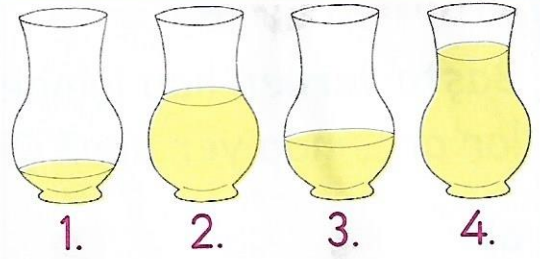
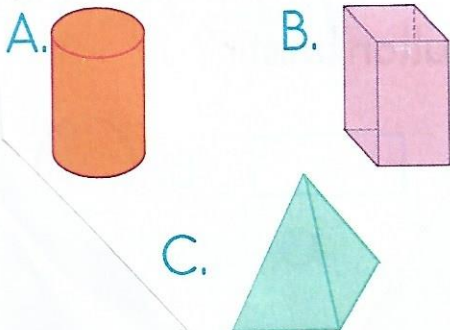
A) 7 TL B) 8 TL
C) 9 TL



9- Yukarıdaki farenin uzun-
luğu kaç ataştır?

A) 3 B) 4 C) 5


10- Yandaki şekli
hangi geometrik
cismin yüzünü
kullanarak çizebiliriz?



11- Yukarıdaki çay bardak-
ları içindeki sıvı miktarları
azdan çoğa doğru sırala-
nırken hata yapılmıştır.

Buna göre hangi iki çay
bardağı yer değişmelidir?

A) 1 ve 3. B) 1 ve 4.
C) 2 ve 3.



12- Bu örüntüde eksik bı-
rakılan yere aşağıdaki
şekillerden hangisi gel-
melidir?

A. B. C.

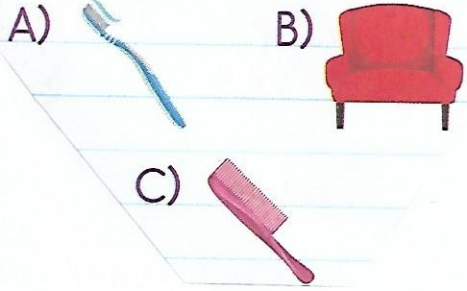
MEYVELER	Sevenlerin Sayısı
çilek	### //
muz	###
kiraz	### ////
erik	### /

13- Çilek sevenlerle, erik se-
venlerin toplamı kaçtır?

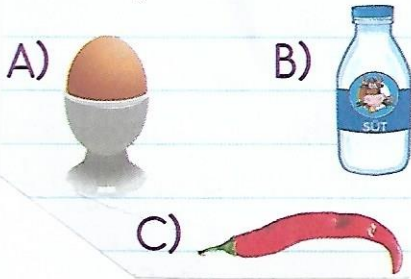
A. 11 B. 12 C. 13

HAYAT BİLGİSİ


1- Aşağıdakilerden hangisi kişisel bakımımızla ilgili değildir?



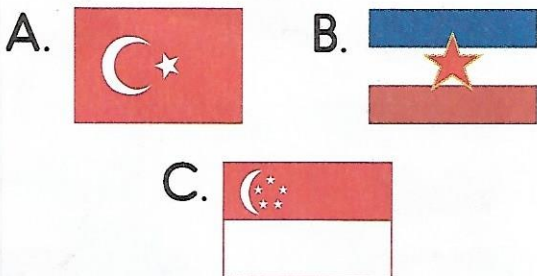
2- Hangisi hayvansal besinlerden değildir?



3- "Okul geçidi"ni gösteren trafik işareti hangisidir?



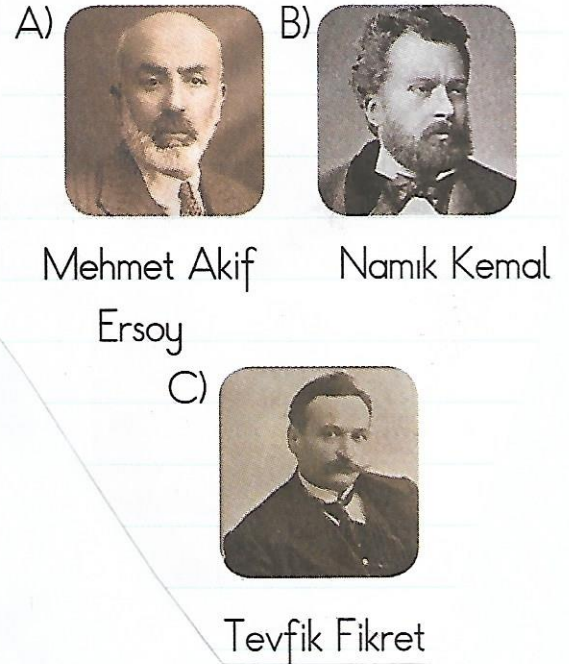
4- Bizim bayrağımız aşağıdakilerden hangisidir?



5- Bu resimdeki durum karşısında hangi telefon numarasını aramalıyız?

- A. 1 - 1 - 0 B. 1 - 1 - 2
C. 1 - 5 - 5

6- İstiklâl Marşı'mızın şairi aşağıdakilerden hangisidir?



Sevgili çocuklar;
ben,doğdum.

7- Mustafa Kemal Atatürk, nerede doğmuştur?




- A) İstanbul B) Ankara
C) Selanik


8- Ülkemizin başkenti hangi ilimizdir?

- A. İstanbul B. Ankara
C. İzmir

"Havalar serinlemeye başlar.
Göçmen kuşlar gider."

9- Yukarıda, hangi mevsimin özellikleri anlatılmıştır?

- A.  Yaz
B.  Sonbahar
C.  İlkbahar



10- Öğrenciler sınıfı hangi bayram nedeniyle süslüyor olabilir?

- A)  23 Nisan Ulusal Egemenlik ve Çocuk Bayramı
B)  Ramazan Bayramı
C)  Kurban Bayramı

11- Suda yaşayan canlı aşağıdakilerden hangisidir?

- A. tavşan
B. zürafa
C. balık



1



2



3



4



5



6

12- Yukarıdaki hayvanlardan hangileri evcil hayvandır?

- A. 1 - 3 - 5 B. 2 - 4 - 6
C. 2 - 3 - 5

Dünya



Ay



Güneş



13- Yukarıdaki gök cisimlerinin büyükten küçüğe doğru sıralanışı hangisidir?

- A) ●, ■, ▲
B) ▲, ●, ■
C) ■, ▲, ●