

Adı ve Soyadı					PUAN
Sınıfı/Okul No			Tarih		
2020-2021 EĞİTİM ÖĞRETİM YILI 4.SINIF <u>SOSYAL BİLGİLER DERSİ</u> 2. DÖNEM 1. YAZILI SINAVI					

A. Aşağıdaki ifadelerden doğru olanların başındaki kutucuğa 'D' yanlış olanların ise 'Y' yazınız.





- ☐ Kutup yıldızı ve ağaçların yosunlu kısımları kuzey yönündedir.
- ☐ Pusula hava durumu tahmini yapılırken kullanılan bir araçtır.
- ☐ Doğal afetler; can ve mal kaybına neden olur.
- ☐ Teknolojik ürünler, insanların zamandan tasarruf etmelerini sağlar.
- ☐ Zararlı olduğu için eve bilgisayar alınmamalıdır.

B. Verilen kelimeleri uygun boşluklara yazarak cümleleri tamamlayınız.

EĞİTİM	BEŞERİ	GÜNEYİ	PİTRAK	KROKİLER
--------	--------	--------	--------	----------

- Karınca yuvalarının giriş kısmı gösterir.
- Köprüler ve yollar unsurdur.
- belirli bir ölçeklendirme ile çizilmez.
- Cırt cırt bantlar dikenlerinden esinlenilerek icat edilmiştir.
- Etkileşimli tahta alanında kullanılan teknolojik bir alettir.

C. Aşağıda görseli ve adı yazan mucitlerle icatlarını eşleştirelim.

			
Wright kardeşler	Thomas Edison	Alexander Graham Bell	Guglielmo Marconi
Telefon	Ampul	Uçak	Radyo


D. Aşağıdaki tabloyu inceleyelim. Teknolojik ürünleri ilgili alanlarına göre sınıflandıralım.

metro	telefon	steteskop	projeksiyon	radyo
akıllı tahta	dönme dolap	çizgi film	otobüs	mikroskop
gemi	röntgen	CD çalar	telsiz	bilgisayar
İLETİŞİM	ULAŞIM	SAĞLIK	EĞİTİM	EĞLENCE
<input type="checkbox"/>	<input type="checkbox"/>	<input type="checkbox"/>	<input type="checkbox"/>	<input type="checkbox"/>
<input type="checkbox"/>	<input type="checkbox"/>	<input type="checkbox"/>	<input type="checkbox"/>	<input type="checkbox"/>
<input type="checkbox"/>	<input type="checkbox"/>	<input type="checkbox"/>	<input type="checkbox"/>	<input type="checkbox"/>

E. Aşağıdaki çoktan seçmeli soruların doğru yanıtlarını işaretleyiniz. Her soru 4 puandır.

1. ◆ Erzurum □ Samsun
● Amasya ◆ Sivas
Atatürk Millî Mücadele'yi başlatmak için ilk önce hangi şehre gitmiştir?
A. ● B. ◆ C. □ D. ◆

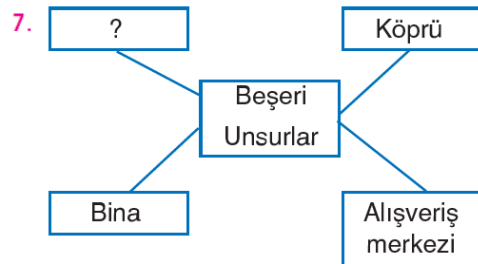
2. I. Ağaçlandırma çalışmaları yapmak.
II. Toplum bilinçlendirmek.
III. Yeni binalar yapmak.
IV. Dere yataklarını ıslah etmek.
Yukarıdakilerden hangisi doğal afetleri önleyecek bir yöntem **olamaz**?
A. I B. II C. III D. IV

3.  Havanın nasıl olacağı ile ilgili tahminlerde bulunurum.
Efe
Efe'nin mesleği aşağıdakilerden hangisidir?
A. Öğretmen B. Doktor
C. Arkeolog D. Meteorolog

4. Aşağıdakilerden hangisi ara yönlerden **değildir**?
A. Kuzeygüney B. Güneydoğu
C. Güneybatı D. Kuzeydoğu

5. I. Sel II. Çığ
III. Erozyon IV. Deprem
Ağaçlandırma çalışmaları yukarıdaki doğal afetlerden hangilerini önlemek amacı ile yapılmalıdır?
A. I, II, III B. I, II, III, IV
C. II, III, IV. D. I, II, IV

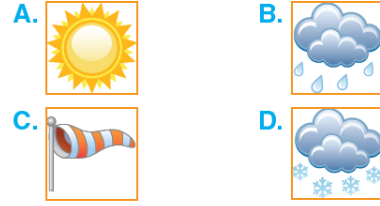
6. Yön bulmak için hangisinden **yararlanamayız**?
A. pusula B. Yosun
C. Güneş D. Ay



Yukarıdaki kavram haritasında “?” yerine aşağıdakilerden hangisi gelmelidir?

- A. Yol B. Vadi
C. Göl D. Nehir

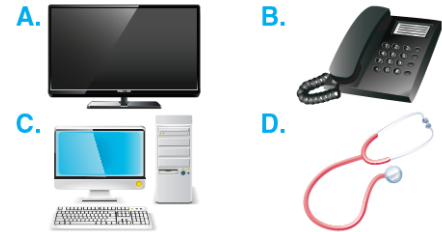
8. Aşağıdakilerden hangisi yaz mevsminde gözlemlenen bir hava olayı **değildir**?



9. ❄ Kuş bakışı olarak çizilir.
♥ Ölçeksiz çizilir.
✿ Belirli bir oranda küçültülerek çizilir.
Yukarıda krokinin özellikleri ile ilgili verilen bilgilerden hangileri **doğrudur**?

- A. ❄, ♥ B. ♥, ✿
C. ❄, ✿ D. ❄, ♥, ✿

10. Aşağıdaki teknolojik ürünlerden hangisi farklı bir alanda kullanılır?



11. I. Kullanma kılavuzunu okumalıyız.
II. Arızalandığında yetkili servisine haber vermeliyiz.
III. İçini açıp kontrol etmeliyiz.

Teknolojik aletleri doğru kullanma ile ilgili olarak verilen bilgilerden hangileri **doğrudur**?

- A. I, II B. II, III
C. I, III D. I, II, III

12. Aşağıdaki teknolojik icat ve kullanım alanları eşleştirmelerinden hangisi **yanlıştır**?

- A. Uçak - ulaşım
B. Gözlük - eğitim
C. Bilgisayar - iletişim
D. Röntgen cihazı - sağlık