

1- Arabayı hareket ettiren Yusuf' un yaptığı hareket aşağıdakilerden hangisidir?

- A. İtme B.hızlama C. çekme

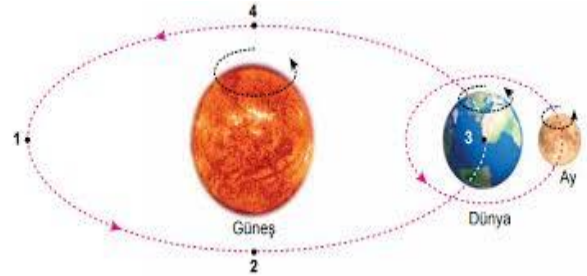


2- Aşağıdaki araçlardan hangisi diğerlerine göre daha hızlı hareket eder ?


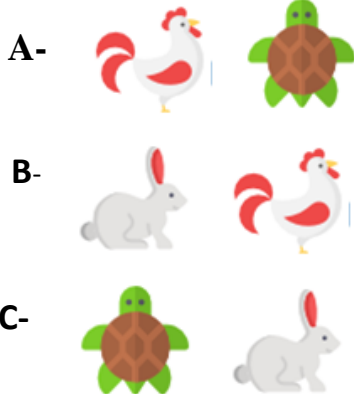


3- Yandaki şekilde, Güneş,Dünya ve Ay'ın hareketi aşağıdaki seçeneklerden hangisidir?

- A- Yavaşlama hareketi
B- Dönme hareketi
C- İtme hareketi



4- Aşağıdaki hayvanlardan hangisi diğerlerine göre daha yavaş ve hızlı hareket eder ?



" Bir cismi hareket ettirebilen ya da durdurabilen etkiye
denir. "


5- **Boş yere** hangisi gelmelidir ?

A- Kuvvet

B- İtme ve Çekme

C-Hareket

6-



" Havaya atılan top yukarıya doğru , aşağıya
düşerken..... " Boşluklara sırasıyla aşağıdakilerden hangisi .
getirilmelidir ?

A- Yavaşlam – hızlama

B- Hızlama – yavaşlama

C-Hızlama-Yavaşlama

7- Aşağıdaki hareketli varlıklardan hangisi **tehlike oluşturabilir** ?

A- Akan su

B- Hareket eden bulutlar

C- Çalışan vantilatöre elimizi sokmak



8- İleriye doğru fırlatılan top **nasıl hareket eder**?

A- Önce hızlanır sonra yavaşlar

B- Önce yavaşlar sonra hızlanır

C- Sürekli hızlanır



9- Ali ile Veli görselinde aşağıdaki ifadelerden
hangisi **yanlıştır**?

A- Ali Çekme,Veli itme hareketi

B- Ali İtme,Veli çekme hareketi

C- Ali ile Veli arabaya kuvvet uyguluyor.



Ahmet Yılmaz