



Haftalık Ödev

31 MAYIS- 4 HAZİRAN



Siirt
İL MİLLÎ EĞİTİM MÜDÜRLÜĞÜ

[www.
siirt.meb.gov.tr](http://www.siirt.meb.gov.tr)



1. Ak akçe kara gün içindir.
2. Ev alma, komşu al.
3. Körle yatan şaşı kalkar.
4. Sakla samanı, gelir zamanı.

1) Yukarıdaki atasözlerinden hangileri aynı anlama gelmektedirler?

- A) 1 ve 2
- B) 1 ve 3
- C) 2 ve 4
- D) 1 ve 4

Öğretmen: İçinde mecaz anlamı bir kelime kullandığınız bir cümle söyler misiniz?

Zeynep: Bu işi yapmazsan yandın.

Elif: Hastalıktan korunmamız için maske takmamız gerekiyor.

Ali: Girdiğimiz bu işte de battık.

Mert: Davranışlarıyla beni çok kırmıştı.

2) Öğretmenin sorduğu bu soruya cevap veren öğrencilerden hangisi yanlış cevap vermiştir?

- A) Zeynep
- B) Elif
- C) Ali
- D) Mert

- I. Bugün Türkçe dersinde kafiye konusunu işledik. (Terim anlam)
- II. Beşiktaş sırtlarına ağaç diyorlar. (Yan anlam)
- III. Temiz bir çocuk olduğu her halinden belliydi. (Mecaz anlam)
- IV. Boş kovaya su doldurmak için çeşmeye gitti. (Gerçek anlam)

3) Yukarıdaki cümlelerde altı çizili kelimelerle bu kelimelerin anlam özellikleri eşleştirilmiştir.

Yapılan eşleştirmelerden hangisi yanlıştır?

- A) Yan anlam
- B) Gerçek anlam
- C) Terim anlam
- D) Mecaz anlam

4) Aşağıda verilen cümlelerin hangisinde yazım yanlışı yapılmıştır?

- A) 2005 yılında Türk Dil Kurumunun 73. yılını kutladık.
- B) Kedisi bugün sokakta kayıp olmuş.
- C) Anadolu'nun güneydoğusuna doğru yola koyuldular
- D) 18 Mayıs 2020 Pazartesi günü bize geleceğini söyledi.

- I. Mihriban bir kır ceylanı, saçları bahtından daha karadır.
- II. Kitap, insanın kıymetini bilir.
- III. Bu hayatta kedilerden daha değerli bir şey yoktur.
- IV. Denizlerin en kuytu mavisini sende tattım.

5) Yukarıdaki numaralandırılmış cümlelerden hangisi karşılaştırma bildirmez?

- A) I
- B) II
- C) III
- D) IV

Sevgili Günlük,

- (1) Bugün benim için hayatımın en mutlu günü diyebilirim. (2) Annem bana okuldaki başarımdan ötürü bir hediye aldı. (3) Hediye paketini açarken kalbim yerinden çıkacaktı. (4) Paketin içinde annemden yıllardır almasını istediğim kumandalı araba vardı.

6) Mustafa'nın günlüğüne yazdığı bu yazıyla ilgili olarak aşağıdakilerden hangisi söylenebilir?

- A) 1. cümlede şart anlamı vardır.
B) 2. cümlede amaç-sonuç ilişkisi vardır.
C) 3. cümlede "heyecanlı olma" dile getirilmiştir.
D) 4. cümlede karşılaştırma yapılmıştır.



7) Oğlu Alican'ı dijital dünyadan uzaklaştırmak isteyen Yusuf Bey, bu konuda ailelere verilen tavsiyelere uymaya çalışmıştır. Yukarıda verilen tavsiyelere göre Yusuf Bey, aşağıdaki düşüncelerinden hangisini uygularsa bu tavsiyelere uymamış olur?

- A) Akıllı cihazlarla her gün bir önceki günden daha az vakit geçirdiği takdirde onu gezmeye götürürüm. Bu şekilde onu bir anda değil, yavaş yavaş dijital dünyadan uzaklaştırabilirim.
B) Alican'ın yanında elektronik cihazlarla uğraşmayıp kitap okursam beni örnek alıp akıllı cihazlarla oynamak yerine kitap okumaya özenebilir.
C) Alican'ın okul müdürü ve rehber öğretmenleriyle görüşmemin etkili olacağını düşünüyorum; bu konuyu aile içinde halledebiliriz.

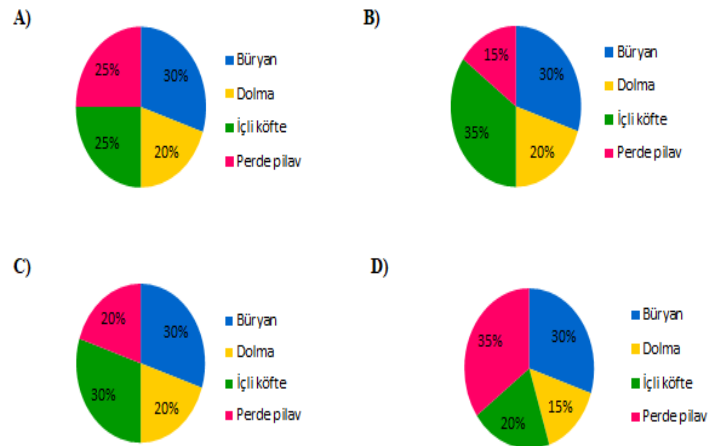
D) Alican'a dijital cihazların sadece eğlence amaçlı değil, eğitsel amaçlı da kullanılabileceğini göstermeliyim. Sonra da eğitimsel faaliyetler için gerekli web sitelerini birlikte belirleyebiliriz.

8) Anadolu ile Mezopotamya'nın kesişim bölgesinde bulunan ve birçok medeniyete ev sahipliği yapan Siirt topraklarını gezmeye gelen bir grup ziyaretçi, yörenin leziz yemeklerini tatmak için bir lokantaya giderler. Dört çeşit yemek siparişi verirler. Daha sonra yemekleri tadan ziyaretçilere en beğendikleri yemeğin hangisi olduğuna dair bir anket yapılır.

Anketten elde edilen sonuçlardan şu bilgilere ulaşılmaktadır:

- ✓ Ziyaretçilerin yarısı içli köfte ve büryanı beğenmiştir.
- ✓ Ziyaretçilerin yarısından fazlası perde pilav ve içli köfteyi beğenmiştir.
- ✓ Perde pilavı beğenenler, dolmayı beğenenlerden daha fazladır.
- ✓ Ziyaretçilerin çoğu perde pilavı beğenmiştir.

Bu bilgilere göre ziyaretçilerin cevaplandıkları anketin sonuçlarını gösteren grafik aşağıdakilerden hangisi olabilir?



VEDAT: Bu roman geçen yıl okuduğum "Yalnızlık" romanından daha dramatikmiş.

MUSTAFA: Bu romanın daha ilgi çekici olacağını zannetmiştim.

AYDAN: Bu romandaki oyuncuların performansları son derece etkileyiciydi.

KÜBRA: Bu romanı arkadaşımın tavsiyesiyle okudum.

9) Aynı kitabı okuyan dört arkadaşın roman hakkındaki düşünceleri yukarıda verilmiştir. Buna göre bu cümleler aşağıdaki anlam özelliklerinden hangisiyle eşleştirilemez?

- A) Pişmanlık
- B) Karşılaştırma
- C) Beğeni
- D) Gerçekleşmemiş beklenti

O mart ayının güzel bir cumartesi sabahı Ferit, giyinirken beş parası kalmadığını fark etti.

10) Yukarıdaki cümlede bulunan altı çizili bölüm cümlenin hangi ögesidir?

- A) Zarf tümleci
- B) Yüklem
- C) Belirtili nesne
- D) Dolaylı tümleç

11) Yabancı dil öğrenmeye ne kadar erken başlarsak başarı oranımız aynı doğrultuda artacaktır. Çünkü beynimizdeki dil öğrenme mekanizması 12 yaşına kadar aktif bir şekilde çalışır. Bu nedenle yaşımız ilerledikçe dil öğrenmekte zorlanırız. Araştırmaların verdiği bu bilgiler doğrultusunda her geçen gün erken yaşta yabancı dil öğrenme eğilimi artmaktadır. Yabancı dil eğitiminin anasınıfına kadar indiğini bir kenara bırakın bebekleriyle bile ana dilinin yanı sıra yabancı dille de konuşmaya çalışan ebeveynlerin sayısı azımsanmayacak gibi değil.



Bu parçada anlatılmak istenen aşağıdakilerden hangisidir?

- A) Küçük yaşlarda çocukları dil okullarına göndermeliyiz.
- B) Yabancı dilin olmadığı eğitim eksiktir.
- C) Yabancı dil öğrenmeye erken başlamak gerekir.
- D) Belirli bir yaştan sonra dil öğrenmek imkânsızdır.

Tanımlama

I. Olmuş ya da olması ihtimal olayların anlatıldığı eserlere roman denir.

Kişileştirme

II. Bugün düne göre hava daha soğuk ve yağışlı.

Örneklendirme

III. Mevlana, "Ne olursan ol, yine gel." diyerek tüm insanlığı kucaklamıştır.

Benzetme

IV. Annem yaşanan onca sıkıntı karşısında bile bir dağ gibi dimdik duruyordu.

12) Yukarıda verilen cümlelerin hangisi parantez içerisinde verilen anlatım biçimine uygun bir örnek değildir?

- A) I
- B) II
- C) III
- D) IV

Okumak, insanları deęiřtirir ve geliřtirir. Öğrenmenin en etkili yollarından biri de okumaktır. Ancak önemli olan sadece okumak deęildir. Okuduęunu anlayabilmektir. Bazen bu noktada sıkıntılar yařayabiliyoruz. Bunun üstesinden gelebilmek için öncelikle okuma amacımızı belirlemeliyiz. Okuma hızımızın ve okuma ortamımızın uygunluęu hatta kitap okuduęumuzu zamanki duruřumuz bile okuduęumuzu anlamamızı etkilemektedir. O halde öğrenmek, geliřmek ve deęiřmek için sürekli okumamız ve okuduęumuzu anlamamızı engelleyen sebepleri ortadan kaldırmamız gerekir.

13) Yukarıdaki metinde ařaęıdakilerden hangisine deęinilmemiřtir?

- A) Başarılı olmanın yollarından biri de kitap okumaktır.
- B) Sadece hızlı okuyarak öğrenmeyi arttırabiliriz.
- C) Okuduęumuzu anlamamızı etkileyen faktörler vardır.
- D) Okumanın insana birçok faydası vardır.

14) Bu anlatım biçimi düşünce yazılarında kullanılır. Daha çok gazete ve dergi yazılarında görülür. Makalede özellikle bu anlatım biçimine başvurulur. Amacı okuyucuya bilgi vermektir.

Aslı, yukarıda özellikleri verilen anlatım biçimiyle bir sunum yapacaktır. Bu durumda ařaęıdaki řıklardan hangisi Aslı'nın sunumundan bir kesit olabilir?

- A) Ülkemizde beyaz et sanayisi geliřmektedir. Lagün ve havuzlarda yetiřtirilen balık türlerinin yanı sıra çiftlik tavukları da önemli bir yer tutmaktadır.
- B) Kütüphaneler birçok eseri bir arada bulabileceęimiz sessiz ve sakin bir çalıřma ortamlarıdır. Her kütüphane aslında bir hazine dir.
- C) Cep telefonlarının zararlı olduęu artık herkesçe biliniyor. Buna raęmen bu kadar raębet görmesini de anlayamıyorum. Bu yüzden artık birtakım önlemler alınması gerektięini düşünüyorum.
- D) Sabah uyandım. Hızlıca hazırlanıp evden çıktım. Çünkü yine okula geç kalmıřtım. Okula vardıęımda zil çaldı ve ders bařlayalı çok olmuřtu.

Fiilimsiler; eylemlerden belirli eklerle türetilip ad, sıfat veya zarf görevinde kullanılan sözcüklerdir. İsim-fiil, sıfat-fiil ve zarf-fiil olmak üzere üçe ayrılır.

Bahçede oturan çocuk, konuřmaya bařlayınca susmak bilmiyordu.

15) Bu cümledeki altı çizili eylemsilerin türleri sırasıyla ařaęıdakilerden hangisidir?

- A) Zarf-fiil, isim-fiil, zarf-fiil, isim-fiil
- B) Sıfat-fiil, zarf-fiil, isim-fiil, isim-fiil
- C) Sıfat-fiil, isim-fiil, zarf-fiil, isim-fiil
- D) İsim-fiil, sıfat-fiil, zarf-fiil, isim-fiil

Seviyorum seni

Ekmeği tuza banıp yer gibi

1

2

Gecelerin ateşler içinde uyanarak

3

Ağzımı davayıp musluğa su içer gibi

4



16) Yukarıda Nazım Hikmet'in dizelerinde geçen altı çizili kelimelerden hangisi zarf-fiil değildir?

- A) 1
- B) 2
- C) 3
- D) 4

Noktalama işaretleri; duygu ve düşünceleri daha açık ifade etmek, cümlelerin yapısını ve duraklama noktalarını belirlemek, okumayı ve anlamayı kolaylaştırmak, sözün vurgu ve ton gibi özelliklerini belirtmek üzere kullanılır.

{ Şimdi Siirt () te fıstıklar () bittimlar
olgunlaşmış () bağ ve bahçeler süslenmiştir
() }

17) Yukarıdaki açıklamayı da göz önünde bulundurarak bu cümlelerin içinde yay
ayraçla belirtilen yerlere sırasıyla
hangi noktalama işaretleri
getirilmelidir?

- A) (,) (...) (;) (.)
- B) (;) (,) (.) (.)
- C) (') (;) (...) (.)
- D) (') (,) (;) (.)



Şehir merkezinin
yoruculuğu ve
gürültüsünden
uzaklaşmak
üzere bir bahar
gününde
dostlarla yavaş
yavaş yürüyerek
Siirt'in Arnavut
kaldırımli tarihi
sokaklarından

ilerliyorduk. Bu yürüyüş esnasında
çocukluğumuzun geçtiği cadde, sokak ve
mahalleleri gördükçe ister istemez
anılarımızı da yâd etmiş oluyorduk. Derin
bir vadi içinde kurulmasından kaynaklı,
yazın serin havasıyla bilinen Conkbayır
mahallesinin dışına doğru gelmiştik.
Dostlar, koyu bir sohbete dalıp yol
alırken dikkatim mahallenin en son
evinde bir başına yaşayan Hamşin
Hanım'da kalmıştı. Buğulanmış bir camın
ardından bize öyle duygusal ve acıklı
bakan bu yaşlı kadının hikâyesi neydi?
Ben bu düşüncelere dalıp ilerlerken
yürüyüş ekibinden epeyce geride
kalmıştım. Onlara, yetişmeye çalışırken
baharın gelişiyle bağ ve bahçelerde
oluşan kartpostallık görüntü içinde
kendimi buluyordum. Tabiatın bu bin bir
tonunun insanı cezbetmemesi mümkün
değildi.

Ve bir günün sonuna doğru gelmiştik.
Arkamı dönüp gün batımının şehrin
üzerinde yarattığı o eşsiz manzaraya bakıp
dalınca kendimi tutamayıp, Ahmet Haşim'in
"Bir Günün Sonunda Arzû" şiirinin dizelerini
birer birer mırıldanmışım: "Akşam, yine
akşam, yine akşam/Göllerde bu dem bir
kamış olsam!"

18) Bu parçanın anlatımında aşağıdaki
anlatım biçimlerinden hangisi ağır
basmaktadır?

- A) Açıklama
- B) Öyküleme
- C) Betimleme
- D) Tartışma

I.



II.



19) Yukarıda verilen dizelerde geçen söz sanatları aşağıdaki şıklardan hangisinde doğru verilmiştir?

I

II

- A) Benzetme – Tezat | Kişileştirme – Abartma
B) Konuşurma – Kişileştirme | Abartma – Tezat
C) Abartma – Benzetme | Kişileştirme – Tezat
D) Konuşurma – Kişileştirme | Benzetme – Tezat

20)

- Hikâye, olmuş ya da olması mümkün olan olayları anlatan kısa sanat eserleridir.
- Roman; insanların yaşadıkları ya da yaşayabilecekleri olayları, yere, zamana şahsa bağlayarak anlatan eserlerdir.
- Eleştiri; sanat, edebiyat, düşünce eserlerini hem öz hem yapı yönünden açıklayan, başarılı ve başarısız ya da değerli ve değersiz yönlerini gösteren, bunları örneklerle somut hale getirip belirten yazı türüdür.
- Deneme; yazarın herhangi bir konudaki görüşlerini, kesin kurallara varmadan, kanıtlamaya kalkmadan, okuyucuyu inanmaya zorlamadan anlattığı yazı türüdür.
- Makale; bir gerçeği açıklamak, bir konuda görüş ve düşünceler öne sürmek ya da bir tezi savunmak, desteklemek için yazılan yazılardır.

Verilen bu açıklamalara göre,

Yazarken eğer etrafımda ya da aklımın bir taraflarında birilerinden arta kalan düşünce kırıntılarının yoğunluğu varsa bu benim öz güvenimi sarsar. Bu öz güven sorunu yazıya da yansır. Ellerim titrer, kan basıncım artar. İşte o zaman düşüncelerim çok güçlü bir şekilde patlamaya başlar. Kâğıdın üzerinde istediğim gibi at koşturmak için eve kapanıyorum. Benim yoğunlaşmamı engellememeleri için yabancı memleketlerde oturmayı tercih ediyorum, oturmak, yaşamak için tercih etmiş olduğum yer öyle bir yer ki tanıdığım hiç kimse okuduğu duanın Latincesini bilmez, hele ki Fransızcasını hiç anlamaz. Başka yerde yazsam daha iyi yazardım ama yazdığım şey daha az benim olurdu.

metni aşağıdaki yazı türlerinden hangisinden alınmış olabilir?

- A) Makale
B) Eleştiri
C) Deneme
D) Hikâye

- 1) $\sqrt{75}$ sayısı ile $7\sqrt{a}$ sayısının çarpımının tamsayı olması için a yerine hangi sayı gelmelidir?

A) 5
B) 8
C) 12
D) 14

- 2) Dikdörtgen şeklinde bir arsanın etrafına duvar örülecektir. Arsanın bir kenarının uzunluğunun $\sqrt{129}$ 'dan büyük en küçük tamsayı, diğer kenarının ise $\sqrt{256}$ 'dan küçük en büyük tamsayı olduğu biliniyor. Örülecek duvarın uzunluğu aşağıdakilerden hangisidir ?

A) $5\sqrt{2}$
B) $6\sqrt{5}$
C) $7\sqrt{4}$
D) $5\sqrt{8}$

- 3) $\sqrt{72 - \sqrt{69 - \sqrt{27 - \sqrt{4}}}}$ işleminin sonucu kaçtır?


A) 8
B) 9
C) 10
D) 11

- 4) Alanı $144 m^2$ olan kare şeklinde bir bahçenin etrafına 4 tur tel çekilecektir. Kaç metre tele ihtiyaç vardır ?

A) 48
B) 144
C) 192
D) 576



$5\sqrt{8}$



$8\sqrt{2}$



- 5) Şekildeki otobüsün eve uzaklığı $8\sqrt{2}$ metre ve arabanın eve uzaklığı ise $5\sqrt{8}$ metredir. Otobüs ve araba eve doğru her biri $2\sqrt{2}$ metre yaklaşırsa son durumda araba ve otobüs arasındaki mesafe ne kadar olur?

A) $6\sqrt{2}$
B) $14\sqrt{2}$
C) $18\sqrt{2}$
D) $19\sqrt{2}$

- 6) Müzik öğretmeni Egemen hoca 3 günde bir 4 saat gitar çalmaktadır. Egemen hoca ilk kez Salı günü gitar çalmaya başlarsa 133. saat hangi gün gitar çalmış olur.

A) Pazartesi
B) Salı
C) Çarşamba
D) Perşembe

- 7) SGK her yeni atanan memura zorunlu bireysel emeklilik hesabı açmaktadır. Yeni atanan Emre öğretmene de zorunlu bireysel emeklilik hesabı açılmıştır. Hesabına her ay sabit ve düzenli bir şekilde 500 TL yatıran Emre öğretmen , sistem tarafından yatırdığı paranın %30 u ile ödüllendirilmektedir. Sisteme ilk defa katıldığında bir seferliğine mahsus 1000 lira teşvik primi hesabına yatırılmıştır.

Emre öğretmen 5 yıl sonra bireysel emeklilik sistemini kapatmak istediğinde tüm birikiminin %10 unu cayma bedeli olarak kaybettiğine göre sistemden toplam kaç lira kazanmıştır?

- A) 5000
B) 6000
C) 7000
D) 8000

- 8) Osman Demir Ortaokulunda bulunan üç farklı zil sırasıyla $\frac{3}{5}$, $\frac{2}{3}$ ve $\frac{1}{4}$ saatte bir çalmaktadırlar. Bu üç zil birlikte saat 08:10 çaldıktan sonra tekrar birlikte saat kaçta çalarlar?

- A) 17:10
B) 17:30
C) 18:00
D) 18:10

- 9) 32 m , 56 m ve 72 m uzunluğundaki demir çubuklar eşit uzunlukta ve en az sayıda parçalara ayrılmak isteniyor.

Ahmet usta her bir kesim için 3 lira aldığına göre , iş sonunda toplam kaç lira kazanır?

- A) 51
B) 54
C) 56
D) 58

- 10)Hacimleri 90 litre , 108 litre ve A litre olan üç bidon farklı meyve suyu eşit hacimde birbirine karıştırılmadan 26 şişeye doldurulup satılacaktır. Buna göre A en çok kaç olabilir.

- A) 180
B) 270
C) 330
D) 360

- 11)Bir işyerinde toplanan 2^4 ton atık kağıt geri dönüşüme gönderilerek 4^3 adet ağaç kesilmekten kurtarılmıştır. Buna göre 2 ton atık kağıt toplandığında kaç ağaç kesilmekten kurtarılmış olur?

- A) 1
B) 8
C) 16
D) 64

- 12)7 tane 3'ün çarpımının, 3 tane 3'ün toplamına bölümü kaçtır?

- A) 3^4
B) 3^3
C) 3^5
D) 3^7

- 13) $\frac{250.5^2}{5^5}$ işleminin sonucu kaçtır?

- A) 1
B) 2
C) 5
D) 10

- 14) $*(2, -1) = 2^{-1}$ yandaki örneklerle gösterilen kurala göre,

$$*(3,3) = 3^3$$

$$*(*(*(-3,a),2),-1) = \frac{1}{9} \text{ ise } a \text{ sayısı kaçtır?}$$

- A) -1
B) 3
C) 1
D) -3

15) $(0,04)^{-1}$ sayısının eđiti ařađıdakilerden hangisidir?

- A) 4
- B) 25
- C) 10
- D) 100

16) Ařađıdakilerin hangisinin arpanları arasında $(2-x)$ ifadesi yoktur?

- A) $2x^2 - 8$
- B) $3x^2 - 12x + 12$
- C) $4x^2 - 4x$
- D) $5x^2 - 20x + 20$



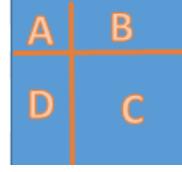
17) İki farklı karenin birleřtirilmesi ile oluřan yukarıdaki řeklin evre uzunluđu $8x-14$ birim ve byk karenin alanı $x^2 - 6x + 9$ birimkare olduđuına gre kk karenin alanı ka birimkaredir?

- A) $x^2 - 2x + 1$
- B) $4x^2 - 4x + 1$
- C) $x^2 + 2x + 1$
- D) $4x^2 + 4x + 1$

18) Enes, x tane arkadařı ile bir miktar řekeri paylařmıř herkese y tane řeker dřmřtr. Her biri k tane řeker yedikten sonra annesi, Enes'e paylařmaları iin z tane daha řeker vermiřtir. Buna gre son durumdaki řeker sayısının x, y, z ve t trnden ifadesi ařađıdakilerden hangisidir?

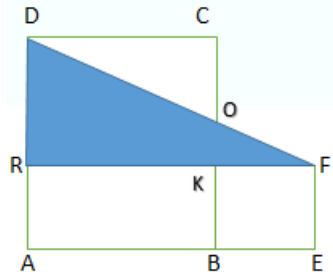
- A) $(x+1).(y+k)$
- B) $x.(y-z)+k$
- C) $(x+1).(y-k) + z$
- D) $(x+1).(y-z)+k$

19) Bir kenar uzunluđu a birim olan bir kare iki dođu parası ile řekildeki gibi drt blgeye ayrıldıđında C blgesi bir kenarı b birim olan bir kare oluřturmuřtur.



Buna gre, $x^2 - 2xy + 2y^2$ ifadesi A, B, C ve D blgelerinden hangi ikisinin alanları toplamına eřittir?

- A) A ve B
- B) C ve D
- C) B ve D
- D) A ve C



20) řekildeki ABCD ve BEFK drtgensel birer kare ve $[FR] \perp [AD]$ dir. Karelerin alanları arasındaki fark 40 cm^2 olduđuına gre DRF geninin alanı ka santimetredir?

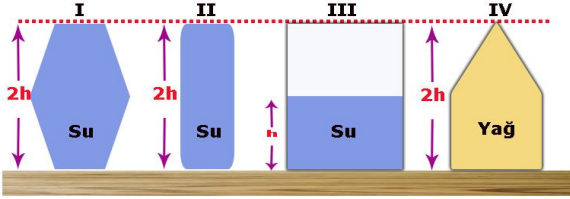
- A) 20
- B) 40
- C) 60
- D) 80

1) Aşağıda verilen araçlardan hangisi pascal prensibine göre yapılmamıştır?

- A) Vinçler
- B) İtfaiye merdiveni
- C) Elektrik süpürgesi
- D) Hidrolik fren

2) Dağcılık sporu ile uğraşan Ahmet, dağın zirvesine yaklaştıkça kulaklarında bir ağrı hissediyor. Ahmet'i rahatsız eden bu ağrının nedeni aşağıdakilerden hangisidir?

- A) Rüzgarın azalması
- B) Basıncın azalması
- C) Oksijenin azalması
- D) Yorgunluğunun artması



3) Fen bilimleri öğretmeni derste sıvı basıncını işlemektedir. Yukarıdaki şekle bağlı olarak öğrencilerine sorular soruyor ,verilen cevaplardan hangisi yanlıştır?

- A) I ve II. şekillerde sıvı basınçları eşittir
- B) Suyun bulunduğu şekiller baz alındığında III. şekilde oluşan sıvı basıncı en azdır.
- C) Kabin şeklinin sıvı basıncına etkisinin olup-olmadığını incelemek için II ve III. şekiller kullanılabilir.
- D) Yükseklik(derinlik) sıvı basıncını etkileyen değişkenlerden biridir.

4) Bıçağın keskin tarafı yerine keskin olmayan tarafıyla kesme işlemini yapamazsınız. -paletli iş makineleri yumuşak zeminlerde tekerli iş makinelerine göre daha rahat çalışabilirler. Yukarıdaki olaylar hangi ilke ile açıklanabilir?

- A) Basıncın artması bir cismin zemine batıcılığını azaltır.
- B) Bir yüzeye etki uygulandığında yüzey de ters yönde tepki uygular.
- C) Yüzey alanının büyütülmesi sürtünme kuvvetini azaltır.
- D) Kuvvet uygulanan bir yüzeyin alanı büyüdükçe basınç azalır.

5) Aşağıdaki bilim insanlarından hangisi elementleri atom numaralarına göre sıralayarak mendeleyev'in tablosundaki hataları düzeltmiştir?

- A) J.Newlands
- B) Döbereiner
- C) G.Seaborg
- D) H.Moseley

6) : Mutasyon ile modifikasyon arasındaki farkları belirtmek isteyen bir öğrenci hangi ifadeyi kullanırsa yanlışlık yapmış olur?

- A) Mutasyon çevre etkisi ile oluşur.
- B) Mutasyon yararlı veya zararlı olabilir.
- C) Modifikasyon kalıtsal olabilir.
- D) Yazın ten renginin bronzlaşması modifikasyona örnek olarak verilebilir.

- 7) Ayşe aşağıdaki ifadeleri iklim ve hava olayları olarak sınıflandırmak istiyor.
- Yozgat'ta yazlar sıcak ve kurak geçer.
 - Bugün havanın yağmurlu olacağı söyleniyor.
 - Ağrı 'da bu mevsim mutlaka kar yağar.
 - Siirt'te üç gün boyunca sıcaklık 30°C'un altına düşmeyecek.

Buna göre seçeneklerden hangisi Ayşe'nin yaptığı

doğru sınıflandırmadır?

İklim	Hava olayı
A) I - III	II – IV
B) I - IV	II – III
C) I - III	I – IV
D) III - IV	I-II

- 8) Uzun bolu olduğu bilinen iki bezelye çaprazlanıyor.

Çaprazlama sonucunda;

- Homozigot uzun boylu bezelye
- Heterezigot uzun boylu bezelye
- Kısa boylu bezelye

Yukarıda verilen tohum çeşitlerinden hangileri elde edilebilir? (*Uzun boyluluk geni kısa boyluluk genine baskındır*)

- I ve II
- I ve III
- II ve III
- I,II ve III

- 9) * Çölde yaşayan tilkilerin kulaklarının uzun, vücutlarının geniş olması sonucu vücutlarının ısı kaybı artar böylelikle vücut sıcaklıkları korunmuş olur.

* Çitaların avlanmak için bulundukları ortamla aynı renge sahip olmaları.

Bu durumlar aşağıdaki verilen hangi olaya örnektir

- Mutasyon
- Modifikasyon
- Adaptasyon
- Klonlama

- 10) Dünya kendi eksenini etrafında batıdan doğuya doğru dönmektedir. Bu olayın aşağıdakilerden hangisine etkisi yoktur?

- Mevsimlerin oluşması
- Gece gündüz oluşumu
- Dünya'nın üzerindeki sıcaklık değişimi
- Güneş'in doğudan doğması

- 11) Mevsimlerin oluşumu ile ilgili verilen bilgilerden hangisi yanlıştır?

- Kuzey yarım küre ilkbahar yaşarken, güney yarım küre sonbahar mevsimini yaşar.
- Ekvator'da kış mevsimi yaşanmaz.
- Mevsimler Dünya'nın Güneş'e olan uzaklığı ile değişir.
- Ülkemizde dört mevsim belirgin yaşanmaktadır.

- 12) Çocuklarının cinsiyetleri sırasıyla aşağıdaki gibi olan bir ailenin 6. çocuğunun kız olma olasılığı % kaçtır?
1. Erkek 2. Kız 3. Kız 4. Erkek
5. Kız 6.

- 25
- 50
- 100
- 0

- Soygazların hepsinin son yörüngelerinde aynı sayıda elektron vardır.
- Bazı metal ve ametaller oda sıcaklığında sıvı hâlde bulunabilir.
- Yarı metaller kırılgen olmadıkları için işlenebilir özelliktedirler.

- 13) Yukarıda verilenlerden hangisi ya da hangileri doğrudur?

- Yalnız I
- Yalnız II
- I ve II
- II ve III

14)Çeşitli etkenler sonucu maddelerin sadece dış yapısının değişmesini fiziksel değişim, dış yapısının yanı sıra iç yapısında da meydana gelen değişimleri ise kimyasal değişim olarak tanımlayan fen bilimleri öğretmeni aşağıda verdiği örneklerden hangisi diğerlerinden farklı bir değişimdir?

- A) Yoğurdun ekşimesi
- B) Demirin paslanması
- C) Buğdaydan un elde edilmesi
- D) Mum fitilinin yanması

15)Periyodik tablonun aynı yatay satırlarında bulunan elementlerle ilgili;
I. Kimyasal özellikleri benzer.
II. Periyot numaraları aynıdır.
III. katman sayıları aynıdır.
Yargılarından hangileri doğrudur?

- A) Yalnız I
- B) Yalnız II
- C) I ,II ve III
- D) II ve III

16)Mesut Öğretmenin periyodik çizelgedeki yerlerini tahtaya yazdığı elementlerden hangisi veya hangileri metaldir?
X =3. Periyot 2A grubu
Y =4. periyot 2A grubu
Z =1. Periyot 1A grubu

- A) Yalnız X
- B) X ve Y
- C) X, Y ve Z
- D) Yalnız Z

17)"Belirli bir yerde ve kısa süre içinde etkili olan hava şartlarıdır." ifadesini desteklemek için aşağıda verilen örneklerden hangisinin kullanılması yanlış olur?

- A) Öğleden sonra Mersin'e yağan dolu binalara ve araçlara zarar verdi.
- B) Afyon' da yazlar çok sıcak ve kurak geçer.
- C) Bugün yollarda gizli buzlanmadan dolayı bir çok araç durmakta zorlandı.
- D) Erzurum - Ankara arasındaki uçak seferleri fırtına sebebiyle ertelendi.

18)Mevsimlerle ilgili aşağıda verilen ifadelerden hangisi doğrudur?

- A) 21 Haziran tarihinde Güneş ışınları Kuzey Yarımküre'deki oğlak dönencesine dik açıyla düşer ve en uzun gündüz yaşanır.
- B) Kuzey Yarımküre'de 21 Haziran tarihi yaşanırken Güney Yarımküre'de 21 Aralık tarihi yaşanır.
- C) 23 Eylül'de Kuzey Yarımküre ışınları daha eğik açıyla almaya başladığı için havalar soğumaya başlar ve sonbahar mevsimi yaşanır.
- D) 21 Mart'ta hem Kuzey Yarımküre- hem de Güney Yarımküre ısınmaya başlar.

19)Günlük sıcaklık farkının oluşması aşağıdaki olayların hangisinin sonucudur?

- A) Dünya'nın kendi eksenini etrafında dönmesi
- B) Dünya'nın eksen eğikliği
- C) Dünya'nın güneş etrafında dolanması
- D) Güneş'in kendi eksenini etrafında dönmesi

20)Aşağıda verilen göz genotiplerinden hangisine sahip olan aileden, yeşil gözlü çocuk olma ihtimali daha yüksektir?
(Kahverengi göz rengi, yeşil göz rengine baskındır)

	Anne	Baba
A)	KK	kk
B)	Kk	Kk
C)	Kk	kk
D)	kk	kk

- 1) Balkanların önemli kültür merkezlerinden biri olan Selanik, Mustafa Kemal'in doğduğu ve çocukluk yıllarını geçirdiği şehirdir. Farklı dil, din ve ırka mensup milletler bir arada yaşırdı. Şehrin en önemli gelir kaynaklarından birisi de ticaretti.

Verilen bilgilere göre, Selanik şehrinin aşağıdaki özelliklerinden hangisi hakkında bilgi verilmemiştir?

- A) Kültürel yapı
- B) Sosyal yapı
- C) Askeri yapı
- D) Ekonomik yapı

- 2) Mustafa Kemal, 31 Mart Vakası'ndan sonra subayların siyasete karışmasının tehlikelerini sezmişti. Subaylar arasında yayılan partililik düşüncesi orduda düzen ve disiplinin bozulmasına neden olmuştu. Mustafa Kemal bu durumun gelecekte, vatanın bekası için tehlikeli sonuçlar doğurabileceğini belirtmişti. Bu nedenle ordunun siyasetten uzak durması gerektiği yönündeki düşüncelerini arkadaşlarıyla paylaşmıştı. Nitekim Balkan Savaşları sırasında Mustafa Kemal'in öngörülleri gerçekleşmiş ve ordumuz büyük bir felaketle karşılaşmıştır.

Bu metinden Mustafa Kemal'in hangi kişisel özelliği çıkarılabilir?

- A) İdealistliği
- B) Eğitimciliği
- C) İleri görüşlülüğü
- D) Sabırlılığı

- 3) Dünya Savaşı'nda Almanya Osmanlı Devleti'nin bir an önce savaşa girmesini isterken; İngiltere ve Fransa ise Osmanlı Devleti'nin tarafsızlığını sağlamak için büyük bir çaba harcamışlardır.

Avrupa'nın büyük devletlerinin Osmanlı Devleti ile yakından ilgilenmelerinin en önemli nedeni aşağıdakilerden hangisidir?

- A) Osmanlı Devleti'nin teknolojik gücünün olması
- B) Osmanlı Devleti'nin jeopolitik konumu
- C) Osmanlı Devleti'nin ekonomik açıdan güçlü olması
- D) Osmanlı'nın sömürgecilik yapması

- 4) **Mondros Ateşkesinin;**

- I. Anlaşma Devletleri kömür, akaryakıt gibi ihtiyaç maddelerini Osmanlı Devleti'nden sağlayabilecekti.
 - II. Osmanlı Devleti bütün savaş esirlerini serbest bırakacak, buna karşılık Türk esirler Anlaşma Devletleri'nin kontrolünde kalacaktı.
 - III. Kapitülasyonlar genişletilerek devam ettirilecekti.
 - IV. Osmanlı Ordusu terhis edilecekti.
- maddelerinden hangilerinin İtilaf Devletlerinin ekonomik çıkarlarını sürdürme amacına yönelik olduğu savunulabilir?**

- A) I ve III
- B) II ve III
- C) III ve IV
- D) I ve II

5) Kurtuluş Savaşı hazırlıkları sırasında:Ona “ordu yok” dediler “Kurulur” dedi.“Para yok” dediler. “Bulunur” dedi.“Düşman çok” dediler. “Yenilir” dedi.Yukarıdaki diyalogda Mustafa Kemal’in hangi özelliğinin vurgulandığı söylenebilir?

- A) Acıma gücünü kontrol edebildiği
- B) Çok cepheli fikir ve hareket adamı olduğu
- C) İleri görüşlü olduğu
- D) Ümitsizliğe yer vermediği

6) -Azınlıklara, milli bütünlüğümüzü zedeleyici ayrıcalıklar verilemez.
-Milli sınırlar içinde vatan bir bütündür; bölünemez.
-Manda ve himaye kabul edilemez.

Erzurum Kongresi’nin bu maddeleri göz önüne alındığında aşağıdakilerden hangisine diğerlerinden daha fazla önem verildiği anlaşılmaktadır?

- A) Millî egemenliği gerçekleştirme
- B) Yeni bir devlet kurma
- C) Tam bağımsızlığı sağlama
- D) Çağdaşlaşmayı sağlama

7) Sivas Kongresinin aşağıdaki kararlarından hangisi “**Milli Mücadeleyi tek elden yürütmek**” amacıyla alınmıştır?

- A) Manda ve himaye fikri kesin olarak reddedilmiş.
- B) Bütün Milli cemiyetler “ Anadolu ve Rumeli Müdafaa-i Hukuk Cemiyeti ” adı altında birleştirilmiş
- C) Erzurum Kongresi kararları kabul edilmiş.
- D) Milli Mücadelenin sesini duyurmak için İrade-i Milliye Gazetesi kurulmuş.



Temsil Heyeti ve Milli Mücadele taraftarları adına Amasya Görüşmelerine katıldım. İstanbul Hükümeti’ni ise Bahriye Nazırı Salih Paşa temsil etmişti

8) Buna göre İstanbul Hükümeti’nin Temsil Heyeti ile bu düzeyde bir görüşmeyi kabul etmesi aşağıdakilerden hangisinin kanıtıdır?

- A) Milli Mücadelenin hukuken tanındığının
- B) İtilaf Devletlerinin, İstanbul Hükümeti’ne desteğinin arttığının
- C) Padişahın desteğine ihtiyaç duyulduğunun
- D) Anadolu’da sosyal karışıklıklar yaşandığının

9) Misakımilli kararlarında yer alan;

✂ Batı Trakya’nın durumunun tespitinde halk oyuna başvurulmalıdır.

◆ Azınlıklara komşu memleketlerdeki Türklere tanınan haklar oranında hak verilecektir.

⊕ Gelişmemizi engelleyen siyasi, adli ve mali sınırlandırmalar kaldırılmalıdır.

maddelerinin eşitlik, demokrasi ve bağımsızlık anlayışlarıyla ilgileri aşağıdakilerden hangisinde doğru olarak verilmiştir?

	Eşitlik	Demokrasi	Bağımsızlık
A)	◆	⊕	✂
B)	⊕	◆	✂
C)	⊕	✂	◆
D)	◆	✂	⊕

10) **Milli irade**; halkın kendi iradesiyle seçtiği kişilerin bir çatı altında bir araya gelerek halkın menfaatleri doğrultusunda çalışmalar yapmasını zorunlu kılar.

Buna göre İtilaf Devletlerinin aşağıdaki girişimlerinden hangisi milli iradeyi yok etme amacını taşımaktadır?

- A) İstanbul Hükümetini yönlendirmesi
- B) Osmanlı ordusunun dağıtılması
- C) Meclis-i Mebusan’ın dağıtılması
- D) TBMM’nin açılması

11) TBMM açıldıktan sonra Anadolu'nun dört bir tarafında isyanlar baş gösterdi. Meclis çok zor durumda kalmıştı. İsyancıları bastırmak için her geçen gün güç tükeniyordu. Doğru, etkili ve süratli kararlar verilmediği takdirde başarısızlık kaçınılmazdı. Ülkede kıtlık ve kuraklık hüküm sürüyor vekiller az besleniyor, neleri var neleri yok satıyordu. Halk da fakirlikten kırılıyordu. Şartlar zor ve ağırdı. **Bu zor durumların üstesinden gelebilmek isteyen TBMM'nin hangi özelliği ön plana çıkmaktadır?**

- A) Kabine Sistemini Benimsemesi
- B) Kuvvetler Birliğini uygulaması
- C) Tam bağımsızlığı temele alması
- D) Milli İrade'ye saygı duyması

12) Mustafa Kemal;• Havza Genelgesi'nde işgallere karşı protesto telgrafları çekilmesini ve mitingler düzenlenmesini istemiştir. • Sivas Kongresi'nde tüm milli cemiyetleri "Anadolu ve Rumeli Müdafaa-i Hukuk Cemiyeti" adı altında birleştirmiştir. **Milli Mücadele'nin Hazırlık Dönemi'nde alınan bu kararlar ile hangisi gerçekleştirilmek istenmiş olabilir**

- A) Milli birlik ve beraberliğin sağlanması
- B) Misakımilli'nin hazırlanması
- C) Milli egemenliğin gerçekleştirilmesi
- D) Milli bir ekonominin oluşturulması



"Fransızlar Antep'e girince Antep halkının teşkilat kurmasına ve direnmesine yönelik tedbirler almaya çalıştım. Kilis - Antep yolu üzerinde Fransız kuvvetlerini bozguna uğrattım."

13) Buna göre Şahin Bey ile ilgili olarak aşağıdakilerden hangisine ulaşılabilir?

- A) Azınlıklara karşı mücadele ettiği
- B) Teslimiyetçi politikalar izlediği
- C) Emrinde düzenli ordu birliklerinin olduğu
- D) Fransızlara karşı başarı kazandığı

14) **Sevr Antlaşmasının bazı maddeleri şunlardır:** Osmanlı maliyesi, İtilaf Devletleri'nin temsilcilerinden oluşan bir komisyon tarafından yönlendirilecek. Bu komisyon gerektiğinde Türk temsilcilerine danışacak. Kapitülasyonlardan müttefik devletler yararlanacak ve Osmanlı Devleti savaştan zarar görenlere tazminat ödeyecektir. **Sevr Barış Antlaşması'nın yukarıdaki maddeleri aşağıdaki alanlardan hangisi ile ilgilidir?**

- A) Siyasi
- B) Askeri
- C) Ekonomi
- D) Eğitim

15) **Kurtuluş Savaşı'nda,**

- Yunanlıların Ege Bölgesi'ndeki işgallerini sürekli genişletmesi,
 - Kuvay-i Milliye birliklerinin Yunan güçleri karşısında etkisiz kalması
- Gelişmelerinin aşağıdakilerden hangisini zorunlu hale getirdiği savunulabilir?**

- A) İstanbul Hükümeti'nin desteğinin alınmasını
- B) Düzenli ordunun kurulmasını
- C) Bölgesel kurtuluş çabalarının güçlendirilmesini
- D) İtilaf devletleriyle olan anlaşmazlıkların bitirilmesini

16) **Gümrü Antlaşması'nın Sonuçları**

1	2	3
Ermeniler, Doğu Anadolu'da yenilgiye uğratılmıştır.	TBMM ve Ermenistan arasında Gümrü Antlaşması yapılmıştır	Ermenilerle Doğu Anadolu'daki Türk halkının bir arada yaşama olanağı kalmamıştır

Tabloda verilen sonuçların ilişkilendirilebileceği alanlar numaralandırılmıştır. **Aşağıda verilen sonuçların hangisinde doğru bir ilişkilendirme yapılmıştır?**

1	2	3
A) Askeri	Siyasi	Sosyal
B) Ekonomik	Siyasi	Dini
C) Dini	Askeri	Siyasi
D) Askeri	Ekonomik	Sosyal

17) Birinci İnönü Savaşı'ndan sonra

görülen,

I. İstiklal Marşı'nın kabul edilmesi

II. TBMM Hükümeti'nin Londra

Konferansı'na çağırılması

III. Sovyetler Birliği ile Moskova

Antlaşması'nın imzalanması

IV. Teşkilat-ı Esasiye'nin kabulü

Gelişmelerinden hangileri bu zaferin

uluslararası alanda olumlu etkileri

olduğunu kanıtlar?

A) I ve IV

B) I ve II

C) III ve IV

D) II ve III

18) Güney Cephesinde Fransızlar halkın
direnişi karşısında Türk topraklarında
kalamayacaklarını gördüler. Batı
Cephesi'nde Yunanlılara karşı kazanılan
Sakarya Zaferi'nin arkasından TBMM ile
Fransa arasında 20 Ekim 1921'de Ankara
Antlaşması imzalandı.

Bu bilgilere göre;

I. Güney Cephesi'nde başarılı olunmuştur.

II. TBMM'nin saygınlığı artmıştır.

III. Bir cephede kazanılan zafer diğer
cephelerde de etkilemiştir. yargılarından
hangilerine ulaşılabilir?

A) Yalnız I.

B) I ve II.

C) I, II ve III.

D) II ve III.

19) Sovyet Rusya ile yapılan Moskova
anlaşması büyük bir kazanç olsa da Misak-i
Milli'den verdiğimiz ilk taviz olmuştur.

Antlaşmada yer alan maddelerden
hangisi bu yargıyı desteklemektedir?

A) İki taraf arasında ekonomik ilişkiler geliştirecektir.

B) Sovyet Rusya, Batum'un Gürcistan'a verilmesi şartıyla Türkiye'nin doğu sınırını tanıyacaktır

C) Sovyet Rusya TBMM'yi tanıyacaktır.

D) Taraflardan birinin tanımadığı uluslar arası bir antlaşmayı diğeri de tanımayacaktır

20) İtilaf devletleri I. İnönü Zaferi'nden sonra
ortaya çıkan durumu görüşmek için
Londra'da bir konferans düzenlediler.
Konferansa hem Osmanlı hükümetini hem
de TBMM hükümetini davet ettiler.

Buna göre, İtilaf devletleri Londra
Konferansı'na iki hükümeti birlikte davet
etmekle aşağıdakilerden hangisini
amaçlamışlardır?

A) Türk tarafında ikilik çıkarmayı

B) Türk ordusunu desteklemeyi

C) Osmanlı devletine son vermeyi

D) TBMM'yi resmen tanıtmayı

1) **Meg:** What are you doing tonight? Would you like to go out?

Ezra: I'm going to study tonight.

Diyaloğa uygun düşen ifadeyi işaretleyiniz.

- A) Yeah, that would be great.
- B) Yes, I would.
- C) That sounds fun!
- D) I'm sorry, but I can't.

2) **Jerry:**

Tom: I'm going to watch movies at home.

Diyaloğa uygun düşen soruyu işaretleyiniz.

- A) Where are you going to go on holiday?
- B) What are you going to do tomorrow evening?
- C) What did you do yesterday?
- D) Where do you like watching films?

3) "I really get on well with Jessica. She is my best friend."

Which of the followings has the same meaning with the underlined phrase

- A) to like each other
- B) to help someone
- C) friends
- D) someone you don't know

4) "I'd like to try snow tubing. I think it's very unusual and exciting." Choose the correct Picture.



5) I don't like hiking. I think it's very

- A) exciting
- B) enjoyable
- C) trendy
- D) boring

6) "What kind of music do you like listening to?"

Which one **CAN NOT** be an answer?

- A) Classical
- B) Brake lever
- C) Heavy metal
- D) Electronic

7) Which one is **WRONG**?



8) Choose the correct option.



- A) dice the cucumber
- B) slice the cucumber
- C) peel the cucumber
- D) spread the cucumbe

9) How to make a French toast

....., put the slices of bread in an oven or a toaster and turn it on.

....., take out the slices when they are red enough and spread butter or jam on the toast.

....., close the toast.

....., slice the toast in half and enjoy it.

- A) First / Finally / Next / After that
- B) Next / After that / First / Finally
- C) Next / First / Finally / After that
- D) First / Next / After that / Finally

10) My father doesn't like using technology, so he usually with his friends.

- A) speaks face-to-face
- B) leaves a voicemail
- C) uses social networks
- D) makes a phone call

11) Susan: Hello, Susan speaking.

Tom: Hi Susan, this is Tom. Is your brother in?

Susan: I'll get him.

- A) He's not available at the moment.
- B) He is not at home now.
- C) Hang on a minute, please.
- D) This is Jack, speaking.

12) Donna: Hello.

Sarah: Hello. Is Bill there?

Donna: I'm afraid. He is not at home.?

Sarah: Yes, please. Could you tell him to contact me? It's about the homework.

- A) May I ask who's calling
- B) Would you like to leave a message
- C) Do you have a plan in the afternoon
- D) Would you like to come with me

13) Bill: Who in your family spends the most time on the Internet?

Jane: My sister. She spends seven hours online everyday.

- A) She doesn't like using the technology.
- B) She's an Internet addict.
- C) She never spends time on the Net.
- D) She doesn't have a PC.

14) Dennis: Do you have a mobile device connected to the Internet?

Daniel: What do you mean?

Dennis: I mean, do you have a tablet or smart phone with the

- A) connection cable
- B) connection sign
- C) wireless modem
- D) Internet connection



15) Choose the correct option

- A) speakers
- B) wireless modem
- C) USB flash drive
- D) webcam

16) Terry: How often do you use the Internet?

Sue: I don't like using the technology.

- A) Always
- B) Usually
- C) Never
- D) Often

Would you like to play board games?

17) Which one refuses the offer?

- A) Great! I like board games.
- B) Ok. Let's play chess.
- C) I'd loveto.
- D) Sorry, I'm busy at the moment.

18) Which of the cooking methods is WRONG?

How do you usually cook vegetables?	
bake	corns, green peppers
grill	eggplants, carrots
fry	green peppers, cauliflowers
steam	cabbage, zucchinis

- A) bake B) grill C) fry D) steam

19)Hi! My name is Amy. On weekdays, I get up at half past seven, and I have breakfast with my parents. I go to school by bus, but my father takes the train to work. My mother works at home. She is a web designer.

Which question does NOT have an answer?

- A) What time does Amy get up?
- B) How does she go to school?
- C) What does she have for breakfast?
- D) Who does she have breakfast with?

20)Ali:

Kevin: I like thrillers. "Jack Reacher" is my favourite movie.



- A) Do you like watching films?
- B) What kind of movies do you like?
- C) Would you like to watch a movie?
- D) Shall we go to the cinema?

1) Aşağıdakilerden hangisi kaderle ilgili kavramlar arasında yer almaz?

- A) Rızık
- B) Ömür
- C) İnfak
- D) Tevekkül

2) Aşağıdakilerden hangisi kader anlayışı ile ilgili yanlış bir söylemdir?

- A) Allahu Teala her şeyi belli bir ölçüye göre yaratmıştır.
- B) İnsan rüzgar önünde savrulan yaprak misalidir.
- C) Kader inancı insanı başarıya götürür.
- D) Kader inancı insanı zor zamanlarında teselli verir ve sabrı öğretir.

3) Aşağıdakilerden hangisi Tevekkül kelimesinin anlamları arasında yer almaz?

- A) Dayanmak
- B) Güvenmek
- C) Teslim olmak
- D) Samimi olmak

4) Aşağıdaki ayetlerden hangisi biyolojik yasaya örnektir?

- A) “Biz gerçekten insanı en güzel bir biçimde yaratık”(Tin suresi 4. ayet)
- B) “Onun koyduğu yasalarla denizden akıp gitsin diye gemileri de hizmetinize verdi”(İbrahim Suresi 32. ayet)
- C) Allah için şahitlik yaparak adaleti titizlikle ayakta tutan kimseler olun”(Nisa suresi 135. ayet)
- D) “Gece ile gündüzü birbiri ardınca getiren Allah’tır.” (Furkan suresi 62. ayet)

5) Kur’an- I Kerim’de zekatın verileceği kimselerden bahseden ayet aşağıdakilerden hangisidir?

- A) Kamer suresi. 49. ayet
- B) İsra suresi 5. ayet
- C) Tevbe suresi 60. ayet
- D) Zilzal suresi 3. ayet

6) Aşağıda verilen zekat oranlarından hangisi yanlıştır?

- A) koyun 1/ 40
- B) Sığır 1/30
- C) Madenler 1/ 5
- D) Deve 1/ 5

7) Aşağıdakilerden hangisi sadaka –I cariyeye kapsamında değerlendirilemez?

- A) Ramazanda fakir birine yapılan yardım
- B) Hayırlı evlat
- C) Çeşme yaptırmak
- D) İnsanlara hayırlı ilim eseri bırakmak

8) “ Ayşe bir haftadır Din Kültürü sınavına yeteri kadar çalışmıştır. O güne kadar ödevlerini bitirmiş, tekrarlarını yapmıştır, derslere de aktif olarak katılmıştır. Sınav günü artık kendinden emin bir şekilde başarılı olmak için Allah’a dua etmiştir. “ Verilen metne göre Ayşe dinimizin hangi iki anlayışı çerçevesinde hareket etmiştir?

- A) İbadet- İyilik
- B) Tedbir –tevekkül
- C) Emek- helal kazanç
- D) Ecel- Ömür

9) Mehmet kaldırırmda yürürken bir olaya şahit olur. Genç kız kırmızı ışıktı durmamış ve hareket halindeki araç ona çarpmıştır. Kazayı gören insanların olayla ilgili söylediği ifadelerden hangisi kader anlayışı ile örtüşmez?

- A) Tedbir kuldı tevekkül Allahtandır.
- B) Allah ‘tan geldik Allah ‘a döneceğiz.
- C) Kırmızı ışıktı durması gerekirdi
- D) Olacağı varmış olmuş . Bizim elimizden bir şey gelmez.

10) Aşağıdakilerden hangisine zekat verilmez?

- A) Teyze
- B) Amca
- C) Torun
- D) Kız kardeş

11) "... Şunu bil ki bütün insanlar sana fayda vermek için toplansa Allah'ın takdiri dışında sana faydalı olamazlar. Ayrıca bütün insanlar sana zarar vermek için toplansa Allah'ın takdiri dışında sana hiçbir şeyde zarar veremezler. Bu konuda kalemler kaldırılmış, (Karar verilmiş) sayfalar kurumuştur. (hüküm kesinleşmiştir.)"

Yukarıda verilen hadisten çıkarılabilecek en kapsamlı yargı aşağıdakilerden hangisidir?

- A) Bütün insanlar irade sahibidir.
- B) Her şey insanın istemesi ve dilemesine bağlıdır.
- C) insan isterse başkalarına faydalı olabilir.
- D) Allah'ın dilemesi ve takdiri dışında hiçbir fayda veya zarar meydana gelmez.

12) Allah'ın Evrendeki yasalarını üç başlıkta inceleyebiliriz.

- Fiziksel yasalar
- Biyolojik yasalar
- Toplumsal yasalar
- Aşağıdaki ayetlerden hangisi bu yasalardan herhangi biriyle ilişkilendirilemez?

- A) "Gece de onlar için bir delildir. Gündüzü ondan çıkarırız, bir de bakarsın karanlık içinde kalmışlardır"
- B) "Yapmakta olduğunuz şeylerden mutlaka sorguya çekileceksiniz"
- C) Allah sizi topraktan sonra nutfeden yarattı.Sonra da sizi birbirinize eş kıldı. O'nun bilgisi olmadan hiçbir dişi ne gebe kalır ne de doğurur"
- D) "... Şüphesiz ki bir topluluk kendi durumunu değiştirmedikçe Allah onların durumunu değiştirmez..."

13) Tevekkül kişinin gereken önlemleri alıp sorumluluğu yerine getirdikten sonra Allah'a dayanıp güvenmesidir. Aşağıdakilerden hangisi doğru bir tevekkül anlayışıdır?

- A) Bütün yıl düzenli ve disiplinli ders çalışan Sema'nın sınavda başarılı olmak için dua etmesi
- B) Ali'nin, arabasını yıkılmak üzere olan duvarın dibine park edip Allah' a dua etmesi.
- C) Hasan'ın hastalanınca doktora gidip sadece ilaçlarla iyileşeceğini düşünerek dua etmemesi
- D) Ela'nın gece uyurken evin dış kapısını kilitleyip sadece Allah'a sığınması

14) Din; sosyal ilişkilerimizi de Allah'ın emrettiği ilkeler çerçevesinde düzenlemeyi amaçlar. Aşağıdakilerden hangisi bu çerçevede değerlendirilemez?

- A) Komşularımızla iyi geçinmek
- B) İnsanlarla alçak sesle ve saygılı konuşmak
- C) Farz olan beş vakit namazı kılmak
- D) Başkalarının arkasından konuşmamak

15) " Kim bir kimseyi öldürürse bütün insanları öldürmüş gibi olur. Kim de bir can kurtarırsa bütün insanların hayatını kurtarmış gibi olur. " ayetinde vurgulanan insan hayatının kutsallığını ifade eden ilke aşağıdakilerden hangisidir?

- A) Canın korunması
- B) Malı korunması
- C) Neslin korunması
- D) Dinin korunması

16) Aşağıdakilerden hangisi malın korunmasına yönelik değildir?

- A) "İnsan için ancak çalıştığının karşılığı vardır"
- B) "İnsanların mallarını ve haklarını eksiltmeyin"
- C) O halde sen de dini Allah'a has kılarak kulluk et"
- D) " Yiyin için fakat israf etmeyin. Çünkü Allah israf edenleri sevmez"

17) Aşağıdakilerden hangisi Asr suresinde vurgulanan ilkelerden değildir?

- A) Salih amel işlemek
- B) Hakkı(doğruluğu) tavsiye etmek
- C) Sabrı tavsiye etmek
- D) Kötülüklerden Allah'a sığınmak

18) Aklın korunmasına yönelik olarak aşağıdakilerden hangisi yanlıştır?

- A) İçki uyuşturucu gibi maddelerden uzak durmalıyız.
- B) Doğru kaynaklardan doğru bilgiler edinmeliyiz.
- C) Bilgisayar telefon televizyon gibi aletleri ölçülü kullanmalıyız.
- D) Bilgisayar veya telefondan her türlü içeriği izleyebiliriz.

19) Dinin hem bireysel hem de toplumsal hayatımıza faydaları vardır. Aşağıdakilerden hangisi dinin bireysel faydalarından değildir?

- A) Temel haklarımızı koruma altına alması
- B) Manevi boşluğu doldurup iç huzuru sağlaması
- C) Paylaşma ve dayanışmaya yönlendirmesi
- D) Zorluklara karşı sabırlı olmamızı sağlaması

20) – Allah'ın her şeyi bilmesi
-Allah'ın her şeye gücünün yetmesi
-Allah'ın dilediği her şeyi dilediği şekilde yapması
Yukarıda tanımları verilen Allah'ın sıfatları sırasıyla aşağıdakilerden hangisidir?

- A) irade, kudret, ilim
- B) İlim,kudret, irade
- C) kudret, irade, ilim
- D) ilim, irade, kudret

CEVAP ANAHTARI

TÜRKÇE	MATEMATİK	FEN BİLGİSİ	İNKILAP	İNGİLİZCE	DİN KÜLTÜRÜ
1 D	1 C	1 C	1 C	1 D	1 C
2 B	2 B	2 B	2 C	2 B	2 B
3 C	3 A	3 C	3 B	3 A	3 D
4 B	4 C	4 D	4 A	4 B	4 A
5 B	5 B	5 D	5 D	5 D	5 C
6 C	6 C	6 C	6 C	6 B	6 D
7 C	7 B	7 A	7 B	7 B	7 A
8 D	8 D	8 D	8 A	8 C	8 B
9 A	9 A	9 C	9 D	9 D	9 D
10 C	10 B	10 A	10 C	10 A	10 C
11 C	11 B	11 C	11 B	11 C	11 D
12 D	12 C	12 B	12 A	12 B	12 B
13 B	13 B	13 D	13 D	13 B	13 A
14 A	14 C	14 C	14 C	14 D	14 C
15 C	15 B	15 D	15 B	15 B	15 A
16 A	16 C	16 B	16 A	16 C	16 C
17 D	17 B	17 B	17 D	17 D	17 D
18 B	18 C	18 C	18 C	18 B	18 D
19 D	19 D	19 A	19 B	19 C	19 C
20 C	20 A	20 D	20 A	20 B	20 B

Çalışmada Emeği Geçen Öğretmenlerimiz

Ortaokul Koordinatörü-Sancaklar Ortaokulu Müdürü
Bekir YEŞİL

Bilişim Teknolojileri İl Koordinatörü
Tarık IŞIKTAŞ

Bilişim Teknolojileri Öğretmeni
Zehra TOKER

Türkçe Öğretmeni

Matematik Öğretmenleri

Fen Bilgisi Öğretmenleri

Vedat TATLI
Ayşegül SİRMA
Mustafa ÇIK
Aydan KAHYALAR
Kübra ÇELİK

Muhyettin SARSILMAZ
Emre DEMİRCİ
Selma KARAKAŞ
Hazal SARAÇOĞLU

Mahmut EKİNCİ

İngilizce Öğretmeni
Mesut ELİNÇ

İnkılap Öğretmeni
Semra KAVUT ETİZ

Din Kültürü Öğretmeni
Ayşe ÇEVİK
Safiye YILDIZ