



# Haftalık Ödev

31 MAYIS- 4 HAZİRAN



**SIİRT**  
İL MİLLÎ EĞİTİM MÜDÜRLÜĞÜ

[www.  
siirt.meb.gov.tr](http://www.siirt.meb.gov.tr)



- 1)  $a=3.(-3)$   
 $b=(-4).(+4)$   
 $c=|-5| \cdot |-5|$   
 $d=|-6| \cdot (-6)$

olduğuna göre a, b, c ve d sayılarından hangisi pozitifdir?

- A) a  
 B) b  
 C) c  
 D) d

- 2) Bir asansöre 6.katta binen Furkan, önce 4 kat yukarı çıkmış, sonra da 8 kat aşağı inmiştir.

**Buna göre, Furkan 7.kata gitmek için aşağıdakilerden hangisini yapmalıdır?**

- A) 6 kat aşağı inmelidir.  
 B) 5 kat aşağı inmelidir.  
 C) 5 kat yukarı çıkmalıdır.  
 D) 6 kat yukarı çıkmalıdır.

- 3)  $2-(-2):(-2)+(-2).(-2)$

**İşleminin sonucu kaçtır?**

- A) 5  
 B) 6  
 C) 8  
 D) 9

- 4) Demet ve Ceren bir matematik oyunu oynuyorlar. Oyunun kuralı aşağıdaki gibidir.  
**Kural : Herkes aklından -9 ile +9 arasında bir tamsayı tutacaktır. Sayılar kağıda yazılarak kendi tuttuğu sayıyı taban, arkadaşının tuttuğu sayıyı üs olarak yazıp , üslü sayının değerini hesaplayacaktır.**

**DEMET = -3**

**CEREN = +5**

Demet ve Ceren'in tuttıkları sayılar yukarıda verilmiştir. Buna göre **Demet'** in bulacağı sayı kaçtır?

- A) -243  
 B) -125  
 C) 125  
 D) 243

- 5) a ile b birer tamsayıdır.

**a. b=20**

olduğuna göre **a+b** toplamı aşağıdakilerden hangisi olamaz?

- A) -21  
 B) -9  
 C) 9  
 D) 14

- 6) Dört arkadaş birbirinden farklı dört bilgisayar programı hazırlıyor. Bu programlarda bir kutucuğa bir sayı girildiğinde aşağıdaki işlemler yapılıyor.
- A) Mert'in programı sayıyı -2 ile topluyor.
- B) Efe'nin programı sayıdan -2 çıkarıyor.
- C) Caner'in programı sayıyı -2 ile çarpıyor.
- D) Ahmet'in programı sayıyı -2 ye bölüyor.

Bu dört arkadaşın yaptığı programa -6 sayısı girildiğinde kimin programında çıkan sonuç diğerlerinden daha büyük olur?

- A) Mert
- B) Efe
- C) Caner
- D) Ahmet

- 7)  $0,2 - 0,12$

İşleminin sonucu aşağıdakilerden hangisine eşittir?

- A)  $4/25$
- B)  $2/25$
- C)  $1/25$
- D)  $1/5$

- 8) Aşağıdakilerden hangisi  $1/4$  ile  $2/3$  arasındadır?

- A)  $2/5$
- B)  $3/4$
- C)  $5/4$
- D)  $7/8$

- 9)  $2/3$  'ü dolu olan havuza 84 ton su koyulduğunda havuz tamamen doluyor. Buna göre havuzun tamamı kaç ton su alır?

- A) 168
- B) 214
- C) 224
- D) 252

- 10) a ve b birer pozitif tam sayı olmak üzere  $a/b = 1,2$

Olduğuna göre  $a+b$  en az kaçtır?

- A) 8
- B) 11
- C) 14
- D) 17

- 11)  $K = 2/5$  'in toplama işlemine göre tersi

$L = -3/4$  'ün toplama işlemine göre tersi

Yukarıda verilenlere göre

$K - L = ?$  işleminin sonucu kaçtır?

- A)  $23/20$
- B)  $7/20$
- C)  $-7/20$
- D)  $-23/20$

- 12) Derya hafta sonu ödevindeki 108 sorunun  $5/9$  'unu çözüyor. Çözdüğü soruları kontrol ettiğinde  $4/15$  'inin yanlış olduğunu görüyor. Buna göre Derya kaç soruyu doğru yapmıştır?

- A) 16
- B) 32
- C) 44
- D) 52

13)  $(3n+4) - (n-2)$

İfadesinin en sade eşdeğerini bulmak isteyen Filiz aşağıdaki işlemleri yapmıştır.

1.Adım =  $3n+4-(n-2)$

2.Adım = .....

3.Adım =  $3n-n+4+2$

4.Adım =  $(3-1)n+(4+2)$

5.Adım = .....

Filiz tüm adımları doğru yaptığına göre, 2. ve 5. Adımdaki işlemler sırasıyla aşağıdakilerden hangisidir?

A)  $3n+4+n+2$

$2n+6$

B)  $3n+4-n+2$

$2n+6$

C)  $3n+4-n-2$

$2n+6$

D)  $3n+4+n-2$

$2n+6$

14) Serkan ile Volkan'ın paraları toplamı 150 liradır.Serkan , Volkan'a 30 lira verdiğinde Serkan'ın parası Volkan'ın parasının 2 katı oluyor.Buna göre Volkan'ın kaç lirası vardır?

A) 10

B) 15

C) 20

D) 25

15)  $X+2X+4X+8X+.....+64X = 127$

ise X değeri kaçtır?

A) -1

B) 0

C) 1

D) 2

16) Mehmet'in yaşı, kardeşi Buket'in yaşının 6 katıdır. 12 yıl sonra Mehmet'in yaşı, Buket'in yaşının 2 katı olacağına göre Buket'in bugün ki yaşı kaçtır?

A) 2

B) 3

C) 16

D) 18

17)

$5X+3 = 8X+m$  denkleminde X 'in değeri -1 olduğuna göre, m kaçtır?

A) -10

B) -6

C) 6

D) 8

18)  $6.(X+5) - 3.(2+X) = 7X+4$  olduğuna göre X 'in değeri ile ilgili olarak aşağıdakilerden hangisi doğrudur?

A) En küçük tamsayıdır.

B) Asal sayıdır.

C) 2 'ye kalansız bölünür.

D) Negatif bir tam sayıdır.

19) Genel kuralı  $3n$  olan bir sayı örüntüsünün terimlerinden biri 27 dir.

**Buna göre, bu sayı örüntüsünün 27 den sonraki ilk terimi kaçtır?**

- A) 30
- B) 32
- C) 33
- D) 35

20)


$$2X+5 = -X-4$$

$$Y-X = 5$$

olduğuna göre Y kaçtır?

- A) 2
- B) 4
- C) 6
- D) 8

Varsın çorbanın tuzu az gelmiş olsun.  
Varsın pilav birazcık lapa olmuş olsun.  
Varsın en sevmediğiniz yemek, kereviz  
olsun masada.  
Sofranızda SEVGİ var mı ?  
ondan haber verin ..  
Tadına var akşamının...  
Gece evinde, dostların olsun  
Sohbet edecek birileri olsun...  
Arkadaşım, hayat bu.  
Daha ne olsun !  
Ama en önce ve  
illa ki SAĞLIK olsun !  
CanYÜCEL



1) Aşağıdaki cümlelerden hangisi  
yazarın dizeleri doğrultusunda  
değildir?

- A) Sağlıklı bir köylü olmak, hasta  
imparator olmaktan iyidir.
- B) Sağlam kafa sağlam vücutta bulunur.
- C) Gücün ve mutluluğun kaynağı  
sağlıktır.
- D) Bir yerde yaşam varsa orda umut da  
vardır.

2) Sağlık bakanı Fahrettin Koca: **"yeni  
hayatta normalleşme geçiyoruz."**  
diyerek Türkiye, koronavirüsle  
mücadelesinde ilk dönemi tamamladığını  
açıkladı. Bakan virüs aramızda  
dolaşmaya devam edecektir. Konuk  
olduğumuz evde, bindiğimiz asansörde,  
alışveriş yaptınız markette, gittiğiniz  
berberde, kalabalığa karıştığınız caddede  
karşınıza çıkabilir. Salgın kontrol altına  
alınmıştır fakat virüsle ilgili gerçek  
değişmemiştir. Eviniz en güvenilir yerdir.

**Bakanın sözüne ettiği durum,**

- I. Düzcede yıllardır terzilik yapan ve  
kitaplar yazan Özcan yetgin isimli esnaf  
iş yerinin bir bölümünde yaptırdığı  
kütüphanesindeki kitapları salgın  
nedeniyle evlere servise başlaması.
- II. Ali ve Zeynep in güzel havayı kaçırmak  
istemeyip arkadaşlarıyla sahile yürüyüşe  
gitmeleri.
- III. İnsanların sanattan uzak kalmamaları  
doğrultusunda dünya ve türkiyedeki  
müzelerin koleksiyonlarını ücretiz olarak  
erişime açmaları.


**Örneklerinden hangileriyle  
ilişkilendirilebilir?**

- A) yalnız I
- B) II ve III
- C) I ve III
- D) I, II, III




“yaşamayı ciddiye alacaksın,  
yani o derecede, öylesine ki,  
mesela kolları bağlı arkadan, sırtın  
duvarda,  
yahut kocaman gözlüklerin , beyaz  
gömleğinle  
laboratuvarda insanlar için ölmeyi  
bileceksin...

3) **Bu Nazım Hikmet’in şiirinin devamı  
işlenen konu ve duygu dikkate  
alındığında aşağıdaki dörtlüklerden  
hangisiyle devam ettirilebilir?**

a) Sen Türkiye gibi aydınlık ve güzelsin ! Benim doğduğum köylerde güzeldi, Sende anlat doğduğun köyleri, Anlat biraz!	b) Yerin seni çektiği kadar ağırsın, kanatların çırpındığı kadar hafif, kalbinin attığı kadar canlısın gözlerinin gördüğün kadar genç...
	
c) hem de yüzünü bile görmediğin insanlar için hem de hiç kime seni buna zorlamamışken hem de en güzel şeyin yaşamak olduğunu bildiğin halde	d) İnsan üç beş damla kan, ırmak üç beş damla su; Bir hayata çattık ki, hayatta kurmuş pusu. Geldi ölümlü yalan, gitti ölümsüz gerçek;

- 4) Yüzün yarısını kaplayan ve solunum yollarında üst düzey koruma sağlıyor. Diğer maskelerin aksine tekrar kullanılabilen ve soluk verme ventili daha dayanıklı olan bu maskeler %99,95 oranında koruma vaat ediyor. Standart tek kullanımlık maskeler 8 saatlik bir kullanım ömrü sağlarken N95 adlı maskeden çok daha uzun ömürlüdür. Genellikle madencilik gibi ağır maddelerin bulunduğu çalışma alanlarında tercih edilir.

**Bu bilgilere dayanarak aşağıdaki hangi görsel yarım yüz gaz maskesine aittir?**



5) Yukarıdaki cümle aşağıdakilerden hangisi ile tamamlanırsa cümlede yapı bakımından farklı bir fiil kullanılmış olur?

- A) Size uğrarım.
- B) Annem pasta yapacak.
- C) Sinemaya gidemeyiz.
- D) Müsait olacağız.



6) Karikatürden kullanılan anlatım biçimi hangisidir?

- A) betimleme
- B) öyküleme
- C) tartışma
- D) açıklama



7) Aziz Sancarla ilgili hazırlanan bu bilgiler hangi metin türüne örnektir?

- A) biyografi
- B) günlük
- C) söyleşi
- D) Otobiyografi

Birleşik fiiller en az iki sözcüğün bir araya gelmesiyle oluşur. Üçe ayrılır.

kurallı birleşik fiiller

yardımcı fiille kurulan birleşik fiiller

kaynaşmış birleşik fiiller

8) Aşağıdaki cümlelerin hangisinde birleşik fiil oluşumu bakımından farklıdır?

- A) Tatili çıkmamayı tercih etti.
- B) Bilgisayarı onun kırdığını tahmin ediyorum.
- C) Davranışlarındaki zarafet göz alıyordu.
- D) Buğdayların toplanmasını emretmişti



- 1 • Nereye gideceğimizi bilmiyorum, dedi.
- 2 • Peki, senin istediğin yerde buluşalım.
- 3 • Uzandı, bir süre öylece kaldı.

9) Yukarıdaki cümlelerde virgül aşağıdaki görevlerden hangisiyle kullanılmamıştır?

- A) Birbiri ardınca sıralanan eş görevli sözcükleri ayırmak için.
- B) Art arda gelen, birbirleriyle bağlantılı cümleleri ayırmak için
- C) Onay ya da ret bildiren sözcükleri göstermek için
- D) Tırnak içinde olmayan alıntı cümlelerden sonra

10) “Yapmadılar mı ” fiilinin kip ve kişisi aşağıdakilerden hangisinde doğru olarak verilmiştir?

- A) Duyulan geçmiş zaman, olumlu, 3. çoğul şahıs
- B) Görülen geçmiş zaman, olumlu, 3. tekil şahıs.
- C) Duyulan geçmiş zaman, olumsuz, 3. tekil şahıs.
- D) Görülen geçmiş zaman, olumsuz, 3. Çoğul şahıs.

Parlak ve enerjik! Sarı, sıcaklığı, pozitifliği, neşeyi, enerjiyi ve mutluluğu temsil eder. İnsanları heyecanlandırır ve mutlu eder. Restoranlar tarafından çokça tercih edilir, çünkü iştah açar. Sarı gibi açık bir renk kullanarak evinizi ya da odanızı daha büyük gösterebilirsiniz! Sarı aynı zamanda sorumsuzluğu ve neresi izliği de temsil eder.

Mavi, güvenilirliği, sadakati, sakinliği, uyumu, huzuru, sevgiyi ve zekayı temsil eder. Finansal kurumlar, sosyal ağlar, kurumsal endüstriler ve güzellik salonları tarafından kullanılabilir.

Yeşil, tazeliği, dengeyi, pozitifliği, zenginliği, sakinliği, doğallığı ve üretkenliği temsil eder. Eğer bir marka oluşturmak istiyorsanız, yeşili kullanmanız doğa dostu olduğunuzu gösterebilir.

Turuncunun daha arkadaş canlısı bir tutumu vardır. Zaten arkadaşlığı, başarıyı ve güveni temsil eder. İnsanların üzerinde baskı kurmadan, abartmadan, güzel bir enerji yaymak için kullanılır.

11) Renklerin insan psikolojisi üzerindeki etkilerinden hareketle yeni kurduğu internet sitenin ilgi çekmesini isteyen bir kişi siteyi kurarken en çok hangi rengi tercih eder?

- A) turuncu B) mavi C) yeşil D) sarı

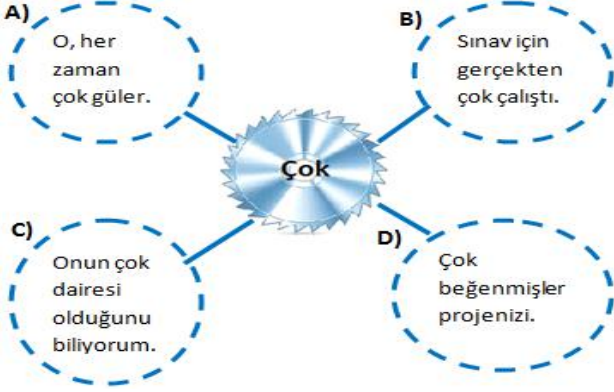
Dost dost diye nicesine sarıldım. Benim sadık yarım kara topraktır.

Asık Vevsel Satiroğlu

12) Aşık Vevsel dizelerinde hangi söz sanatı ağır basmaktadır?

- A) kişileştirme B) konuşurma
- C) Abartma D) benzetme

13) Aşağıdaki cümlelerin hangisinde “çok” sözcüğü farklı bir görevde kullanılmıştır?



14) Aşağıdaki cümlelerin hangisinde deyim yanlış anlamda kullanılmıştır?

- A) Yarışmacı öylesine heyecanlıydı ki ortalığı kırıp geçirdi.
- B) Öğretmen anlamadan kaşla göz arasında sınav kağıtlarını değiştirdi.
- C) Bu insanların malına el koymak, malını almak da ne demek!
- D) Kadıncağızın ağlamaktan göz pınarları kurudu.

**Tuna:** Siirt'e gittiğimde Deliklitaş'ın eşsiz manzarasına karşı oturdum.

**Selim :** Deliklitaştan Botan Nehri mavi elmas gibi parlak görünüyor..

**Zeynep:** Deliklitaş kar yağdığında daha güzeldir.

**Mustafa:** Deliklitaş, Siirt'in turistik yerlerinden bir tanesidir.

15) Deliklitaş ile ilgili konuşan bu kişilerin hangisi kişisel görüş bildirmemiştir?

- A) Tuna
- B) Selim
- C) Zeynep
- D) Mustafa

16) Aşağıdaki seçeneklerin hangisinde “aşağı” sözcüğü zarf olarak kullanılmıştır?

- A) Aşağı kattan gelen gürültüyle uyandım.
- B) Elindeki kitabı daha aşağıya koymalısın.
- C) Aşağı inen yolda pek çok kişi bekliyordu.
- D) Onun evi bizim evden daha aşağıdaydı.

*Yön isimleri yer isminden önce gelirse büyük, sonra gelirse küçüktür. Ara yönler bitişik yazılır.*

17) Aşağıdaki cümlelerin hangisinde “güney” sözcüğünün yazımında yanlışlık yapılmıştır?

- A) Onun evi şehrin güneybatısında kalıyor.
- B) Evimizin güneye bakan odaları sıcaktı.
- C) Adana'nın Güneyinde plansız yapılaşma var.
- D) Geçen yıl Güney Anadolu daha çok yağış aldı.

1. Otobüsün sarsılmasıyla uyandım.

2. Her sabah kahvesini bahçede içer.

3. O, bu konuda kimseyle dertleşmez.

4. Burayı geçen sene de gezmiş.

**Aşağıda büyük harflerin kullanıldığı yerler ile ilgili bazı kurallar verilmiştir:**

- Kişi adlarıyla soyadları büyük harfle başlar.
- Kişi adlarından önce ve sonra gelen unvanlar, saygı sözleri, rütbe adları ve lakaplar büyük harfle başlar.
- Millet, boy, oymak adları büyük harfle başlar.
- Din ve mezhep adları ile bunların mensuplarını bildiren sözler büyük harfle başlar.
- Mahalle, meydan, bulvar, cadde, sokak adlarında geçen mahalle, meydan, bulvar, cadde, sokak kelimeleri büyük harfle başlar.

18) Numaralanmış cümlelerdeki fiillerin hangileri aynı haber kipiyle çekimlenmiştir?

- A) 2 ve 3                      B) 1 ve 2  
C) 3 ve 4                      D) 2 ve 4

19) "Seni de sevmiyor değiliz." cümlesini aşağıdakilerden hangisi en iyi açıklar?


- A) Sen bizim için önemlisin.  
B) Seni sevmemiz lazım.  
C) Seni sevme konusunda kararsızız.  
D) Seni de seviyoruz.

20) Aşağıdakilerin hangisinde büyük harflerin kullanımı ile ilgili bir yanlışlık yapılmıştır?

- A) Hemen yan dairemizde Doktor Baran Bey oturuyordu.  
B) Müslümanlık ve hıristiyanlık yaygın dinler arasındadır.  
C) Bu kaldırımlar sizi Halit Rıfat Paşa Mahallesi'ne götürür.  
D) Romanlarını Hulusi takma adıyla kaleme almaktadır.

- 1) Dünya'nın çekim alanından kurtulup, Ay'a, diğer gök cisimlerine, gezegenler arası ya da galaksiler arası uzay boşluğuna gönderilerek veri toplamaya yarayan uzay aracı ve bu aracın yerine getirdiği göreve verilen addır.

Yukarıda tanımı verilen uzay teknolojisine ait araç aşağıdakilerden hangisidir?



Hubble Teleskobu



Uzay Mekiği



Uzay Sondası




Radyo Teleskop

- 2) Aşağıdaki seçeneklerin hangisinde karadelik oluşumu doğru verilmiştir ?

- A) Gaz bulutu – Küçük kütleli yıldız – Kırmızı dev- Gezegenimsi bulutsu- Karadelik  
B) Gaz bulutu - Büyük kütleli yıldız - Kırmızı dev- Gezegenimsi bulutsu – Karadelik  
C) Gaz bulutu – Büyük kütleli yıldız – kırmızı süperdev – Süpernova – Karadelik  
D) Gaz bulutu – Büyük kütleli yıldız - Kırmızı Süperdev – Gezegenimsi Bulutsu – Karadelik

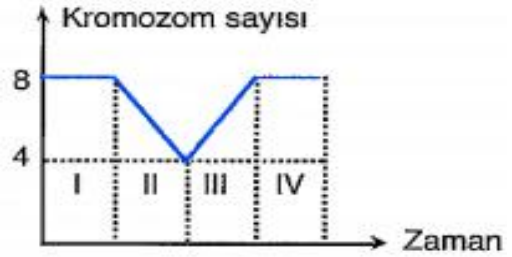
- 3)



Buna göre X, Y ve Z yıldızlarının sıcaklıkları aşağıdaki seçeneklerin hangisinde doğru gösterilmiştir?

	X	Y	Z
A)	Sarı	Kırmızı	Mavi
B)	Kırmızı	Sarı	Mavi
C)	Sarı	Mavi	Kırmızı
D)	Kırmızı	Mavi	Sarı

- 4) Bir hücre belirli zaman aralıklarında meydana gelen bazı olaylar sonucunda kromozom sayılarındaki değişimler grafik üzerinde gösteriliyor.



Bu grafiğe göre aşağıdaki yorumlardan hangisi yanlıştır ?

- A) I. Zaman aralığında hücre mitoz bölünme geçirmiştir.  
B) II. Zaman aralığında hücrenin kromozom sayısı yarıya düşüp mitoz bölünme geçirmiştir.  
C) II. Zaman aralığındaki bölünmenin amacı ; kromozom sayısının nesiller boyu sabit kalmasını sağlar.  
D) III. Zaman aralığında hücrede döllenme gerçekleşmiştir.

5) I.



Kromozom sayısının yarıya düşmesi

II.



Sitoplazma Bölünmesi ile 4 yeni hücre oluşması

III.



Homolog kromozomlar arası parça değişimi ayrılması

IV.



Kardeş kromotid

Yukarıda mayoz 1 ve mayoz 2 bölünmesinde gerçekleşen bazı olaylar verilmiştir.

Bu olayların doğru sıralanışı aşağıdaki seçeneklerden hangisinde doğru verilmiştir ?

- A) I - III - IV - II
- B) III - I - IV - II
- C) III - IV - I - II
- D) IV - III - I - II

### Görev

### Organel

- I. Protein sentezini gerçekleştirir → Ribozom
- II. Hücre içerisinde madde iletimini gerçekleştirir. → Mitokondri
- III. Hücrenin enerji merkezidir. → Endoplazmik Retikulum
- IV. Hücrede salgılanan maddelerde görevlidir → Golgi Cisimciği

6) Yukarı da hücrenin bazı organelleri ve görevleri verilmiştir. Buna göre aşağıdakilerden hangisi yanlıştır?

- A) I. Öncüldeki organel ve görev eşleştirmesi doğrudur. Ayrıca bütün canlı hücrelerde bulunur.
- B) II. Öncüldeki organel ve görev eşleştirmesi yanlış yapılmıştır. II. Öncüldeki organelle III. Öncüldeki organel yer değiştirirse doğru eşleştirme yapılmış olur.
- C) IV. Öncüldeki organel ve görev eşleştirmesi doğrudur. Ayrıca Golgi cisimciği hücre içi sindirimi de gerçekleştirir.
- D) Yukarıda verilen organellerin hepsi hayvan hücresinde bulunur.

7)



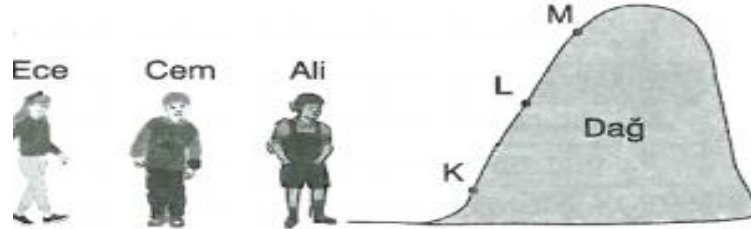
İnsanda yumurta ana hücresinden yumurta hücresi oluşurken gerçekleşen bölünmeyle ilgili;

- I. Parça değişimi
- II. Homolog kromozom ayrılması
- III. Kromozom sayısının sabit kalması
- IV. Kalıtsal çeşitlilik

Olaylarından hangileri yalnızca bu bölünmede gözlenir?

- A) I, II ve IV
- B) Yalnız I
- C) I ve IV.
- D) II , III ve IV

8)



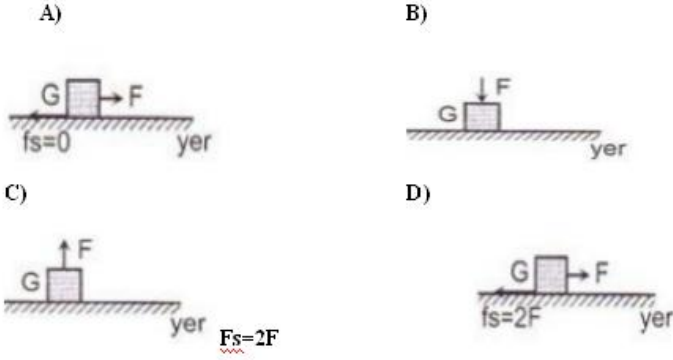
Ece, Cem ve Ali 'nin bulundukları konumda ağırlıkları sırasıyla 250, 300, 350 N'dur ve kütleleri birbirinden farklıdır. Buna göre aşağıdaki yorumlardan hangisi doğrudur?

- A) Ece K noktasına çıktığında kütlesi ve ağırlığı artar.
- B) Cem ile Ali ağırlıklarının aynı olmasını istediğinde Cem L noktasında Ali M noktasında bulunursa istedikleri gerçekleşebilir.
- C) Ece ile Ali kütlelerinin eşitlenmesini istediğinde Ece K noktasında Ali M noktasında bulunursa istedikleri gerçekleşebilir.
- D) Cem L noktasından K noktasına indiğinde ağırlığı azalır.

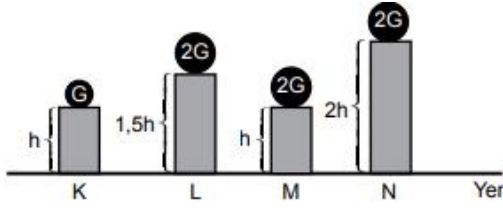


- 9) Bir cisme kuvvet uygulayıp kuvvet doğrultusunda yol aldırılırsa fiziksel anlamda iş yapılmış olur.

**G ağırlıklı cisme cismin ağırlığından büyük  $F$  kuvveti uygulandığında aşağıdaki durumlardan hangisinde fiziksel anlamda iş yapılmış olur? Sürtünmeler ihmal edilmemiştir.**



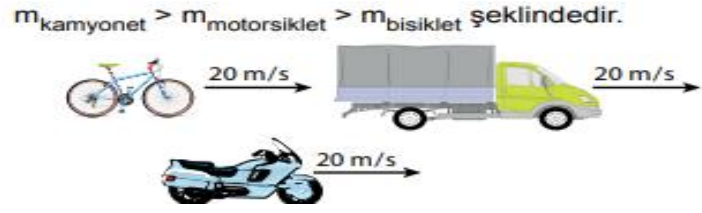
10)



**Mekanik enerjinin kütleye bağlı olduğunu kanıtlamak için hangi iki düzenek kullanılmalıdır?**

- A) K ve M  
B) L ve M  
C) L ve N  
D) K ve N

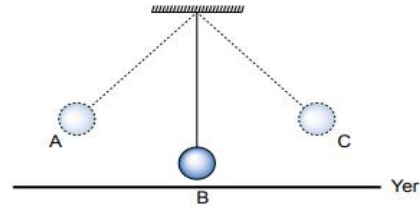
- 11) Verilen araçların kütleleri ve hızları aşağıdaki gibidir.



**Süratleri belirtilen bu araçların kinetik enerjilerinin karşılaştırılması hangi seçenekte doğru olarak verilmiştir?**

- A) Bisiklet > Motosiklet > Kamyonet  
B) Motosiklet > Bisiklet > Kamyonet  
C) Kamyonet > Motosiklet > Bisiklet  
D) Kamyonet > Bisiklet > Motosiklet

- 12) Sarkaç, bir ipin ucuna rahatlıkla sallanabilecek şekilde bağlanan bir kütle ile oluşturulan düzendir. Şekildeki sarkaç A ve C noktaları arasında salınım hareketine başladıktan bir süre sonra yavaşlayarak duruyor.



Buna göre,

- I. Sarkacın her salınım hareketinde toplam enerjisi azalmıştır.  
II. Sarkaç B konumundan geçerken kinetik enerjisi en küçük değerdedir.  
III. Sarkacın yavaşlamasının nedeni hava direncidir.

**yargılarından hangileri yanlıştır?**

- A) I ve II.  
B) I ve III.  
C) II ve III.  
D) I, II ve III.

- 13) Havada hareket eden cisimlerin hareketini zorlaştıran kuvvete hava direnci denmektedir.

**Aşağıdakilerden hangisi hava direncinden en fazla etkilenecek şekilde yapılmıştır?**

- A) Paraşüt B) Uçak  
C) Otomobil D) Tren

- 14) Tabloda bir canlıya ait birimler örnekleri ile verilmiştir.

	Yapılar	Örnekler
I	Sistem	Dolaşım Sistemi
II	Organ	Kalp
III	Doku	Kan
IV	Organizma	İnsan
V	Hücre	Akyuvar

**Bu örnekler en temel birimden karmaşığa doğru sıralanırsa aşağıdakilerden hangisi elde edilir?**

- A) V, III, II, I, IV B) I, III, II, V, IV  
C) V, IV, III, II, I D) I, II, III, V, IV

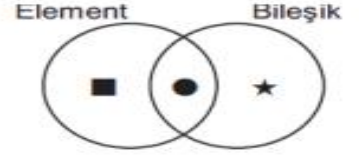
- 15) Aşağıda verilenlerden hangisi atomu oluşturan temel parçacıklardan biri değildir?

- A) Proton  
B) Nötron  
C) Elektron  
D) Molekül

- 16) Yapacağı sunumda mitoz bölünmeyi açıklamak isteyen bir öğrenci, aşağıdaki örneklerden hangisini kullanmamalıdır?

- A) Yaraların iyileşmesi  
B) Bebeğin büyümesi  
C) Bira mayasının çoğalması  
D) İnsanda üreme hücrelerinin oluşması

- 17)



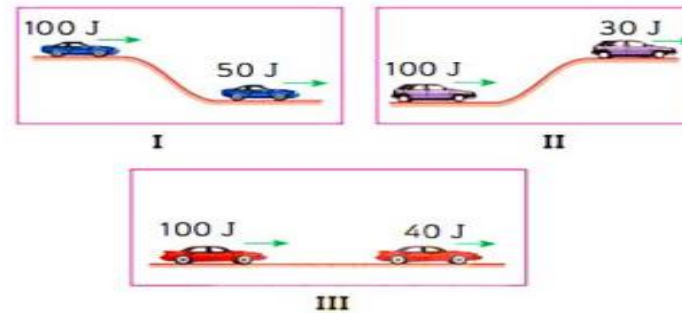
Element ve Bileşiğin özelliklerini gösteren venn şeması yukarıda verilmiştir.



**Buna göre öğrencilerin sembollerle belirttiği ifadelerden hangi öğrencilerin ifadesi doğru verilmiştir ?**

- A) Yalnız Bülent  
B) Bülent ve Elif  
C) Elif ve Buğra  
D) Bülent , Elif ,Buğra

- 18)



**Verilen araçların başlangıç enerjileri ve devam etikleri enerjiler verilmiştir. Buna göre aşağıdakilerden hangisine kesinlikle sürtünme kuvveti etki etmiştir ?**

- A) Yalnız III  
B) I ve II  
C) I ve III  
D) I,II ve III

19) Aşağıdaki özelliklerden hangisi ağırlığa ait değildir?

- A) Dinamometre ile ölçülür.
- B) Birimi N'dır.
- C) Bulunduğu konuma göre değişmez.
- D) Kütleyle etki eden yer çekimi kuvvetidir.

20) Aşağıdaki olaylardan hangisi günlük yaşamda kinetik enerjinin sürtünme kuvveti etkisi ile ısı enerjisine dönüştüğüne örnek olarak verilmez?

- A) Yanan bir lambanın dışının sıcak olması
- B) Uzun yoldan gelmiş arabanın tekerleğinin sıcak olması
- C) Ellerimizi birbirine sürttüğümüzde elimizin ısınması
- D) Silgi ile defteri sildiğimizde silginin ısınması

- 1) İlk Türk Devletlerinde önemli devlet işlerinin görüşüldüğü meclise kurultay denirdi. Kurultay Hakan başkanlığında toplanırdı. Hakanın olmadığı zamanlarda yerine Katun sıfatıyla hanımı başkanlık ederdi.

**Yukarıdaki bilgilere göre aşağıdakilerden hangisine ulaşamaz?**

- A) İlk Türk Devletleri önemli işler için meclis toplardı.  
B) Hakanın yokluğunda Katunun görev alması toplumsal cinsiyet eşitliği sayılabilir.  
C) Meclis üyeleri sevilen kişilerden oy ile seçilirdi.  
D) Önemli konularda Hakan tek başına karar almazdı.

- 2) İlk Türk Devletlerinde Kurultay meclisi önemli kararlar için toplanırdı. Meclis üyeleri halkın ileri gelenlerinden oluşurdu. Ancak son söz yine Hakana aitti.

**Yukarıdaki bilgilere göre kurultay meclisi nasıl bir özellik taşımaktadır?**

- A) Kurucu meclis  
B) İhtiyarlar birliği  
C) Danışma Meclisi  
D) Savaş Meclisi

- 3) Osmanlı devletinde devlet işlerinin görüşüldüğü meclisin adı nedir?

- A) Divan  
B) Bab-ı Humayun  
C) Kurultay  
D) Enderun

- 4) Orhan Bey döneminde oluşturulan meclise uzun süre padişah başkanlık etmiştir.

**Hangi padişahтан itibaren meclise sadrazam başkanlık etmeye başlamıştır?**

- A) I. Beyazıt  
B) II. Mehmet  
C) III. Mehmet  
D) IV. Murat

- 5) Osmanlı Devleti son dönemlerde dünyada yaşanan demokratik gelişmeleri yakından takip etmiştir. İç dinamiklerini kontrol edip kendi isteği ile bazı demokratikleşme adımları atmıştır. Gülhane Parkında ilan edildiği için bu isimle de anılan ferman hangisidir?

- A) Tanzimat Fermanı  
B) Islahat Fermanı  
C) Yenilik Fermanı  
D) Meşrutiyet Fermanı

- 6) Sosyal devlet anlayışı, sosyal adaletin artırılmasına yönelik çalışır. Ekonomik, sosyal ve kültürel açıdan geri kalmış ya da güçsüz insanların da toplumun içinde bulunduğu genel refah seviyesine ulaşması için çaba harcar. Vatandaşların ekonomik ve sosyal gelişimleri için eşit olanaklar sunar.

**Buna göre;**

I. VEFA destek programı

II. Ücretsiz maske dağıtımı

III. Ücretsiz Ders Kitabı dağıtımı

**hangileri sosyal devlet anlayışına uygundur?**

- A) yalnız I  
B) yalnız III  
C) I ve III  
D) I, II ve III

- 7) Ülkemizde Din ve devlet işleri ayrı yürütülmektedir. Din ile ilgili konularda Diyanet İşleri Başkanlığı görevlidir.

**Bu durum Türkiye Cumhuriyeti Devleti'nin niteliklerinden hangisinin bir sonucudur?**

- A) Hukuk devleti  
B) Sosyal devlet  
C) Demokratik devlet  
D) Laik devlet

- 8) Dünyanın birçok ülkesinde eğitim ve sağlık paralıdır. Türkiye'de Covid-19 salgını sebebiyle eğitime EBA sistemi üzerinden devam edilmektedir. Hastalıkla ilgili önleyici sağlık hizmetleri, tedavi ve ilaçlar ülkemiz vatandaşlarına ücretsizdir. Türkiye'de eğitim, sağlık gibi hizmetlerin devlet tarafından ücretsiz bir şekilde karşılanması Türkiye Cumhuriyeti Devleti'nin niteliklerinden hangisi ile ilgilidir?

- A) Sosyal devlet      B) Hukuk devleti  
C) Laik devlet      D) Demokratik devlet

- 9) Ülkemizde Cumhurbaşkanı, mecliste oylanarak kabul edilen bazı kanunları çeşitli sebeplerle onaylamayıp tekrar meclise yollayabilir. Ya da veto edebilir. Ancak Cumhurbaşkanının veto edemeyeceği bir kanun vardır.**Bu kanun aşağıdakilerden hangisidir?**

- A) Sosyal Kanun  
B) Orman Kanunu  
C) Bütçe Kanunu  
D) Savaş kanunu

- 10) • Meclisi toplantıya çağırmak

•Savaş ve Barış antlaşmalarını onaylayıp yayınlamak

•Başbakanın teklifi ile bakanları atamak

**Yukarıda verilen yetki ve görevler hangi kurum ya da kişiye aittir?**

- A) Cumhurbaşkanı  
B) TBMM  
C) Başbakan  
D) Anayasa Mahkemesi





11) Türkiye Cumhuriyetinin halen kullandığı son anayasa aşağıdakilerden hangisidir?

- A) 1924 Anayasası
- B) 1961 Anayasası
- C) 1982 Anayasası
- D) 2010 Anayasası

12) TBMM tarafından kabul edilen kanunlar Cumhurbaşkanlığına onaylanır. Onaylanan kanunlar ilk olarak nerede yayınlanır?

- A) Özel Gazete
- B) Resmi Gazete
- C) Resmi Dergi
- D) Resmi Televizyon

13) Atatürk yeni kurulan Türkiye Cumhuriyetinde demokratikleşme adımlarını desteklemiştir. Ancak dönem elverdiği ölçüde çalışmalar yapılabilmektedir.

**Bu doğrultuda Atatürk aşağıdakilerden hangisini istemiş olabilir?**

- A) Yeni partilerin kurulması
- B) Bir tek parti olması
- C) Din ve devlet işlerinin birleşmesi
- D) Hep Güçler birliğinin uygulanması

14) Toplum yararına çalışan ve bu yönde kamuoyu oluşturan, kar amacı gütmeyen, sorunların çözümüne katkı sağlayarak çoğulculuk ve katılımcılık kültürünü geliştiren, gönüllü olarak bir araya gelen bireylerden oluşan örgütlenmelere ..... Kuruluşları denir.

**Yukarıda tanımlanan kuruluş nedir?**

- A) Küçük İşletme Kuruluşları
- B) Eğitim Enstitü Kuruluşları
- C) Acil Tıp Kuruluşları
- D) Sivil Toplum Kuruluşları

15) Kurtuluş Savaşında kurulan ilk meclisin cephelere asker göndermesi, askere silah sağlaması, halkın yönetimini de gerçekleştirmesi, ülkeyi çabucak toparlaması gerekiyordu. Ve bunlar için hızla karar almaları sağlamak amacıyla devletin en önemli mekanizmaları olan **yasama, yürütme ve yargı**yı tek elde topladılar. **Bu üç faktörün bir arada olmasının ismi nedir?**

- A) Üçlü İttifak
- B) Güçlü Ayrılık
- C) Güçler Ayrılığı
- D) Güçler Birliği

16)

- Yasama Yetkisi - TBMM
  - Yürütme Yetkisi -Cumhurbaşkanı Ve Bakanlar Kurulu,
  - Yargı - Bağımsız Mahkemeler
- Yetki dağılımı yukarıdaki gibi ise bu durum nasıl adlandırılır?**

- A) Güçler Birliği
- B) Yetki Birliği
- C) Güçler Ayrılığı
- D) Güçler Ayrılmazlığı

17) Okullarımızda her yıl ekim ayında oy kullanarak sınıf temsilcisi ve okul temsilcisi seçeriz.

**Bu oy kullanarak seçme işlemi öğrencilere hangi kazanımı sağlar?**

- A) Çevreye duyarlı olma
- B) Demokratik ilkeleri kabullenme
- C) Güçlüyü haklı bulma
- D) Tercihlerinin önemsiz olduğu

18) Anasınıfında ilk günü olan öğretmen yardımcısı Elif öğretmen gelmeden önce çocukları oyuna başlatmıştır. 20 çocuk vardır ve 5 tane de ayrı oyunlardan oluşan köşe vardır. Elif tüm oyunların adını tek tek söylemiş ve oynamak için el kaldıran çocukları istedikleri köşeye yollamıştır.

**Elifin bu tutumu nasıl değerlendirilebilir?**

- A) Demokratik
- B) Bencil
- C) Umursamaz
- D) İstekleri önemsemeyen

19) “ Egemenlik kayıtsız şartsız milletindir”  
**Atatürk ün bu sözü hangi değeri ifade eder?**

- A) Milli güvenlik
- B) Milli egemenlik
- C) Milli ekonomi
- D) Milli kültür

20) **Türk milleti adına yargı yetkisini kullanan birim hangisidir?**

- A) Askeri Güç
- B) Bakanlar Kurulu
- C) TBMM
- D) Bağımsız Mahkemeler

- 1) Alemde görünen ve görünmeyen sayısız varlık bulunmaktadır. Görebildiğimiz varlıklar olduğu gibi göremediğimiz varlıklar da bulunmaktadır.

**Buna göre aşağıdakilerden hangisi görünmeyen varlıklara örnek olarak gösterilebilir?**

- A) İnsan
- B) Hayvan
- C) Melek
- D) Dağlar

- 2) Ateşten yaratılan ve Allah'ın (c.c) emrine karşı geldiği için ilahi rahmetten kovulan asi ve kibirli varlığa ne denir?

- A) Melek
- B) Cin
- C) Şeytan
- D) İnsan

- 3) Melek ,şeytan ve cinler hakkında toplumumuzda bir sürü boş söylenti ve batıl inançlar dillendirilmektedir.

**Buna göre melek,şeytan ve cinlerle ilgili en güvenilir ulaşabileceğimiz kaynak aşağıdakilerden hangisidir?**

- A) Tarihimiz
- B) Atalarımız
- C) Bilim kitapları
- D) Kur'an-ı Kerim

- 4) I.Sözlükte ,haberci, elçi ,güç ve kuvvet anlamına gelir.

II.Allah'ın (c.c.) emirleriyle çeşitli görevleri yerine getirir.

III.Ateşten yaratılmışlardır.

IV.Çok hızlı hareket eden varlıklardır.

**Yukarıda melekler ile ilgili bazı bilgiler verilmiştir. Bu verilen bilgilerden hangisi veya hangileri yanlıştır?**

- A) Yalnız I
- B) Yalnız II
- C) Yalnız III
- D) I ,II ,III

- 5) -Allah'tan aldığı vahiyleri peygamberlere ileten melektir.

-Allah'ın izni ile eceli gelenlerin canını alır.

-Allah'ın izni ile tabiat olaylarını gerçekleştirir.

-Kıyamet koparken ve yeniden dirilirken sur'a üfleyecek olan melektir.

**Yukarıda görevleri verilen melekler sırasıyla hangi seçenekte doğru olarak verilmiştir?**

- A) Cebrail-Azrail-Mikail-İsrafil
- B) Azrail-Mikail-İsrafil-Cebrail
- C) Cebrail-Mikail-Azrail-İsrafil
- D) Mikail-Cebrail-Azrail-İsrafil

- 6) İnsan , dünyada yaptığı her şeyin hesabını ahirette verecektir. Dünyada yapılan hiçbir iyilik karşılıksız kalmadığı gibi , hiçbir kötülük de cezasız kalmayacaktır.

**Buna göre aşağıdaki atasözlerinden hangisi bunu desteklemektedir?**

- A) Komşu komşunun külüne muhtaçtır.
- B) Sakla samanı gelir zamanı
- C) Bir elin nesi var,iki elin sesi var.
- D) Ne ekersen onu biçersin.

- 7) “Üstelik biri insanın sağ tarafında, biri sol tarafında oturmuş iki alıcı melek de (onun yaptıklarını) alıp kaydetmektedir. (KAF SURESİ 17.AYET)

**Ayette görevleri hakkında bilgi verilen melekler aşağıdakilerden hangisidir?**

- A) Münker Nekir
- B) Cebrail-İsrafil
- C) Mikail-Azrail
- D) Kiramen Katibin

- 8) I.Dünyadaki yaşamın son bulup canlıların ölmesine denir.

II.İsrafil meleğin sur’a ikinci üfleyişinden sonra bütün insanlar dirilecektir.Bu yeniden dirilmeye denir.

III.Kıyametin kopmasından sonra yeniden diriltilecek tüm canlıların toplanacağı yerdir.

IV.İnsanların hesap işleri bittikten sonra yaptıkları iyilik ve kötülüklerin tartılacağı hassas terazinin adıdır.

**Tanımları verilen kavramlar seçeneklerden hangisinde doğru sıralanmıştır?**

- A) Ba’s-Mizan-Kıyamet-Mahşer
- B) Kıyamet-Ba’s-Mahşer-Mizan
- C) Mahşer-Kıyamet-Mizan-Ba’s
- D) Mizan-Mahşer-Ba’s-Kıyamet

- 9) “ Kim Allah’a ve ahirete inanıyorsa misafirine ikram etsin. Kim Allah’a ve ahirete inanıyorsa komşusuna iyilik yapsın.Kim Allah’a ve ahirete inanıyorsa ya hayır konuşsun ya da sussun.“

**Yukarıdaki hadiste Allah ‘a ve ahirete inanan bir insanın aşağıdakilerden hangisini yapması istenmemiştir?**

- A) Düzenli ibadet etme
- B) Kırıcı konuşmama
- C) Komşularla iyi geçinme
- D) Misafire ikram etme

- 10) I.Babasız dünyaya gelmiştir.  
II.Annesi Hz. Meryem'dir.  
III.Beşikte iken insanlarla konuşmuştur.  
IV.Doğumu milat kabul edilmiştir.  
**Yukarıda özellikleri verilen peygamber aşağıdakilerden hangisidir?**

A) Hz.Musa  
B) Hz.İsa  
C) Hz.Yahya  
D) Hz. İbrahim

- 11) –Hür ,ergin ve akıllı olmak  
-Hacca gidip gelmeye yeterli vakti bulunmak  
-Hacca gidip gelinceye kadar ailesinin geçimini sağlamış olmak  
-Gerekli masrafları karşılayacak kadar zengin olmak  
-Sağlıklı olmak  
-Yol güvenliği olmak  
**Ali öğretmen, öğrencilerine hac ibadeti ile ilgili bazı sorular soruyor.Sorduğu bir soruya Arda yukarıdaki cevabı veriyor.Acaba Ali öğretmenin sorduğu soru aşağıdakilerden hangisidir?**

A) Haccın farzları nelerdir?  
B) Hacca gitmenin faydaları nelerdir?  
C) Hacca gitmek için sağlanması gereken şartlar nelerdir?  
D) Haccın sünnetleri nelerdir?

- 12) Hacca gitmek farz, umreye gitmek ise sünnettir.Haccın rukunları üçtür.Umrenin ise ikidir.Hac ibadeti sırasında yapılan bazı ibadetler umre ibadetinde yapılmaz.  
**Buna göre aşağıdakilerden hangisi hac ve umre ibadetinin ortak rukunlerinden biridir?**

A) İhrama girilmesi  
B) Kurban kesilmesi  
C) Arafat'a çıkılması  
D) Şeytan taşlama

- 13) **Hac ibadeti ile ilgili aşağıda verilen bilgilerden hangisi yanlıştır?**

A) Yılda sadece bir defa yapılabilir.  
B) Yıl içinde belirli bir vakti vardır.  
C) Kudüs ve çevresinin ziyaret edilmesidir.  
D) Hac, dinimizce farz olan bir ibadettir.

- 14) **Hac ve umre yapacak olan kimsenin diğer zamanlarda helal olan bazı fiil ve davranışları belli bir süre kendisine haram kılmasıdır. Haccın şartlarından biri olan bu durum aşağıdakilerden hangisidir?**

A) Vakfe  
B) Mikat  
C) İhram  
D) D)Say

- 15) **Çocuk sahibi olan anne ve babanın Allah'a şükranlarını ifade etmek amacıyla kestikleri kurban çeşidi aşağıdakilerden hangisidir?**

A) Adak kurbanı  
B) Şükür kurbanı  
C) Vacip kurbanı  
D) Akika kurbanı



16) Çocukluğunda Mekke çölünde annesi Hz.Hacer onun için Safa ve Merve tepeleri arasında koşarak su ararken Allah (c.c.)onun ayakları altından bugün hacıların içtiği Zemzem suyunu çıkartarak Müslümanlara onun sebebi ile hediye edildiği ,babasının adağı üzerine kurban olunması istendiğinde tereddüt etmeden “Babacığım Allah(c.c.) için adağını yerine getir.”diyerek bu sadakati sebebiyle kurbanlık olmaktan kurtulup ,Allah (c.c.) tarafından kurbanlık ikram edilmiştir.Babası ile beraber Kabe’yi inşa etmişlerdir.

**Yukarıda kendisinden bahsedilen peygamber kimdir?**

- A) Hz.İbrahim
- B) Hz. İsmail
- C) Hz.İsa
- D) Hz. Davut

17) “Asıl pehlivan ,güreşte rakibini yenen değil, öfkelenildiği zaman öfkesini yenendir.

**Peygamberimiz bu hadisi ile bizlerde bulunması gereken hangi davranıştan bahsetmektedir?**

- A) Sabır
- B) Sevgi
- C) Özdenetim
- D) Özgüven

18) Peygamberimiz (s.a.v.)her gece yatmadan önce Felak ve Nas surelerini okur ,vücuduna üfler ve eliyle vücudunu mesh ederdi.

**Felak ve Nas surelerine “iki sığınılan “ anlamına gelen hangi kelime kullanılır?**

- A) Muzaffer
- B) Murtaza
- C) Muavvizeteyn
- D) Muavviz

19) Hz.Adem (a.s.) ile başlayan nübüvvet ve risalet zinciri ,son peygamber Hz.Muhammed’le(s.a.v.) tamamlanmıştır.Bu sebeple Hz.Muhammed’e (s.a.v.) ..... yani peygamberlerin sonuncusu olarak da nitelendirilir.

**Yukarıdaki boşluğa aşağıdakilerden hangisi gelmelidir?**

- A) Nübüvvet
- B) Hatemü’l-enbiya
- C) Kebirü’l-enbiya
- D) Hüsnü’l-enbiya

20) İslam dünyasında ortaya çıkan yorumlardan biri de fıkhi yorumlardır.Fıkıh;İslam dininin ibadetler ,evlenme,boşanma,miras,alışveriş,ti caret,çeşitli suçlara ön görülen cezalar vb. konularla ilgili hükümlerini delilleriyle birlikte ortaya koyar.

**Peki aşağıdakilerden hangisi günümüzde yaygın olan başlıca fıkhi düşünce ekollerinden biri değildir?**

- A) Hanefilik
- B) Maturidilik
- C) Malikilik
- D) Şafiilik



**WHO IS THE BURGLAR?**

Last Saturday , a burglar stole Mrs. Passion's golden earrings.

Mrs. Passion is very upset. She says that the earrings were very significant for her. It was a wedding anniversary present from her husband, but she thinks the police can find the burglar because her son saw the burglar. He says the burglar had a white mask on his face, he saw his blue eyes and black and straight hair. He is over-weight. He had a flashlight. Also he had a scar on his hand.

Answer the questions according to the text.

1) This text is from a .....

- A) cinema poster
- B) brochure
- C) newspaper
- D) magazine

2) Which one is true about the burglar's physical appearance?

- A) He is very tall.
- B) He is slim.
- C) He has black eyes.
- D) He has black and straight hair.

3) Why is Mrs. Passion so upset?

- A) Because she cried.
- B) Because she lost her necklace.
- C) Because she is very old.
- D) Because the burglar stole her earrings.

4) When did the event happen?

- A) Last saturday
- B) Yesterday
- C) Tomorrow
- D) Today

5) My father goes ..... every weekend. He likes walking in nature and he wants to keep fit.

- A) unhealthy
- B) hiking
- C) medals
- D) basketball player

6) Which one is suitable for the blank?

- A) skiing
- B) cycling
- C) karate
- D) handball

**INDOOR  
SPORTS**

- ◇ Archery
- ◇ Boxing
- ◇ Table tennis
- ◇ .....

7) He is so happy beacuse his favorite football team , FB ..... 2020 World Cup.

- A) lost
- B) defeated
- C) won
- D) liked

8) Zeynep : ..... your brother go jogging?  
Alex : No, he ..... . But I like jogging.

- A) Does / doesn't                      C) Do / do  
B) Do / don't                            D) Does / Does

9) Mustafa Kemal ATATÜRK .....  
Which one is NOT correct ?

- A) was the founder of Turkish Republic.  
B) died at the age of 35 on November 10, 1938.  
C) became the first president of Turkish Republic.  
D) was a great soldier.

10) Gizem : Which university did you graduate from ?  
Nilay : Ankara University.  
Gizem : .....?  
Nilay : ELT  
Which of the following completes the conversation ?

- A) Where did you stay in Ankara?  
B) When did you graduate from the university?  
C) Why did you study ELT ?  
D) What did you study at university?

11) I. At the age of 20 , he moved to İstanbul to study Medicine at İstanbul University.  
II. He had a succesful career as a doctor.  
III. Kaan was born in Konya and he lived there until he was 20.  
IV. After he graduated from the University , he started to work at a well-known hospital.  
What's the correct order of the sentences?

- A) III-II-I-IV  
B) I-IV-II-III  
C) I-III-II-IV  
D) III-I-IV-II

12)



Sue : ..... ?

Stephen : He was a great game creator. He created some famous mobile games like Pubg.

Which of the following completes the conversation?

- A) What do you know about Brendan Greene?  
B) What is your favourite mobile game?  
C) When did he create Pubg?  
D) What do you think about Pubg?

13)



**NORWEGIAN  
FOREST CAT**

**Habitat:** forest  
**Size:** 50 cm  
**Weight:** 4,5 – 9 kg  
**Kind:** mammals,  
carnivore  
**Lifespan:** 14-16 years

Look at the information card and choose the correct answer.

Norwegian forest cats .....


- A) do not eat meat
- B) are 50 meters long
- C) weigh more than 3 kg
- D) live in America

14) Birds are the only animals with .....

- A) lungs
- B) feathers
- C) sharp teeth
- D) fur

15) Many wild animals wait for hours to find ..... and attack them.

- A) cages
- B) forest
- C) grass
- D) preys



16) Choose the correct choice which describes the sign?

- A) Keep seas clean
- B) Cut down trees
- C) Don't feed animals
- D) Don't wear fur

17) Anthony : My favourite TV programme is documentary because I like learning things about wild animals.

Alice : ....., I prefer talk show.

- A) I think they are great
- B) I prefer watching documentaries in the afternoons.
- C) I think they are boring.
- D) I like watching them.

18)



Tim Burton is a great film director. He is also a producer, animator and artist. He was born in 1958, California. He is known for his gothic and horror films. His wife, Helena Bonham Carter acted in his films. He made his film "Batman" in 1989 and won an award for this film at the Golden Globe Awards.

**Which question does NOT have an answer in the text?**

- A) Who is Tim Burton ?
- B) Where was he born?
- C) When did he make his film " Batman"?
- D) When did he die?

TV GUIDE – CHANNEL	
3	
10.00	The News
12.15	Harry Potter 2
15.30	Top 20 List
16.20	The Animal Kingdom
18.10	Let's Discuss

**19) According to the TV guide , you can watch a documentary at ..... .**

- A) 10.00                      C) 12.15
- B) 16.20                      D) 18.10

**20) Ada thinks ..... are very exciting programmes because she likes answering the questions.**

- A) quiz shows                      C) series
- B) movies                          D) soap operas



**CEVAP ANAHTARI**

<b>MATEMATİK</b>	<b>TÜRKÇE</b>	<b>FEN BİL.</b>	<b>SOSYAL B.</b>	<b>DİN KÜLT.</b>	<b>İNGİLİZCE</b>
1- C	1- D	1- C	1- C	1- C	1- C
2- C	2- C	2- C	2- C	2- C	2- D
3- A	3- C	3- C	3- A	3- D	3- D
4- A	4- B	4- B	4- B	4- C	4- A
5- D	5- C	5- B	5- A	5- A	5- B
6- C	6- A	6- C	6- D	6- D	6- C
7- B	7- A	7- A	7- D	7- D	7- C
8- A	8- D	8- B	8- A	8- B	8- A
9- D	9- A	9- A	9- C	9- A	9- B
10- B	10- D	10- A	10- A	10- B	10- D
11- D	11- B	11- C	11- C	11- C	11- D
12- C	12- A	12- D	12- B	12- A	12- A
13- B	13- C	13- A	13- A	13- C	13- C
14- C	14- A	14- A	14- D	14- C	14- B
15- C	15- D	15- D	15- D	15- D	15- D
16- B	16- C	16- D	16- C	16- B	16- A
17- C	17- C	17- D	17- B	17- C	17- C
18- B	18- A	18- C	18- A	18- C	18- D
19- A	19- A	19- C	19- B	19- B	19- B
20- A	20- B	20- A	20- D	20- B	20- A

## Çalışmada Emeęi Geçen Öğretmenlerimiz

Sancaklar Ortaokulu Müdürü  
**Bekir Yeşil**

Bilişim Teknolojileri Öğretmeni  
**Tarık IŞIKTAŞ**

Bilişim Teknolojileri Öğretmeni  
**Mehmet Zakir BEKLİM**

Matematik Öğretmeni  
**Esmâ ERTEN**

Türkçe Öğretmeni  
**Elif BEŞTAŞ**

Fen Bil. Öğretmeni  
**Kübra ERKARA**

**Pınar GÜL KARATUT**

Sosyal Bilg. Öğretmeni

DKAB Öğretmeni  
**Şeyma KOYUNCU**

İngilizce Öğretmeni  
**Gizem ÜÇGÜL**

Bu çalışma Siirt İl Milli Eğitim Müdürlüğü  
Öğretmenleri tarafından hazırlanmıştır. Emeklerinden dolayı teşekkür ederiz...