



SIİRT İL MİLLÎ EĞİTİM MÜDÜRLÜĞÜ

2020

ORTAOKUL

14 - 18 ARALIK

7

ÖDEU TAKİP SİSTEMİ

$-\frac{3}{11}$	0	-19	$5\frac{3}{17}$
2015	2,8	$\frac{42}{0}$	$4.2\overline{8}$

1) Yukarıda verilen sayılardan kaç tanesi rasyonel sayıdır?

A)5 - B) 6 C)7 - D)8

2)

$\frac{8}{11}$ rasyonel sayısının ondalık gösterim biçiminde yazılışı aşağıdakilerden hangisidir?

A) $0,\overline{72}$ B) $0,7\overline{2}$ C) $0,\overline{83}$ D) $0,8\overline{3}$

3)

$$\frac{6}{5 - \frac{12}{\frac{x}{2} - 2}} = 3$$

olduğuna göre, x kaçtır?

A) 8 B) 10 C) 12 D) 14

4)

$\frac{70}{8}$ rasyonel sayısı aşağıdakilerden hangisine eşittir?

A) 7,75 B) 7,8 C) 8,7 D) 8,75

5)

$$a = -0,04, \quad b = \frac{1}{15}, \quad c = -\frac{1}{7}, \quad d = \frac{13}{3}$$

sayılarından en küçük olanı hangisidir?

A) a B) b C) c D) d

6)

$$\frac{1}{75} - \frac{1}{25} \text{ işleminin sonucu kaçtır?}$$

A) $-\frac{1}{75}$ B) $-\frac{2}{75}$ C) $-\frac{7}{75}$ D) $-\frac{11}{75}$

7)

$$\frac{1}{20} + \frac{1}{11} - \left(\frac{1}{11} - \frac{19}{20} \right)$$

işleminin sonucu kaçtır?

A) $-\frac{1}{5}$ B) $-\frac{2}{5}$ C) 1 D) $\frac{3}{2}$

8)

$$1 - 1 : \frac{1}{2} - \frac{1}{2} \text{ işleminin sonucu kaçtır?}$$

A) $-\frac{5}{2}$ B) $-\frac{3}{2}$ C) $-\frac{1}{2}$ D) 0

9)

$\frac{4}{3}$ sayısının; çarpma ve toplama işlemlerine göre terslerinin çarpımı kaçtır?

A) $-\frac{16}{9}$ B) -1 C) $-\frac{9}{16}$ D) 1

10)

$$12\frac{11}{13} - \left(12 - \frac{2}{13} \right)$$

işleminin sonucu kaçtır?

A) $-\frac{1}{13}$ B) 0 C) $\frac{1}{13}$ D) 1

11)

$$\left(\frac{12}{11} \cdot \frac{14}{13}\right) \cdot \frac{3}{5} = x \cdot \left(\frac{14}{13} \cdot \frac{3}{5}\right)$$

olduğuna göre, x kaçtır?

- A) $\frac{3}{5}$ B) 1 C) $\frac{12}{11}$ D) $\frac{14}{13}$

12)

$\frac{a}{15}$ rasyonel sayısı, $\frac{1}{5}$ ve $\frac{1}{3}$ rasyonel sayıları arasındadır.

Buna göre, a doğal sayısı kaçtır?

- A) 2 B) 3 C) 4 D) 5

13)

Bir tenekede bulunan $\frac{15}{2}$ kg peynir, her biri $\frac{1}{6}$ kg peynir alan küçük kutulara konulacaktır. Bu işlem için kaç tane kutu gereklidir?

- A) 30 B) 36 C) 42 D) 45

14)

Bahçelievler mahallesindeki evlerin $\frac{2}{7}$ si bahçeli, kalan evler ise bahçesizdir. Bu mahalledeki evlerden bahçesiz olanların sayısı bahçeli olanların sayısından 210 tane fazladır.

Buna göre, bahçelievler mahallesinde kaç tane bahçeli ev vardır?

- A) 140 B) 150 C) 160 D) 170

15)

$$\frac{1}{\frac{2}{3} - \frac{1}{\frac{2}{3}}}$$

İşleminin sonucu kaçtır?

- A) $-\frac{4}{3}$ B) $-\frac{3}{2}$ C) -1 D) $-\frac{1}{2}$

16)

$$\frac{\frac{1}{15} + \frac{1}{16}}{\left(1 - \frac{14}{15}\right) + \left(1 - \frac{15}{16}\right)}$$

İşleminin sonucu kaçtır?

- A) 1 B) $\frac{3}{2}$ C) 2 D) $\frac{4}{3}$

17)

$$\frac{\frac{4}{3} - 2}{\frac{1}{1 + \frac{1}{2}}} \quad \text{İşleminin sonucu kaçtır?}$$

- A) $-\frac{5}{2}$ B) $-\frac{3}{2}$ C) -1 D) $-\frac{1}{2}$

18)

Süleyman bir şişe içindeki sütün $\frac{3}{4}$ ünü içtikten sonra, kalan sütün $\frac{4}{5}$ ini daha içiyor.

Buna göre, Süleyman şişe içindeki sütün kaçta kaçını içmemiştir?

- A) $\frac{1}{20}$ B) $\frac{1}{15}$ C) $\frac{1}{10}$ D) $\frac{1}{5}$

19)



Yukarıdaki sayı doğrusu üzerinde verilen x ve y sayıları için aşağıdakilerden hangisi doğrudur?

- A) x'in sıfıra uzaklığı 4 birimdir.
B) y'nin sıfıra uzaklığı 4 birimdir.
C) x sıfıra y'den daha uzaktır.
D) $x = -4\frac{1}{2}$ olabilir.

20)



Yukarıdaki sayı doğrusunda gösterilen a ve b rasyonel sayıları sırası ile aşağıdakilerden hangisindeki gibi olabilir?

- A) $-\frac{5}{2}, -\frac{3}{2}$ B) $-\frac{13}{3}, -\frac{14}{3}$
C) $-\frac{14}{3}, -\frac{13}{3}$ D) $-\frac{17}{2}, -\frac{15}{2}$

PARAGRAF BİLGİSİ (PARÇADA ANLAM)

Paragraf bilgisi eski soru kalıplarında okuduğunu anlamayla alakalıydı. **Şimdiki soru kalıplarında ise görsel yorumlama ve dikkat ön plana çıkmaktadır.** Paragrafla ilgili soruları doğru çözebilmek için şunlara dikkat edilmelidir:

1) Öncelikle **soru kökü** okunmalıdır.(**Soru kökünü doğru okuduğundan emin olmalısın. Olumsuz çekimli bir soruyu olumlu çekimliymiş gibi okursan soruyu da yanlış çözersin.**)

2) Varsa **soru köküne yönelik açıklama bölümü (en üstteki açıklama)** okunmalıdır.

3) **Paragraf** ya da **verilen veriler** okunmalıdır.(**Eski soru tarzlarında paragraf bir bütün olarak veriliyordu şimdi ise bir görsel ve görsele dair görselin etrafında dağınık veriler verilmektedir.**)

4) En **son** olarak **şıkları** okumalıyız. Şıkları indirebiliyorsak **iki şıkka indirmeli ve sonra eleme yöntemi ile doğru şıkkı bulmalıyız.**(**Örnek sorularda çeldiriciler çok güçlü olduğundan kesinlikle bütün şıkları sonuna kadar okumadan işaretleme yapmamalıyız. Aksi halde çok iyi hazırlanmış bir çeldiriciye düşebiliriz.**)

5)Soru kökü olumsuz **çekimlenmişse** (değiniilmemiştir, çıkarılamaz, söylenemez, varılamaz, ulaşılamaz...) **önce şıkları hızlı bir şekilde okumalı** sonra paragrafı okumalısın.

6) **Paragrafı okurken günlük hayatla ilişkilendirmelisin.** Bu şekilde paragraf akılda **kalıcı olacaktır.**(Günlük hayatla ilişkilendireyim derken yorumunu **katmamaya** dikkat etmelisin. Paragraftaki bilgilere bağlı kalmalısın.)

1. Öznenin istemi ile gerçekleşen ve nesne alabilen fiiller, **İş (Kılış)** bildiren fiillerdir.

2. Öznenin özelliğini, hangi durumda olduğunu bildiren ve nesne almayan fiiller, **durum** bildiren fiillerdir.

3. Öznenin iradesinde olmayan bir varlığın zaman içindeki dönüşümünü, değişimini ifade eden fiiller, **Oluş** bildiren fiillerdir.

1) Yukarıdaki bilgiler doğrultusunda “oluş, iş ve durum” fiillerine aşağıda sırasıyla doğru örnek verilmiştir?

- A) durmak – eskimek - gitmek
- B) okumak – oturmak - korkmak
- C) dökmek – çürümek - yıkamak
- D) solmak – sürmek – uzanmak

I.

Şair Bestami Yazgan, bir okulun davetlisi olarak gittiği İzmir’de şiirsevenlerle buluştu. Bu buluşmada dinleyicilere şiir macerasını anlatıp eserlerinden örnekler sundu. Dinleyicilerin merak ettiği soruları cevaplayan şair, sohbet sonrası kitaplarını imzaladı. Bestami Yazgan, Anadolu’nun her köşesine şiir tohumları ekmekten mutlu olduğunu söyledi.

II.

25 Temmuz’da hayata gözlerini yuman Halil İnalıcık, Osmanlı tarihi denince akla gelen ilk isimdir. Bunu tarihin koynunda geçen bir ömre borçludur. Yeni neslin Osmanlıyı anlaması için çok çaba sarf eden İnalıcık Hoca, bu alanda gelecekte de adından söz edilecek ve asla unutulmayacak bir şahsiyettir.

III.

Mehmet Kaplan’ın Cumhuriyet Dönemi ile ilgili araştırmalarından oluşan eser, Türk edebiyatının gelişme ve değişme sürecini ele alan lokomotif eserlerden biridir. Özellikle bugünün edebiyatını yorumlamamızda bize kaynaklık eden eser, alana ilgi duyan her araştırmacının kitaplığında yer almalıdır.

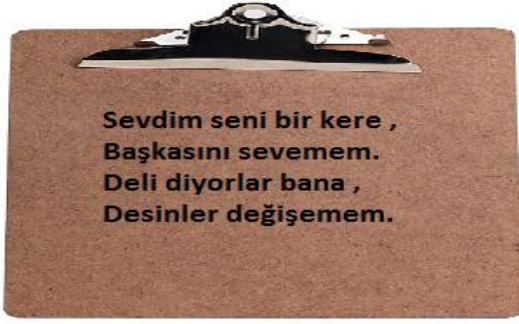
IV.

Yaşar Kemal, belki de edebiyatımızın en sevilen romancılarından biriydi. Her eserinde bu toprakların kokusunu hissettiren sanatçı bu sevgiyi karşılıksız bırakmıyordu. Her bir romanında bizi köyümüzün sokaklarında gezdiriyor, içimizden birini kahraman olarak bize sunuyordu.

- a. İçinde yaşadığı toplumu yansıtmak
- b. İnsanların şiire ilgi duymasını sağlamak
- c. Tarihle çok fazla ilgilenmiş olması
- d. Türünün önemli ve öncü eseri sayılmak

2) Yukarıda verilen metinlerde yer alan altı çizili sözcük gruplarının taşıdığı anlamlar aşağıdakilerden hangisinde doğru verilmiştir?

	I.	II.	III.	IV.
A)	c	a	b	d
B)	b	c	d	a
C)	c	b	a	d
D)	d	a	c	b



3)Yukarıdaki dizelerde , aşağıdaki eylem kiplerinden hangisiyle çekimlenmiş bir eylem yoktur?

- A)Şimdiki zaman
- B)-di li geçmiş zaman
- C)Emir kipi
- D)İstek kipi



Henüz bu elma olgunlaşmamış, biraz daha beklemelisin.



Armut iyice sararmış, onu yemelisin.



Muzdan sadece iki tane alabildik.



Karpuz biraz daha büyüsün öyle koparalım.

4) Hangi meyve ile ilgili yapılan açıklamada eylem oluş bildirmemektedir?

- A)Elma
- B)Armut
- C)Muz
- D)Karpuz

5) Aşağıdaki ölçütlere göre çekimli fiiller oluşturun.

Görüş→ istek kipi, 1. çoğul kişi→

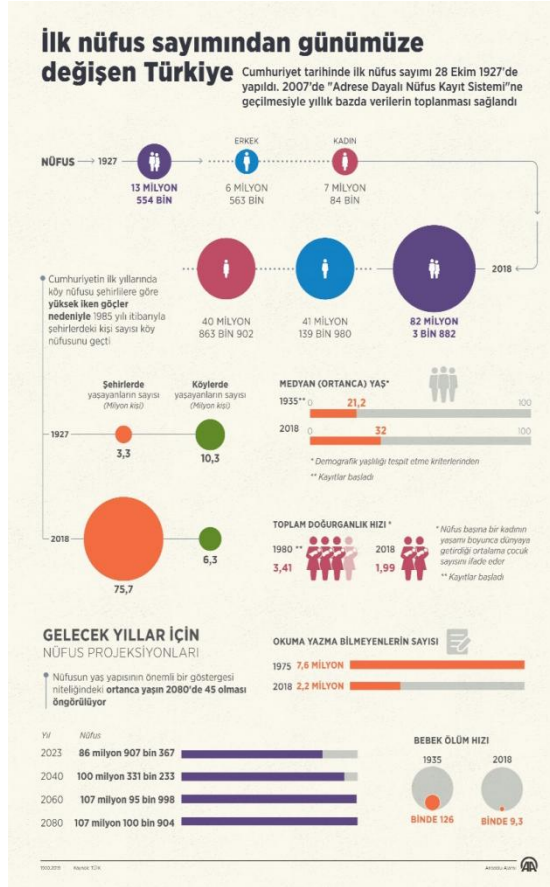
Yaz →görülen geçmiş zaman, 3. tekil kişi→

Gel → emir kipi, 2. tekil kişi→

Oyna→ şimdiki zaman, 1. tekil kişi→

Sol→ Geniş zamanın

olumsuzu, 3. çoğul kişi→



V- Ülkemizin öngörülen nüfusundaki artış giderek artmaktadır.

maddelerden hangilerine ulaşamayız?

- A) III ve V. B) II ve IV.
B) III ve IV D) I, III ve V.

6) Yukarıdaki infografik ile ilgili olarak,

- I- İlk nüfus sayımında köylerde yaşayan nüfus daha fazlayken son nüfus sayımıyla birlikte şehirlerde yaşayan nüfus sayısı artmıştır.
- II- 2007 yılında Adrese Dayalı Nüfus Kayıt Sistemine geçilmesiyle veriler yıllık bazda toplanmaktadır.
- III- Sağlık koşullarının iyileşmesi sebebiyle bebek ölüm hızında azalma görülmektedir.
- IV- Eğitim seviyesini yükselmesiyle beraber okuma yazma bilmeyenlerin sayısı ve toplam doğurganlık hızı düşmektedir.

Pars, [aslan](#), [kaplan](#) ve [jaguar](#) gibi büyük kedilerin içinde en büyük dördüncü (kaplan, aslan ve jaguardan sonra) cüsseli olanıdır. Erkek parsın boyu yaşadığı bölgeye değişmekle birlikte ortalama 90 santimetre olan kuyruk dahil 2,40 metreye kadar olabilir. Ağırlığı 90 kiloya erişebilir. Erkekler dişilerden %20-%40 kadar daha büyük olabilir. Diğer büyük kedilere göre uzun gövdesine göre daha kısa bacaklara sahiptir. Büyük kedilerin içinde en iyi ağaca tırmanabilen türdür. Geniş pençelerinde sivri ve keskin tırnakları, kısa ve toparlak kulakları, göz alıcı parlaklıkta kısa tüylü postu vardır. Post rengi ve tüy uzunluğu yaşam alanına göre değişmekle beraber, parlak sarımsı kahverengiden koyu sarımsı pas rengine kadar farklılık gösterebilir. Üstünde siyah benekler bulunur. (...) Bu hayvanın yakın zamana kadar Türkiye’de de yaşadığı bilinmektedir. 2010 yılında Siirt’te Gabar Dağı yakınlarında çekilmiş pars fotoğrafı, 1974 yılından beri Türkiye’de parsla ilgili ele geçen ilk somut kanıt niteliğindedir. Ayrıca parsın fotoğrafla belgelenmesi Türkiye’de hala popülasyonunun devam ettiği yönündeki iddiaları yeniden canlandırmıştır. 2013 yılının Kasım ayında [Diyarbakır](#)’ın [Çınar](#) ilçesinde de görülmüştür.

7) Yukarıdaki metinlerde “parslarla” ile ilgili hangi bilgiye yer verilmemiştir?

- A) Diğer büyük kediler gibi iri bir hayvan olduğuna
- B) Üstündeki beneklerin rengine
- C) Ülkemizde her bölgede yaşadığına
- D) 2010 yılından sonra da ülkemizde görüldüğüne

"Elimizde kesin faydasını gösteren veriler olmamakla birlikte ekran karşısında mavi ışık korumalı gözlükler de tercih edilebilir. Ekranı, açık pencerelerden ve aydınlatma araçlarından gelen doğrudan ışığa maruz bırakmayacak şekilde konumlandırmak parlama ve yansımaları önleyerek gözün rahatlmasına yardımcı olur. Ekranın parlaklığının daha rahat bir seviyeye düşürülmesi de faydalı olacaktır."

8) Yukarıdaki yanıt hangi soruya verilmiş olabilir?

- A) Ekran karşısında ne kadar süre kalmalıyız?
- B) Ekran karşısında iken ara vermek gerekir mi?
- C) Ekranı bakarken mavi ışık korumalı gözlükler kullanılabilir mi?
- D) Ekranı bakarken yüz hizasına dikkat etmeli miyiz?

Aynı dönemde Millî Eğitim Bakanı [Hamdullah Suphi Bey](#)'in ricası üzerine arkadaşı [Hasan Basri Bey](#) kendisini ulusal marş yarışmasına katılmaya ikna etti. Konulan 500 liralık ödül nedeniyle başlangıçta katılmayı reddettiği bu yarışmaya, o güne kadar gönderilen şiirlerin hiçbiri yeterli bulunmamıştı ve en güzel şiiri Mehmet Âkif'in yazacağı kanısı mecliste hâkimdi. Mehmet Âkif'in yarışmaya katılmayı kabul etmesi üzerine kimi şairler şiirlerini yarışmadan çektiler. Şairin orduya ithaf ettiği [İstiklâl Marşı](#), 17 Şubat günü [Sırat-ı Müstakim](#) ve [Hâkimiyet-i Milliye](#)'de yayımlandı. Hamdullah Suphi Bey tarafından mecliste okunup ayakta dinlendikten sonra 12 Mart 1921 Cumartesi günü saat 17.45'te ulusal marş olarak kabul edildi. Âkif, ödül olarak verilen 500 lirayı [Hilal-i Ahmer](#) bünyesinde, kadın ve çocuklara iş öğreten ve cepheye elbise diken Dar'ül Mesai vakfına bağışladı.

9) Yukarıdaki metinde M. Akif Ersoy'un hayatının hangi dönemi anlatılmaktadır?

- A) Mısır'da geçirdiği seneler
- B) Hayatının son zamanları
- C) İstiklal Savaşı'na katılımı
- D) İstiklal Marşı'nı yazması

Aşağıdaki tabloda 2020'de yapılan bir merkezi sınavın analiz sonuçları verilmiştir.

TABLO 3

2020 MERKEZİ SINAV MADDE ANALİZİ VE GÜVENİLİRLİK ANALİZİ SONUÇLARI

Bölüm	Alt Test	Soru Sayısı	Ortalama Soru Güçlüğü	Ortalama Soru Ayırt Ediciliği	İç Tutarlılık (Güvenirlilik) Katsayısı
SÖZEL BÖLÜM	Türkçe	20	0,50	0,38	0,82
	T.C. İnkılap Tarihi ve Atatürkçülük	10	0,50	0,51	0,82
	Din Kültürü ve Ahlak Bilgisi	10	0,64	0,47	0,79
	Yabancı Dil (İngilizce)	10	0,35	0,59	0,87
SAYISAL BÖLÜM	Matematik	20	0,28	0,30	0,77
	Fen Bilimleri	20	0,51	0,44	0,86

T.C. MİLLÎ EĞİTİM BAKANLIĞI

10) Bu tabloya göre aşağıdaki çıkarımlardan hangisi yapılamaz?

- A) Üç dersin ortalama soru güçlüğü aynıdır.
- B) Her dersin soru ayırt ediciliği farklıdır.
- C) Soru sayısı derslere göre farklılık göstermektedir.
- D) Güvenilirlik katsayısı derslere dengeli yansımıştır.

11) Bardağın boş tarafına bakan insanlar, hayatta mutlu olmayı beceremezler.

Bu cümledeki “Bardağın boş tarafına bakmak” sözünün anlamı aşağıdakilerin hangisinde vardır?

- A) Mutluluk, boş durarak elde edilebilecek bir şey değildir.
- B) Her şeyin olumsuz tarafına takılıp kalırsan kendin üzülürsün.
- C) Çevresine neşe saçan insanlar, her zaman çok sevilir.
- D) Düşüğümüz kötü durumlardan yine kendi çabamızla kurtulabiliriz.

12) Aşağıdaki cümlelerin hangisinde ikileme, deyim kalıbı içinde kullanılmıştır?

- A) Bu sabah otobüse güç bela yetişebildim.
B) Niçin böyle davrandığını sorsak mırın kırın eder.
C) Bahar aylarında dere gürül gürül akardı.
D) Çevremizde irili ufaklı birçok mağara vardı.

13) Bir şairin sanattaki ömrü ilk şiirlerine bakılarak anlaşılabilir.

Aşağıdakilerden hangisi anlamca bu cümleyle çelişmektedir?

- A) Başarılı şairlerin ilk şiirleri de sonraki şiirler kadar beğenilir.
B) Sanatçının nasıl bir usta olacağı çiraklık döneminde belli olur.
C) Bir sanatçının yarına kalıp kalmayacağı ilk eserlerinden anlaşılır.
D) İlk eserleri tutulmayan sanatçılar da zamanla zirveye çıkabilir.

14) Aşağıdakilerden hangisinde yargının gerekçesi verilmemiştir?

- A) Hepimizin dudakları susuzluktan çatlamıştı.
B) Şiir okuyacak çocuk, heyecandan titriyordu.
C) Bir vakit sonra o kalabalıktan kurtulduk.
D) Çocuğun gözleri ağlamaktan şişmişti.

15) Bilge, küçük bir gölün kenarında oturmuş tefekkür ediyordu. O sırada bir köpeğin tuhaf hareketleri dikkatini çekti. Çok susamış olduğu belli olan köpek gölün kenarına kadar geliyor, tam su içecekken kaçıp gidiyordu. Köpeği dikkatle takip eden bilge, onun suyun yüzeyinde gördüğü kendi aksinden korkup kaçtığını ve

susuzluğunu bir türlü dindiremediğini anladı.

Yukarıdaki metnin türü aşağıdakilerden hangisidir ?

- A) Tiyatro B) Anı
C) Roman D) Hikaye

Derinden derine ırmaklar ağılar,
Uzaktan uzağa çoban çeşmesi,
Ey suyun sesinden anlayan bağlar,
Ne söyler şu dağa çoban çeşmesi.

16) Yukarıdaki şiirde hangi varlığa insana ait bir özellik verilmemiştir?

- A) Bağlar
B) Çoban Çeşmesi
C) Dağ
D) Irmak

17) Aşağıdaki cümlelerin hangisinde bağlaç olan “ki” veya ek olan “-ki”nin yazımı doğrudur?

- A) Yatağa tam yatmıştım ki dışarıdan gelen gürültüyle yerimden sıçradım.
B) Onun bu alanda ki çalışmaları hepimiz için örnek oluşturmaktadır.
C) Yaşlı adamın sesindeki titremeden çok sinirlendiği belli oluyordu.
D) Gelecek hafta ki toplantının nerede yapılacağını ben de bilmiyorum.

- Meşhur bir filozofa sormuşlar ()
– Servet ayaklarınızın altında ama siz fakirsiniz. Neden ()
– O servete konmak için eğilmek gerekir ()

18) Yukarıdaki cümlelerin sonuna sırasıyla aşağıdaki noktalama işaretlerinden hangileri gelmelidir?

- A) (:)(?)(.)
B) (.)?(.)
C) (:)(!)(.)
D) (“)(?)(”)

(1) Bir köylü kadın, bir danayı doğar doğmaz kucağına alıp sevmiş, sonra da bunu adet edinmiş, her gün danayı kucağına alıp taşımış; sonunda buna o kadar alışmış ki dana büyüyüp koskoca öküz olduğu zaman, onu yine kucağında taşıyabilmiş. Bu hikayeyi kim uydurduysa, alışkanlığın ne büyük bir güç olduğunu çok iyi anlatmış olacak. Gerçekten alışkanlık pek yaman bir hocadır ve hiç şakası yoktur. Yavaş yavaş, sinsi sinsi içimize ilk adımını atar; **başlangıçta kuzu gibi sevimli, alçak gönüllüdür** ama, zamanla, oraya yerleşip kökleşti mi, öyle azılı, öyle amansız bir yüz takınır ki kendisine, gözlerimizi bile kaldırmaya izin vermez...

(19 ve 20 soruyu yukarıda verilen “Alışkanlık” denemesine göre yanıtlayınız.)

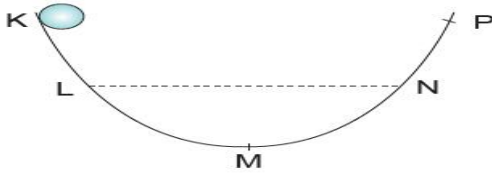
19) Parçada altı çizili yerde görülen söz sanatının gerekçesi hangisinde doğru verilmiştir?

- A) Benzetme
- B) Tezat
- C) Kişileştirme
- D) Abartma

20) Parçada anlatılanla ilgili verilen bilgilerden hangisi yanlıştır?

- A) Yazar daha çok kendi görüşlerini anlatmıştır.
- B) Bir olaydan örnek vererek konuyu açıklamıştır.
- C) İkilemeler kullanarak anlatımını güçlendirmiştir.
- D) Metin sadece haber kipi kullanılarak yazılmıştır.

1)



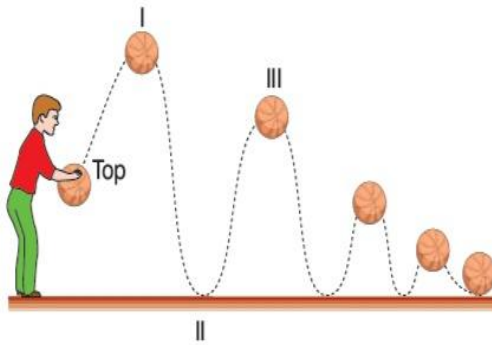
Şekildeki cisim serbest bırakılırken gerçekleşen enerji dönüşümleri ile ilgili;

- I. K-L arasında cismin potansiyel enerjisi artar.
- II. M noktasında en yüksek kinetik enerjiye sahip olur.
- III. Cisim N noktasına ulaşırsa sahip olduğu potansiyel enerji M noktasından daha fazla olur.

hangileri doğrudur?

- A) Yalnız I
- B) Yalnız II
- C) I ve II
- D) I, II ve III

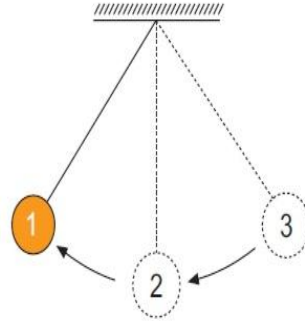
2)



Enes'in attığı topun hareketi şekildeki gibidir. Buna göre aşağıdakilerden hangisi **yanlıştır**?

- A) Topun sahip olduğu potansiyel enerji en fazla I konumudur.
- B) II. Konumda iken kinetik enerjisi en fazladır.
- C) Top Enes'in elindeyken potansiyel enerjisi yoktur.
- D) Top I konumundan II konumuna geçerken potansiyel enerjisi azalır, kinetik enerjisi artar.

3)



Yukarıda

verilen sarkaç 3 konumunda serbest bırakılmış ve hareketleri ok yönünde gerçekleşmiştir.

Buna göre;

- I. 1 konumunda cismin potansiyel enerjisi en fazladır.
- II. 2. konumunda cismin kinetik enerjisi en fazla olur.
- III. Cisim 3 konumundan 2 konumuna geçerken cismin kinetik enerjisi artar.

ifadelerinden hangileri doğrudur?

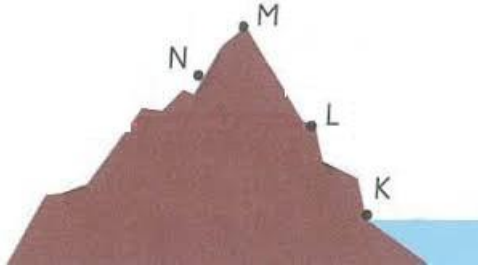
- A) Yalnız II
- B) I ve II
- C) II ve III
- D) I, II ve III

4)

- 1. Eşit kollu terazi ile ölçülür.
 - 2. Bulunduğu konuma göre değişmez.
 - 3. Birimi Newton (N)'dur.
 - 4. Değişmeyen madde miktarıdır.
 - 5. Dinamometre ile ölçülür.
 - 6. Bulunduğu konumun çekim kuvvetine göre değişir.
- Yukarıda kütle ve ağırlık ile ilgili bilgi kartları numaralandırılarak verilmiştir. Asmin kütle ile ilgili Havin ise ağırlıkla ilgili bilgi kartlarını alacaklardır. **Buna göre Asmin ile Havin'in aldığı kartlar aşağıdakilerden hangisi gibi olur?**

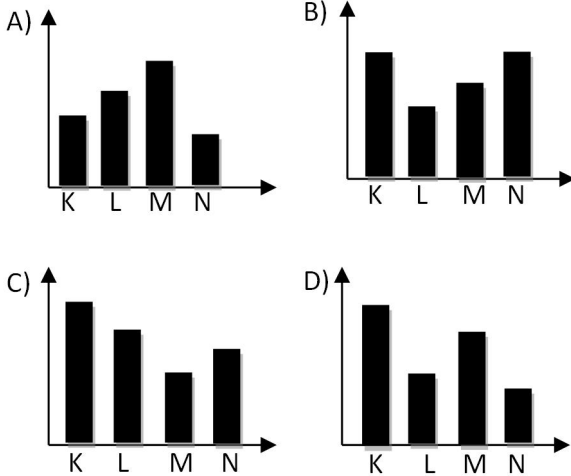
Asmin	Havin
A) 1,2,3	4,5,6
B) 1,2,4	3,5,6
C) 2,3,5	1,4,6
D) 2,4,6	1,3,5

5)



Dağcı olan Güler yukarıdaki dağa tırmanırken K, L, M ve N noktalarında T cisminin ağırlığını dinamometre ile ölçüyor.

Buna göre Güler'in ölçüm yaptığı noktaların grafiği aşağıdakilerden hangisidir?



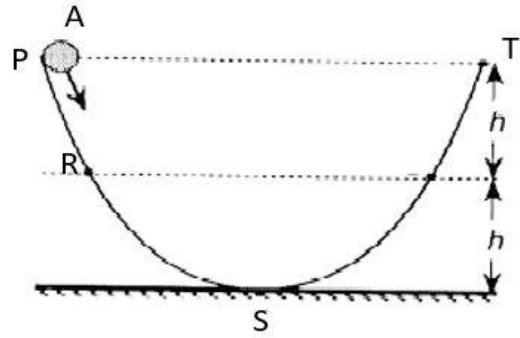
6)

Ay'daki yerçekimi miktarı Dünya'daki yer çekimi miktarından 6 kat daha azdır.

Yukarıdaki bilgi göz önünde bulundurulduğunda, Dünya'daki ağırlığı 600 N olan bir valizin Ay'daki ağırlığı kaç N olur?

- A) 100 N B) 600 N
C) 3600 N D) 60

7)



Yukarıdaki şekilde sürtünmesiz yüzeyde A cismi P noktasından serbest bırakılıyor.

Buna göre aşağıda verilen bilgilerden hangileri doğrudur?

I. A cismi T noktasına kadar çıkar.

II. S noktasında sadece kinetik enerjisi vardır.

III. R noktasında sadece potansiyel enerjisi vardır.

- A) I B) I, II C) II, III D) I, II, III

8)

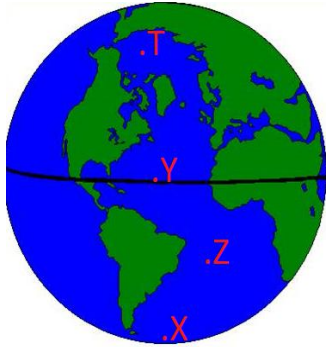
Aşağıda mitoz ve mayoz bölünme ile ilgili bilgiler verilmiştir

- a. Homolog kromozomlar arası parça değişimi görülür.
b. Vücut hücrelerinde görülür.
c. Hayat boyu devam eder.
d. Bölünme sonucu 4 hücre oluşur.
e. Üreme ana hücrelerinde görülür.
f. Kalıtsal çeşitlilik görülmez.

Buna göre mitoz ve mayoz bölünme ile ilgili bilgiler aşağıdakilerden hangisinde doğru verilmiştir.

Mitoz	Mayoz
A) a-b-c	d-f-e
B) a-d-f	b-c-e
C) b-c-e	a-d-f
D) b-c-f	a-d-e

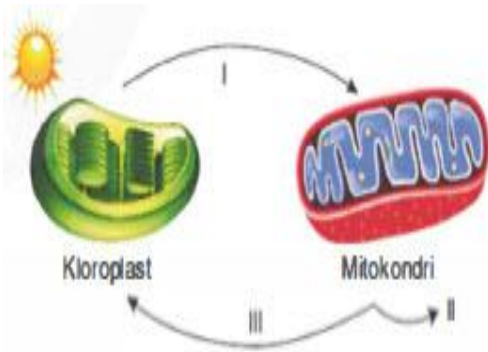
9)



K cisminin ağırlığı dinamometre ile X, Y, Z ve T konumlarında ölçülüyor. Buna göre dinamometrelere uzama miktarının en fazla ölçüldüğü konum aşağıdakilerden hangisidir?

- A) X B) Y C) Z D) T

10)



Yukarıda mitokondri ve kloroplast organelleri arasındaki madde alışverişi şematize edilmiştir.

Buna göre aşağıdakilerden hangisi kesinlikle doğrudur?

- A) I numaralı kısım basit şekerdir. (glikoz)
B) III numaralı kısım karbondioksit gazıdır. (CO₂)
C) III numaralı kısım sudur. (H₂O)
D) II numaralı kısım enerjidir. (ATP)

11)

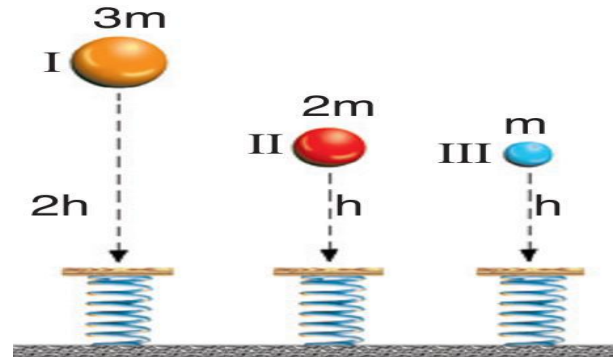


Tüm canlı hücrelerde bulunan en küçük organelim. Çekirdek zarında, sitoplazmada serbest olarak ve endoplazmik retikulum üzerinde bulunabilirim.

Yukarıda özelliklerini sayan organel aşağıdakilerden hangisidir?

- A) Lizozom B) Sentrozom
C) Mitokondri D) Ribozom

12)



Bir cismin çekim potansiyel enerjisi cismin kütlesi ve yerden yüksekliği ile doğru orantılıdır. Özdeş yaylardan oluşan düzeneğe kütleleri ve yükseklikleri farklı topar serbest bırakılıyor.

Serkan: En çok I numaralı cisim yayı sıkıştırır, çünkü onun potansiyel enerjisi en büyüktür.

Levent: II ve III numaralı cisimler yayları eşit miktarda sıkıştırır, çünkü potansiyel enerjileri eşittir.

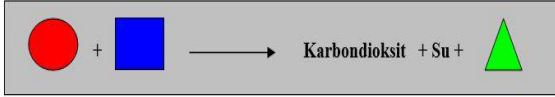
Didem: Topların serbest bırakılmasıyla çekim potansiyel enerjisi kinetiğe o da yayda esneklik potansiyel enerjisine dönüşür.

Serkan, Levent ve Didem'in ifadelerinden hangisi/hangileri doğrudur?

- A) Yalnız Serkan
B) Yalnız Levent
C) Serkan ve Levent
D) Serkan ve Didem

13)

Yaşamımızı devam ettirmek için enerjiye ihtiyaç duyarız. Uyuduğumuz anda bile vücudumuzda enerji harcanır. Gereksinim duyduğumuz enerjinin kaynağı besin maddeleridir. Besinlerdeki enerji; hücrelerdeki mitokondri organelinde oksijenli solunum olayı ile canlının kullanabileceği enerji türü olan ATP'ye dönüştürülür. Mitokondrilerde gerçekleşen bu dönüşüm aşağıda şematize edilmiştir.

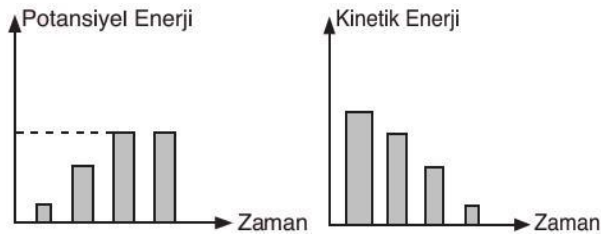


Yukarıdaki şemaya göre aşağıdakilerden hangisi doğrudur?

- A) üretilen enerjiyi gösterir.
- B) kullanılan oksijeni gösterir.
- C) kullanılan besini gösterir.
- D) kullanılan suyu gösterir.

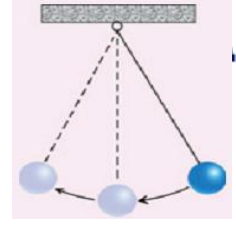
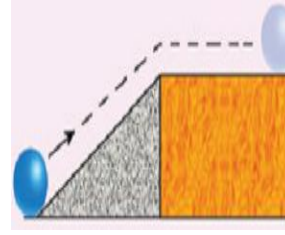
14)

Bir cismin yaptığı hareket sonucunda kinetik ve potansiyel enerjilerindeki değişim aşağıdaki grafiklerde verilmiştir.



Bu cismin yaptığı hareket aşağıdakilerden hangisidir?

- A)
- B)
- C)
- D)



15)

Aşağıda verilen durumların her birinde uygulanan kuvvet sonucunda iş yapılmaktadır.

Bu sırada meydana gelen enerji dönüşümlerinin hangisi doğrudur?

- A) Gerilmiş bir yayın uyguladığı kuvvet sonucunda yapılan iş, oka kinetik enerji kazandırır.
- B) Balkondan düşen saksının yaptığı iş, potansiyel enerjiyi artırır.
- C) Yukarı fırlatarak topa uyguladığımız kuvvetin yaptığı iş, potansiyel enerjiyi azaltır.
- D) Tenis raketiyle topa uyguladığımız kuvvetin yaptığı iş, topun kinetik enerjisini azaltır.

16)

Bir astronot Dünya' dan Ay' a çok sevdiği bir yiyecek olan lahmacun götürüyor.

Buna göre lahmacunun ağırlığı ve kütlesi için ne söylenebilir?

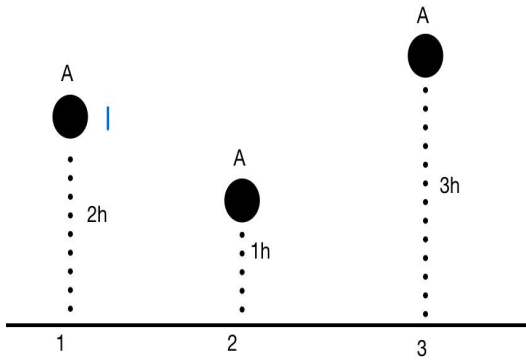
	<u>Ağırlığı</u>	<u>Kütlesi</u>
A)	Azalır	Değişmez
B)	Azalır	Artar
C)	Artar	Azalır
D)	Değişmez	Değişmez

17.

(....) Dinamometre ile ölçülür.
 (....) Birimi kg-g dır.
 (....) Değişmeyen madde miktarıdır.
 (....) Bulunduğu konuma göre değişmez.
 Kütle ile ilgili yukarıda verilen bilgilerin başına doğru ise D, yanlış ise Y yazıldığında hangi seçenek doğru olur?

- A) ☐ D ☐ D ☐ D ☐ Y
 B) ☐ D ☐ D ☐ Y ☐ Y
 C) ☐ Y ☐ D ☐ D ☐ D
 D) ☐ Y ☐ D ☐ Y ☐ D

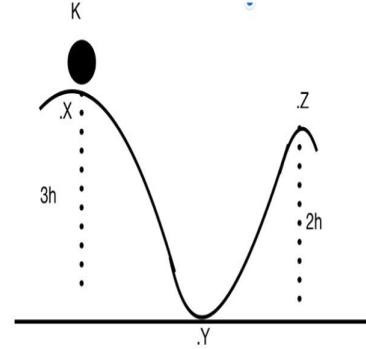
18)



Özdeş A cisminin farklı yüksekliklerden aynı anda serbest düşmeye bırakılıyor. A cisminin yere çarpma anındaki kinetik enerjileri E_1 , E_2 ve E_3 olduğuna göre bu enerjilerin sıralaması aşağıdakilerden hangisinde doğru olarak verilmiştir?

- A) $E_1 > E_2 > E_3$
 B) $E_1 > E_3 > E_2$
 C) $E_3 > E_1 > E_2$
 D) $E_2 > E_1 > E_3$

19)

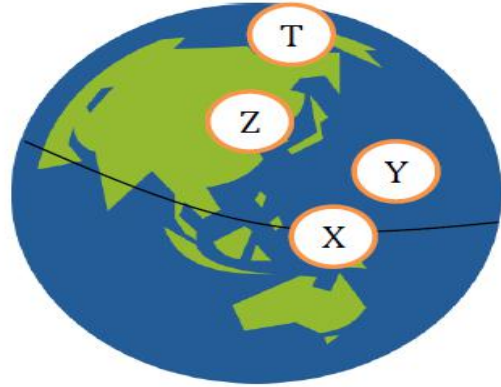


Şekilde sürtünmesiz ortamda K cismi X noktasından serbest bırakılıyor. Cismnin hareketi sırasında kinetik ve potansiyel enerjileri hakkında aşağıda verilen ifadelerden hangisi yanlıştır?

- A) X noktasındaki potansiyel enerji Z noktasından büyüktür
 B) Y ve Z noktaları arasında kinetik enerji azalır
 C) Kinetik enerji Y noktasında Maximum seviyededir
 D) X ve Y noktaları arasında mekanik enerji sürekli artar

20)

Bir gezgin Dünya üzerinde X, Y, Z ve T ile gösterilen konumlarda kütlelerini ölçmüştür.



Gezginin bu dört farklı konumda elde ettiği sonuçların büyükten küçüğe doğru sıralaması

nasıldır?

- A) $X > Y > Z > T$ B) $X = Y = Z = T$
 C) $X > Z > Y > T$ D) $T > Z > Y > X$

OSMANLI DEVLETİNDE ISLAHAT HAREKETLERİ

SB.7.2.4. Osmanlı Devleti'nde ıslahat hareketleri sonucu ortaya çıkan kurumlardan hareketle toplumsal ve ekonomik değişim hakkında çıkarımlarda bulunur.

Avrupa'da Coğrafi keşifler sonrası ticaret yolları değişti ve Osmanlı Devleti'nin vergi ve ticaret gelirleri azaldı. Osmanlı Devleti'nin vergi ve ticaret gelirleri azaldı. Uzun süren savaşların beraberinde getirdiği ekonomik sıkıntılar ve isyanlar devleti zor durumda bıraktı. Padişahlar ve bazı devlet adamları çareler aramaya başladı. 18. yüzyıl başlarından itibaren ilk defa Osmanlı kurumlarının batıdan örnek alınarak düzenlenmeye çalışıldığı bir dönem başlamıştır

Lale Devri

Osmanlı tarihinde 1718 Pasarofça Antlaşması ile başlayıp 1730 Patrona Halil isyanı ile sona eren devrine Lâle Devri denilir.

Lale Devri'nde birçok yenilik yapılmıştır. Bu dönemde ilk kez Avrupa'da **geçici elçilikler** oluşturulmuştur.

* İlk kez **çiçek aşısı** uygulanmıştır. **Çini atölyeleri** açılmıştır.

* 1720 yılında tulumacıların yerine **İtfaiye teşkilatı** kurulmuştur. İtfaiye teşkilatı *Osmanlı tarihinde batı örnek alınarak kurulan ilk teşkilat olmuştur.

* Lale Devri'nde Said Çelebi ile İbrahim Müteferrika 1727'de **ilk Osmanlı matbaasını** kurmuştur. Matbaa sayesinde kitap sayısı artmış ve fiyatı ucuzlamıştır. Bilginin yayılması kolaylaşmıştır.

* Lale Devri'nde ilk defa Yalova'da **kâğıt**, İstanbul'da **kumaş fabrikası** kurulmuştur.

III. Selim Dönemi Islahatları

- Islahatların genel ismi Nizam-ı Cedid'tir. Avrupa tarzında Nizam-ı Cedid ordusu kuruldu. Bunların masrafını karşılamak için İrad-ı Cedid hazinesi kuruldu.
- Kara ve Deniz Mühendishanesi yeniden düzenlenerek geliştirildi.
- Yerli malı kullanımı teşvik edildi.
- Avrupa'yı yakından takip edebilmek için Londra, Paris, Viyana ve Berlin'de **SÜREKLİ ELÇİLİKLER** kuruldu.

Kabakçı Mustafa İsyanı ile Nizam-ı Cedit Ocağı dağıtıldı. III. Selim tahtan indirilerek yerine IV. Mustafa'yı padişah ilan ettiler .

II. Mahmut Dönemi Islahatları

- Sekban-ı Cedit Ocağı kuruldu.
- İlk kez askeri amaçlı nüfus sayımı yapıldı (1831).
- Yeniçeri Ocağı kaldırıldı (1826). Tarihte bu olaya "Vaka'yı Hayriye/Hayırlı Olay" denir.
- Yeniçeri Ocağı'nın yerine "Asakir-i Mansure-i Muhammediye" (Muhammed'in Övülmüş Askerleri) ordusu kuruldu.

- Tıp Okulu ve Harp Okulu kuruldu.
- Divan kaldırılarak yerine “nazırlılar/bakanlıklar” kuruldu.
- Memurlar, “iç işleri/dâhiliye” ve “dış işleri/hariciye” memurları olmak üzere ikiye ayrıldı.
- Askeri ve idari işleri düzenlemek için danışma meclisleri kuruldu.
- Dirlik sistemi (tımar ve zeamet) kaldırıldı, memurlara maaş bağlandı.
- “Sened-i İttifak” imzalandı (Sened-i İttifak; II. Mahmut ile ayanlar [büyük toprak sahipleri] arasında imzalandı. Sened-i İttifak’a göre, ayanlar devlet otoritesini tanıyacak, ıslahatları benimseyecek, buna karşılık bulundukları bölgede vergi toplama hakkını elde edeceklerdi).
- Ortaokul seviyesinde Rüştîye okulları açıldı.
- Medreselerin yanında Avrupa tarzında eğitim kurumları açıldı. Kültür ikiliğine neden oldu.
- Enderun kaldırılarak yerine devlet adamı yetiştiren okul kuruldu.
- İlköğretim zorunlu oldu.
- İlk defa Avrupa’ya öğrenci gönderildi.
- Harp Okulu, Tıp Fakültesi ve Bando Okulu açıldı.
- “Takvim-i Vakayi” adıyla ilk resmi gazete çıkarıldı.
- Sosyal Alanda Yapılan Islahatlar
- Müsadere Usulü, yani devletin vatandaşların mallarına el koyması uygulaması kaldırıldı.
- İlk Posta ve Polis örgütü kuruldu.
- İlk Karantina Sistemi ve Sağlık Örgütü oluşturuldu.
- Memurlara fes ve pantolon uygulaması getirildi.
- Devlet dairelerine padişah portresi asılması uygulaması getirildi.
- Posta ve Telgraf Teşkilatı Anonim Şirketinin (PTT) temelleri
- II. Mahmut Dönemi’nde atıldı.
- Ulaşım önem verildi **demir yolları** yapıldı. Bu demir yollarının
- bazıları; İzmir-Aydın, Selanik-İstanbul, Bağdat, Anadolu ve
- Hicaz demir yolu hattıdır
- Toplum huzurunu sağlamak azınlık isyanlarını önlemek için
- önce **Tanzimat** daha sonra **Islahat** fermanı ilan edildi.

1) Aşağıdakilerden hangisi lale Devri ile ilgili **yanlış** bir bilgidir?

- A) İlk kez çiçek aşısı uygulanmıştır.
- B) İtfaiye teşkilatı kurulmuştur.
- C) 1727'de ilk Osmanlı matbaası kurulmuştur.
- D) Avrupa tarzında Nizam-ı Cedid ordusu kurulmuştur.

2) Aşağıdaki ıslahatlardan hangisi **Kültür ikiliğine** neden olmuştur?

- A) Sekban-ı Cedit Ocağı kuruldu.
- B) İlk kez askeri amaçlı nüfus sayımı yapıldı.
- C) Viyana ve Berlin'de Sürekli elçilikler kuruldu.
- D) Avrupa tarzında eğitim kurumları açıldı.

3) Aşağıdaki ıslahatlardan hangisi toplum huzurunu sağlamak azınlık isyanlarını önlemek için yapılmıştır?

- A) Yeniçeri Ocağı kaldırıldı.
- B) Tıp Okulu ve Harp Okulu kuruldu.
- C) Tanzimat ve Islahat fermanı ilan edildi.
- D) "Takvim-i Vakayi" adıyla ilk resmi gazete çıkarıldı.

4) Aşağıdakilerden hangisi Osmanlı Devletini olumsuz etkileyen olaylardan biri **değildir**?

- A) Coğrafi Keşifleri
- B) Sanayi İnkılabı
- C) Reform hareketleri
- D) Fransız İhtilali

5) Aşağıdaki Yenilik ve Etkilediği Alan eşleştirmelerden hangisi **yanlıştır**?

- A) Posta Nezareti -Haberleşme
- B)Matbaa - Ekonomi
- C)Tramvay hattı-Ulaşım
- D) Takvim-i Vekayi – Kültür

6) Lale Devrinde Matbaanın Kullanılmaya başlanması aşağıdaki oluşumlardan hangisine etki etmiştir?

- A)Yalova'da kağıt fabrikasının açılması
- B) Çiçek Aşısının uygulanması.
- C)Avrupa'ya elçi gönderilmesi.
- D)Posta teşkilatının kurulması.

7) 3. Selim döneminde yerli malının kullanımının teşvik edilmesi aşağıdaki alanlardan hangisine önem verildiğini gösterir?

- A)Askeri
- B) Ekonomik
- C) Siyasi
- D) Kültürel

8) Avrupada yaşanan gelişmelerin olumsuz etkilerini azaltmak ve Osmanlıyı eski günlerine ulaştırabilmek için hangi adımlar atılmıştır ?

- A) Sık sık padişah değişikliğine gidilmiş
- B) TBMM açılmış
- C) Islahatlar yapılmış
- D) Ülkelere kapitilasyonlar verilmiş

9) II.Mahmut Yeniçeri ocağını kaldırıp yerine aşağıdaki orduların hangisini kurmuştur ?

- A) Yaya ve Müsellem ordusu
- B) Tolumbacılar Ocağı
- C) Silahatlar
- D) Asakiri Mansure-i Muhammediye

10) Aşağıdakilerden hangisi Lale devri padişahıdır ?

- A) II.Mahmut
- B) Yıldırım Beyazıt
- C) Fatih Sultan Mehmet ,
- D) III. Ahmet

11) Devleti toparlamak için birçok alanda ıslahatlar yapılmıştır, aşağıda verilen ıslahatlardan hangisi ilgili olduğu alan ile **yanlış** eşleştirilmiştir ?

A) İlk Matbanın Kurulması ----- Kültürel

B) Yeni bir ordunun kurulması ----- ---Siyasi

C) İlk çiçek aşısının yapılması ----- Sağlık

D) Fabrikaların kurulması ----- Ekonomik

12) Lale devri ile

başlayıp il e son bumuştur.

Boş bırakılan yerlere sırasıyla gelecek kelimeler aşağıdaki hangi şıkta verilmiştir?

A) Pasarofça ant-Patrona Halil isyanı
B) Asakiri Mansure-i Muhammediye-ilk Matbanın kurulması

C) Vankulu Lügatı-III.Ahmetin tahta çıkması

D) Takvimi Vakayi-ilk aşının yapılması

13)Osmanlı devleti Avrupada yaşanan kültür,sanat ve Bilimsel alanlardaki gelişmeleri daha yakından takip edebilmek için hangi adımı atmıştır ?

A) İlk resmi gazeteyi çıkarmıştır

B) İlk Matbayı kurdu

C) Tulumbacı ocağını kurdu

D) İlk geçici elçilikler açılmıştır

14)İbrahim Müteferrika ve Sait Efendi tarafından kurulan matbada basılan ilk eser aşağıdakilerden hangisidir ?

A) Vankulu Lügatı

B) Divan-ı Hikmet

C) Atabetül Hakayık

D) Sekbanı Cedid

15) 1727 yılında İbrahim Müteferrika ve Sait Efendi tarafınan matbaa kurulmuştur. Hattatların işsiz kalmaması için dini kitapların basılması yasaklanmıştır.

Buna göre Lale Devrinde yaşanan bu gelişmeyle hangi alan korunmaya çalışılmıştır?

A)Ekonomi

B) Kültür

C)Askeri

D) Diploması

16) Lale Devrinde ilk kez çiçek aşısının uygulanması alanında yapılan bir uygulamadır.

17) Osmanlı ve Selçuklu döneminde önem kazanan, el yazması kitaplarda süsleme olarak kullanılan sanat dalına denir.

18) Yeniçeriler tarafınan kurulan itfaiye teşkilatının Osmanlıdaki adı Ocağı olarak adlandırılmıştır.

19) Osmanlı Devletinde mehter, bağımsızlığın sembolü olmasının yanında kale kuşatmalarında ve meydan savaşlarında heyecanı da arttırmıştı. **Verilen bilgilere aşağıdakilerden hangisine ulaşılabilir?**

A)Avrupa müziğinden etkilenildiğine

B)Son dönemlerde öneminin kaybolduğuna

C)Askerin moralini yükseltmeye çalıştığı

D)Padşaha güç ve enerji verdiği

20) Haftalık olarak basılan bu gazetenin amacı, halkı eğitmek, haber ve kanunların duyurulmasını sağlamaktır. Gazetede iç haberler, dış haberler, bilimler, ticaret ve fiyatlar gibi bölümler bulunmaktadır.1831 yılında Türkçe resmi gazete olarak yayımlanan bu gazete aşağıdakilerden hangisidir?

A)Takvim-i Vekayi

B)Ceridey-i Resmi

D)Tercüman-ı Ahval

D)İradeyi Milliye

KURBAN İBADETİ VE ÖNEMİ

Kurban; sözlükte yaklaşmak, Allah'a (c.c.) yakınlaşmaya vesile olan şey anlamına gelir. Dinî terim olarak ise kurban, Allah'a (c.c.) yakınlaşmak ve O'nun rızasını kazanmak amacıyla belirli bir zamanda uygun nitelikte bir hayvanı ibadet amacıyla kesmektir. Kesilen bu hayvana da kurban adı verilir. Kurban kesmenin zamanı, bayram namazından sonra başlar ve bayramın üçüncü gününe kadar devam eder.

Kurban kesmesi gerekenler

- 1- Akıllı olan
- 2- Ergenlik çağına gelmiş olan
- 3- Zengin olan
- 4- Müslüman olan kişilerin kesmesi gerekmektedir.

Kur'an-ı Kerim'de, "O halde Rabbin için namaz kıl ve kurban kes." buyrulur.

Hiz. Peygamber efendimiz (sav.) "Kimin hali vakti yerinde olur da kurban kesmezse mescidimize yaklaşmasın." buyurarak, imkânı olan Müslümanları kurban kesmesi konusunda uyarmıştır.

Kesilecek kurbanda aranan şartlar

- 1- Kurban edilecek hayvanın cinsine göre belli bir yaşa gelmesi ve herhangi bir özrünün bulunmaması gerekir.
- 2- Kurban kesilirken kurbanın ayakları ile yüzü kibleye gelecek şekilde sol tarafına yatırılmalı ve "Bismillahi Allahu

ekber" denilerek kurban edilmelidir.

- 3- Kurbanı kesecek kişi bu işin ehli olmalıdır. Bu nedenle kurban kesmeyi bilmeyen bir Müslüman, kesim işlemi için bir vekil tayin edebilir.
- 4- Kurban kesilirken hayvana iyi davranılmalı ve ona eziyet verici davranışlardan kaçınılmalıdır.
- 5- Kesim yerinde çevre temizliğine ve sağlık kurallarına uyulmalıdır.
- 6- Allah (c.c.) rızası için ibadet ederken başka insanlara rahatsızlık verilmemelidir.

Kurbanlık Hayvanlar	Kaç Adına	Kurbanlığın Nitelikleri	Bu hayvanların sağlıklı olması gerekir
Koyun-Keçi	1 Kişi	En az 1 yaşında	
Siğir-Manda	1-7 Kişi	En az 2 yaşında	
Deve	1-7 Kişi	En az 5 yaşında	

Kurban Bayramı dışında kesilen kurban çeşitleri

1-Adak kurbanı : Adak kurbanı bir işin veya isteğin gerçekleşmesi durumunda kesmek için Allah'a (c.c.) söz verilen ve gerçekleştiği takdirde kesilmesi gereken kurbanlardır. Bu kurbanı kesmenin hükmü vaciptir. Örneğin, "Hakkıyla şu işi başarırısam bir kurban keseceğim." diye söz veren kimse işi başardığında adadığı kurbanı kesmesi gerekir. Kurbanı adayan kişi ve bakmakla yükümlü olduğu kişiler kurban etinden yiyemez.

Kurbanın tamamını ihtiyacı olan kimselere dağıtır.

2- Akika kurbanı :Akika kurbanı, ailelerin çocukları dünyaya geldiğinde Allah'a (c.c.) şükretmek amacıyla kestiği kurbandır. Aileler, çocukları doğduğunda imkânları dâhilinde bu kurbanı keserler. Akika kurbanı kesen kimse, bu kurbandan yiyebilir ve ailesine yedirebilir. Çevresindeki yakınlarına ikram eder ve ihtiyacı olanlarla paylaşır.

Alevi- Bektaşlerde yer alan kurban çeşitleri

- 1-Ziyaret yerlerine giderken kestikleri ziyaret kurbanı.
- 2- Muharrem ayında kesilen şükür kurbanı.
- 3- Hakk'a yürüyen (ölen) kişinin affı için kestikleri dâr kurbanı.
- 4-Yol kardeşliği (musahiplik) sözü verilirken musahiplik kurbanı.

Not: Alevilik-Bektaşilikte kurban kesme işlemine kurban tıglama denir. Kurban tıglanırken kurban tıglama duası okunur Kurban tıglamadan sonra lokma dağıtılır.

7.SINIF KURBAN İBADETİ İLE İLGİLİ SORULAR

Boşlukları uygun şekilde doldurunuz.

1-Alevilikte kurban kesmeye denir.

2- Kesilecek hayvan küçük baş hayvansa en az yaşını doldurmuş olması gerekir.

3-Küçük baş hayvan kesileceksearan maz.

4-Sığır, manda gibi hayvanlar kurban edilecekse en az yaşını doldurmuş olması gerekir.

5-Kesilecek hayvan deve ise en fazlakişi ortak olabilir.

Doğru olan cümlelerin başına "d" yanlış olan cümlelerin başına "y" yazınız.

1-() Dardan indirme kurbanı alevilerin kesmiş olduğu kurban çeşididir.

2-() Aleviler muharrem ayında musahiplik kurbanı keserler.

3-() Sığır manda gibi hayvanlar kurban edilecekse 1-7 kişi arasında kişi ortak olabilir.

4-() Kurban olarak deve kesilecekse, kesilecek devenin en az 2 yaşına basmış olması gerekir.

5-() Kurban kelime olarak yaklaşmak yakınlaşmak anlamına gelir.

Çoktan Seçmeli Soruları Cevaplayınız

1) Kurban kelimesinin sözcük anlamı aşağıdaki şıklardan hangisinde doğru olarak verilmiştir?

- A)Doğru sözlü olmak
- B)Ziyaret etmek
- C)Yaklaşmak ,yakınlaşmak
- D)Dönmek,döndürülmek

2) Ahmet Öğretmen ,öğrencilerine şöyle bir tanım yapmıştır.

Allah'a yakınlaşmak ve O'nun rızasını kazanmak amacıyla belirli bir zamanda uygun nitelikte bir hayvanı ibadet amacıyla kesmektir. Kesilen hayvana daadı verilir.

Ahmet Öğretmenin tanımını yaptığı bu kavram hangi öğrenci tarafından doğru cevaplandırılmıştır?

- A) ENES; İhram kavramını tanımlamıştır.
- B) FATMA;Tavaf kavramını tanımlamıştır.
- C) ECE;Adak kavramını tanımlamıştır.
- D) VEYSEL;Kurban kavramını tanımlamıştır.

3) Kurban ibadetini yere getirmekle yükümlü olanlar hangi şıkta doğru olarak verilmiştir?

- A) Akıllı, ergenlik çağına gelmiş ve dinen zengin sayılan her Müslümanın yükümlü olduğu bir ibadettir.
- B)Akıllı,zengin ve yaşlıların yükümlü olduğu bir ibadettir.
- C)Akıllı, ergenlik çağına gelmiş , dinen zengin sayılan kadınların yükümlü olduğu bir ibadettir.
- D)Akıllı, ergenlik çağına gelmiş , dinen yoksul olanların yükümlü olduğu bir ibadettir.

4) Kurban ibadetiyle:.....
.....

Diye başlayan cümlemizi aşağıdakilerden hangisi ile tamamlarsak uygun olmaz?

- A)Yüce Allah'a teslim olmayı ve O'nun emirlerine boyun eğmeyi öğreniriz.
- B) Allah'a yakınlaşmaya ve O'nun rızasını kazanmaya çalışırız.
- C) Hasta ve yaşlıları koruma altına almış oluruz.
- D) Kurban etini ihtiyaç sahipleriyle paylaşır. İslam kardeşliğini; toplumsal yardımlaşma ve dayanışma ruhunu diri tutarız.

5) "Bayram namazından sonra başlar ve bayramın üçüncü gününe kadar devam eder."

Yukarıda kurban ibadeti ile ilgili verilen bilgi ile aşağıdaki sorulardan hangisinin cevabına ulaşılabilir?

- A)Kurbanı kimler kesebilir?
- B) Kurban kesimi ne zaman yapılmalıdır?
- C)Kurban eti kimlere dağıtılmalıdır?
- D)Kurban ibadetinin hükmü nedir?

6) Kurban ibadeti gerçekleştirilirken dikkat edilmesi gereken bazı hususlar vardır.

Aşağıdakilerden hangisi bu hususlardan biri değildir?

- A) Kurban kesilirken kurbanın ayakları ile yüzü kibleye gelecek şekilde sol tarafına yatırılmalı ve "Bismillahi Allahu ekber" denilerek kurban edilmelidir.
- B) Kurban edilecek hayvanın cinsine göre belli bir yaşa gelmesi ve herhangi bir özrünün bulunmaması gerekir.
- C) Kurban kesilirken hayvana iyi davranılmalı ve ona eziyet verici davranışlardan kaçınılmalıdır.
- D) Kesim yerinde çevre temizliğine ve sağlık kurallarına uymaya gerek yoktur.

7) I. Küçükbaş hayvanlar (Koyun, Keçi) En az 1 yaşını doldurmuş olmalıdır.

II. Büyükbaş hayvanlar (Sığır, Manda) En az 2 yaşını doldurmuş olmalıdır.

III. Deve en az 5 yaşını doldurmuş olmalıdır.

Yukarıda kurban edilebilecek hayvanlar hakkında bazı bilgiler verilmiştir.Bu bilgilerden hangisi veya hangileri doğrudur?

- A)Yalnız I.
- B)I.,II.
- C)I.,II.,III.
- D)II.,III.

8) En az 5 yaşını doldurmuş olmalıdır.

1-7 kişi arasında ortaklaşa kurban edilir.

Yukarıda kurban edilebilecek hangi hayvandan bahsedilmektedir?

- A)Koyun
- B)Deve
- C)Sığır
- D)Manda

9) En az 2 yaşını doldurmuş olmalıdır.

1-7 kişi arasında ortaklaşa kurban edilir.

Yukarıda kurban edilebilecek hangi hayvandan bahsedilmektedir?

- A)Koyun
- B)Manda
- C)Deve
- D)Keçi

10) Bir işin veya isteğin gerçekleşmesi durumunda kesmek için Allah'a söz verilen ve gerçekleştiği takdirde kesilmesi vacip olan kurban hangisidir?

- A) Adak B) Akika
C) Şükür D) Akit

11) Adak kurbanında aşağıdakilerden hangisine dikkat edilmesi gerekir?

- A) Dilek gerçekleşince kesilen kurban eti pişirilip ailece yenilmelidir.
B) Dilek gerçekleşince kesilen kurban etini üç parçaya bölüp bir kısmını kendimize almalıyız.
C) Kurbanı adayan kişi ve bakmakla yükümlü olduğu kişiler adak kurbanının etinden yiyemez. Kurbanın tamamını ihtiyacı olan kimselere dağıtmalıdır.
D) Kurbanı adayan kişi tüm tanıdıkları evine davet edip ,kurban etinden ikram etmelidir.

12) Aşağıda verilen ayetlerden hangisi kurban ibadeti ile ilgili bir ayet değildir?

- A) «...O halde Rabbin için namaz kıl ve kurban kes... » (Kevser suresi, 2. ayet.)
B) "...Yoluna gücü yetenlerin Kâbe'yi hacetmesi, Allah'ın insanlar üzerindeki bir hakkıdır..." (Â-i İmrân suresi, 97. ayet.)
C) "Onların ne etleri ne de kanları Allah'a ulaşır; fakat O'na sadece sizin takvânız ulaşır..." (Hac suresi, 37. ayet.)
D) "...Onlardan hem kendiniz yiye hem de ihtiyacını gizleyen-gizlemeyen fakirlere yedirin..." (Hac suresi, 36. ayet.)

13) Peygamberimizin (s.a.v.) kurban ibadetinin önemini bizlere anlatmak için söylediği hadis aşağıdakilerden hangisidir?

- A) "Müslüman insanların elinden ve dilinden emin olduğu kimsedir."
B) "Komşusu aç iken tok yatan bizden değildir."
C) "Bizi aldatan bizden değildir.."
D) "Kimin hali vakti yerinde olur da kurban kesmezse mescidimize yaklaşmasın."

14) I.Horoz II.Keçi III.Tavuk IV.Sığır V.Deve VI.Hindi VII.Manda

Yukarıda verilen hayvanlardan hangileri kurban olarak kesilemez?

- A) I., II., V. B) II., III., VI.
C) I., III., VI. D) V., VI., VII.

15) Çocuk sahibi olan anne ve babanın Allah'a şükranlarını ifade etmek amacıyla kestikleri kurban çeşidi aşağıdakilerden hangisidir?

- A) Adak kurbanı B) Şükür kurbanı
C) Vacip kurbanı D) Akika kurbanı

Should / Shouldn't

Kullanım Alanları / Usage

- > İngilizcede tavsiyede bulunmak veya öğüt vermek için kullanılan bir yapıdır.
- > Yapılması iyi olan durumları belirtmek için should , yapılması iyi olmayan durumları belirtmek için de **should** yapısının olumsuz hali olan **shouldn't** kullanılır.
- > Should fiile “(yap)malı” anlamını katarken, shouldn't ise “(yap)mamalı” anlamını katar.
- > Olumlu, olumsuz ve soru cümlelerinin hepsinde should yapısıyla birlikte kullanılan fiile hiçbir ek getirilmez, yalın haliyle kullanılır. Tüm öznelerle (kişilerle) kullanımı aynıdır.

Olumlu Cümleler / Affirmative Sentences

Özne / Subject	Yard. Fiil / A. Veri
I You He She It We You They	SHOULD

- » He has got a toothache. He **should** go to dentist.
(Onun dişi ağrıyor. O dişçiye gitmeli.)
- » The weather is rainy. You **should** take your umbrella.
(Hava yağmurlu. Sen şemsiyeni almalısın.)

Olumsuz Cümleler / Negative Sentences

Özne / Subject	Yard. Fiil / A. Veri
I You He She	SHOULD NOT (SHOULDN'T)

It
We
You
They

- > Yapılmaması gereken bir durumla ilgili tavsiyede bulunurken “**should**”dan sonra olumsuzluk eki olan “**NOT**” getirilir, cümle yapısında başka bir değişiklik olmaz.

Example(s) / Örnek(ler)

- » Her room is cold. She **should not** open windows.
(Onun odası soğuk. O pencereleri açmamalı.)» Jack is fat. He **shouldn't** eat manhamburgers.
(Jack şişmandır. O çok hamburger yememeli.)

Soru Cümleleri / Interrogative Sentences

Yard. Fiil / A. Verbs	Özne / Subject
SHOULD	I You He She It We You They

- > Soru sorarken **SHOULD** başa alınır. Should ile sorulan sorulara olumlu ve olumsuz kısa cevaplar şu şekilde verilir:

Example(s) / Örnek(ler)

- » **Should** she go to doctor? (O doktora gitmeli mi?)
Yes, she **should**. (Evet, o gitmeli)
No, she **shouldn't**. (Hayır , o gitmemeli.)
- » **Should** they do exercise? (Onlar egzersiz yapmalı mı ?)
Yes, they **should**. (Evet, onlar yapmalı.No,
they **shouldn't**. (Hayır, onlar yapmamalı.)

1) Which of the following animals is not a reptile?

- A) snake
- B) lizard
- C) bear
- D) crocodile

2) It is big and grey. It has got four legs and a trunk. It eats grass and fruit. It does not eat meat.

Which of the following animals is described above?

- A) penguin
- B) elephant
- C) octopus
- D) giraffe

3)

ELEPHANT

Habitat: South Africa

Weight: 7000 kg

Kind: mammal

Category: herbivore

Which of the following questions DOES NOT have an answer in the table above?

- A) How heavy is it?
- B) Where does it live?
- C) How tall is it?
- D) What does it eat?

4) Mrs. Ella gives the following advices to her students:

I. You should protect wild animals.

II. You shouldn't waste energy.

III. You should keep the environment dirty.

Which of the advices is wrong?

- A) I, II, III
- B) only II
- C) II, III
- D) only III

5) ---- is a reptile. It's poisonous. It can't walk. It's a carnivore.

Choose the best option that completes the blank.

- A) snake
- B) crocodile
- C) fish
- D) rhino

6) Which of the following option is incorrect?

- A) We shouldn't harm the environment.
- B) We shouldn't pollute the habitats of the animals.
- C) We should stop global warming.
- D) We should hunt wild animals.

7) A zebra has black and white _____.

Choose the best option that completes the blank.

- A) stripes
- B) tusks
- C) sharp
- D) wings

8) I. Elephants are _____ animals.

II. Camels lives in _____.

III. The _____ of sharks is oceans.

Which of the following option completes the blanks correctly?

I. II. III.

- A) enormous - habitat - deserts
- B) desert - habitat - enormous
- C) enormous - deserts - habitat
- D) habitat - deserts - enormous

9) **Cansu:** We should waste energy.

Enes: We should hunt animals.

Zilan: We don't need to plant any trees.

Mert: We should protect our national parks.

Whose sentence is correct about environment?

- A) Cansu
- B) Enes
- C) Zilan
- D) Mert

10) It can jump and carry its baby in its pouch. It is a herbivore.

Which of the following animals is described above?

- A) Elephant
- B) Cheetah
- C) Kangaroo
- D) Horse

11) " ---- you watch a documentary about wild animals yesterday?"
Choose the best option that completes the blank.

- A) Does
- B) Are
- C) Did
- D) Was

12) **Which one is different?**

- A) tiger
- B) lion
- C) Elephant
- D) wolf

13) "It is a carnivore and lives in cold places. It has white fur and it hunts fish with its strong claws "Which of the following animals is described above?"

- A) A cat
- B) A polar bear
- C) A eagle
- D) A snake

14) **Elephants have They use it to drink water and get something.**

- A) trunk
- B) whiskers
- C) nose
- D) paws

15) **Dodos become ---- many years ago.**

- A) endangered
- B) extinct
- C) afraid
- D) wildlife

16) What should we do to protect wildlife?

- A) We should damage animals' habitats.
- B) We should hunt animals for their skin.
- C) We should buy pets from the pet shops.
- D) We should donate to wildlife organisations.

17) Who am I? Guess it.

I am carnivore animal. I have green colour and sharp teeth. I am so dangerous. I live both in water and on land.

- A) koala
- B) bear
- C) crocodile
- D) dolphin

18) Choose the best option to fill in the blanks.

Susan: ----?

Edison: Asia.



shutterstock.com • 469486433

- A) Why do people hunt tigers?
- B) Where do tigers live?
- C) How much do tigers weigh?
- D) What do tigers look like?

19) Choose the best option to fill in the blanks.

Kangaroos live in Australia. They can jump high. Kangaroos carry their babies in their

----.

- A) Stripes
- B) pouches
- C) sharp teeth
- D) fur

20) Odd one out ----.

- A) Snake
- B) Owl
- C) Eagle
- D) Stork

CEVAP ANAHTARI

<u>MATEMATİK</u>	<u>TÜRKÇE</u>	<u>FEN</u>	<u>SOSYAL</u>	<u>DİN KÜLT.</u>	<u>İNGİLİZCE</u>
1) C	1) D	1) B	1) D	BOŞLUK	1) C
2) A	2) B	2) C	2) D	DOLDURMA:	2) B
3) C	3) D	3) C	3) C	1- KURBAN	3) C
4) D	4) C	4) B	4) C	TIĞLAMA	4) D
5) C	5-	5) C	5) B	2- 1 YAŞINI	5) A
6) B	(görüşelim,yaz	6) A	6) A	3-ORTAK	6) A
7) C	dı,gel,oyunuyor	7) B	7) B	4- 2 YAŞINI	7) A
8) B	um,solmazlar)	8) D	8) C	5- 7 Kişi	8) C
9) B	6) C	9) A	9) D	DOĞRU	9) C
10) D	7) C	10) D	10) D	YANLIŞLAR:	10) C
11) C	8) C	11) D	11) B	1) D	11) C
12) C	9) D	12) D	12) A	2) Y	12) C
13) D	10) A	13) B	13) D	3) D	13) B
14) A	11) B	14) C	14) A	4) Y	14) A
15) A	12) B	15) A	15) B	5) D	15) B
16) A	13) D	16) A	16) SAĞLIK	ÇOKTAN	16) D
17) C	14) A	17) C	17) MİNYAT	SEÇMELİ	17) C
18) A	15) D	18) C	ÜR	1) C	18) B
19) C	16) C	19) D	18) TULUM	2) D	19) B
20) C	17) C	20) B	BACILAR	3) A	20) A
	18) A		19) C	4) C	
	19) A		20) A	5) B	
	20) D			6) D	
				7) C	
				8) B	
				9) B	
				10) A	
				11) C	
				12) B	
				13) D	
				14) C	
				15) D	

EMEĞİ GEÇEN ÖĞRETMENLERİMİZ

AR-GE EKİBİ

MÜDÜR YARDIMCISI

FATİH SELİM TAN

MEHMET ZAKİR BEKLİM

BİLİŞİM TEKNOLOJİLERİ ÖĞRETMENİ

MURAT AYDOĞAN

MATEMATİK ÖĞRETMENİ

BIHTER EROĞLU
ZENEP BAŞAK NAR
FATMA KARTAL
SERDAR HAZAR
MUHAMMET EPÖZDEMİR
ŞEREF POLAT

FEN BİLİMLERİ ÖĞRETMENİ

SEMRA ÇELİK
ŞEYMA KOYUNCU

DİN KÜLT. VE AHLAK BİLG. ÖĞRETMENİ

TUBA ERKURT
M. VEYSEL YAMAN
ABDULHADİ ÇUBUKÇU
ÖZGE ŞAHİN

TÜRKÇE ÖĞRETMENİ

SOSYAL BİLGİLER ÖĞRETMENİ

MIZGIN KÖRPE
FATMA UYSAL
SİMGE TORAMAN
DÜNDAR AKTAŞ
ÖMER FARUK YAŞAR

İNGİLİZCE ÖĞRETMENİ