

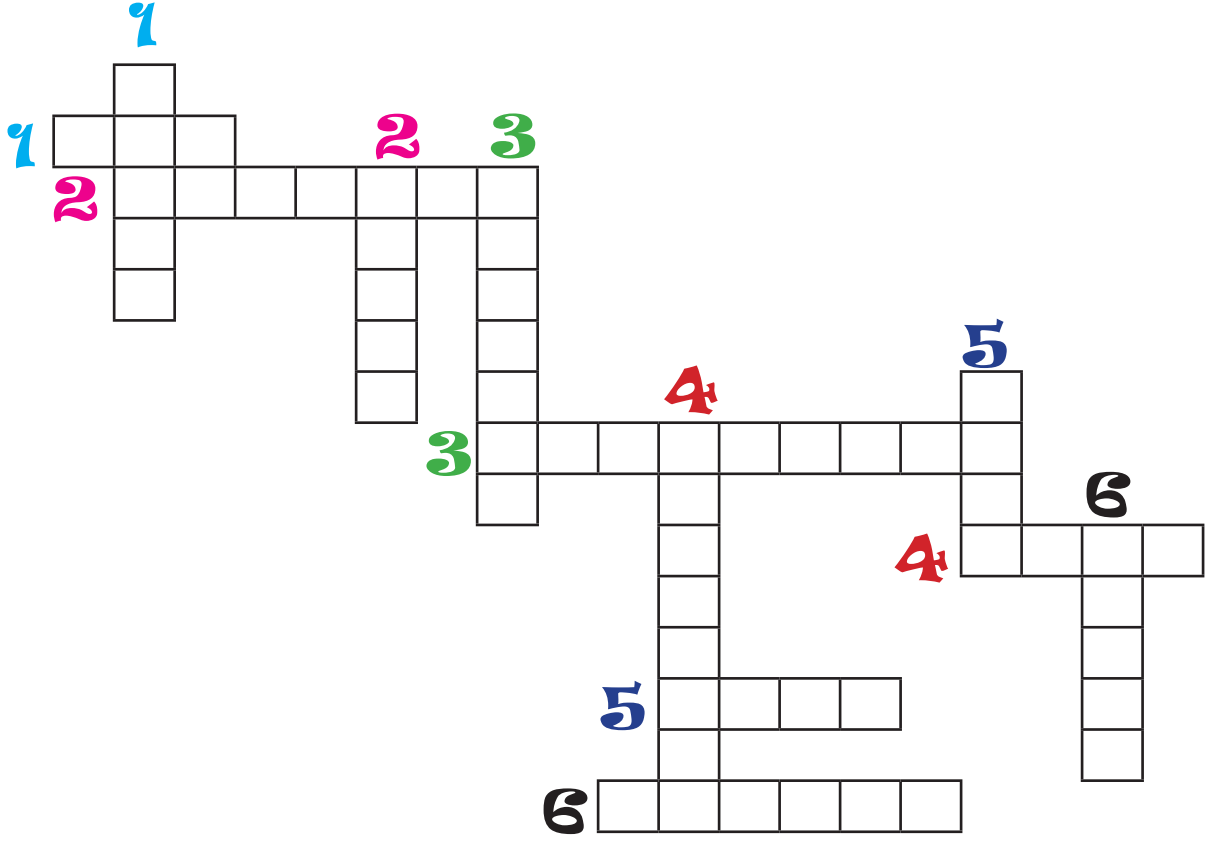
# 7.SINIF 5. ÜNİTE ÇALIŞMA FASİKÜLÜ

SOSYAL BİLGİLER

Bu kitapçık KIRŞEHİR Ölçme Değerlendirme Merkezi  
tarafından hazırlanmıştır.



## ETKİNLİK 1



Yukarıdaki bulmacayı “yukarıdan aşağıya” ve “soldan sağa” doğru numaralara göre cevaplayınız.

### YUKARIDAN AŞAĞIYA

- 1- Geçmişten günümüze hayır kurumlarına verilen genel ad.
- 2- Lösemili çocuklar için kurulan sivil toplum örgütünün adı.
- 3- Ahlaki değerleri gözeterek toplum sağlığı için çalışan zararlı alışkanlıklarla mücadele eden sivil toplum örgütü.
- 4- Ham maddelerin veya yarı işlenmiş maddelerin kullanıma hazır hâle getirilmesini ifade eden sanayinin diğer adı.
- 5- Osmanlı Devleti’nde devlete ait topraklara verilen isim.
- 6- Osmanlı Devleti’nde yıllık geliri 3 bin ile 20 bin akçe arasındaki dirliklere verilen isim.

### SOLDAN SAĞA

- 1- Güneydoğu Anadolu Bölgesi’nde tarımsal verimi arttırmak ve bu bölge ile diğer bölgeler arasındaki gelişmişlik farkını gidermek amacıyla yapılan proje.
- 2- Doğal afetlerde ve olağan durumlarda ihtiyaç sahiplerine yardım sağlamak için kurulan kurum.
- 3- Geçmiş medeniyetlere ait eserleri kazı yaparak gün yüzüne çıkaran meslek.
- 4- Osmanlı Devleti’ndeki tımar sistemine benzeyen Selçuklulardaki toprak sisteminin adı.
- 5- Ülkenin ağaçlandırılmasını sağlayan ve erozyonla mücadele eden sivil toplum örgütü.
- 6- Osmanlı Devleti’nde has, zeamet ve tımar olarak üçe ayrılan belli hizmetler karşılığı devlet adamlarına verilen toprakların adı.

## ETKİNLİK 2

Aşağıdaki soruların cevaplarını altlarındaki kutucuklara yazarak şifreyi çözelim.

Toprağı 3 yıl üst üste ekmeyen köylünün toprağının elinden alınmasıyla ilgili verginin adı

							1	
--	--	--	--	--	--	--	---	--

Anadolu Selçuklu ve Osmanlılarda ders verilen orta ve yükseköğretim kurumlarına verilen ad

						4
--	--	--	--	--	--	---

Selçuklularda hizmet karşılığında komutanlara veya devlet adamlarına verilen üzerinde tarım yapılan topraklara verilen ad

3			
---	--	--	--

Kararlarını tarafsız bir şekilde verme zorunluluğu olan ve cezai kararlar verebilen meslek adı

2				
---	--	--	--	--

Geçimi tarım ve hayvancılık olan öküz kesmenin cezası ölüm olan İlk Çağ uygarlığının adı

						6
--	--	--	--	--	--	---

Bir kişinin geçimini sağlamak için yaptığı sürekli işe verilen ad

--	--	--	--	--	--

Osmanlı'da devlet memuru gibi nitelikli insan yetiştirmek için Topkapı Sarayı'nda açılan saray okulunun adı

						8
--	--	--	--	--	--	---

Orta Çağ'da siyasi, ekonomik, sosyal gücü elinde tutan toprak sahiplerinin kurduğu yönetim biçiminin adı

--	--	--	--	--	--	--	--	--

Geliri, cami, hastane gibi hayır kurumlarına ayrılan toprakların adı

5				
---	--	--	--	--

Genel ağ üzerinden yapılan alışverişe verilen ad

				7			
--	--	--	--	---	--	--	--

ŞİFRE:

1	2	3	4	5	6	7	8

### ETKİNLİK 3

Aşağıda verilenleri boşluklara uygun olacak şekilde yerleştiriniz.

serf	Orhan Bey	e-ticaret	lonca teşkilatı	Hititler	Ziraat Bankası
Ahilik	arama kurtarma	Vakıflar Genel Müdürlüğü	Sanayi İnkılabı	devşirme	II. Mahmut
vakıf	kral	mirî	tarım	ikta	feodalite

- Derebeylik sisteminde toprağı işleyen kesime ..... denir.
- Anadolu'da tımar sistemini başarıyla uygulayan ilk devlet.....'dir.
- ..... ,çiftçiye kredi sağlamak amacıyla Osmanlı Devleti zamanında kurulmuştur.
- Genel ağ üzerinden yapılan alışverişe ..... denir.
- Osmanlı Devleti'nde esnaf ve zanaatkarların örgütlenerek kurduğu meslek organizasyonuna ..... denir.
- İlk medrese İznik'te ..... tarafından kurulmuştur.
- 13. yüzyılda kurulmuş, belli bir süre içerisinde belli kurallarla işlemiş esnaf ve zanaatkârlar birliğine ..... denir.
- Osmanlı Devleti'nde yardımlaşma faaliyetlerinde bulunan gönüllü kuruluşlara ..... adı verilirdi.
- Enderunda eğitim gören öğrenciler..... sistemine göre seçilirdi.
- İngiltere'de başlayan ..... daha sonra tüm Avrupa'ya yayıldı.
- Ülkemizde vakıf hizmetleri ..... tarafından sağlanır.
- AKUT, ..... çalışmaları yapan bir sivil toplum kuruluşudur.
- Osmanlı Devleti'nde enderun adı verilen eğitim kurumlarının kaldırılarak yerine Avrupa tarzında okulların açılması ..... döneminde olmuştur.
- Orta Çağ'da Avrupa'da etkili olan yönetim biçimi .....dir.
- Hititlerde toprak çok önemliydi. Toprağın asıl sahibi ..... idi.
- Friglerin öküz öldürene, saban kırana ölüm cezası vermesi ..... önem verdiklerini gösterir.
- Osmanlı Devleti'nde toprağın sahibi devletti. Devlete ait bu topraklara ..... arazi denirdi.
- Selçuklulardaki toprak sistemi Osmanlı Devleti'ndeki tımar sistemine benziyordu. Selçuklulardaki bu toprak sistemi- ne ..... denirdi.

#### ETKİNLİK 4

Aşağıda verilen sivil toplum örgütlerinin hangi alanlarla ilgili olduklarını karşılıklarına yazınız.

ÇEKÜL

1



YEŞİLAY

2



TEMA

3




LÖSEV

4



AÇEV

5



### ETKİNLİK 5

Aşağıda verilen özelliklerin hangi mesleklere ait olduğunu karşılarına yazınız.

Sosyal Medya Uzmanlığı

Tıp Mühendisliği

Beslenme Uzmanlığı

Yazılım Mühendisliği

- 1 → Firmaların sözlü ve yazılı iletişimi dikkatli bir şekilde takip etmesini sağlayarak sosyal ağların nasıl kullanılacağı konusunda firmalara yardımcı olur. →
- 2 → Sağlık alanında karşılaşılan sorunların çözümü için gerekli aygıt ve biyomalzemelerin geliştirilmesine yardımcı olur. →
- 3 → Yeterli ve dengeli beslenme için bireyi ve toplumu bilgilendirmeyi amaçlar. →
- 4 → Kullanıcıların ihtiyaç duyduğu yazılımların özelliklerinin belirlenmesini ve onlara uygun yazılımların geliştirilmesini sağlar. →

### ETKİNLİK 6



Yanda teknolojinin bazı sonuçları verilmiştir. Verilen sonuçlardan olumlu olanlar kahverengi sepete, olumsuz olanlar pembe sepete atılacaktır.

Uygun numaraları doğru sepetlere yazınız.



Kahverengi sepet



Pembe sepet

## ETKİNLİK 7

Aşağıda Sanayi İnkılabı'nın olumlu ve olumsuz yönleri verilmiştir.

Verilen sonuç olumlu ise “ 😊 ”, olumsuz ise “ 😞 ” sembollerine “ ✓ ” işaretini koyunuz.

Sanayi İnkılabı'nın Sonuçları		😊	😞
1-	Sömürgecilik anlayışı yarış hâlini aldı.		
2-	Bol ve ucuz üretime geçildi.		
3-	Tarımsal alanda teknolojik gelişmeler kullanıldı.		
4-	Hayat koşulları iyileşince ölüm oranları azaldı.		
5-	Ülkeler arası ekonomik rekabet I. Dünya Savaşı'na neden oldu.		
6-	Buharla çalışan lokomotif, gemi vb. icatlar ortaya çıktı.		
7-	Küçük el atölyeleri önemini kaybederek yerini büyük fabrikalara bıraktı.		

## ETKİNLİK 8

Aşağıdaki tabloda verilen örneklerin ilgili oldukları yerlere “ ✓ ” işareti koyunuz.

		Sanat	Haberleşme	Hayvancılık	Tarım
1-	Sanayi-i Nefise Mektebinin açılması.				
2-	Mülkiye Baytar Mektebi Âlisinin açılması.				
3-	Ziraat Ameliyat Mektebinin açılması.				
4-	Posta ve Telgraf Mektebi Âlisinin açılması.				

## ETKİNLİK 9

Aşağıda verilen cümlelerin doğru olanın karşısındaki kutucuğa “D”, yanlış olanın karşısındaki kutucuğa “Y” harflerini yazınız.

- 1- Sivil toplum örgütleri yardımlaşma ve dayanışma duygularıyla kurulmuştur.
- 2- Devletin kurduğu resmî kuruluşlara sivil toplum örgütü denir.
- 3- Vakıflar devredilebilir, satılabilir ve miras bırakılabilir.
- 4- Günümüzde vakıflar, Vakıflar Genel Müdürlüğüne bağlıdır.
- 5- Kişinin geçimini sağlamak için yaptığı sürekli işe meslek denir.
- 6- Sivil toplum kuruluşlarında çalışanlar belli bir ücret alırlar.
- 7- Vakıfların faaliyetleri toplumda birlik ve beraberliği sağlar.
- 8- Yazılım mühendisliği geleceğin meslekleri arasında yer alır.
- 9- E- ticaret sayesinde tüketici ürünleri karşılaştırma imkânı bulur.
- 10- Osmanlı Devleti’nde mirî arazilerde toprağın mülkiyeti kişilere aittir.
- 11- Coğrafi keşiflerle beraber değerli madenlerin önemi artmıştır.
- 12- Osmanlı Devleti’nde ilk medrese Osman Bey döneminde açılmıştır.
- 13- Medreselerde öğrencilerin ihtiyaçları vakıflar tarafından karşılanırdı.
- 14- Meslek seçerken ilgi, istek ve yeteneklerimizi dikkate almamalıyız.
- 15- Tımar sistemi, 1839 yılında ilan edilen Tanzimat Fermanı ile tamamen kaldırıldı.
- 16- II. Mahmut, enderun’u kaldırarak yerine devlet adamı yetiştirmek için Mektep-i Maarifi Adliye okulunu açtı.
- 17- E-ticaret tüketiciyi her yönden olumsuz etkilemektedir.
- 18- Osmanlı Devleti’nde devlete ait topraklara miri toprak denir.
- 19- Tımar toprakları alınıp satılabiliirdi.
- 20- Ahilik Teşkilatı’nda esnaf ve zanaatkârlar yetişir.
- 21- Vakıflara sadece devlet tarafından yardım yapılabilir.
- 22- Ziraat Bankası tarımı destekleyen kuruluşlardandır.
- 23- Enderun mektebinde üst derece memurlar yetiştirilirdi.
- 24- Meslek seçiminde anne baba istekleri daha önemlidir.
- 25- TEMA sigara ve alkol bağımlıları için çalışmalar yapan bir kuruluştur.
- 26- Herkes kendi yetenekleri doğrultusunda meslek seçimi yapabilir.
- 27- İklim değişikliği ve küresel ısınma, ekosistemin bozulması üzerine çalışmalar yapan meslek adı robot teknisyenliğidir.
- 28- Ahilik Teşkilatı’na benzeyen lonca teşkilatında usta-kalfa-çırak ilişkisi yoktu.
- 29- Darülacezeler yalnızca kimsesiz yaşlıların bakımı ile ilgilenir.
- 30- Selçuklulardaki ikta sistemi Osmanlı Devleti’nde tımar sistemi adını almıştır.



## ETKİNLİK 10

Aşağıda verilen soruların cevaplarını altındaki boşluklara yazınız.

- a. Osmanlı Devleti'nde vakıflar devredilemez, miras bırakılamazdı. Vakıflarla ilgili böyle bir karar alınmasının nedeni nedir?

---

---

---

---

---

---

---

- b. Meslek nedir? Mesleğe seçerken nelere dikkat etmeliyiz? Açıklayınız.

---

---

---

---

---

---

---

- c. Osmanlı Devleti'ndeki tımar sisteminde çiftbozan nedir ve neden uygulanmıştır?

---

---

---

---

---

---

---

- d. Osmanlı Devleti'nde eğitimin temelini oluşturan medreselerin siyasi ve toplumsal yaşama olan katkıları nelerdir?

---

---

---

---

---

---

---

## ÇOKTAN SEÇMELİ SORULAR

1. Osmanlı Devleti'nde tımar arazileri belli bir süreliğine verilirdi. Bu topraklar, nedensiz olarak üç yıl üst üste boş bırakılamazdı. Eklilmeyen topraklar kişilerden geri alınırdı.

**Bu uygulamayla Osmanlı Devleti'nde aşağıdaki-lerden hangisi amaçlanmıştır?**

- A) Merkezi otoriteyi güçlendirmek
- B) Toprağın devlete ait olduğunu kanıtlamak
- C) Ülke topraklarını bayındır hâle getirmek
- D) Üretimde sürekliliği sağlamak

2. Üreticilerin tarım ürünleri piyasasındaki çalkantılardan etkilenmemesi için devlet tarafından destekleme alımları yapılır. Böylelikle devlet, ürün piyasasındaki fiyatları düzenleyerek üreticilerin zarar görmesini engellemiş olur.

**Buna göre ülkemizde destekleme alımları hangi kurum aracılığıyla yapılır?**

- A) Ziraat Bankası
- B) Toprak Mahsulleri Ofisi
- C) Devlet Su İşleri
- D) GAP

3. Bankacılık, otomotiv, telekomünikasyon gibi pek çok sektörde kullanılan bilgisayar sistemlerinin yazılım kodlarını hazırlayan ve uygulamasını yapan kişidir.

**Buna göre yukarıda açıklaması verilen meslek hangisidir?**

- A) Elektrik Mühendisliği
- B) Uzay Mühendisliği
- C) Yazılım Mühendisi
- D) Sosyal Medya Uzmanı

4. I. Tekerleğin icadı  
II. Sabanın icadı  
III. Hayvanların evcilleştirilmesi

**Yukarıda verilen durumlardan hangileri insanların topraktan ürün elde etmelerini kolaylaştırmıştır?**

- A) Yalnız I
- B) I ve II
- C) I ve III
- D) I, II ve III

5. **Aşağıdaki uygulamalardan hangisi bir ülkede tarımsal verimi artırmak için kullanılamaz?**

- A) Tohum ıslahı yapılması
- B) Kaliteli gübre kullanılması
- C) Çiftçi sayısının artırılması
- D) Sulama imkânlarının geliştirilmesi

6. \* Çiftçiye, tohum, ilaç, akaryakıt sağlamada yardımcı olur.

\* Tarım ürünlerinin alım satımını yapar.

\* Çiftçiye düşük faizli, uzun vadeli krediler verir.

**Çiftçiye bu destek faaliyetlerin yapılmasının temel amacı nedir?**

- A) Tarımı geliştirmek
- B) Ticareti canlandırmak
- C) İhracatı azaltmak
- D) İthalatı artırmak

7. • Üretim arttı.  
• Uluslararası ticaret hızlandı.  
• Sanayi İnkılabı ile köyden kente göçler arttı.  
• Şehirlerin nüfusu hızla arttı.  
• Çevre kirliliği sorunları ortaya çıkmaya başladı.

**Yukarıda Sanayi İnkılabı'nın;**

I. Siyasi

II. Sosyal

III. Ekonomik

**alanlardan hangileriyle ilgili sonuçlarına yer verilmiştir?**

- A) Yalnız I
- B) I ve II
- C) II ve III
- D) I, II ve III

8. **Devletin ya da gönüllü kişilerin mallarının bir bölümünü tüm canlıların ihtiyaçlarının karşılanması için verildiği mülk ya da parayı ifade eden kavram aşağıdakilerden hangisidir?**

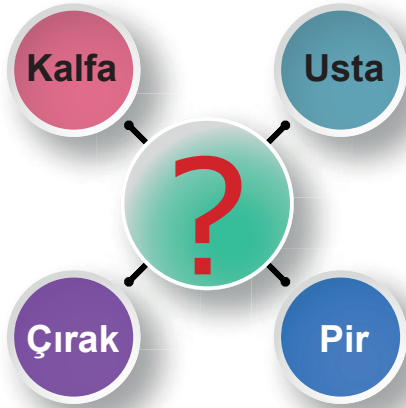
- A) Vakıf
- B) Medrese
- C) İmarethane
- D) Enderun

9. I. İmarethane  
II. Şifahane  
III. Medrese

Yukarıdaki vakıfların faaliyet alanları aşağıdakiler ile eşleştirilirse hangisi dışarıda kalır?

- A) Beslenme B) İbadet  
C) Sağlık D) Eğitim

10.



Bu şemada soru işareti (?) ile gösterilen yere aşağıdakilerden hangisi yazılmalıdır?

- A) Ahilik B) Medrese  
C) Enderun D) Vakıf

11. Nihale Hanım öğrencisi Aslan'ın ailesine meslek seçiminde dikkat edilmesi gerekenler hakkında bilgi vermektedir.

Nihale Hanım aşağıdakilerden hangisini söylerse yanlış bilgi vermiş olur?

- A) Yetenekleri yansıtılmalı  
B) Kişilik özelliklerine uygun olmalı  
C) İlgi alanlarına uygun olmalı  
D) Arkadaşlarının tercihlerini dikkate almalı

12. Aşağıdakilerden hangisi e-ticaretin yararlarından değildir?

- A) İhtiyaçlarına uygun ürünü bulmak kolaydır.  
B) İndirim ve kampanyaya ulaşmak zordur.  
C) Daha fazla ürün çeşidi görerek seçme imkânı vardır.  
D) Evden çıkmadan hızlı bir şekilde alışveriş yapmayı sağlar.

13. Semra yenilikçi bir bakış açısına sahip ve sosyal ilişkileride geliştirmiştir. Bunların yanında sosyal ağları'da etkin kullanabilmektedir.

Verilen özelliklere bakılarak Semra'nın aşağıdaki mesleklerden hangisini seçmesi uygun olur?

- A) Sosyal Medya Uzmanlığı  
B) Ziraat Mühendisliği  
C) Beslenme Uzmanlığı  
D) Tıp Mühendisliği

14. Hititlerde toprak devlet malı idi. Kral bu toprakları üretim yapmaları için komutan ve valilere verirdi. Valiler ve komutanlar işledikleri bu topraklar karşılığında devlete asker yetiştirirdi.

Hititlerde görülen bu sistem Osmanlı Devleti'nde hangi sistemle benzerlik göstermektedir?

- A) Tımar sistemi B) Devşirme sistemi  
C) Ahilik sistemi D) Tehcir sistemi

15. Toprak, birçok ürünün ham maddesi olarak kullanılmaktadır.

Aşağıda verilen ürünlerden hangisinin ham maddesi toprak değildir?

- A) Seramik B) Cam  
C) Demir D) Tuğla

16. Bireylerin meslek seçerken birtakım unsurlara dikkat etmesi gerekir.

Aşağıdakilerden hangisi bu unsurlardan biri değildir?

- A) İlgili olduğu alanlar ile uyumlu olmalı  
B) Ailenin görüşleri ön planda olmalı  
C) Kişinin yeteneklerini ortaya çıkarmalı  
D) Yapacağı iş kişiyi mutlu etmeli

17.


MİRÎ ARAZİ



1

Halkın istediği gibi kullandığı ve miras bırakabildiği topraklardır.

MÜLK ARAZİ



2

Gelirleri cami, medrese ,imarethane gibi topluma hizmet veren kuruluşların ihtiyaçları için ayrılmış topraklardır

VAKIF ARAZİ









3




Mülkiyeti devlete ait olan topraklardır.



Yukarıdaki tabloda Osmanlı Devleti'nde toprağın bölümleri ve açıklamaları karışık olarak verilmiştir.

**Buna göre 1, 2 ve 3 numaralı açıklamalar ile toprağın bölümlerini gösteren şekiller hangi seçenekte doğru eşleştirilmiştir?**

A) 1 - 2 - 3  
 -  - 

B) 1 - 2 - 3  
 -  - 

C) 1 - 2 - 3  
 -  - 

D) 1 - 2 - 3  
 -  - 

18. Sanayi İnkılabı ile :

- Küçük atölye ve tezgahların yerini kömür, su ve petrol gücüyle çalışan büyük fabrikalar aldı.
- Kurulan fabrikalarla yeni iş alanları ve işçi sınıfı ortaya çıktı.
- Kol gücünden makine gücüne geçildi.
- Ham madde ve pazar arayışı sömürgeciliği ve sömürge yarısını başlattı.
- Bu makineleşmeye bağlı ucuz ve seri üretim Osmanlı Devleti'ndeki küçük işletmelerin rekabet gücünü azalttı.

**Buna göre Sanayi İnkılabı sonrasında aşağıdaki durumlardan hangisinin gerçekleşmesi beklenmez?**

- A) Osmanlı Devleti'nde ekonominin olumsuz etkilenmesi
- B) Sömürge devletlerinin ortaya çıkması
- C) Osmanlı Devleti'nde milliyetçilik isyanlarının başlaması
- D) İşçi sınıfını korumak amacıyla sendikacılık faaliyetlerinin başlaması

19. Marco Polo'nun İpek Yolu'nun geçtiği Tebriz şehri ile ilgili gözlemleri şu şekildedir:

"Tebriz İpek Yolu'nun geçtiği önemli şehirlerden biriydi. Tebriz'de yerliler ticaret ve el sanatlarıyla uğraşırlar. Dokudukları ipekli kumaşlar yüksek fiyata alıcı bulur. Hindistan, Bağdat, Musul ve Avrupa'nın çeşitli yörelerinden gelen tüccarlar mal satmak amacıyla buraya uğrarlar. Burada değerli taşlar ve inciler de vardır..."

**Buna göre Tebriz şehri ile ilgili hangisine ulaşamaz?**

- A) Tebriz'de ticaret faaliyetleri önemlidir.
- B) Farklı ülkelerden ticaret yapmak için Tebriz'e gelinmektedir.
- C) Tebriz, İpek Yolu'nun başlangıç noktasıdır.
- D) İpek Yolu üzerinde ipeğin dışında değerli eşyaların da ticareti yapılmaktadır.

20. Osmanlı Devleti zamanında bir meslek örgütü olan Ahiliğin etkisi azalınca devlet kontrolünde Lonca Teşkilatı kurulmuştur. Lonca Teşkilatı zaman içerisinde güçlenerek etkin bir rol almaya başlamıştır.

**Aşağıdakilerden hangisi Lonca Teşkilatı'nın görevleri arasında yer almaz?**

- A) Üyeler arasında çıkan anlaşmazlıklara çözüm üretmek
- B) Ürün kalitesini ve fiyatını belirlemek
- C) Yönetim faaliyetlerini denetlemek
- D) Üyelerin ticari faaliyetlerini denetlemek ve düzenlemek

21.

Devletimizin kuruluşundan itibaren bilimsel faaliyete, bilgiye büyük önem verilmiştir. Dedem Orhan, İznik'e ilk medreseyi açtı. Başına müderris olarak Davud-i Kayseri'yi atadı. Atalarım gibi ilmî faaliyetlere destek oldum. Fen ve teknoloji alanındaki gelişmelere büyük önem verdim. İstanbul'un alınmasında önemli rol oynayan "şahi" toplarının dökülmesinde olduğu kadar onların çalışmasındaki matematiksel hesaplamalarla ilgili her ayrıntıyla yakından ilgilendim. "Sahn-ı Seman" adıyla medreseler inşa ettirdim. Değişik memleketlerden Ali Kuşçu gibi birçok âlimi bu çatı altında topladım.

**Fatih Sultan Mehmet**

Yanda Osmanlı Devleti'nin eğitim kurumlarından olan medreselerle ilgili Fatih Sultan Mehmet'in bazı ifadelerine yer verilmiştir.

**Bu bilgilerden yola çıkarak aşağıdakilerden hangisine ulaşamaz?**

- A) Osmanlı Devleti bilimsel alandaki çalışmaları desteklemiştir.
- B) Davud-i Kayseri Osmanlı medreselerinde görev yapan ilk müderristir.
- C) Fatih Sultan Mehmet farklı ülkelerdeki bilim insanlarını ülkesinde kabul etmiştir.
- D) Osmanlı medreselerinde sadece dinî ilimler alanında çalışmalar yapılmıştır.

22. Meslek, bir kişinin geçimini sağlamak için yaptığı sürekli iştir. Mesleklerin birbirlerine üstünlüğü yoktur. Çünkü insanların farklı meslek alanlarında çalışan kişilere ihtiyacı vardır. Meslek seçimi bireylerin yaşamı üzerinde etkilidir.

**Meslek seçiminde;**

- I. Seçilen mesleğin gerektirdiği bilgi, beceri bilinmelidir.
- II. Seçilen meslek kişinin yeteneğine uygun olmalıdır.
- III. Meslek seçilirken ailenin isteklerine daha çok bağlı kalınmalıdır.
- IV. Meslek, toplumun ihtiyacını karşılayıcı olmalıdır.

**yargılarından hangileri meslek seçiminde göz önünde bulundurulmalıdır?**

- A) I ve IV
- B) II ve III
- C) I, II ve III
- D) I, II ve IV

23.

Çocuklar e-ticaretin üretici ve tüketicilere sağladığı birçok fayda vardır. Sizlerden e-ticaretin tüketicilere sağladığı faydalardan birer tane söylemenizi istiyorum.



**Öğretmenin sorduğu soruya aşağıdaki öğrencilerden hangisi yanlış bilgi vermiştir?**

A) Evden çıkmadan alışveriş imkânı sağlar.



B) En uygun ürünü bulma ihtimalini artırır.



C) Yüz yüze alışveriş olanağı sağlar



D) Fiyat karşılaştırılmasına imkân sağlar.



24. Osmanlı Devleti'ndeki tımar sistemi sayesinde

I- İktâ olarak verilen yerlerin güvenliği sağlandı.	
II- Üretimde süreklilik sağlandı.	
III- Yeniçeri askerleri bu sayede yetişti.	
IV- Devlet hazinesinin maaş yükü arttı.	

Yandaki tabloda doğru bilgilerin bulunduğu kutulara ✓ , yanlış bilgilerin bulunduğu kutulara ✗ işareti konulduğunda aşağıdaki seçeneklerden hangisi doğru sıralamayı verir?

	I	II	III	IV
A)	✗	✗	✓	✗
B)	✓	✓	✓	✓
C)	✓	✗	✓	✗
D)	✓	✓	✗	✗

25. Cumhuriyet'in kurucusu Mustafa Kemal Atatürk vakıflara önem vermiş, yaptığı bir konuşmada şunları söylemiştir:

"Vakıfların varoluş esprisi göz önüne alınınca bunun dinî müesseseler ile beraber hizmet ve sosyal dayanışmayı hedeflediği ortaya çıkar. Vakıfların imarethaneler, bîmarhâneler, hastaneler, kütüphaneler, kervansaraylar, hamamlar, çeşmeler, mektepler, medreseler ve diğer irfan müesseselerini kapsamış olması, vakıflara ait konuların çözümünde uyulması zorunlu olan esasları göstermektedir."

Buna göre vakıflarla ilgili hangi sonuca ulaşılabilir?

- A) İhtiyaçları sadece halk tarafından karşılanmaktadır.
- B) Yardımlaşma ve dayanışma esastır.
- C) Sadece dinî amaçlarla kurulmuştur.
- D) Ticari faaliyetlerde bulunan kurumlardır.

26.

Bilgisayar sistemlerinin yazılım kodlarını hazırlayan ve bu sistemlerin uygulamasını yapar.

Teknolojik karışıklıkları anlamlı bilgilere çevirme işini yapar.



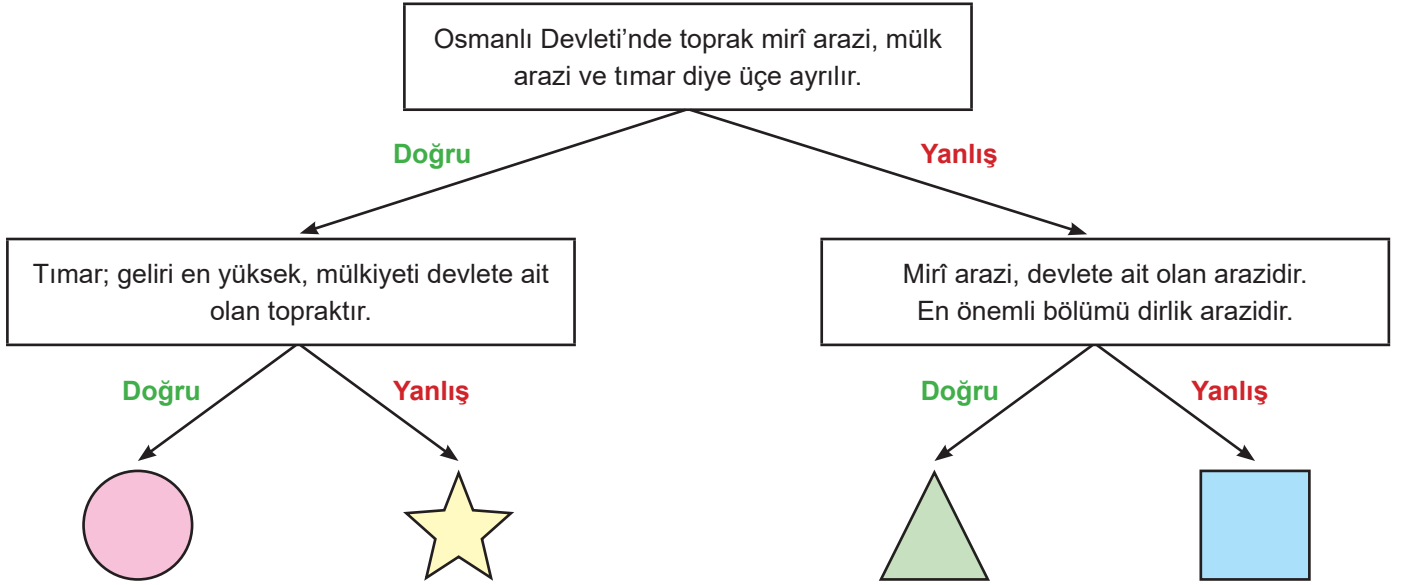
İnsan vücuduna ait uzuvların yapay olarak yetiştirilmesi ve geliştirilmesi işini yapar.

Obezite ve beslenmeye bağlı hastalıkların çözümü için çalışır.


Yukarıda tanımlanan mesleklerden hangisi aşağıda yer almamaktadır?

- A) Biyomedikal mühendisi
- B) Veri analisti
- C) Diyetisyen
- D) Nanoteknoloji mühendisi

27.



Yukarıdaki tabloda verilen bilgilere göre hangi simgeye ulaşılır?

- A)  B)  C)  D) 

28.



Toprak Dede olarak bilinen Hayrettin Karaca'nın kurucusu olduğu sivil toplum kuruluşu aşağıdakilerden hangisidir?

- A) ÇEVKO  
B) AKUT  
C) TEMA  
D) GREENPEACE

29. Ahilik Teşkilatı'nın müşteri haklarını korumak gibi bazı önemli görevleri vardı.

Günümüzde Ahilik Teşkilatı'nın yukarıda belirtilen görevini hangi kurum yapmaktadır?

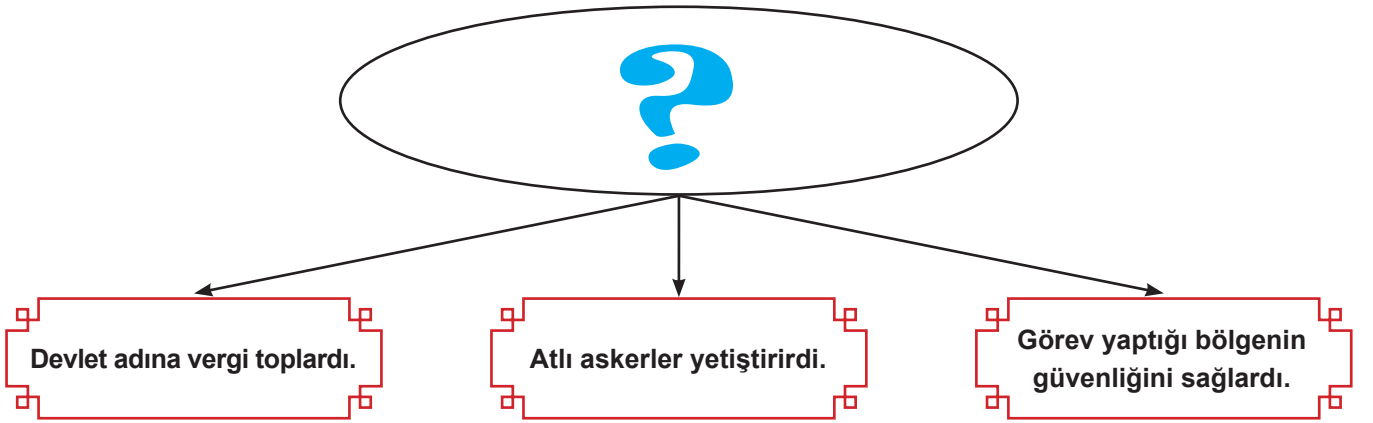
- A) Barolar Birliği B) Tüketici Hakları Derneği C) Ticaret Odası D) İdari Mahkemeler

30. Dünyadaki gelişmelere bağlı olarak günümüzde bazı yeni meslekler ortaya çıkarken bazı mesleklerde önemini kaybetmektedir.

**Hangi seçenekte verilen mesleklerden tümü günümüzde ortaya çıkan mesleklere örnek olarak gösterilebilir?**

- A) Yazılım Mühendisi, Avukatlık, Teknoloji Mühendisliği
- B) Fizyoterapist, Bakırcılık, Hemşirelik
- C) Elektrik Mühendisliği, Ziraat Mühendisliği, İtfaiyeci
- D) Genetik Mühendisliği, Teknoloji Mühendisliği, Biyomedikal Mühendisliği

31.



**Yukarıdaki şemada soru işareti ile gösterilen alana aşağıdaki seçeneklerden hangisi getirilmelidir?**

- A) İktâ sisteminin faydaları
- B) Feodal sistemin özellikleri
- C) Tımar sahibinin görevleri
- D) Derebeylerin görevleri

32. Osmanlı Devleti'nde eğitim kurumlarından biri olan medreselerde;

- Dini konuların dışında matematik, fen, tıp, astronomi gibi pozitif bilimler de okutulurdu.
- Eğitim-öğretim giderleri vakıflar aracılığıyla sağlanırdı.
- Medreselere kabul edilecek öğrenciler sınavlarla belirlenirdi.

**Bu bilgiler doğrultusunda medreselerle ilgili hangi sonuca ulaşamaz?**

- A) Medreselerde çok yönlü eğitim yapıldığı
- B) Öğrencilerin başarıları baz alınıp buna göre seçme yapıldığı
- C) Bilim faaliyetlerine önem verildiği
- D) Devlet yöneticilerinin bu okuldan geldiği



33. • ..... , Batı Anadolu'da yer alan Sardes'ten başlayarak İran'ın Susa şehrine kadar uzanan tarihi yoldur.
- ..... , Hindistan'dan başlayarak Irak üzerinden Suriye Limanı'na ulaşan tarihi yoldur.
- ..... , sahip olduğu Jeopolitik konumu nedeniyle tarih boyunca önemli olmuştur. Orta Doğu ile Afrika Kıtası'nın çevrelediği bir deniz olup dünyanın en büyük denizcilik koridorudur.

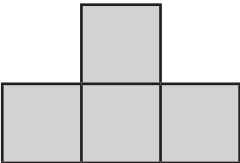
**Yukarıda boş bırakılan yerlere sırasıyla hangileri getirilirse doğru olur?**

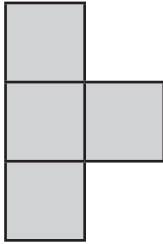
- A) Çanakkale Boğazı – İpek Yolu – Kral Yolu
- B) Akdeniz – İpek Yolu – Kral Yolu
- C) Kral Yolu – İpek Yolu – Kızıldeniz
- D) Kral Yolu – Baharat Yolu - Akdeniz

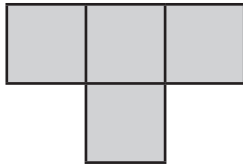
34.

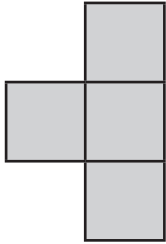
	İnsan gücünün yerini makine gücü aldı.	
Üretilen malların fiyatları arttı.	Sanayi İnkılabı'nın sonuçları	Üretim arttı ve ticaret gelişti.
	Fabrikalar kuruldu.	

Yukarıda Sanayi İnkılabı'nın sonuçları ile ilgili verilen tablodaki yanlış bilgiler çıkarıldığında ortaya çıkan tablo hangi seçenekte doğru verilmiştir?

A) 

B) 

C) 


D) 

35. Tımar, devlet görevlilerine hizmet karşılığı verilen topraklardır. Maaş karşılığı tımarlı sipahilere verilen bu toprak işleniyor ve devlet için asker yetiştiriliyordu. Bu yetiştirilen askerler savaş zamanı orduya katılıyordu.

**Bu verilen bilgilerden hareketle aşağıdaki yargılardan hangisine ulaşamaz?**

- A) Devlet bütçesinden para harcamadan bazı memur maaşları karşılanmıştır.
- B) Devlet, masraf yapmadan bir orduya sahip olmuştur.
- C) Üretimde süreklilik sağlanmıştır.
- D) Devletin hazine gelirlerinde düşüş olmuştur.

36.



- Toprağın asıl sahibi devlettir.
- Maaş karşılığı verilen topraktır.
- Devlet için asker yetiştirilmiştir.

Şemada gösterilen özellikler aşağıda verilenlerden hangisine aittir?

A) Medrese

B) Lonca

C) Vakıf

D) Tımar sistemi

Ben Osmanlı ordusunda görevli bir askerim. Devletten maaş almıyorum. Toprağı eken çiftçilerden gelen gelire ihtiyaçlarımızı karşılıyorum. Savaş zamanı orduya katılır, savaş olmadığında bulunduğum köyün güvenliğini sağlarım.



37. Buna göre sözü geçen asker aşağıdaki sınıflardan hangisine mensuptur?

A) Yeniçeriler

B) Tımarlı sipahiler

C) Akıncılar

D) Acemi oğlanlar

38. Aşağıdaki tabloda Osmanlı İmparatorluğu'na ait tımar sisteminin bölümleri, gelirleri kimlere verildiği gösterilmektedir.

Toprağın Bölümü	Toprağın geliri	Toprağın bırakıldığı Kişiler
Has	100 bin akçe ve daha fazla	Padişah, şehzade, vezir, yüksek yütbeliler
Zeamet	20 bin akçe-100 bin akçe	Orta dereceli memur, subaşı, defterdar
Tımar	3000-20000 akçe	Sipahi, imam, saray hizmetlileri

Verilen tabloya göre aşağıdaki yargılardan hangisine ulaşılabilir?

- A) En yüksek rütbeler ile en yüksek gelirler doğru orantılıdır.
- B) Devletin tüm toprakları devlet görevlilerine dağıtılmıştır.
- C) Tımar sistemi Avrupa'ya örnek olmuştur.
- D) Has sahipleri en geniş topraklara sahiptir.

39.

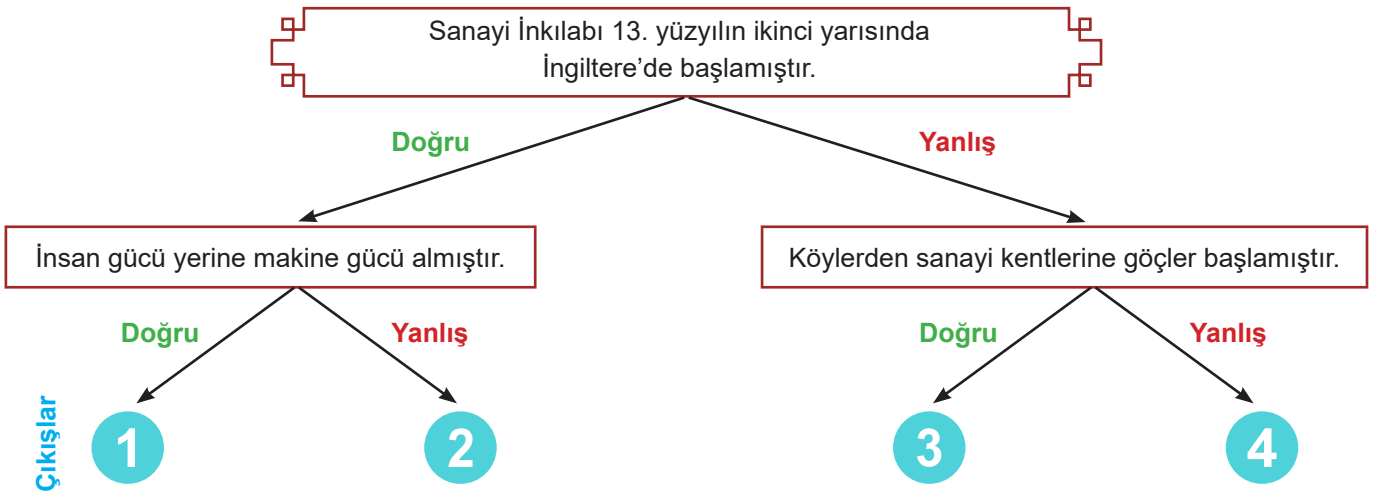


Yandaki şemada soru işareti (?) ile gösterilen yerlere vakıfların özellikleri ile ilgili kavramlar yazılacaktır.

Buna göre aşağıdakilerden hangisi yazılamaz?

- A) Yardımlaşma
- B) Beraberlik
- C) Ayrım Gözetmek
- D) Tarafsızlık

40.



Yukarıdaki bilgiler ilgili ok yönünden takip edilirse kaç numara çıkışa ulaşır?

- A) 1
- B) 2
- C) 3
- D) 4

41. Aşağıda Ahilik ile ilgili bazı değerlendirmeler yapılmıştır.

I.	İnsanlara meslek ve zanaat öğretmek önemlidir.
II.	Dürüstlük, cömertlik, dayanışma önemlidir.
III.	Gayrimüslim esnaflar arasında dayanışma önemlidir.
IV.	Mezun olanlar müderris kadı olarak atanır.

Tabloda verilen bilgilerden hangileri doğrudur?

- A) I ve II
- B) I ve III
- C) II ve III
- D) II ve IV

42.



Sosyal Bilgiler Öğretmeni Mehmet Bey, dersi anlatırken tah-taya yandaki diyagramı çizmiştir.

**Buna göre diyagramda soru işareti ile gösterilen bölümü aşağıdakilerden hangisi yazılmalıdır?**

- A) Günümüzde yapılan meslekler
- B) Meslek seçimlerde dikkat edilmesi gerekenler
- C) Mesleki iş bölümünün yararları
- D) Mesleklerin hayat biçimlerine etkileri

43.

Spor yapmayı, atlamayı, koşmayı çok seviyorum. Gelecekte de bu alanda çalışacağım bir meslek seçmeyi çok isterim.



Gökhan

**Buna göre Gökhan aşağıdaki okullardan hangisini tercih etmelidir?**

- A) Fen Lisesi
- B) Spor Lisesi
- C) Sosyal Bilimler
- D) Ticaret Lisesi

44.



Efendiler,

Geçen sene zarfında Evkaf Vekâleti; dînî ve hayrî yapıların tamir ve inşaatında oldukça mühim bir faaliyet göstermiştir. Yapılan tamirler, yurdun çeşitli yerlerinde olmak üzere toplam 126 cami ve mescit ile 31 medrese ve mektep, 22 su yolu ve çeşme, 175 akar ve 26 hamama ulaşmıştır.

Efendiler!

Geçen sene arz etmiştim. Bu sene de tekrara mecburum ki vakıflar konusu mühimdir. Memleket ve milletin hakiki menfaati yönünden tetkik ve günün gereklerine uygun bir şekilde çözülmesi lâzımdır, çok gereklidir.

**Mustafa Kemal Atatürk'ün 1 Mart 1922'de TBMM açılış nutkundan alınan sözünden hangisine ulaşamaz?**

- A) Atatürk vakıflar sistemini desteklemiştir.
- B) Vakıflar çeşitli amaçlarla kurulmuştur.
- C) Vakıflara yalnızca devlet tarafından yardım yapılmıştır.
- D) Vakıflar, memleket ve millet menfaati için çok önemlidir.

45.



Sevgili Öğrencilerim,  
Ahiliğin temelleri 13. yüzyılda Anadolu'da atılmıştır. İktisadi, sosyal ve kültürel alanda faaliyet gösteren Ahiliğin siyasal ve askeri yönleri de bulunmaktadır. Ahilik Teşkilatı Ahi Evran tarafından kurulmuştur. Kanaat sahibi olmak isteyenler önce çırak olarak işe başlar, ustasının yanında yetişir, kalfa olurdu. Kalfalık süresini tamamlayınca ustalığa geçen kişiye tören düzenlenirdi. Peştamal bağlanırdı. Ustalığa geçen kişilerin cömertlik, yardımseverlik, gibi kurallara uyma zorunluğu vardı.



Metin öğretmen anlattıklarına göre Ahilik Teşkilatı ile ilgili hangisi söylenemez?

- A) Mesleki eğitim için önemli yere sahiptir.
- B) Ahilik Teşkilatı'nda belli kurallar bulunmaktadır.
- C) Sadece ekonomik alanda faaliyet göstermiştir.
- D) Anadolu'ya yayılmış bir esnaf teşkilatıdır.

46.

Çocuklar Anadolu medeniyetlerinden Friglerde ekonomi tarıma dayalıdır. En büyük tanrıları toprak ve bereket tanrıçası Kibele'dir. Frig kralları tarımı korumak için ağır kanunlar koymuşlardır. Bu kanunlara göre öküz kesenin veya saban kıranın cezası ölümdür.



Ayşe Öğretmen

Ayşe öğretmenin anlatımına göre Frigler ile ilgili hangisi söylenemez?

- A) Ülke topraklarının bereketli olduğu
- B) Tarımın en önemli geçim kaynağı olduğu
- C) Frig kralının tek söz sahibi olduğu
- D) Su kaynaklarının yetersiz olduğu

47.

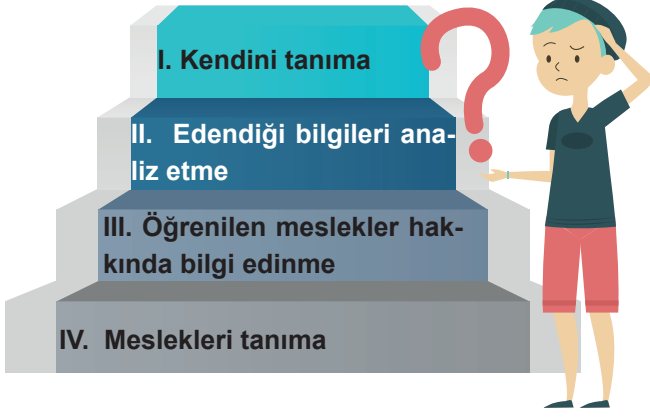
## GAZETE HABERİ

Türk Kızılayı 276 kişilik uzman ekibi ve 67 aracıyla depremzedelerin arama ve kurtarma faaliyeti yürüten ekiplerin ihtiyaçlarını karşılıyor. Kızılay ekipleri tarafından mobil mutfaklarla yemek ihtiyacı karşılanırken soğukun etkisini kırmak için ikram araçlarıyla da sıcak çorba, çay ve çeşitli gıda malzemeleri dağıtılıyor.

Bu habere göre Türk Kızılayı ile ilgili aşağıdakilerden hangisi hakkında bilgi edinilebilir?

- A) Teşkilat yapısı
- B) Tarihçesi
- C) Faaliyet alanı
- D) Kurulduğu yer

48.



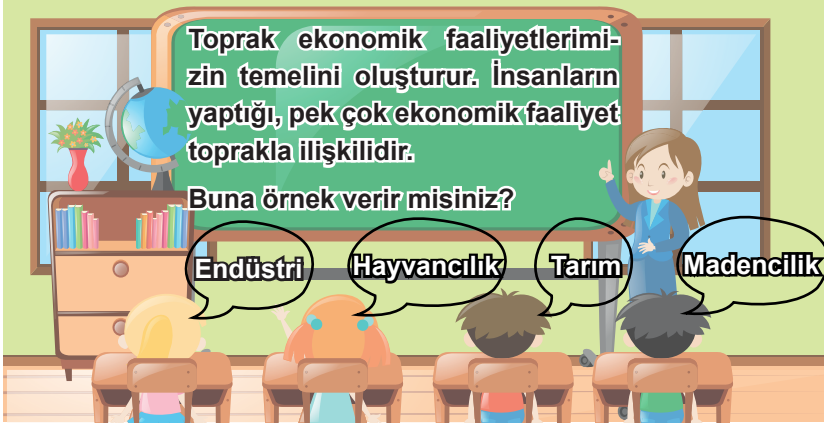
Ahmet yandaki basamakları sırasıyla çıkacaktır.

Sıralamasının doğru olabilmesi için numaraların nasıl olması gerekir?

- A) I - IV - III - II  
C) II - III - IV - I

- B) IV - I - III - II  
D) III - II - IV - I

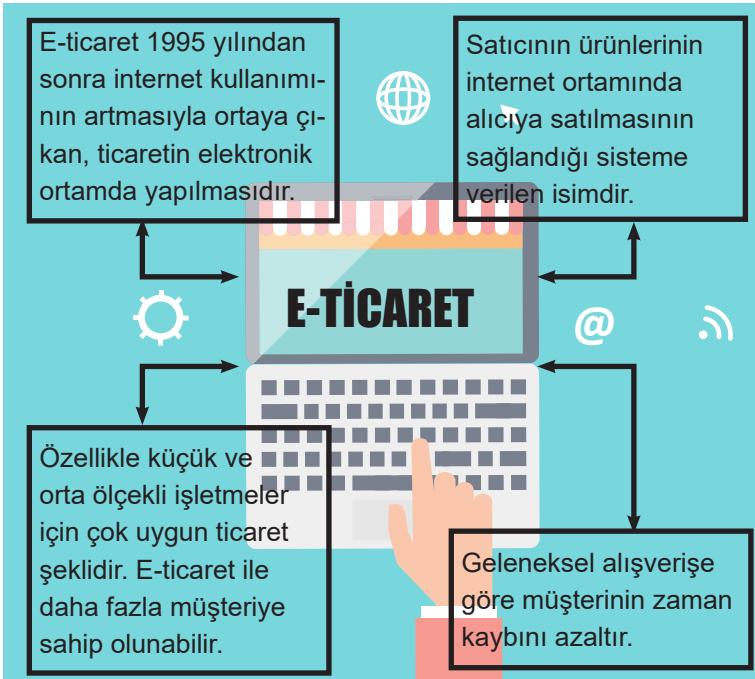
49.



Öğrencilerden kaç tanesi öğretmenin sorusuna doğru cevap vermiştir?

- A) 1  
B) 2  
C) 3  
D) 4

50.



Yanda verilen bilgilere göre aşağıdaki yargılardan hangisine ulaşamaz?

- A) E-ticaretle zamandan tasarruf yapıldığına  
B) Ticaretin internet ortamında geliştiğine  
C) E-ticaretin 1995 yılından sonra artış gösterdiğine  
D) Satıcının normal ticaretten daha fazla kâr ettiğine

51. Teknoloji hızla gelişiyor. Teknolojik gelişmeler sayesinde toprak daha hızlı havalanıyor, gübreleniyor ve sulanıyor. Akıllı sera sistemiyle her şey otomatik ayarlanabiliyor. Elektronik küpe sistemiyle modern çiftliklerde hayvancılıkta verimin artırılması hedefleniyor. Bu teknolojik uygulamalar hayatımıza büyük kolaylık sağlıyor.

Yukarıda verilen bilgilerden hareketle teknolojinin,

I. ticaret

II. tarım

III. hayvancılık

alanlarından hangilerinde etkili olduğu söylenilebilir?

A) I ve II

B) I ve III

C) II ve III

D) I, II ve III

52. Geçmişten günümüze tarımı desteklemek için pek çok çalışmalar yapılmıştır. Tarıma destek vermek için kurum ve kuruluşlar oluşturulmuştur.

Aşağıdakilerden hangisi tarımı destekleyen kuruluşlardan biri değildir?



Tarım İşletmeleri  
Genel Müdürlüğü



GAP İdaresi  
Başkanlığı



Devlet Su İşleri

53.

	İLGİLİ OLDUĞU ALAN	SİVİL TOPLUM ÖRGÜTÜ
		Yeşilay
		Çekül
		Kızılay
		Tema

Yandaki tabloda sivil toplum örgütleri verilmiştir. Bu örgütlerin ilgili olduğu alanlar karşılıklarına yazılacaktır.

Sembollerle gösterilen yerlerin karşılıklarına aşağıdaki seçeneklerden hangisi yazılırsa doğru bir tablo oluşturulmuş olur?



A) Eğitim

B) Eğitim

C) Sağlık

D) Yardımlaşma



Sağlık

Çevre

Çevre

Sağlık



Çevre

Sağlık

Yardımlaşma

Çevre



Yardımlaşma


Yardımlaşma

Çevre

Eğitim

54. Aşağıda verilen yapboza günümüzdeki sivil toplum kuruluşlarından bazıları yazılmıştır.

Yapbozun hangi parçasını çıkarırsak geriye aynı alanda hizmet veren sivil toplum kuruluşları kalır?



55.

..... ? .....

- Friglerde ekili dikili araziye zarar verenlere ağır yaptırımlar uygulanırdı.
- Hititlerde krallar devlet yönetimi ile birlikte toprak yönetiminde de yetkin kişilerdi. Temel geçim kaynakları tarım ve hayvancılık olan Hititler toprağa önem verirdi.
- Selçuklu ve Osmanlı'da devlet kendisine ait arazilerin kullanım hakkını halka vererek üretimde sürekliliği sağladı.
- Cumhuriyet yıllarında modern tarım yöntemlerinin kullanıldığı Atatürk Orman Çiftliği kuruldu.
- Günümüzde tarımsal üretimi desteklemek için çiftçilerimize gübre ve mazot desteği verilmektedir.

Yanda verilen parçaya en uygun başlık aşağıdakilerden hangisidir?

- A) İlk Çağ'da toprak yönetimi  
B) Geçmişten günümüze toprağın önemi  
C) Tarım ve hayvancılık  
D) Tarımın en önemli unsuru

56. Osmanlı Devleti'nde toprağın sahibi devlettir. Savaşlarda yararlılık gösteren, kale yapım ve tamirinde bulunan, devlete hizmet eden askerlere tımar verilirdi. Tımar sisteminde toprak işlenir ve vergilendirilirdi. Tımar sahibinin toprağı düzenli olarak işleyebilmesi için toprağı ekmesi ve kanunlara uyması gerekirdi. Tımar sahibi toprağı üst üste üç yıl ekmeyip köylüye kötü davranırsa tımar elinden geri alınırdı.

Bu bilgilere dayanarak tımar sistemi ile ilgili aşağıdakilerden hangisine ulaşamaz?

- A) Üretimde sürekliliğin sağlandığına  
B) Devletin sistemle ilgili kanunlar hazırladığına  
C) Askeri yapıyla da ilgili olduğuna  
D) Tüm devlet görevlilerine verildiğine



57. Vakıflar; Osmanlı Devleti döneminde ihtiyaç sahibi halkın yiyecek, ulaşım, eğitim ve barınma gibi ihtiyaçlarını ücretsiz karşıladılar. Ayrıca cami, mescit ve buna benzer kurumların temizliği ile ilgili işlerle de uğraşırlardı. Vakıfların yapmış olduğu bu faaliyetler devlet kurumlarının da yükünü hafifletmiştir.

**Yukarıda verilen bilgilere göre vakıflar ile ilgili aşağıdakilerden hangisine ulaşamaz?**

- A) İhtiyaç sahibi kişileri desteklemişlerdir.  
B) Yaptıkları faaliyetlerden dolayı devletten destek almışlardır.  
C) İhtiyaç sahipleri kişiler dışında farklı kurumların düzeni için de çalışmışlardır.  
D) Yaptıkları faaliyetlere karşılık insanlardan herhangi bir ücret almamışlardır.

58. Sanayi İnkılabı 18. yy. sonlarında İngiltere’de başlamış zamanla diğer Avrupa ülkelerine yayılmıştır. İnsan ve hayvan gücünden makine üretimine geçişi ifade eden Sanayi İnkılabının birçok sonucu olmuştur.

Sonuçlardan bazıları şu şekildedir:



Aile yapısı küçülmüş, çekirdek aile yaygınlaşmıştır.



Fabrikalarda üretilen ürünlerin pazar ihtiyacı doğmuştur.

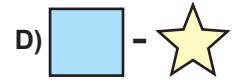
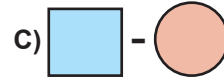
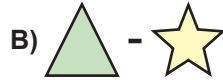
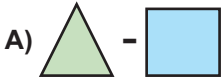


Böl, ucuz ve seri üretime geçilmiştir.



Kırsal kesimden kente göçler artmıştır.

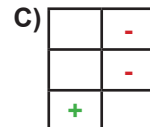
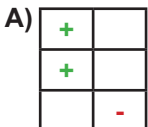
**Aşağıdaki seçeneklerin hangisinde Sanayi İnkılabı’nın sosyal sonuçları verilmiştir?**



59. Teknolojik gelişmelerin ortaya çıkardığı sonuçlar aşağıdaki tabloda belirtilmiştir. Bu sonuçların olumsuz ya da olumlu oldukları yanlarındaki boşluklara sembollerle belirtilecektir. Bu boşluklara sırasıyla sonuç olumsuz ise “-”, olumlu ise “+” işareti konulacaktır.

Teknolojik Sonuçlar	Olumlu	Olumsuz
Uzun süre elektronik aletlere maruz kalmak ciddi sağlık sorunları yaratmaktadır.		
Bilgisayarda uzun süre oyun oynayan çocuğun sosyal becerilerinde bozukluk oluşmaktadır.		
Birçok iş, teknoloji ile daha hızlı yapılırken insanlar zaman kazanmıştır.		

**Tablodaki boşluklar yukarıda verilen açıklamalara göre doldurulduğunda aşağıdakilerden hangisi doğru olur?**



60.

**Vakfın Adı:**

Köprüleri Sellerin Zararından Koruyan Vakıf

**Vakfın Amacı:**

Amasya'da yapılan köprü'nün, selin getirdiği ağaç ve taşlardan temizlenerek şehre zarar vermesini önlemektir.

**Vakfın Adı:**

At Vakfı

**Vakfın Amacı:**

Sokullu Mehmet Paşa tarafından kurulan bu vakfın amacı, savaşa giden gazi ve mücahitlere iyi atlar verilmesini sağlamaktır.

**Vakfın Adı:**

Borcundan Dolayı Hapse Düşenlere Yardım Vakfı

**Vakfın Amacı:**

İstanbul'da kurulan bu vakfın amacı, borçlu ve hapse olan Müslümanlara senede bin akçe verilmesine yardımcı olmaktır.

**Vakfın Adı:**

Meyve Ağaçları Diken Vakıf

**Vakfın Amacı:**

Vakfın amacı, vakfedilen bahçelere ve mezarlara her sene belirlenen sayıda ağacın dikilmesini sağlamaktır.

**Yukarıda verilen bilgiler dikkate alındığında vakıflarla ilgili;**

- I. İnsanların yanında hayvanlar için de vakıf kurulmuştur.
- II. İhtiyaç sahiplerine yardım etmek amaçlanmıştır.
- III. Tabiata ve doğal yaşama önem verilmemiştir.
- IV. Dinî alanda hizmet vermeleri ön planda tutulmuştur.

**yargılara hangilerine ulaşılabilir?**

- A) I ve II
- B) I ve III
- C) II ve III
- D) III ve IV

61.

**Arkeolog:** Geçmiş uygarlıkların gizemli yaşamları

hakkında bilgi sahibi olmak için çok isteklidir. İnsanlık tarihi ve tarih öncesi hakkında bilgi toplamak için eski uygarlıkların geride bıraktığı eşya, mimari yapı, kemik ve benzeri kalıntıları inceler arkeologlar bu eserleri saha çalışmalarıyla ortaya çıkarır.



**Bu bilgilere göre aşağıdaki sorulardan hangisinin cevabına ulaşılabilir?**

- A) Günümüzde ne kadar Arkeoloğa ihtiyaç vardır?
- B) Arkeologların kazançları ne kadardır?
- C) Arkeologların çalışma alanları nerelerdir?
- D) Arkeolog olmak için hangi okullardan mezun olmak gerekir?

## CEVAP ANAHTARI

### ETKİNLİK 1

#### Yukarıdan - Aşağıya:

1. VAKIF
2. LÖSEV
3. YEŞİLAY
4. ENDÜSTRİ
5. MİRİ
6. TIMAR

#### Soldan - Sağa:

1. GAP
2. KIZILAY
3. ARKEOLOJİ
4. İKTA
5. TEMA
6. DİRLİK

### ETKİNLİK 2

ÇİFTBOZAN-MEDERESE-İKTA-HAKİM-FRİGLER-MESLEK-ENDERUN-FEODALİTE-VAKIF-E-TİCARET  
ŞİFRE : AHİ EVRAN

### ETKİNLİK 3

serf - Hititler - Ziraat Bankası - e-ticaret - lonca - Orhan Bey - ahilik - vakıf - devşirme - Sanayi İnkılabı - Vakıflar Genel Müdürlüğü - arama kurtarma - II.Mahmut - feodalite - kral - tarıma - mirî - ikta

### ETKİNLİK 4

- 1- Çevre  
4- Sağlık

- 2- Sağlık  
5- Eğitim

- 3- Çevre

### ETKİNLİK 5

- 1- Sosyal Medya Uzmanlığı  
3- Beslenme Uzmanlığı

- 2- Tıp Mühendisliği  
4- Yazılım Mühendisliği

### ETKİNLİK 6

- Kahverengi Sepet:  
3, 4 ve 6

- Pembe Sepet:  
1, 2 ve 5

### ETKİNLİK 7

1 - 😞

2 - 😊

3 - 😊

4 - 😊

5 - 😞

6 - 😊

7 - 😊

### ETKİNLİK 8

1 - Sanat

2 - Hayvancılık

3 - Tarım

4 - Haberleşme

### ETKİNLİK 9

- |       |        |        |        |        |        |
|-------|--------|--------|--------|--------|--------|
| 1 - D | 6 - Y  | 11 - D | 16 - D | 21 - Y | 26 - D |
| 2 - Y | 7 - D  | 12 - Y | 17 - Y | 22 - D | 27 - Y |
| 3 - Y | 8 - D  | 13 - D | 18 - D | 23 - D | 28 - Y |
| 4 - D | 9 - D  | 14 - Y | 19 - Y | 24 - Y | 29 - Y |
| 5 - D | 10 - Y | 15 - D | 20 - D | 25 - Y | 30 - D |

## CEVAP ANAHTARI

### ETKİNLİK 10

**a-** Osmanlı Devleti'nde vakıfların amacı bir malı kişisel mülkiyetten çıkartarak insanların faydasına sunmaktır. Hangi amaç için kurulmuşsa o amaç ortadan kalkmadığı müddetçe vakıf olarak hizmet etmesi gerekir. Bu nedenle devredilemez ve satılamazdı.

**b-** Bir kimsenin geçimini sağlamak için yaptığı sürekli iştir. Mesleğe seçerken ilgi, yetenek, kişilik özellikleri, mesleğin özellikleri gibi faktörlere dikkat etmeliyiz.

**c-** Osmanlı Devleti'nde toprağın üç yıl üst üste ekilmemesi durumuna çiftbozan denilmekteydi. Bu durumda devlet bu toprağı sahişlardan geri almaktaydı. Çiftbozan sisteminin uygulanmasının nedeni ise tarımsal sürekliliğın devamını sağlamaktır.

**d-** Osmanlı Devleti'nin eğitim ve öğretim kurumlarının başında medreseler gelirdi. Osmanlı Devleti'nde medreseler orta ve yükseköğretim kurumlarıydı. Osmanlı Devleti'nde fethedilen yerlere ilk önce cami yanında medrese açılması eğitime verilen önemi gösterir.

Medreselerden mezun olanlar kadı, kazasker, müftü, müderris, doktor, matematik, astronomi bilgini olurdu. Bu sayede medreseler topluma ve devlete din, ilim, ve eğitim hizmetlerinin yanında devletin adli ve idari personelini de karşılamış olurdu. Devlet kademelerine getirilen kişiler bu eğitim sistemi sayesinde bilgili ve kanunlara uygun kişiler olurdu. Böylece hem iş ve işlemler hızlı ilerler hem de merkezi idare sağlam ve güçlü olurdu.

### ÇOKTAN SEÇMELİ SORULARIN CEVAPLARI

1- D	11- D	21- D	31- C	41- A	51- C	61- C
2- B	12- B	22- D	32- D	42- B	52- C	
3- C	13- A	23- C	33- D	43- B	53- C	
4- D	14- A	24- D	34- B	44- C	54- C	
5- C	15- C	25- B	35- D	45- C	55- B	
6- A	16- B	26- D	36- D	46- B	56- D	
7- C	17- C	27- B	37- B	47- C	57- B	
8- A	18- C	28- C	38- A	48- A	58- C	
9- B	19- C	29- B	39- C	49- D	59- C	
10- A	20- C	30- D	40- C	50- D	60- A	



[meb.gov.tr](http://meb.gov.tr)