



Haftalık Ödev

10-14 MAYIS



SIİRT
İL MİLLÎ EĞİTİM MÜDÜRLÜĞÜ

[www.
siirt.meb.gov.tr](http://www.siirt.meb.gov.tr)



- *Bir insana iftira atmak
- *İlgi, değer kazanmak
- *Güzel, ikna edici konuşmak
- *Çok öfkelenmek, sinirlenmek delirmek

1) Yukarıda bazı deyimlerin anlamları verilmiştir. Anlamı verilmeyen deyim hangisidir?

- A) Zıvanadan çıkmak
- B) Ağzı laf yapmak
- C) Göze girmek
- D) Ağzında bakla ıslanmamak

*Bir şey üzerine fazla yoğunlaşmak aksilikleri ve olumsuzlukları beraberinde getirebilir.

2) Yukarıda anlamı verilen atasözü aşağıdakilerden hangisidir?

- A) Besle kargayı oysun gözünü.
- B) Çürük tahta çivi tutmaz.
- C) Sakınılan göze çöp batar.
- D) Rüzgâr eken fırtına biçer.

3) Aşağıdaki cümlelerin hangisinde hem niteleme hem belirtme sıfatına yer verilmiştir?

- A) Dal yeşil, gök mavi, tarla sarı olsun.
- B) Beni bu güzel havalar mahvetti.
- C) Büyük sular, büyük gemileri sever.
- D) Bunu bırak, kırmızı kalemi ver.

4) Aşağıdaki cümlelerin hangisinde tamlayan ile tamlanan arasında niteleme sıfatı girmiştir?

- A) Üzgün kedilerin şiirini yazdım.
- B) Dizinin ikinci sezonunu da izledim.
- C) Evin yeşil bahçesinde vakit geçiriyorum.
- D) Bereketli toprakların kokusunu özledim.

5) Aşağıdaki cümlelerin hangisinde örtülü anlam vardır?

- A) Bu sene de şampiyon olacağız.
- B) Yaşanacak güzel günlerimiz var.
- C) Karanlıkta seni tanıyamadım.
- D) Sırlarımı yalnızca seninle paylaştım.



6) Bu görsele bakarak aşağıdakilerden hangisi kesin olarak söylenemez?

- A) Duvardaki dolapta birden fazla kitap bulunmaktadır.
- B) Sabaha kadar kitap okuyan adam çok düşüncelidir.
- C) Oturan adam kitaptan bir şeyler okumaktadır.
- D) Adamın oturduğu kilim oldukça yıpranmıştır.

Bir gün Hoca, eşeğine binerek, arkasına takılan bir kısım insanlarla birlikte, camiden eve dönerken birdenbire durur, hayvandan iner ve yüzü insanlara dönük olarak eşeğe ters biner, yani semere ters oturur. Bunu görenler yaptığı hareketin nedenini sorarlar.

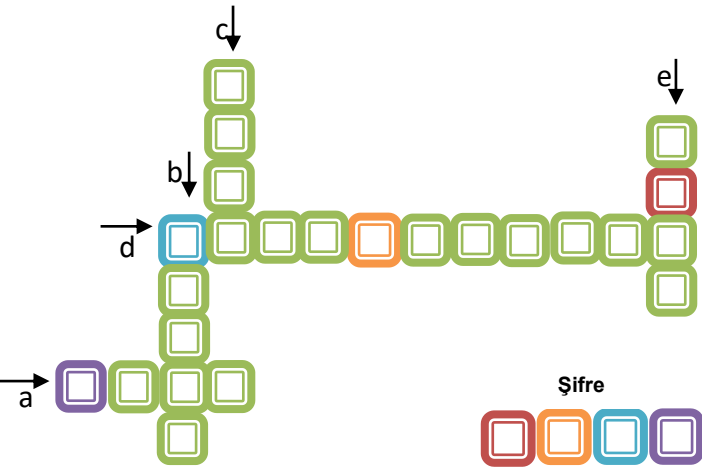
Hoca şöyle der:

— Düşündüm, eşeğime böyle binmeye karar verdim çünkü saygısızlığı hiç sevmem. Siz önüme düşseniz, arkanızı bana dönmüş olacaksınız; usulsüzlük saygısızlık olur. Ben önde gitsem, size arkamı çevirmiş olacağım ki bu da doğru değildir. Böyle ters bindiğim zaman ise hem ben önünüzden giderim, siz de ardımdan gelmiş olursunuz; hem de karşı karşıya bulunuruz!

Yukarıdaki metinde geçen bazı kelimelerin anlamları aşağıda verilmiştir.

- a. Attan küçük, irice başlı, uzun kulaklı, yük ve binek hayvanı.
- b. At, katır gibi hayvanların sırtına yerleştirilerek üzerine binilen ya da yük bağlanan, iskeleti ağaçtan yastık
- c. İslamîlikta, din bilgisi olan ve din işleriyle görevli kimse, din adamı. (Öğretmen)
- d. Saygısız olma durumu
- e. Ön kelimesinin zıttı

Bu kelimeleri metinden bulup aşağıdaki bulmacaya yerleştiriniz.



7) Kelimeler bulmacaya yerleştirildiğinde renklerle belirtilen “ŞİFRE” bölümüne denk gelen harfler hangisidir?

- A) SALE
- B) RSKA
- C) ASRE
- D) RISE

Eş görevli sözcük ya da sözcük gruplarının arasında kullanılır.

“Evet, hayır, peki” vb. sözcüklerden sonra kullanılır.



Tırnak işareti içine alınmamış alıntı cümlelerden sonra kullanılır.

Sayılarda, ondalık bölümü ayırmak için kullanılır.

8) Aşağıdaki cümlelerin hangisinde virgül (,) yukarıdaki işlevlerinin dışında kullanılmıştır?

- A) Yusuf, Bünyamin ve Esmâ verilen bütün görevleri yaptı.
- B) Peki olur, uçağa yetişemezsem sizinle giderim.
- C) Eğlenceli vakit geçirmek için müzik dinliyor, sinemaya gidiyor.
- D) Bugün daha sevinçli uyandım, dedi.

Sözcüklere gelerek onlardan yeni sözcükler türeten ekler **yapım eki** denir.

Eğer karanlıktan korkarsan işte o zaman tehlikeli olur. Ama karanlığı sevmeye cesaret edersen o da seni sever.

9) Altı çizili sözcüklerden hangisi yapım eki almamıştır?

- A) Cesaret
- B) Tehlikeli
- C) Sevmeye
- D) Karanlıktan

- ★ bilgiyle beslenir
- ◆ ateş dediğimiz güç
- ♥ akıl da
- ✦ nasıl ki
- ☀ odunla beslenirse

10) Sembollerle ifade edilen sözlerle anlamlı ve kurallı bir cümle oluşturmak için sıralama nasıl olmalıdır?

- A) ♥ ★ ★ ★ ☀ ◆
- B) ◆ ♥ ★ ★ ★ ☀
- C) ◆ ★ ☀ ♥ ★
- D) ☀ ◆ ★ ♥ ★

12) Aşağıdakilerin hangisinde metnin sonunda yay ayraç içinde verilen hikâye unsuru yoktur?

A) Kızkulesi Adası, Kubadabad Saltanat Kentinin himayesindeymiş. Adada çevresi sularla çevrili bir kale ile birbirinden güzel köşklerin ortasında yüksek bir kule varmış. (Zaman)

B) İşte bu kalede sultanın güzeller güzeli biricik kızı yaşarmış. Sultan, rüyasında kızının yılan sokması yüzünden öleceğini görmüş. Yaptırdığı kaleye kızını bunun için kapatmış. (Yer)

C) Böylece yıllar yılları kovalamış ve günlerden bir gün güzel Sultan hastalanmış. Ülkenin en ünlü hekimleri zor bulmuşlar şifasını. Sevgili Sultan yeniden sağlığına kavuşmuş. (Kişi)

D) İyileşmesini kutlamak için armağanlar yağmaya başlamış kuleye. Yaşlı bir köylü kadın da bir sepet üzüm getirmiş. Meğer üzümlerin içinde bir küçük yılan varmış. Yılan o gece uykuya dalan güzel sultanı sokup öldürmüştü. (Olay)

Yeni tip koronavirüs hakkında bilinmesi gerekenler



YENİ TIP KORONAVİRÜS NEDİR?

Çin'in Wuhan kentinde ortaya çıkan yeni tip koronavirüs, solunum yolu enfeksiyonu yapan bir virüstür.

Bazı hayvanlarda bulunan virüs, hayvanlardan insanlara bulaşabilir ve bu şekilde yayılabilir.

Yeni koronavirüsün hangi hayvandan insanlara geçtiği henüz saptanamadı.

Sağlık Bakanlığından yeni tip koronavirüsün (Kovid-19) ne olduğu, nasıl bulaştığı, belirtileri, teşhis ve tedavisine ilişkin bilgilendirme yapıldı.

NASIL BULAŞIR?

Hasta kişilerin öksürme veya hapsirmayla ortaya saçtığı damlacıklar yoluyla bulaşır.

BELİRTİLERİ NELER?

Siddetli vakalarda:

- Zatürre
- Ağır solunum yetmezliği
- Böbrek yetmezliği

Ateş

Solunum sıkıntısı

Öksürük

11) Bu afişi inceleyen biri görsellerden yola çıkarak Kovid-19 hakkında aşağıdakilerden hangisine ulaşamaz?

- A) Çin'in Wuhan kentinde ortaya çıkan bir solunum yolu enfeksiyonu virüsüdür.
- B) Bu virüs hayvanların bir kısmında da bulunmaktadır.
- C) Hangi hayvandan insana geçtiği tespit edilmemiştir.
- D) Öncelikli belirtileri zatürre, ağır solunum yetmezliği ve böbrek yetmezliğidir.




13) Şemada boş bırakılan yerlere yazılması gereken zamir(adıl) aşağıdakilerin hangisinde doğru verilmiştir?

- A) Belgisiz Adılı Belgisiz Adılı İşaret Adılı
- B) Soru Zamiri Belgisiz Adılı İşaret Adılı
- C) Soru Zamiri İşaret Adılı Soru Zamiri
- D) Belgisiz Adılı Kişi Adılı Soru Zamiri

SUDOKU

Sudoku standart olarak aynı boyutlarda bir diyagramda çözülen ve her satır, her sütun ve her karede aynı rakamların ya da görsellerin birer kez yer alması gereken bir zekâ oyunu türüdür.

Yandaki karelerin içini 3 değişik sembolle öyle doldurun ki her satırda ve her sütunda, her sembolden yalnızca bir tanesi bulunsun.



14) Sudoku oyunundaki karelerin doğru şekilde doldurulmuş hali aşağıdakilerden hangisinde verilmiştir?

- A)
- B)
- C)
- D)

Aşağıda bazı yazım kuralları verilmiştir:

* İkilemeler ayrı yazılır.

* Bağlaç olan “de” ayrı yazılır.

* Belirli bir tarih bildiren ay ve gün adları büyük harfle başlar ve üzerine gelen çekim ekleri ayrı yazılır.

15) Aşağıdaki cümlelerin hangisinde bu kurallara dikkat edilmediği için bir yazım yanlışı yapılmıştır?

- A) Onlar da bizimle tiyatroya gelmiyorlar mı?
- B) Maçı olmak için oyuncular kafa kafaya verdiler.
- C) Yemek vaktinde herkes yavaş yavaş yerini aldı.
- D) Bu yıl ki 23 Nisanda hepimiz balkonlardaydık.

- 1-İnsan yaşamının anlamı sevmekten geçer.
- 2-Sevginin olmadığı yerde kin, nefret oluşur.
- 3-Sevgi, insanlara mutluluk verir; insanları yüceltir.
- 4-Sevgi, insanlığın sahip olduğu en asil duygudur.

16) Yukarıdaki cümlelerden hangisi bir tanım cümlesidir?

- A) 1
- B) 2
- C) 3
- D) 4

- 1-Taklitten uzak ve
- 2-Özgünlük ilkesine göre yazar
- 3-Ortaya koymak zorundadır
- 4-Kendi imzasını taşıyan eserler

17) Yukarıdaki sözcük ve sözcük gruplarının anlamlı ve kurallı bir cümle oluşturabilmesi için nasıl sıralanması gerekir?

- A) 2-4-1-3
- B) 1-2-3-4
- C) 2-1-4-3
- D) 2-3-4-1

18) Aşağıdaki cümlelerin hangisinde “beklenti” anlamı vardır?

- A) Umarım sınavım çok iyi geçer.
- B) Belki bugün gezmeye gideriz.
- C) Tut ki karnım acıktı.
- D) Yaşasın en sevdiğim yemeği yapmış.

19) Aşağıdaki eklerden hangisi “Sebze” sözcüğünün yapısını değiştirir?

- A) -ler
- B) -lik
- C) -de
- D) -i

Ayşe: Kol çantamı beğendim.

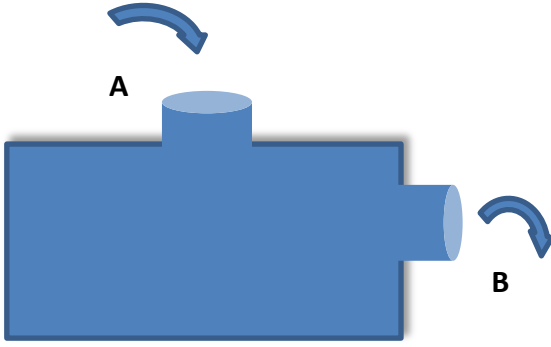
Leyla: Mor çantamı seviyorum.

Sevgi: Ağır çantamı taşıdım.

Yağmur: Yeni çantamı taşıdım.

20) Yukarıdaki kişilerden hangisi cümlesinde sıfat kullanmamıştır?

- A) Ayşe
- B) Leyla
- C) Sevgi
- D) Yağmur



Asal çarpan makinesi

1) Yukarıdaki düzenekte A bölümünden makinaya atılan sayılardan asal çarpanlarının toplamına tam olarak bölünen sayıları B bölümünden dışarı çıkarmakta, bölünemeyen sayılar ise içeride kalmaktadır.

Buna göre aşağıdaki sayılardan hangisi makinanın içinde kalır?

- A) 150 B) 84 C) 48 D) 30

2) Yandaki tablo bir ailenin boylarının metre cinsinden boy uzunlukları verilmiştir. Bu ailenin boy ortalaması 1,4 metre olduğuna göre **Yusuf'un boy uzunluğu** kaç metre olması gerekmektedir?

Kişiler	Boy Uzunluğu (metre)
Baba	1,75
Anne	1,60
Yusuf	?
Enes	1,3
Sema	1,2

- A) 1,40 B) 1,15 C) 1 D) 0,95

3) a, b ve n birer doğal sayı olmak üzere a^n ifadesine üslü sayı denir. A^n ifadesi n tane sayının yan yana tekrarlı çarpımıdır.

$$a^n = \underbrace{a.a.a.a.....a}_{n \text{ tane } a}$$

$\blacksquare = 64$ üslü ifadesindeki $\blacksquare + \blacktriangle$ değeri aşağıdakilerden hangisi **olmaz**?

- A) 7
B) 10
C) 64
D) 65



4) “SiİRT” kelimesinin harflerinden oluşturulan A kümesi için aşağıdakilerden kaç tanesi doğru olur?



- I. $S(A)=5$
II. $A=\{SiİRT\}$
III. A
IV. $T \in A$









- A) 1 B) 2 C) 3 D) 4




5) Derya ve Deniz harçlıklarını yanlarına alarak alışverişe çıkacaklardır. Derya'nın 60 TL'si Deniz'in ise 45 TL parası vardır. Derya parasının $\frac{3}{5}$ 'ini harcamış, Deniz ise harçlığının $\frac{2}{3}$ 'ünü harcamıştır. Buna göre Derya'nın kalan parasının Deniz'in harcadığı paraya oranının en sade hali kaçtır?

- A) $\frac{4}{5}$ B) $\frac{8}{3}$ C) $\frac{12}{5}$ D) $\frac{6}{5}$




7) 1  4  dört basamaklı doğal sayısı hem 3 hem de 5 ile tam bölünebilmektedir.



Buna göre  ve  sayıları aşağıdakilerden hangisi **olamaz** ?

- A)  7  0
B)  8  5
C)  3  0
D)  2  5

6)  = a^2
 = a^3
 = a^4

Yanda verilen işlemler şekildeki gibi tanımlanmaktadır. Örneğin:

 = $10^2 = 100$
 = $10^3 = 1000$
 = $10^4 = 10000$

Buna göre  işleminin sonucu kaçtır?


- A) 256 B) 64 C) 16 D) 4

8) Yeni bir telefon hattı almak isteyen Murat bir GSM Bayisine gidip tarifeler hakkında bilgi almak istiyor. GSM yetkilisi mevcut tarifeleri aşağıdaki gibi sunuyor.

1. tarife

- Sabit ücret 5 TL
- İlk 200 dk. Ücretsiz
- Paket aşımı durumunda 1dk.=0,15 TL

2. tarife

- Sabit ücret 10 TL
- İlk 300 dk. Ücretsiz
- Paket aşımı durumunda 1dk.=0,35 TL

3. tarife

- Sabit ücret 15 TL
- İlk 400 dk. Ücretsiz
- Paket aşımı durumunda 1dk.=0,40 TL

4. tarife

- Sabit ücret 20 TL
- 1 dakika konuşma süresi =0,04 TL

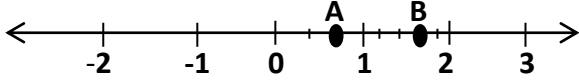
Murat'ın en az 500 dk konuşma ihtiyacı olduğuna göre hangi tarifeyi seçerse daha avantajlı olur?

- A) 1. tarife
B) 2. tarife
C) 3. tarife
D) 4. tarife

9) $(1 + \frac{1}{2}) \cdot (1 + \frac{1}{3}) \cdot (1 + \frac{1}{4}) \cdot (1 + \frac{1}{4}) \dots (1 + \frac{1}{n})$

n = 99 için bu kesrin değeri kaç olur?

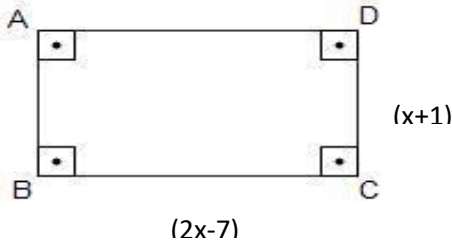
- A) 100 B) 50 C) 1 D) 0



10) Yukarıdaki sayı doğrusunda 0 ile 1 arası 3 eşit parçaya 1 ile 2 arası 5 eşit parçaya ayrılıyor. Şekilde yerleri gösterilen A ve B sayıları için $\frac{B-A}{A}$ ifadesinin değeri kaç olur?

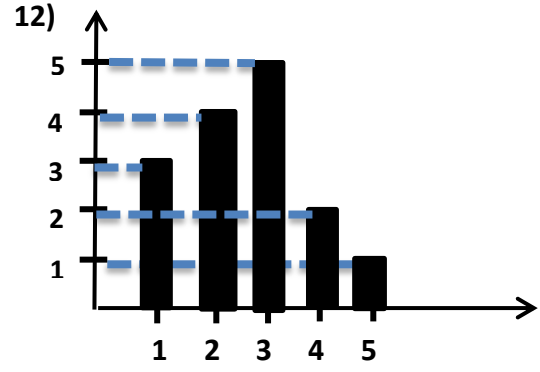
- A) $\frac{5}{6}$ B) $\frac{2}{3}$ C) $\frac{7}{5}$ D) $\frac{1}{2}$

11) **Bilgi:** Cebirsel ifadede harfler ile belirttiğimiz değişkenlere farklı doğal sayı değerleri verdiğimizde ifadenin değeri de farklı değerler alır



Yukarıda verilen dikdörtgensel şeklin kenar uzunlukları cebirsel ifade olarak verilmiştir. X hangi değeri aldığında dikdörtgenin çevresi alanından büyük olur?

- A) 7 B) 6 C) 5 D) 4



Yukarıdaki grafik bir sınıftaki öğrencilerin aldığı notlara göre dağılımı verilmiştir. Buna göre bu sınıftaki öğrencilerin not ortalaması kaçtır?

- A) 2 B) 2,6 C) 3 D) 3,5


13) 13, 20, 12, A, 8 veri grubuna ait açıklığın 14 olabilmesi için verilmeyen A değerinin en büyük ve en küçük değerlerinin toplamı kaçtır?

- A) 12 B) 20 C) 28 D) 34

14) $(50 - 20 : 2) + 3^0$ işleminin sonucu aşağıdakilerden hangisidir?

- A) 18
B) 16
C) 41
D) 40

15)



Çiftçi Ahmet Amca traktörünün yakıt deposunun $\frac{3}{8}$ 'i doludur. Sabah tarlasını sürmeye gidecek olan Ahmet Amca yakıtının yetmeyeceğini düşünüp benzin istasyonuna giderek 165 TL karşılığında 30 litre yakıt alarak deposunu tam doldurmaktadır. Buna göre Ahmet Amcanın traktörünün yakıt deposu **tamamen boş** iken kaç TL ile tam dolar?

- A) 215
- B) 264
- C) 312
- D) 350

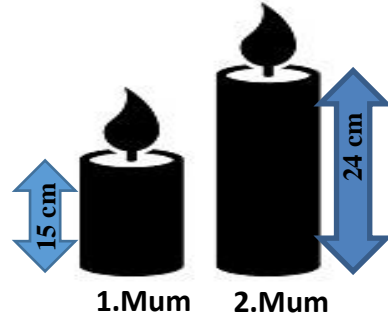
16)



Ezgi, Mustafa, Meral ve Ahmet pizza yemek için bir restoranta gitmişlerdir. Bu dört arkadaş aynı büyüklükteki pizzadan sipariş vermişlerdir. Pizzalarını yediklerinden sonra sırasıyla pizzalarının $\frac{7}{12}$, $\frac{3}{4}$, $\frac{2}{3}$ ve $\frac{5}{6}$ 'sını bitiremediklerini fark etmişlerdir. Buna göre **en fazla** pizzayı kim yemiştir?

- A) Mustafa
- B) Meral
- C) Ezgi
- D) Ahmet

17)



Not: 1. Mum 3 dakikada tamamen bitmektedir.

2. Mum 6 dakikada tamamen bitmektedir

Yukarıdaki şekilde boy uzunlukları ve tamamen bitene kadar yanma süreleri dakika olarak verilen özdeş olmayan farklı mumlar verilmiştir. Bu mumlar aynı anda yandıktan 2 dakika sonra aynı anda söndürülüyorlar.

Buna göre 1. Mumun yanmayan kısmının 2. Mumun yanan kısma oranının en sade şekli nedir?

- A) $\frac{5}{8}$
- B) $\frac{4}{5}$
- C) $\frac{5}{16}$
- D) $\frac{8}{5}$

18) Mutlak değeri 6 'dan küçük olan kaç tane tam sayı vardır?

- A) 5
- B) 6
- C) 10
- D) 11

19) Aşağıdaki yargılarından hangisi **yanlıştır**?

- A) Sıfır referans noktasıdır. Ne negatif ne de pozitif sayıdır.
- B) İki basamaklı en küçük tamsayı 10 'dur.
- C) 3 basamaklı rakamları farklı en büyük tamsayı 987 'dir.
- D) Sayı doğrusunda -4 'ün sağ tarafında pozitif olmayan 4 tane tam sayı vardır.

20) $a = 5,3\overline{4}$

$b = 5,34$

$c = 5,3\overline{4}$

$d = 5,3$

Yanda verilen sayıların
büyükten küçüğe doğru
sıralaması aşağıdaki
seçeneklerden hangisidir?

A) $c > b > a > d$

B) $d > c > b > a$

C) $a > b > c > d$

D) $a > c > b > d$

1) Aşağıda verilen iklim tiplerinden hangisi ülkemizde görülmez?

- A) Akdeniz iklimi
- B) Çöl iklimi
- C) Karadeniz iklimi
- D) Karasal iklim

2) Bir ülkenin dış satımında sanayi ürünleri önemli paya sahip ise bu ülke için aşağıdakilerden hangisi söylenebilir?

- A) Gelişmiş bir ülkedir.
- B) Ekonomisi gelişmemiştir.
- C) Nüfus artış hızının fazla olduğu bir yerdir.
- D) Tarım sektöründe çalışan nüfus fazladır.

3) Aşağıdaki savaşlardan hangisi Hz. Muhammed (SAV) döneminde yapılmamıştır?

- A) Bedir Savaşı
- B) Tebük Savaşı
- C) Hendek Savaşı
- D) Talas Savaşı

4) Aşağıda verilen iklim ve tarım ürünü eşleştirmelerinden hangisi yanlış verilmiştir?

- A) Karadeniz iklimi -Çay
- B) Akdeniz iklimi -Muz
- C) Karasal iklimi -Fındık
- D) Akdeniz iklimi -Zeytin

5) Bizans'ın Türklerle yaptığı ilk savaş hangisidir ?

- A) Malazgirt Meydan Savaşı
- B) Pasinler Savaşı
- C) Mohaç Savaşı
- D) Köseadağ Savaşı

6) Devlet yönetiminin bir grup veya zümrenin elinde olduğu yönetim biçimi aşağıdakilerden hangisidir?

- A) Oligarşi yönetimi
- B) Monarşi yönetimi
- C) Cumhuriyet yönetimi
- D) Teokrasi yönetimi

7) Aşağıda verilen özelliklerden hangisi paralellerin özelliklerinden biri değildir?

- A) Birer derece aralıklarla çizilirler.
- B) Doğu- batı doğrultusunda uzanırlar.
- C) Toplam 180 tane paralel dairesi bulunmaktadır.
- D) Bütün paraleller eşit boydadır.

8) İnsanlar hayatları boyunca içinde bulundukları grup ve kurumlarda çeşitli roller üstlenirler.

Aşağıdaki rollerden hangisi 6. sınıf öğrencisinin üstlenebileceği bir rol değildir?

- A) Abla
- B) Kardeş
- C) Torun
- D) Anne

9) Bir kimse ya da bir şey ile ilgili olarak belirli şart, olay ve görüntülere dayanarak önceden edinilmiş olumlu ya da olumsuz peşin yargıya ne ad verilir?

- A) Ayrımcılık
- B) Farklılık
- C) Ön yargı
- D) Kalıp yargı

10) Yasalar tarafından insanlara tanınan yetki ya da kazanımlara ne ad verilir?

- A) Rol
- B) Hak
- C) Özgürlük
- D) Sorumluluk

11) Aşağıdakilerden hangisi kültürümüze ait bir yemek değildir?

- A) Karnıyarık
- B) Büryan
- C) Kuru fasulye
- D) Pizza

12) Türkler tarihte birçok devlet kurmuşlardır. Aşağıdaki Türk devletlerinden hangisi Türklerin İslamiyet'i kabulünden önce kurulmuştur?

- A) Karahanlılar
- B) Gazneliler
- C) Selçuklular
- D) Hunlar

13) Nüfusun yeryüzüne dağılışında insan etkisinin olduğu faktörlere " Beşerî Faktörler" 'denir.

Aşağıda verilen faktörlerden hangisi nüfusun yeryüzünde dağılışına etki eden beşeri faktörlerdendir?

- A) İklim
- B) Sanayi
- C) Bitki Örtüsü
- D) Su Kaynakları

14) Ülkemizde en yaygın görülen iklim tipidir. Bu iklim, denizlerden uzak iç bölgelerimizde etkilidir. En belirgin özelliği yazların sıcak ve kurak, kışların soğuk ve kar yağışlı geçmesidir. Bitki örtüsü bozkır (step) tır.

Yukarıda özellikleri verilen iklim türü hangisidir?

- A) Karadeniz İklimi
- B) Akdeniz İklimi
- C) Karasal İklimi
- D) Muson İklimi

15) Hz. Ömer döneminde

-Maliyeye önem verilmiş, vergiler yeniden düzenlenmiştir.

-İllere yargı işlerine bakan kadılar gönderilmiştir.

-İlk düzenli ordu ve karargâh kurulmuştur.

Bu bilgilere göre Hz. Ömer döneminde hangi alanda düzenleme yapıldığı söylenemez?

- A) Hukuk
- B) Ekonomi
- C) Askeri
- D) Siyasi

16) Orta Asya Türk devletlerinin kısa sürede yıkılmasının en önemli nedeni, aşağıdakilerden hangisidir?

- A) Kavimler Göçü
- B) Moğol istilası
- C) Çin entrikaları
- D) Geçim kaynakları

20) Dünyamız 24 saatte 360 meridyenlik dönüş yapar.

Buna göre dünyamız 1 saatte kaç meridyenlik dönüş yapar?

- A) 10
- B) 15
- C) 20
- D) 25

17) Aşağıdakilerden hangisi Türk- İslam devletlerinde mezar olarak kullanılmıştır?

- A) Türbe
- B) Çadır
- C) Piramit
- D) Saray


18) Türkiye kaç yarımadadan oluşmaktadır?

- A) 1
- B) 2
- C) 3
- D) 4

19) Aşağıdakilerden hangisi Kavimler Göçü'nün sonuçlarından biridir?

- A) Roma İmparatorluğunun kurulması
- B) Türklerin İslamiyet'i kabul etmesi
- C) Türklerin Anadolu'ya yerleşmesi
- D) Feodalitenin doğması

1)



Şekilde halat çekme yarışı yapan Ayhan ve Fevzi'nin dengede kalabilmesi için hangisinin çekme yönüne kaç N'luk kuvvet eklenmelidir?

- A) Ayhan'a, 30 B) Fevzi'ye, 30
C) Ayhan'a, 60 D) Fevzi'ye, 60

2) Havalarda soğumasına bağlı olarak hastalanan Talha grip olmuştur. Buna bağlı olarak Talha'nın kanındaki sayısı artmıştır.

Yukarıda boş bırakılan yere aşağıdakilerden hangisi gelmelidir?

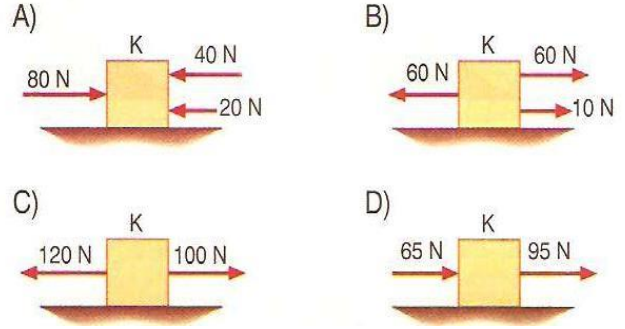
- A) alyuvar B) kan pulcukları
C) akyuvar D) plazma

3) Aşağıdakilerden hangisinde karasal yapıda bulunan gezegenler birlikte verilmiştir?

- A) Merkür, Venüs, Dünya, Mars
B) Dünya, Mars, Jüpiter, Neptün
C) Jüpiter, Satürn, Uranüs, Neptün
D) Merkür, Mars, Venüs, Uranüs

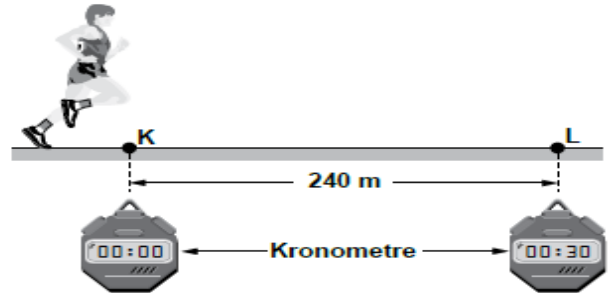
4)

Aşağıdaki durumların hangisinde, bir cisme etki eden bileşke kuvvet en küçüktür?



5)

Sabit süratle koşmakta olan bir sporcu, şekildeki gibi K noktasından geçerken kronometre çalıştırılıyor ve L noktasından geçerken durduruluyor.



Kronometre 30 saniyeyi gösterdiğine göre, sporcunun sürati kaç m/s'dir?

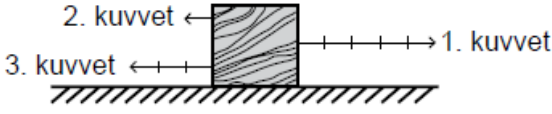
- A) 14 B) 12 C) 10 D) 8

6) Aşağıdakilerden hangisi halk arasında çoban yıldızı olarak bilinir ?

- A) MERKÜR
B) MARS
C) VENÜS
D) JUPİTER

7)

Yatay ve sürtünmesiz düzlemde duran tahta bloğa aynı doğrultulu ve eşit bölmelendirilmiş 1, 2. ve 3. kuvvetler aynı anda uygulanıyor.



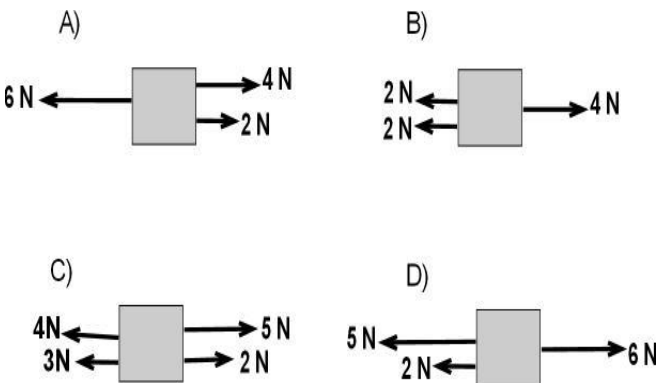
Buna göre, bloğa uygulanan net (bileşke) kuvvet aşağıdakilerden hangisi ile gösterilir?

- A) \rightarrow B) \leftarrow C) $\rightarrow\rightarrow$ D) $\leftarrow\leftarrow$

8) Bütün besinlerimizin kimyasal sindirimini yapan, enzimleri üreten sindirime yardımcı organımız aşağıdakilerden hangisidir?

- A) Güneş B) Pankreas
C) Akciğerler D) Beyin

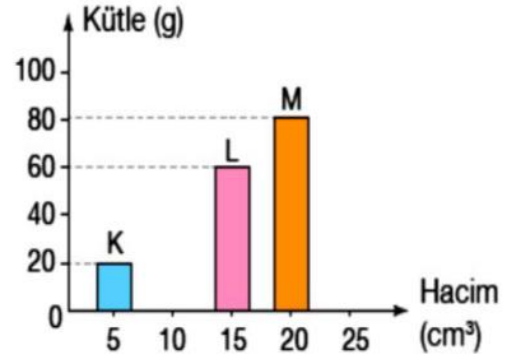
9) Aşağıdaki cisimlerden hangisi dengelenmiş kuvvetlerin etkisinde değildir ?



10) Aşağıdaki özelliklerden hangisi Güneş tutulması ve Ay tutulması için benzerdir ?

- A) Güneş, Dünya ve Ay aynı doğrultuda olduğunda gözlenir.
B) Dünya, Güneş ile Ay arasındadır.
C) Birkaç saat gözlenebilir.
D) Dünya'da gündüz yaşanan sürelerinde gözlenir.

11)



K, L ve M maddelerine ait kütle-hacim grafiği yukarıda verilmiştir.

Buna göre K, L ve M maddelerinin yoğunluk sıralaması aşağıdakilerden hangisidir?

- A) $M > L > K$ B) $K > L > M$
C) $M > K = L$ D) $K = L = M$

12) Aşağıda büyük kan dolaşımında izlenen yollar karışık olarak verilmiştir.

- 1- Aort atardamarı
- 2- Sol karıncık
- 3- Alt ve üst ana toplardamar
- 4- Vücut
- 5- Sağ kulakçık

Buna göre, büyük kan dolaşımında izlenen yolu sırasıyla söylemek isteyen Mustafa'nın cevabı aşağıdakilerden hangisinde doğru verilmiştir?

- A) 1 – 4 – 2 – 5 – 3 B) 2 – 1 – 4 – 3 – 5
C) 5 – 3 – 4 – 2 – 1 D) 2 – 4 – 1 – 5 – 3

13) Bir koşucu olimpiyatlarda 600 metrelik mesafeyi 30 m/s sürat ile koşarak rekor kırdığına göre bu koşucu yolu kaç saniyede bitirmiştir ?

- A) 50 B) 40 C) 30 D) 20

14)

Kişi	Kan Grubu	Rh
Veli	B	+
Buket	O	+
Murat	B	-
İbrahim	O	+
Ahmet	AB	-

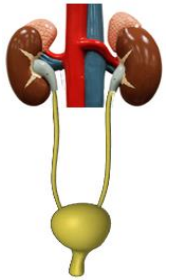
Tabloda kan grupları verilen kişiler arasında gerçekleşecek olası kan nakilleri için hangisi söylenebilir?

- A) Veli, Murat'tan kan alabilir.
B) İbrahim, Buket'e kan verebilir.
C) Ahmet, Veli'den kan alabilir.
D) İbrahim, Buket'ten kan alamaz.

15) İskelet sisteminin görevleri ile ilgili aşağıdakilerden hangisi yanlıştır?

- A) Vücudun dik durmasını sağlamak
B) Vücuda genel şeklini vermek
C) Vücut ısını korumak
D) Bazı iç organları korumak

16) Şekilde insandaki boşaltım sistemi organları modeli gösterilmiştir. Aşağıdaki sorulardan hangisinin cevabı bu model üzerinde gösterilemez?



- A) İdrarı vücuttan dışarı atan yapı hangisidir?
B) Kan içindeki zararlı atıkları ve üreyi süzerek idrarı oluşturan yapı hangisidir?
C) İdrarın vücuttan atılmadan önce bir süreliğine depolandığı yapı hangisidir?
D) Proteinlerin sindirilmesi sonucu oluşan zehirli maddeyi üreye çeviren organ hangisidir.

17) “ ? Benim fiziksel sindirimim ve kimyasal sindirimim ağızda başlar.” Yukarıdaki soru işareti olan yere aşağıdakilerden hangisi gelir?

- A)Proteinler
B)Yağlar
C)Karbonhidratlar
D)Sıvılar

18) Aşağıdaki cümlelerden hangisi yanlıştır ?

- A) Sıvı maddeler titreşim hareketi yapar.
- B) Gaz maddeler sıkıştırılabilirler.
- C) Bütün maddeler taneciklerden oluşmuştur.
- D) Katı maddeler öteleme hareketi yaparlar.

19) Kanda bulunan karbondioksit ve havada bulunan oksijen vücudumuzda hangi yapı veya organda yer değiştirir ?

- A) Bronşlar
- B) Alveoller
- C) Soluk borusu
- D) Bronşçuklar

20) Küçük besinler hücre zarından geçebilirken büyük besinler geçemezler. Büyük besinlerin hücre zarından geçebilecek kadar küçük parçalara ayrılmasına sindirim denir.

Aşağıdaki besin çeşitlerinden hangileri sindirime uğramadan hücreye girebilir?

- A) Yağ – Su
- B) Protein – Mineral
- C) Vitamin – Mineral
- D) Karbonhidrat – Su

1) Lucy: Let's go to a restaurant for the dinner.

Tim: I think it is a good idea.


Which of the following is NOT suitable for the blank above?

- A) I'm full. B) I'm hungry.
C) Let's go. D) It sounds great.

2) I hate bumper cars. I think they are

Which of the following is suitable for the blank above?

- A) interesting B) boring
C) crazy D) exciting



3) The weather on is hotter than the weather on Tuesday.

- A) Thursday B) Monday
C) Wednesday D) Sunday

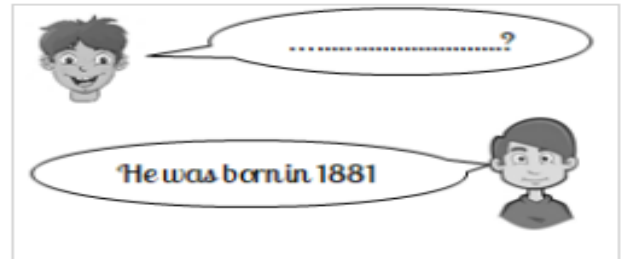
4) Teacher: ?

Mark: Architect. I love drawing and designing.

Which of the following completes the dialogue?

- A) What is your dream job
B) Why are you an architect
C) What does an architect do
D) What is your sister's dream job

5)



Which of the following completes the dialogue?

- A) Where were you born?
B) When were you born?
C) When was Atatürk born?
D) Where was Einstein born?

6) Last week is cold but today, it hot and sunny.

Which of the following completes the dialogue?

- A) was/was B) was/is
C) is/was D) is/is

7) I was at the cinema

Which of the following is NOT suitable for the blank above?

- A) five days ago B) yesterday
C) last night D) now




Answer questions 9-11 according to the poster

9) There is no information about the

- A) price B) date
C) place D) time

10) What time does it open?

- A) on April 3rd
B) at eight
C) at half past eight
D) on April 10th

 John	Activities	Time
get up		11:00
have a big breakfast with the family		11:30
attend piano course		13:00
go to cinema with friends		15:00
feed the pet		17:00
have dinner at grandparents'		18:00
read book		21:00
go to bed		22:00

8) Which one is true according to the chart?

- A) He gets up at nine p.m.
B) He feeds the pet before breakfast.
C) He reads book after he goes to bed.
D) He has dinner at his grandparents at six p.m.

11) You can't ride at the fun fair.

- A) roller coaster B) bumper cars
C) carousel D) ferris wheel

12)



Ali : What activities do you do after school ?
Furkan :
.....

Complete the dialog according to the picture above .

- A) I get up at 7 in the morning
- B) It's on 20 August 2005
- C) I play basketball with my friends and take a nap.
- D) He runs errands.

13)



Ceyda : Sibel is turning 14.
Elisa : Is she? - - - -?
Filiz : It's on 24 March.

Complete the dialog.

- A) When is her birthday
- B) What time is her birthday party
- C) What's the date today
- D) Where is her birthday party

14) Mom : - - - -?

Dad : No, she isn't. She is swinging in the playground.

Which option completes the dialog above?

- A) Where is Melissa
- B) Is Melissa taller than her friend
- C) Is Melissa feeding the dog
- D) Who is Melissa talking to

15)

Carol's Daily Activities	
Activity	Time
get up	8:25 a.m.
have breakfast	9:00 a.m.
go to school	9:20 a.m.
arrive home	4:30 p.m.
play volleyball	5:00 p.m.
rest	6:15 p.m.
do homework	8:00 p.m.
go to bed	9:45 p.m.

Which option is NOT correct according to the table above?

- A) Carol gets up in the morning.
- B) Carol plays volleyball after she arrives home.
- C) Carol has breakfast before school.
- D) Carol does her homework and then rests.

16)

Yağmur : Hi! Elif. Where are you?

Elif : Hi, Yağmur. I'm in Antalya. I'm on holiday.

Yağmur : Really, - - - -?

Elif : Yes, I am. Antalya is beautiful, and it's warmer than Siirt.

Yağmur : Great! - - - -?

Elif : Yes, they are.

Yağmur : - - - -?

Elif : They are swimming right now. Can you believe it?

Yağmur : Wow. It's very cold here in Siirt.

Which question can NOT Linda ask Emma?

- A) are you enjoying it
- B) Are your parents there
- C) What are they doing now
- D) Are there any swimming pools there?

17)

Janet : - - - -?

Justin : Yes, I do sometimes. I just turn on the TV and watch something enjoyable on rainy days.

Janet : Oh. Let's do it now because it's raining.

Justin : Great idea.

Which option best completes the dialog above?

- A) Do you feel depressed on rainy days, too
- B) Why are you so depressed
- C) Is it rainy now
- D) How do you feel on rainy days

17)



Phillip : Phillip speaking.

Linda : Hello, Phillip. This is Linda. How are you?

Phillip : Hi, Linda. I feel sad.

Linda : That's bad. - - - -?

Phillip : Because it's rainy and cold. - - - - in your city?

Linda : It's warm and sunny.

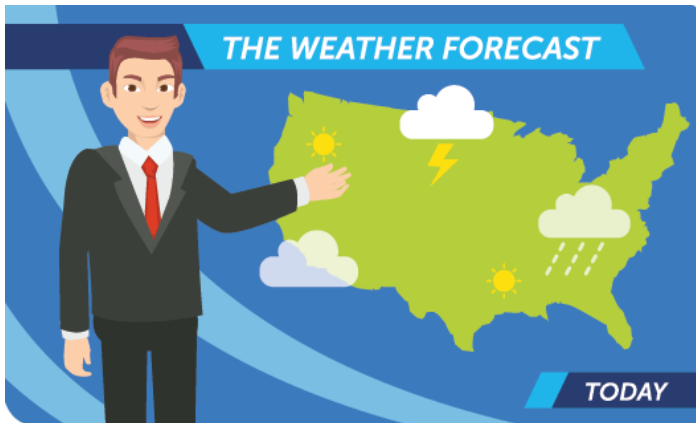
Phillip : That's good. - - - -?

Linda : I feel better and energetic on sunny days.

Which question does NOT complete the dialog?

- A) Why are you upset
- B) What's the temperature
- C) What's the weather like
- D) How do you feel on sunny days

Answer the questions 19 and 20 according to the weather forecast below.



Good morning! Here is the weather forecast for today. In the south, the weather is hot and sunny. There is a chance of some rain in the evening. The temperature is 28 degrees Celsius. In the north, I can say don't forget your umbrellas because it's rainy and windy. The temperature is about 18 degrees Celsius. The west of the country is partly cloudy. Also, you can see some fog. So, you may feel upset in the west. The temperature is about 10 degrees Celsius. In the east of the country, you may feel scared and anxious because it's stormy and cold. The weather is about 6 degrees Celsius.

19) Which option is NOT correct?

- A) You need your thick clothes in the south.
- B) The north part of the country is rainy and windy.
- C) It's foggy in the west according to the forecast.
- D) You need your jacket and gloves in the east

20. Which part of the country is hotter?

- | | |
|----------|----------|
| A) North | B) South |
| C) East | D) West |

'Biz de onun duasını kabul ettik ve kendisine Yahya'yı başışladık. Eşini de kendisi için, (doğurmaya) elverişli kıldık. Onlar gerçekten hayır işlerinde yarışılar, (rahmetimizi) umarak ve (azabımızdan) korkarak bize dua ederlerdi. Onlar bize derin saygı duyan kimselerdi. '

(Enbiya suresi, 90.ayet)

1) Yukarıdaki ayette bahsedilen, duası kabul edilen peygamber aşağıdakilerden hangisidir?

- A) Hz. Zekeriya
- B) Hz. İsa
- C) Hz. İbrahim
- D) Hz. Muhammed

2) Aşağıda verilen ayetlerden hangisi peygamberlerin beşeri yönü ile ilgili değildir?

- A) Andolsun senden önce de peygamberler gönderdik ve onlara da eşler ve çocuklar verdik. Allah'ın izni olmadan hiçbir peygamber için mucize getirme imkânı yoktur. Her müddetin (yazıldığı) bir kitap vardır. (Rad suresi 38)
- B) Biz onları (peygamberleri), yemek yemez birer (cansız) ceset olarak yaratmadık. Onlar (bu dünyada) ebedî de değildirler. (Enbiya suresi 8)
- C) Peygamberleri onlara dediler ki: (Evet) biz sizin gibi bir insandan başkası değiliz. Fakat Allah nimetini kullarından dilediğine lütfeder... (İbrahim suresi 11)
- D) Müşrikler istemeseler de dinini bütün dinlere üstün kılmak için Peygamberini hidayet ve hak ile gönderen O'dur. (Saf suresi 9)

'İman edip de hicret edenler, Allah yolunda mallarıyla, canlarıyla cihat edenler ve **barındırıp yardım edenler** var ya, işte onların bir kısmı diğer bir kısmının dostlarıdır. İman edip de hicret etmeyenlere gelince, onlar hicret edinceye kadar size onların mirasından hiçbir pay yoktur. Eğer onlar din hususunda sizden yardım isterlerse, sizinle aralarında sözleşme bulunan bir kavim aleyhine olmaksızın (Müslümanlara) yardım etmek üzerinize borçtur. Allah yapacaklarınızı hakkıyla görmektedir.' (Enfal suresi 72.ayet)

3) Verilen ayette altı çizili olarak belirtilen ifadelerin anlamları aşağıdakilerden hangisidir?

- A) Ensar –Muhacir
- B) Müşrik – Ensar
- C) Muhacir –Ensar
- D) Muhacir – Münafık

4) 'Yaratan Rabbinin adıyla oku! O, insanı bir aşılantmış yumurtadan yarattı. Oku! Senin Rabbin en cömert olandır. O, kalemle yazmayı öğretendir, insana bilmediğini öğretendir. '(Alak suresi 1-5.ayet)

Ayete göre aşağıdakilerden hangisinden bahsedilmemiştir?

- A) İlimin önemi
- B) İnsanın diğer canlılardan farkı
- C) Yaratana tanımak
- D) Son peygamberin Hz. Muhammed(s.a.v) olduğu

Kelime olarak haber verme anlamındadır. Terim olarak peygamberlik, nebilik, elçilik anlamına gelir. Allah'ın (c.c) gönderdiği vahiyleri emir ve yasakları alıp insanlara dinin gerçeklerini duyurma; söz tutum ve davranışlarıyla açıklama makamı olan peygamberlik görevidir.

5) Yukarıda ifade edilen kavram aşağıdakilerden hangisidir?

- A) Rahmet
- B) Hilye-i Şerif
- C) Nübüvvet
- D) İhlas

6) Aşağıda verilen eşleştirmelerden hangisi yanlıştır?

- | | |
|--------------------|-------------------------------------|
| A) Rabbena duaları | Sadece sabah namazında okunur. |
| B) Fatiha suresi | Namazın her rekatında okunur |
| C) Sübhaneke duası | Allahu ekber dedikten sonra okunur. |
| D) Kunut duaları | Vitir namazında okunur |



Kütahya'da sürücüsü kontrolünden çıkan otomobil, şarampole yuvarlandı. Otomobilde sıkışarak yaralanan sürücü, itfaiye ve sağlık ekiplerince kurtarılıp hastaneye kaldırıldı. Yaralı sürücünün 2.20 promil alkollü olduğu belirlendi.

7) Gazetede yer alan bu haberle ilgili aşağıdakilerden hangisi çıkarılamaz?

- A) İnsanın sağlıklı düşünmesini engeller.
- B) Trafik kazalarına yol açar.
- C) Çevresine zarar vermez.
- D) Maddi ve manevi kayıplara yol açar.



Boyun bükme, eğilmek anlamına gelir. Namazda ise, kulun Rabbi karşısındaki duruşunu simgeler. Onun emirlerine karşı başı eğik, yasaklarına karşı boynu bükük, bütün benliğiyle ona karşı tevazu ve alçak göllülük içerisinde olma halidir.

8) Verilen bilgilere göre namazın rükünlerinden hangisinden bahsedilmektedir?

- A) İftitah Tekbiri
- B) Ruku
- C) Kıyam
- D) Kıraat

9) Aşağıdakilerden hangisi abdestin farzlarından değildir?

- A) Yüzü yıkamak
- B) Ayakları yıkamak
- C) Başı mesh etmek
- D) Ağza su vermek

10) Aşağıdakilerden hangisi Tebbet suresi ile ilgili doğru bilgi değildir?

- A) Mekke döneminde inmiştir.
- B) Amcası Ebu Talip ve karısından bahsedilir.
- C) 5 ayettir.
- D) Karısı ile birlikte peygamberimize kötü davrandıkları için inmiştir.

11) Aşağıdakilerden hangisi Mekke döneminde meydana gelen olaylardan biri değildir?

- A) Taif yolculuğu
- B) Mescidi Nebinin yapılması
- C) 2.Akabe biatı
- D) İlk vahyin gelmesi

I.O, salihlerden olarak beşikte iken ve yetişkinlik halinde insanlara (peygamber sözleri ile) konuşacak.(Ali İmran suresi 46)

II. Biz, oğluna bedel ona büyük bir kurban verdik. Geriden gelecekler arasında ona (iyi bir nam) bıraktık... (Saffat suresi 107)

III.Musa (çölde) kavmi için su istemişti de biz ona: Değneğinle taşla vur! demiştik. Derhal (taştan) on iki kaynak fışkırdı. Her bölük, içeceği kaynağı bildi...(Bakara suresi 60)

12) Yukarıda verilen ayetlerde peygamberlerin hangi özelliklerinden bahsedilmektedir?

- A) Günahsız olmaları
- B) Güvenilir olmaları
- C) Mucize gösterebilmeleri
- D) Allah'tan(c.c) vahiy almaları

'Gündüzün güneş dönüp gecenin karanlığı bastırınca kadar (belirli zamanlarda) namaz kıl; bir de sabah namazını. Çünkü sabah namazı şahitlidir.' (İsra suresi 78)

13) Yukarıda verilen ayette namazın farzlarından hangisine değinilmektedir?

- A) Niyet
- B) Vakit
- C) Secde
- D) Kıraat



14) Öğretmenin cemaatle namaz konusunu anlattıktan sonra bu resmi öğrencilere gösterdiğinde hangi cevabı vermeleri beklenmez?

- A) Tahiyat duası okunmaktadır.
- B) Cemaatle namaz kılınmaktadır.
- C) Farz namazı kılınmaktadır.
- D) Fatiha suresi okunmaktadır.



15) Zeynep Öğretmen yukarıdaki afişi öğrencilere göstermiş ve zararlı alışkanlıklar konusunda öğrencilere bilgiler vermiştir. Daha sonra öğrencilerden bu konu ile ilgili ayetler bulmalarını istemiştir.

Aşağıdaki ayetlerden hangisi örnek olarak değerlendirilemez?

A) ... Kötülüklerin açığına da gizlisine de yaklaşmayın...(Enam Suresi 151)

B) Sana içkiyi ve kumarı sorarlar. De ki: "Onlarda hem büyük günah, hem de insanlar için (bazı zahiri) yararlar vardır. Ama günahları yararlarından büyüktür...(Bakara suresi 219)

C) Dünya hayatı ancak bir oyun ve bir eğlencedir. Elbette ki ahiret yurdu Allah'a karşı gelmekten sakınanlar için daha hayırlıdır. Hâlâ akıllanmayacak mısınız.(Enam suresi 32)

D) Şeytan, içki ve kumarla, ancak aranızda düşmanlık ve kin sokmak; sizi Allah'ı anmaktan ve namazdan alıkoymak ister. Artık vazgeçiyor musunuz? (Maide suresi 91)

'Biz Nûh'a ve ondan sonra gelen peygamberlere vahyettiğimiz gibi, sana da vahyettik. İbrahim'e, İsmail'e, İshak'a, Yakub'a, torunlarına, İsa'ya, Eyyüb'e, Yûnus'a, Hârûn'a ve Süleyman'a da vahyetmiştik. Davûd'a da Zebûr vermiştik.' (Nisa suresi 163)

16) Ayette adı geçen peygamberlerden hangisine kutsal kitap gönderilmiştir?

A) Eyyüb

B) Yunus

C) Nuh

D) İsa

'Kendisine ayetlerimizden bir kısmını gösterelim diye kulunu (Muhammed'i) bir gece Mescid-i Haram'dan çevresini bereketlendirdiğimiz Mescid-i Aksa'ya götüren Allah'ın şanı yücedir. Hiç şüphesiz o, hakkıyla işitendir, hakkıyla görendir.' (İsra suresi 1)

17) Ayette bahsedilen olay aşağıdaki şıklardan hangisinde doğru verilmiştir?

A) Hicret

B) Taif yolculuğu

C) Miraca yükselme

D) Akabe biatları

Kunut sözlükte; ibadet, boyun eğme, itaat, saygı gibi anlamlara gelir. Zor durumda kalan kulun, derdini dua ederek Yüce Allah'a açması ve ondan yardım dilemesidir. Kunut duaları vitir namazında okunur. Son rekatinde tekbir alındıktan sonra okunur. Peygamberimizden öğrendiğimiz dualardandır.

18) Yukarıda verilen bilgiye göre aşağıdakilerden hangisine ulaşamaz?

- A) Kunut dualarının ne zaman okunduğuna
- B) Hangi namazda okunduğuna
- C) Kunut'un ne anlama geldiğine
- D) Kuran'da hangi surede yer aldığına

19) Hanefi mezhebine göre namazlar farz, vacip ve nafile olmak üzere 3 hükmü vardır. Buna göre aşağıdaki namazlardan hangisi hüküm yönüyle diğerlerinden farklıdır?

- A) Cenaze namazı
- B) Kurban bayramı namazı
- C) Öğle namazı
- D) Cuma namazı

I.Andolsun, Allah, mü'minlere kendi içlerinden; onlara âyetlerini okuyan, onları arıtıp tertemiz yapan, onlara kitab ve hikmeti öğreten bir peygamber göndermekle büyük bir lütufta bulunmuştur. Oysa onlar, daha önce apaçık bir sapıklık içinde idiler. (Ali İmran suresi 164)

II. (Ey Muhammed!) Güçlü ve basiretli (keskin bir kavrayış yeteneği olan, aklını kullanmayı bilen) kullarımız İbrahim'i, İshak'ı ve Yakub'u da an.(Sad suresi 45)

III. Kitapta İbrahim'i de an. Gerçekten o, son derece dürüst bir kimse, bir peygamber idi.

20) Yukarıda verilen ayetlerde peygamberlerin hangi sıfatına değinilmemiştir?

- A) İsmet
- B) Fetanet
- C) Tebliğ
- D) Sıdk

CEVAP ANAHTARI

<u>TÜRKÇE</u>	<u>MATEMATİK</u>	<u>SOSYAL BİLGİLER</u>	<u>FEN BİLGİSİ</u>	<u>İNGİLİZCE</u>	<u>DİN KÜLTÜRÜ</u>
<u>1-D</u>	<u>1-C</u>	<u>1-B</u>	<u>1-B</u>	<u>1-A</u>	<u>1-A</u>
<u>2-C</u>	<u>2-B</u>	<u>2-A</u>	<u>2-C</u>	<u>2-B</u>	<u>2-D</u>
<u>3-B</u>	<u>3-C</u>	<u>3-D</u>	<u>3-A</u>	<u>3-A</u>	<u>3-C</u>
<u>4-C</u>	<u>4-B</u>	<u>4-C</u>	<u>4-B</u>	<u>4-A</u>	<u>4-D</u>
<u>5-A</u>	<u>5-A</u>	<u>5-B</u>	<u>5-D</u>	<u>5-C</u>	<u>5-C</u>
<u>6-B</u>	<u>6-D</u>	<u>6-A</u>	<u>6-C</u>	<u>6-B</u>	<u>6-A</u>
<u>7-D</u>	<u>7-C</u>	<u>7-D</u>	<u>7-A</u>	<u>7-D</u>	<u>7-C</u>
<u>8-C</u>	<u>8-D</u>	<u>8-D</u>	<u>8-B</u>	<u>8-D</u>	<u>8-B</u>
<u>9-A</u>	<u>9-B</u>	<u>9-C</u>	<u>9-D</u>	<u>9-A</u>	<u>9-D</u>
<u>10-C</u>	<u>10-C</u>	<u>10-B</u>	<u>10-A</u>	<u>10-C</u>	<u>10-B</u>
<u>11-D</u>	<u>11-D</u>	<u>11-D</u>	<u>11-D</u>	<u>11-A</u>	<u>11-B</u>
<u>12-A</u>	<u>12-B</u>	<u>12-D</u>	<u>12-B</u>	<u>12-C</u>	<u>12-C</u>
<u>13-B</u>	<u>13-C</u>	<u>13-B</u>	<u>13-D</u>	<u>13-A</u>	<u>13-B</u>
<u>14-A</u>	<u>14-C</u>	<u>14-C</u>	<u>14-B</u>	<u>14-C</u>	<u>14-A</u>
<u>15-D</u>	<u>15-B</u>	<u>15-D</u>	<u>15-C</u>	<u>15-D</u>	<u>15-C</u>
<u>16-D</u>	<u>16-C</u>	<u>16-C</u>	<u>16-D</u>	<u>16-D</u>	<u>16-B</u>
<u>17-C</u>	<u>17-A</u>	<u>17-A</u>	<u>17-C</u>	<u>17-A</u>	<u>17-C</u>
<u>18-B</u>	<u>18-D</u>	<u>18-B</u>	<u>18-D</u>	<u>18-B</u>	<u>18-D</u>
<u>19-B</u>	<u>19-B</u>	<u>19-D</u>	<u>19-B</u>	<u>19-A</u>	<u>19-B</u>
<u>20-A</u>	<u>20-D</u>	<u>20-B</u>	<u>20-C</u>	<u>20-B</u>	<u>20-A</u>

Çalışmada Emegi Geçen Öğretmenlerimiz

Ortaokul Koordinatörü Sancaklar Ortaokulu Müdürü
Bekir YEŞİL

Fatih Projesi İl Koordinatörü
Tarık IŞIKTAŞ

Bilişim Öğretmeni
Ruşen BAŞARI

Türkçe Öğretmeni
Hasan ERBEK
Netice TOPRAK
Leyla DALKIÇ

Matematik Öğretmeni
Kemal ECE

Sosyal Bilgiler Öğretmeni
Gurbet ELÇİ
Hüseyin BENEK
İsmail NAS

Fen Bilgisi Öğretmeni
Nevzat TOPRAKÇI

İngilizce Öğretmeni
Ahmet GÜNDÜZ

Din Kültürü Öğretmeni
Zeynep ÖNAL

Bu çalışma Siirt İl Milli Eğitim Müdürlüğü
Öğretmenleri tarafından hazırlanmıştır. Emeklerinden dolayı teşekkür ederiz...