



5. Sınıf

Haftalık Ödev

17-21 MAYIS



Siirt
İL MİLLÎ EĞİTİM MÜDÜRLÜĞÜ

[www.
siirt.meb.gov.tr](http://www.siirt.meb.gov.tr)



1) Aşağıdaki cümlelerin hangisinde “saklamak” sözcüğü “gizlemek” anlamında kullanılmıştır?

- A) Dondurmadan size de sakladım.
- B) Bu durumu herkesten saklıyordu.
- C) Altınlarını kasada saklıyormuş.
- D) Onunla geçen her günümü yüreğimde saklıyorum.

2) 1. Ali'nin espirileri ile ortam biraz ısındı.
2. Şömineyi yakınca oda ısındı.

Numaralandırılmış cümlelerde yer alan “ısınmak” sözcüğünün anlam özellikleri hangi seçenekte doğru verilmiştir?

1

2

- | | |
|-----------------|--------------|
| A) Mecaz anlam | Gerçek anlam |
| B) Gerçek anlam | Gerçek anlam |
| C) Gerçek anlam | Mecaz anlam |
| D) Mecaz anlam | Mecaz anlam |

3) Aşağıdaki kelimelerden hangisi terim anlamlıdır?

- A) Araba B) Nota C) Pencere D) Kitap

4) “Onun bu yeteneğini herkes ayakta alkışladı.”
Bu cümlede geçen “yetenek” kelimesinin eş anlamlısı aşağıdakilerden hangisidir?

- A) Azim
- B) Örnek
- C) Kabiliyet
- D) Sorumluluk

5) Aşağıdaki atasözlerinden hangisinde zıt (karşıt) anlamlı sözcükler bir arada kullanılmamıştır?

- A) Yakın komşu uzak akrabadan iyidir.
- B) Aza kanaat etmeyen çoğu bulamaz.
- C) Gülme komşuna gelir başına.
- D) Ak gün ağartır, kara gün karartır.

6) Aşağıdakilerden hangisinin sesteşi yoktur?

- A) Yüz B) Saz C) Güneş D) Çay

7) " Uğraştığı bir işle artık uğraşmaz olmak"
Yukarıda verilen cümle hangi deyim anlamıdır?

- A) El üstünde tutmak
- B) El ayak çekmek
- C) Dört elle sarılmak
- D) Dört elle sarılmak

8) Aşağıdakilerden hangisinde kişileştirme yapılmıştır?

- A) Ay suya seslendi tatlı tatlı
- B) Sana gitme demeyeceğim.
- C) Soğuk sularından içtim bu köyün.
- D) Neredesin ey sevdiğim yaz günleri nerde

9) 1- anaların 2- altındadır
3- cennet 4- ayakları

Numaralandırılmış sözcüklerle anlamlı ve kurallı bir cümle oluşturmak için sıralama nasıl olmalıdır?

- A) 3-1-4-2
- B) 2-3-1-4
- C) 3-4-1-2
- D) 1-4-2-3

10) "Çalışmak; sıkıntıyı,kötülüğü ve yoksulluğu uzaklaştırır."

Bu cümlede aşağıdakilerden hangisinin önemi vurgulanmıştır?

- A) Dostluğun
- B) Sabrın
- C) Çalışmanın
- D) Başarının

11) Aşağıdaki cümlelerin hangisinde amaç-sonuç ilişkisi vardır?

- A) Çocuk oyuncağı kırıldığı için ağlıyordu.
- B) Başım ağrıyor çünkü gece hiç uyuyamadım.
- C) Hızlı yürüdüğü için nefes nefese kalmıştı.
- D) İfade vermek için karakola gitti.

12) Aşağıdaki cümlelerin hangisinde sebep-sonuç anlamı vardır?

- A) Kar yağdığı için okula gidemedik.
- B) Ödevini yapmak için odasına gitti.
- C) Çok çalışırsan sınavı kazanırsın.
- D) Borçlarını ödemek için çok uğraşıyor.

13) Aşağıdaki cümlelerin hangisinde "abartma" anlamı vardır?

- A) İki saat içinde orada oluruz.
- B) Birkaç gün sonra yanına geliriz.
- C) Arkadaşlarımı çok seviyorum.
- D) Bir of çeksem karşıdaki dağlar yıkılır.

14) Aşağıdaki cümlelerden hangisi nesnel bir ifade taşır?

- A) Harika bir film izledik.
- B) Odanın sıcaklığı 15 dereceydi.
- C) Ülkemizin dört bir yanı çok güzel.
- D) En sevdiğim şehir Antalya'dır.

15) "Baş başa vermeyince taş yerinden oynamaz."

Bu atasözünde hangisi üzerinde durulmuştur?

- A) Birlik ve beraberliğin önemi
- B) Dünya barışı
- C) İnsanların mutluluğu
- D) Geleceğe umutla bakmanın faydaları

16) "İşlerimizin çoğunu bitirdik."

Yukarıdaki cümlede hangi ses olayı vardır?

- A) Ünlü düşmesi
- B) Ünsüz sertleşmesi
- C) Ünsüz yumuşaması
- D) Ünlü daralması

17) "Ev" sözcüğü aşağıdakilerin hangisinde farklı türde bir ek almıştır?

- A) Evler
- B) Evci
- C) Evsiz
- D) Evler

18) Aşağıdaki sözcüklerden hangisi kök halindedir?

- A) Kitaplık
- B) Kalp
- C) Çiçekçi
- D) Gösteri

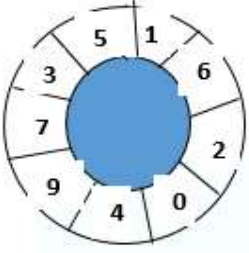
19) Aşağıdakilerden hangisinde yazım yanlışı vardır?

- A) Sakarya Savaşı
- B) Leyla ile Mecnun
- C) Öğretmenler günü
- D) İstanbul Boğazı

20) Atatürk () () Hayatta en hakiki mürşit ilimdir () ()

Yukarıdaki cümlede yay ayraçla belirtilen yerlere hangi noktalama işaretleri getirilmelidir?

- A) (-)(:)(.)(!)
- B) (:)(")(.(")
- C) (:)(")(?(")
- D) (-)(!)(!)(.)



- 1) Yukarıdaki çark 9 eş parçaya ayrılmıştır. Fatma öğretmen çarktaki bir rakamı gösterdiğinde o rakamdan başlanarak saat yönünde 9 basamaklı doğal sayıyı okumalarını istiyor.

Buna göre aşağıdaki okunuşlardan hangisi yanlıştır?

- A) Altı yüz yirmi milyon dört yüz doksan yedi bin üç yüz elli bir
B) Yedi yüz otuz beş milyon yüz altmış iki bin kırk dokuz
C) Doksan dört milyon iki yüz altmış bir bin beş yüz otuz yedi
D) Beş yüz on altı milyon iki yüz dört bin dokuz yüz yetmiş üç



(Kasa= 19 kg)



- 2) Her biri 19 kg olan kasaların içine elma konulacaktır. Üst üste 4 sıra , yan yana 25 sıra olan kasalara konulan toplam elma miktarı kaç kg'dır?

- A) 500 B) 1900 C) 2860 D) 380

- 3) Pelin hemşirenin çalıştığı hastane 14 katlıdır. Hastanenin her katında 14 oda, her odada da 14 yatak vardır.

Buna göre Pelin'in çalıştığı hastanedeki yatak sayısını veren ifade aşağıdakilerden hangisidir?

- A) 3^{14} B) $3 \times 14 \times 14$ C) 14^3 D) 3×14

- 4) $(4^3 - 2^2) + (3^2 - 1^3) = \blacktriangle$ ise;

\blacktriangle yerine yazılması gereken sayı kaçtır?

- A) 64 B) 11 C) 68 D) 13

- 5) Leyla'yı uzaktan eğitim videolarını izlerken gören ablası videoyu aşağıdaki noktada durdurup “ **Ondalık gösterimi 0,80 olan sayıyı kesir olarak yazdığımızda pay ve paydasına yazılabilecek sayılar nelerdir?** ” sorusunu soruyor.



Buna göre Leyla'nın verdiği cevaplardan hangisi yanlıştır?

- A) Pay: 80 Payda: 100
B) Pay: 8 Payda: 10
C) Pay: 40 Payda: 50
D) Pay: 10 Payda: 25

Aşağıdaki 10 eşit parçaya ayrılmış kare parçalarının üzerlerine sayılar yazılmıştır.

23	81	4	25	8
1	41	36	64	27

Bu sayılardan;

- Bir sayının karesine eşit olanlar **mavi** renge,
- Bir sayının küpüne eşit olanlar **yeşil** renge,
- Hem bir sayının karesine hem de bir sayının küpüne eşit olanlar **kırmızı** renge,
- Bir doğal sayının karesine veya küpüne eşit olmayanlar ise **siyah** renge boyanacaktır.

(NOT: 6 ve 7. sorular yukarıdaki bilgilere göre cevaplanacaktır.)

6) Tüm boyamalar yapıldıktan sonra mavi renge boyalı yerleri ifade eden kesir aşağıdakilerden hangisidir?

- A) $\frac{4}{10}$ B) $\frac{3}{10}$ C) $\frac{1}{5}$ D) $\frac{2}{10}$

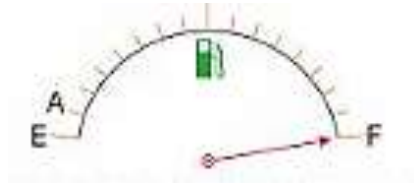
7) Tüm boyamalar yapıldıktan sonra **yeşil** renge boyalı yerleri ifade eden kesir ile **siyah** renge boyalı yerleri ifade eden **kesrin toplamı kaçtır?**

- A) $\frac{8}{10}$ B) $\frac{6}{10}$ C) $\frac{2}{5}$ D) $\frac{4}{8}$

8) Bir bölme işleminde **kalan 27** ve **bölüm 46** ise **bölünen en az kaçtır?**

- A) 1315 B) 1242 C) 1531 D) 2142

9) Aşağıda 160 litre depoya sahip bir arabanın eşit bölmelere ayrılmış yakıt göstergesi verilmiştir.



Yakıt göstergesi verilen arabanın deposu 640 liralık benzinle tam dolmaktadır. **Buna göre gösterge ibresi A noktasında olduğunda arabada kaç liralık benzin vardır?**

- A) 4 B) 12 C) 40 D) 10

10) Ecem öğle arası okulun kantininden aşağıdaki menüde bulunan dondurma ($\frac{28}{8}$ TL) ve tost ($\frac{4}{1}$ TL) almıştır.



Ecem'in geriye 2,375 TL 'si kaldığına göre başlangıçtaki parası kaç TL'dir?

- A) 15 B) 10 C) 5 D) 20

11) Aşağıda verilen eşitliklerden hangisi yanlıştır?

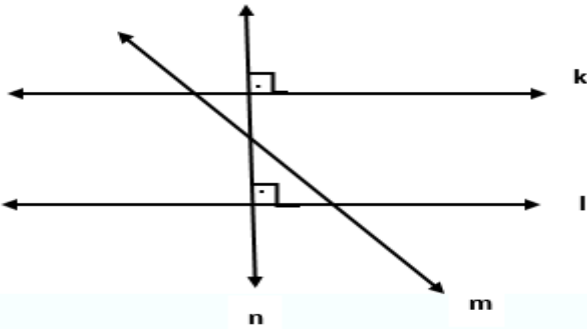
A) $\frac{25}{10} = \% 250$

B) $\frac{4}{5} = 0,8$

C) $\%25 = \frac{1}{4}$

D) $\frac{7}{20} = 0,30$

12) Aşağıdaki şekilde k,l,m,n doğrularının birbirine göre konumları verilmiştir.



Buna göre aşağıdakilerden hangisi kesinlikle doğrudur?

- A) k ve m doğruları birbirine diktir.
- B) m ve n doğruları birbirine paraleldir.
- C) k ve l doğruları birbirine paraleldir.
- D) m ve n doğruları birbirine diktir.



13) Derya, Elif ve Meryem pizza almıştır. Aldıkları pizzanın Derya $\frac{1}{3}$ ' ünü, Elif $\frac{2}{9}$ 'unu ve Meryem $\frac{5}{18}$ ' ini yemiştir.

Buna göre geriye pizzanın ne kadarı kalmıştır?

- A) $\frac{10}{18}$ B) $\frac{15}{18}$ C) $\frac{3}{18}$ D) $\frac{8}{18}$

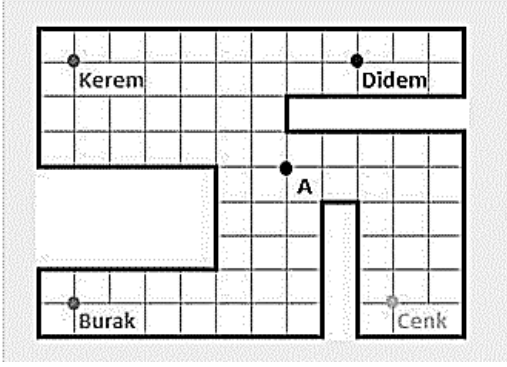
14)

- Binler basamağının sayı değeri yüzde birler basamağının sayı değerinden 2 fazladır.
- Birler basamağının basamak değeri onda birler basamağının basamak değerinden 3,1 büyüktür.

Bu bilgilere göre bu sayının ondalık gösterimi aşağıdakilerden hangisi olabilir?

- A) 41,167
B) 784,95
C) 57,36
D) 633,43

- 15) Farklı yerlerde oturan Kerem, Burak, Didem ve Cenk buluşmak için şekildeki **A noktasını** belirliyor.



Sadece çizgiler üzerinde hareket etmek şartıyla A noktasına en uzak mesafede bulunan kişiyi ve A noktasına olan uzaklığını ifade eden seçenek hangisidir?

- A) Kerem - 9 birim uzaklıkta
B) Didem - 15 birim uzaklıkta
C) Burak – 10 birim uzaklıkta
D) Cenk – 11 birim uzaklıkta

- 16) Ayşe ramazanda ihtiyacı olan ailelere dağıtmak için arkadaşlarıyla beraber 1512 kg pirinç almıştır. Aldıkları pirinci her biri 27 kg olan çuvallara dolduracaklardır.

Buna göre tüm pirinci eşit olarak paylaştırmaları için kaç çuvala ihtiyaçları vardır?

- A) 56 B) 47 C) 36 D) 54

Adım sayısı	1.adım	2.adım	3.adım	4.adım
1.örüntü	135	129	123	117
2.örüntü	5	9	13	17

Yukarıda belirli kurallara göre verilmiş olan örüntülerin kaçınıcı adımları birbirine eşittir?

- A) 10.adım
B) 21.adım
C) 14.adım
D) 8.adım

- 18) $6,247 < 6,2 \blacktriangle 9$

Yukarıda verilen sıralamanın doğru olması için \blacktriangle yerine yazılabilecek sayıların toplamı kaçtır?

- A) 39 B) 25 C) 35 D) 10

- 19) \blacktriangle ve \blacksquare sıfırdan farklı doğal sayılardır.

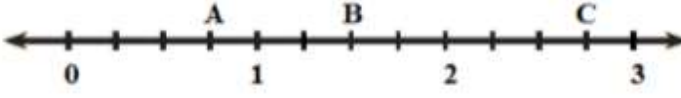
$\frac{\blacktriangle}{18}$ basit kesir ve bu kesrin en sade hali $\frac{\blacksquare}{6}$

ise;

$\blacktriangle \times \blacksquare$ işleminin sonucu aşağıdakilerden hangisi olabilir?

- A) 6 B) 48 C) 45 D) 27

- 20) Aşağıda eşit bölmeleri ayrılmış sayı doğrusu verilmiştir.



Bu sayı doğrusuna göre; $(A + B) - (C - B)$ işleminin sonucu kaçtır?

A) $3\frac{2}{4}$

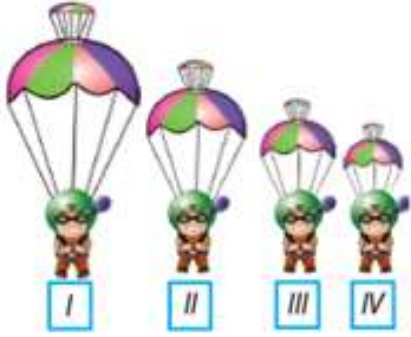
B) 1

C) $1\frac{3}{4}$

D) 2

1) Güneş'in gökyüzünde hareket ediyor gibi görünmesinin nedeni aşağıdakilerden hangisidir?

- A) Dünya'nın kendi eksenini etrafında dönmesi
- B) Ay'ın Dünya'nın etrafında dolanması
- C) Güneş'in dönme hareketi yapması
- D) Dünya'nın Güneş etrafında dolanması



2) Yerden yükseklikleri aynı olan yukarıdaki eşit kütleli paraşütçülerden hangisi daha uzun süre havada kalır?


- A) I
- B) II
- C) III
- D) IV

3) Bilim insanları, Dünya'dan Ay'ın düzenli olarak fotoğraflarını çekerek inceliyorlar. Bunun sonucunda Dünya'dan bakıldığında Ay'ın değişik şekillerde görüldüğünü ve bu görüntülerin düzenli olarak tekrar ettiğini tespit ediyorlar.

Bilim insanlarına göre bu durumun nedenlerinden biri aşağıdakilerden hangisi olabilir?

- A) Ay'ın kendi etrafında dönmesi
- B) Dünya'nın Ay'dan büyük olması
- C) Ay'ın Dünya etrafında dolanması
- D) Dünya'nın Ay'a yakın olması

4) Aşağıda bazı omurgalı hayvan türlerine ait resimler verilmiştir. Buna göre hangi hayvan farklı bir grupta yer almaktadır?



5) Oda sıcaklığında açıkta bırakılan yiyeceklerin çok kısa sürede tat ve kokularının değişerek bozulduğu gözlenmiştir.

Bu duruma sebep olan canlılar, hangi canlı sınıfına ait olabilir?

- A) Bitkiler
- B) Hayvanlar
- C) Mikroskopik canlılar
- D) Şapkalı mantarlar

6) Fatih Sultan Mehmet İstanbul'un fethinde gemileri karadaki tahta raylar üzerinde hareket ettirirken tahta raylara zeytinyağı döktürmüştür.

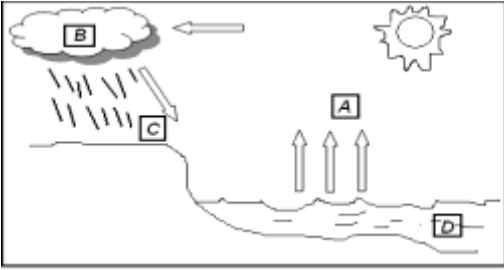
Fatih Sultan Mehmet'in rayları yağlatmasının sebebi hangisidir?

- A) Yerçekimini azaltmak
- B) Sürtünmeyi azaltmak
- C) Gemilerin paslanmasını artırmak
- D) Su direncini artırmak

- 7) Deniz boş şişe ile içinde su bulunan şişeye demir bilyeleri bıraktığında boş şişeye bıraktığı bilyenin şişenin dibine daha kolay ulaştığını görüyor.

Deniz bu deneyle ilgili ne söyleyebilir?

- A) Su direnci hava direncinden büyüktür.
B) Boş şişedeki bilyeye kuvvet uygulanmamıştır.
C) İçinde su olan şişeye bırakılan bilyeye yer çekimi uygulanmamıştır.
D) Su olan şişede sürtünme yoktur.



- 8) Yukarıdaki resimde harflerle numaralanmış bölgelerden hangisinde buharlaşma vardır?

- A) A B) B C) C D) D



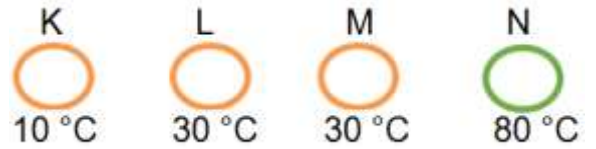
- 9) Emirhan evinde oyuncak arabası ile oynamaktadır. Arabanın hareket yönü yukarıda gösterilmiştir.

Bu arabaya etki eden sürtünme kuvvetinin yönü aşağıdakilerden hangisinde verilmiştir?

- A)  B) 
C)  D) 

- 10) Isı alışverişi ile ilgili aşağıda verilenlerden hangisi yanlıştır?

- A) Sıcaklıkları farklı olan maddeler arasında gerçekleşir.
B) Isı akışı soğuk maddeden sıcak maddeye doğru gerçekleşir.
C) Isı alışverişi sıcaklıklar eşitleninceye kadar devam eder.
D) Sıcaklıkları eşit olan maddeler arasında ısı alış verşi gerçekleşmez.



- 11) K, L, M ve N maddeleri için aşağıdakilerden hangisi yanlıştır?

- A) K ve L maddeleri arasında ısı alışverişinin yönü, L den K ya doğrudur.
B) L ve M maddeleri arasında ısı akış yönü, L den M ye şeklindedir.
C) K ve N maddeleri birbirine temas ettiğinde ısı alışverişi olur.
D) L ve N maddeleri arasında gerçekleşen ısı alış verşi sonucu son sıcaklık 55 °C olabilir.

- 12) Bitkilerin kök kısmı ile ilgili aşağıdakilerden hangisi yanlıştır?

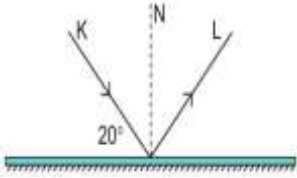
- A) Su ve mineral emilimini sağlar.
B) Bitkinin toprağa tutunmasını sağlar.
C) Bazı bitkilerin kökleri gelişmiş yapıdadır.
D) Bitkilerde solunum ve terleme yapar.



- 13) Deneye başlamadan önce metal bir küre delikten geçebiliyor. Metal küre, ısıtıcı ile bir süre ısıtıldığında delikten geçmediği görülüyor.

Bu deneyden aşağıdaki sonuçlardan hangisine ulaşılır?

- A) Maddeler soğutulduğunda büzülür.
- B) Maddeler ısıtıldığında genişler.
- C) Hacmi azalan maddeler genişler.
- D) Büzülen maddelerin hacmi artar.



- 14) Düz aynaya gönderilen ışının izlediği yol şeklindeki gibidir. **Buna göre;**

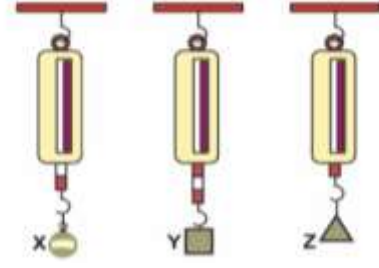
- I. Gelme açısı 20°'dir.
- II. K ışını yansıyan ışındır.
- III. Yansıyan ışın ile ayna arasındaki açı 20°'dir.

ifadelerinden hangileri doğrudur?

- A) Yalnız I
- B) Yalnız III
- C) I ve III
- D) I, II ve III

- 15) Yansıma kanunlarına göre hangisi **yanlıştır?**

- A) Gelen ışın, yansıyan ışın ve normal aynı düzlem üzerindedir.
- B) Gelme açısı, yansıma açısına eşittir.
- C) Gelen ışınla yüzey normali arasındaki açıya yansıma açısı denir.
- D) Normal üzerinden gelen ışınlar, normal üzerinden geri yansır.



- 16) X, Y ve Z cisimleri özdeş dinamometrelere asıldıklarında yaylardaki uzama miktarları şekildeki gibi oluyor.

Z cisminin ağırlığı 10 N olduğuna göre, X ve Y cisimlerinin ağırlıkları kaç N'dur?

	X	Y
A)	10	10
B)	20	30
C)	30	20
D)	40	30

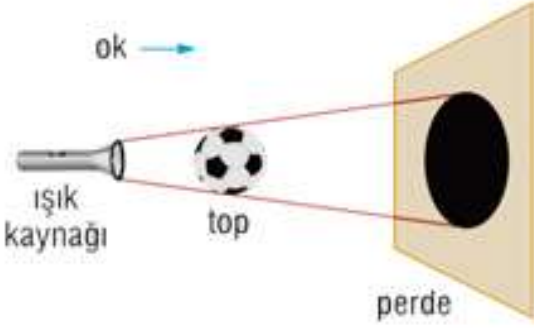
- 17) "..... , bitkinin üreme organıdır. Meyve ve tohumun oluşmasında görev alır." **cümlesinde boş bırakılan yere aşağıdakilerden hangisi yazılmalıdır?**

- A) Gövde
- B) Yaprak
- C) Kök
- D) Çiçek

Madde	Erime Noktası (°C)	Kaynama Noktası (°C)
I	0	80
II	-40	350
III	80	190
IV	-259	-253

- 18) Çizelgede erime ve kaynama noktaları verilen maddelerden hangisi 70°C'lik oda sıcaklığında katı halde bulunur?

- A) I
- B) II
- C) III
- D) IV

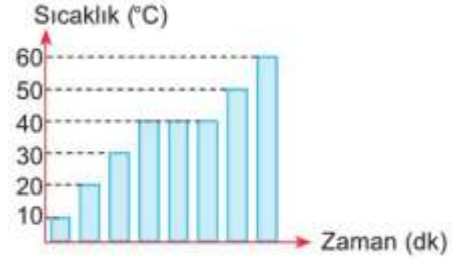


19) Şekildeki düzende ışık kaynağı top üzerine tutulduğunda topun perdede gölgesi oluşmuştur. **Buna göre,**

- I. Işık kaynağı
- II. Top
- III. Perde

hangisi tek başına ok yönünde hareket ettirilirse, gölge daha büyük olur?

- A) Yalnız I
- B) Yalnız II
- C) I ya da III
- D) II ya da III



20) Saf bir sıvının sıcaklık-zaman grafiği verilmiştir.

Buna göre bu sıvı ile ilgili;

- I. Kaynama sıcaklığı 40 oC'tir.
- II. Kaynama süresince sıcaklığı değişmemektedir.
- III. Ortama ısı vermektedir.

ifadelerinden hangileri doğrudur?

- A) Yalnız I
- B) I ve II
- C) II ve III
- D) I,II ve III

1) Aşağıda verilen rol - sorumluluk eşleştirmelerden hangisi yanlıştır?

ROL**SORUMLULUK**

- | | |
|------------|------------------------|
| A) Baba | Evin geçimini sağlamak |
| B) Doktor | Adaleti sağlamak |
| C) Öğrenci | Ödevlerini yapmak |
| D) Polis | Güvenliği sağlamak |

2) Çocuk hakları sözleşmesinde yer alan en önemli hak hangisidir?

- A) Eğitim hakkı
- B) Sağlıklı yaşama hakkı
- C) Yaşama hakkı
- D) Oyun oynama hakkı

3) Yazıyı bulan uygarlık aşağıdakilerden hangisidir?

- A) Lidyalılar
- B) Sümerliler
- C) Hititler
- D) Asurlular

4) Yazları sıcak ve kurak kışları ise ılık ve yağışlı geçen bir bölgede aşağıdaki iklim tiplerinden hangisi görülür?

- A) Karasal iklim
- B) Akdeniz iklimi
- C) Muson iklimi
- D) Karadeniz İklimi

5) Aşağıdakilerden hangisi doğal afetlerden biri değildir?

- A) Sel
- B) Deprem
- C) Heyelan
- D) Trafik kazası

6) Aşağıdakilerden hangisi ülkemizde nüfusun dağılışını etkileyen beşeri etkenlerdendir?

- A) Sanayi
- B) İklim
- C) Yer şekilleri
- D) Su kaynakları

7) Bir fiziki haritada kahverengi rengin fazlaca kullanılması o bölgenin hangi özelliğini gösterir?

- A) Karasal iklim tipinin görüldüğünü
- B) Ortalama yükseltisinin fazla olduğunu
- C) Tarımsal faaliyetlerin yapıldığını
- D) Orman örtüsünün zayıf olduğunu

8) Aşağıdakilerden hangisi milli bayramlarımız arasında yer alır?

- A) Cumhuriyet bayramı
- B) Nevruz bayramı
- C) Kurban bayramı
- D) Ramazan bayramı

9) Aşağıdakilerden hangisi kültürel öğelerimizden biri değildir?

- A) Bayramlarımız
- B) Türkülerimiz
- C) Düşünlerimiz
- D) Boğazlarımız

10) Urartular ölülerini oda biçiminde yaptıkları mezarlara gömmüşlerdir ve içine eşyalar koymuşlardır. **Buna göre bu durum aşağıdakilerden hangisinin göstergesidir?**

- A) Ölümden sonraki hayata (ahirete) inandıklarını
- B) Madencilikte ileri bir medeniyet olduklarını
- C) Astronomide gelişmiş bir medeniyet olduklarını
- D) Ölen kişileri çok sevdiklerini

11) Doğru ve güvenilir bir internet araştırması için yapılması gerekenler aşağıdakilerde hangisi olamaz?

- A) Ulaşılan bilgileri birkaç farklı siteden kontrol etmek
- B) Güvenirliliği daha önceden duyulmuş internet sitelerine yönelmek
- C) Her internet sitesinden alınan bilgiyi doğru kabul etmek
- D) Bilgilerin günceliğini kontrol etmek

12) Edison herkesin evinde kullanabileceği bir lamba yapmak istiyordu. Art arda yapılan 2000'den fazla deneyden sonra elektrik ışığını ampulün içinde yakmayı başarmıştır. Azmi ve bitmek bilmeyen denemeleri sayesinde insanoğluna lambayı kazandırmıştır.

Verilen metinde, bilim insanlarının hangi özelliği üzerinde durmuştur?

- A) Sabırlı
- B) Kararsız
- C) Aceleci
- D) Duyarsız

13) **Hava durumu:** Hava olaylarının kısa süreli olan durumudur.

İklim: Geniş bir alanda hava olaylarının uzun yıllar boyunca gösterdiği ortalama durumudur.

Buna göre aşağıdakilerden hangisi hava durumudur?

- A) Trabzon'un her mevsim yağışlı olması
- B) Akdeniz ikliminin Akdeniz kıyılarında görülmesi
- C) Doğu Anadolu Bölgesi'nin kış aylarında çok soğuk olması
- D) Yalova'da 21 Haziran'da hava sıcaklığının mevsim normallerinin üstüne çıkması

14) Okulumuz 5/B sınıfı öğrencilerinden Seher Covid-19 sebebiyle EBA üzerinden derslerini takip etmektedir.

Parçada Seher'in hangi çocuk hakkına vurgu yapılmıştır?

- A) Eğitim
- B) Sağlık
- C) Düşünce
- D) Yaşama

15) 24 Ocak 2020 tarihinde Elazığ'da meydana gelen 6.0 şiddetinde yaşanan can ve mal kaybına neden olan doğal afet aşağıdakilerden hangisidir?

- A) Heyelan
- B) Deprem
- C) Sel
- D) Çığ

16) Ülkemizde varlığını sürdüren yemek kültürü her yörenin ekonomik imkânlarını, geleneksel alışkanlıklarını, kendine has yemek hazırlama ve pişirme şekillerini yansıtır. Özel günlerde yapılan yemekler, geleneksel özelliklerini günümüzde de sürdürmektedir.

Aşağıdaki yemek yöre eşleştirmelerden hangisi yanlıştır?

- A) Siirt – Büryan
- B) Erzurum –Hamsi pilavı
- C) Adana--Kebap
- D) Mersin –Tantuni

17) Türkiye'nin her yerinde nüfus dağılımı eşit değildir.

Aşağıdaki alanlardan hangisinin nüfusunun yoğun (kalabalık) olması beklenir?

- A) Bataklık Alanlar
- B) Dağlık Alanlar
- C) Sanayi Bölgesi
- D) Çorak topraklar

18) Ahmet ve ailesi hafta sonu teknoloji mağazasından dizüstü bilgisayar aldı. Büyük bir heyecanla eve dönüp bilgisayarı kurdular. Fakat bilgisayarın ekranının kırık olduğunu fark ettiler.

Bu durumda Ahmet ve ailesinin ilk olarak aşağıdakilerden hangisini yapması beklenir?

- A) Mağazadaki satıcıyı bulup onu suçlamak
- B) Fiş veya Fatura ile mağaza yetkililerine başvurmak
- C) Şikayet dilekçesi ile tüketici haklarına başvurmak
- D) Ürünü değiştirmeden atmak

19) Karadeniz bölgesine yatırım yapmak isteyen Sinan Bey aşağıdakilerden hangisini yaparsa başarısız olur?

- A) Kereste fabrikası
- B) Balık konservesi fabrikası
- C) Un fabrikası
- D) Çay fabrikası

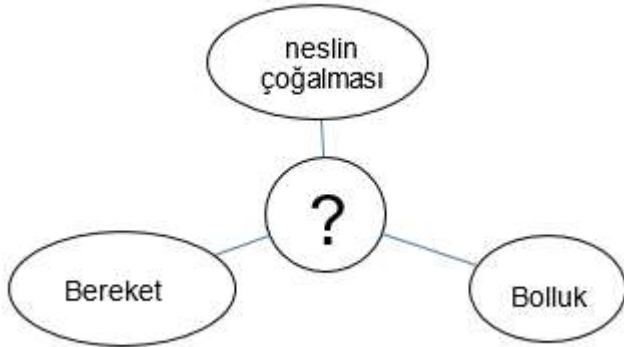
20) Aşağıdakilerden hangisi teknolojinin kullanımının zararlarından biridir?

- A) Zamandan tasarruf sağlandı
- B) Ulaşım hızlandı
- C) Hastalıklar daha kolay teşhis edildi
- D) İnsanlar arasındaki iletişim zayıfladı



- 1) Hamza dede hem yaşlılığı hem de hastalığı sebebiyle ramazan ayında oruç tutamamaktadır. **Sürekli hastalık ve yaşlılık gibi oruç tutmalarına engel bir mazereti bulunanların oruç tutamadıkları günler için ne yapmaları gerekmektedir?**

- A) Fıtır sadakası vermelidir.
B) Kurban kesmelidir.
C) Fidyeye vermelidir.
D) Namaz kılmalıdır.



- 2) Yukarıda ? yerine hangi Kur'an suresinin adı gelmelidir?

- A) Fatiha
B) Fil
C) Kevser
D) Tebbet



- 3) Yukarıdaki fotoğrafta gördüğünüz gibi ramazan ayında, camilerde iki minare arasında gerilen ipler üzerine kandillerle ya da ampulleriyle oluşturulan "Hoş geldin on bir ayın sultanı" gibi sözlerin yazıldığı ışıklı yazıyı yazılır.

Yukarıda özellikleri anlatılan ramazan geleneği hangisidir?

- A) Mahya
B) Mukabele
C) Cüz
D) Minber

Ayşe	Gece ve gündüzün peş peşe gelmesi
Fatma	Gezegenlerin kendi yörüngelerinde hareket etmesi
Mehmet	Güneşin her zaman doğudan doğması ve batıdan batması
Osman	Nehir sularının tatlı olması

Evren ve evrende var olan bütün varlıklar yüce yaratıcı tarafından bir düzen ve ölçü ile yaratılmıştır diyen din kültürü ve ahlak bilgisi öğretmeni Fatma hoca öğrencilerinden evrendeki bu düzene örnek vermelerini istemiştir. Öğrencileri de yukarıdaki gibi cevap vermişlerdir.

- 4) Yukarıdaki cevaplardan hangisi Fatma hocanın sorusu için doğru cevap değildir?

- A) Fatma B) Mehmet C) Ayşe D) Osman

Allah'ın bir ve tek olması, eşi ve benzerinin olmamasına Tevhit denir



5) Yukarıdaki sorulara doğru cevap veren Ebru kaçınıcı çıkışa ulaşır?

- A) Çıkış
- B) Çıkış
- C) Çıkış
- D) Çıkış

6) Kübra ramazan ayında oruç tutmak istemektedir. Annesi ise oruç tutmakla mükellef olmayan küçük çocukların oruca alışmaları için sabahtan öğlene ya da öğleden akşama kadar belli bir süre oruç tutmasını söylemiştir.

Yukarıda anlatılan oruç çeşidine verilen isim nedir?

- A) Kefaret orucu
- B) Nafile orucu
- C) Tekne orucu
- D) Kaza orucu

7) Bir kişinin bedeni, odası, elbisesi, eşyaları ve özel hayatının gizliliği demektir. Özel hayat, kişinin kendisine ait olup başkalarının girmesinin yasak olduğu alandır. Bu alana girmek hem dinimiz hem de gelenek ve göreneklerimiz açısından hoş karşılanmamaktadır. Özel hayatın korunması aynı zamanda bireyin kişilik haklarının ve insanlık onurunun korunmasıdır.

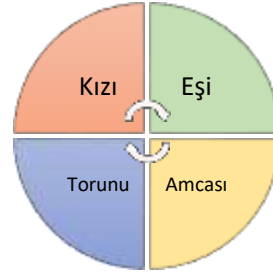
Yukarıda tanımı yapılan kavram aşağıdakilerden hangisidir?

- A) Mahremiyet
- B) Müsamaha
- C) Tevazu
- D) Feraset

islam dininin toplumsal yardımlaşmaya verdiği önemi gösterir	Bellirli bir düzeyin üzerinde geliri bulunan her müslüman için geçerlidir
?	
Ramazan ayında verilir ve aynı zaman da Fıtır sadakası da denir	Bir fakirin 1 günlük yiyecek ihtiyacının karşılanmasıdır

8) Yukarıda özellikler verilen ibadet aşağıdakilerden hangisidir?

- A) Fidyeye
- B) Sadaka
- C) Zekat
- D) Fitre



- Hz. Hatice
- Hz. Fatma
- Ebu Talip
- Hz. Ümame

9) Din Kültürü ve ahlak bilgisi öğretmeni Ayşegül Hoca Hz. Muhammed'in hayatını anlattığı derste öğrencilerinden yukarıdaki tabloyla yandaki isimleri eşleştirmelerini istemiştir. Aşağıdaki eşleştirmelerden hangisi doğrudur?

	Mavi	Kırmızı	Sarı	Yeşil
A)	Ebu Talip	Hız. Hatice	Hız. Ümame	Hız. Fatma
B)	Hız. Ümame	Hız. Fatma	Ebu Talip	Hız. Hatice
C)	Ebu Talip	Hız. Ümame	Hız. Fatma	Hız. Hatice
D)	Hız. Fatma	Hız. Hatice	Ebu Talip	Hız. Ümame

- 10) Ramazan ve oruç ünitesini bitiren Ayça Hoca öğrencilerine üniteyle alakalı sorular sormuş ve bazı cevaplar almıştır. Aşağıda öğrenciler ve verdikleri cevaplar tablo şeklinde verilmiştir.

Pelin	- Akşam ezanının okunmasıyla birlikte oruç açmak. -Sahur
Osman	- Ramazan ayında yeme ve içmenin sona erip orucun başladığı vakit -İmsak
Ebru	-Kültürümüzde eskiden zenginlerin iftara davet ettikleri kimselere vermiş oldukları hediye -Diş kirası
Adem	-Ramazan ayında imsak, iftar ve namaz vakitlerini gösteren çizelge. -İmsakiye

Yukarıdaki tabloda verilen cevaplardan hangisi yanlıştır?

- A) Ebru
B) Osman
C) Adem
D) Pelin

• Ramazan ayında kılınan bir namazdır.
• Genellikle 20 rekat olarak kılınır.
• Yatsı namazından sonra ve vitir namazından önce kılınır
• Cemaatle kılınabileceği gibi tek başına da kılınabilir.

- 11) Yukarıda özellikleri verilen namaz çeşidi aşağıdakilerden hangisidir?

- A) Kaza namazı
B) Farz namazı
C) Teravih
D) Bayram namazı

- İsrailoğullarına gönderilen bir peygamberdir.
- Kendisine Zebur adında bir kitap verilmiştir.
- Gür ve güzel sesiyle bilinir.
- Kendisinden sonra oğlu Hz. Süleyman da hem peygamberlik hem de yöneticilik yapmıştır.
- Demircilikle uğraşmıştır. Bu nedenle kedisine demircilerin piri denilmiştir.

- 12) Yukarıda özellikleri verilen peygamber aşağıdakilerden hangisidir?

- A) Hz. Yahya
B) Hz. Davut
C) Hz. Musa
D) Hz. İdris

- 13) Aşağıdakilerden hangisi duayla ilgili yanlış bir bilgidir?

- A) Sözlükte yalvarmak, seslenmek ve çağırmak gibi anlamlara gelir.
B) Dua Yalnızca Allah' a edilir.
C) Dua etmek için belli bir zamana ve mekâna ihtiyaç yoktur.
D) Dua sadece sözle yapılmalıdır.

14) Dünyaya ve evrene baktığımızda her şeyin bir düzen ve uyum içinde olduğunu görürüz. Canlı cansız bütün varlıklar arasında da muhteşem bir uyum vardır. Milyonlarca yıldır bu düzen devam etmektedir. Evrende Hiç bir uyumsuzluk hiçbir bozukluk yoktur. Bu da bize gösteriyor ki.....

Yukarıdaki metin aşağıdaki cümlelerin hangisiyle tamamlanamaz?

- A) Allah vardır ve birdir.
- B) Evrendeki bu düzeni Allah yaratmıştır.
- C) Allah her şeyi mükemmel yaratmıştır.
- D) Her şey kendiliğinden oluşmuştur.

D	Selam vermek bir nezaket kuralıdır.
Y	Temizliğin dinimizde önemli bir yeri vardır.
D	Dua Allah ile iletişime geçmektir.
Y	Her şeyi Allah yaratmıştır.

15) Ayşe Din Kültürü Ve Ahlak Bilgisi sınavında doğru- yanlış sorularına yukarıdaki gibi cevap vermiştir.

Ayşe doğru-yanlış sorularının yüzde kaçına doğru cevap vermiştir?

- A) %25
- B) %50
- C) %75
- D) %100

16) Nasrettin Hoca bir gün ceviz ağacının altında otururken kendi kendine şöyle demiş:” Yüce Rabb'im şu incecik ve küçük bitkide kocaman kabak yaratmışsın. Şu kocaman ağaçta da küçücük ceviz yaratmışsın. Kabakları ceviz ağacında, cevizleri de kabak bitkisinde yaratsan daha iyi olmaz mıydı?” demiş. Sözü biter bitmez hocanın kafasına bir ceviz düşmüş. Hoca bir anda kendini toparlamış ve:” Allah'ım affet her şeyin en iyisini sen bilirsin. Ya başıma düşen kabak olsaydı.” demiş.

Bu parçada anlatılmak istenen aşağıdakilerin hangisidir?

- A) Kabak cevizden daha ağırdır.
- B) Allah her şeyi yerli yerinde yaratmıştır.
- C) Bitkilerin büyümesi verimli toprak sayesinde.
- D) Evrende düzensizlik vardır.

17) Öğretmen:” Ramazan ayının sadece aç kalmak olmadığını bu ayda aç olan insanların halini anlayıp onlara yardımcı olmamız gerekiyor. Yoksullara maddi yardımda bulunmamız gerekir. Kim buna örnek vermek ister.”

Öğrencilerden hangisi yanlış örnek vermiştir?

- A) Ali: ”Arkadaşlarımızla pikniğe gitmek”
- B) Emel: ”Aç olan kişilere yiyecek yardımında bulunmak”
- C) Mehmet: ”Yoksullara fitre vermek”
- D) Ayşe: ”İhtiyacı olanlara elbise yardımında bulunmak”

- Ahmet'in Kantine sırasında arkadaşlarının önüne geçmesi
- Fatma'nın derslerine yardımcı olan arkadaşına teşekkür etmesi
- Ayşe'nin arkadaşlarını görünce selam vermemesi
- Hakan'ın arkadaşlarının sözünü bölmemesi

18) Yukarıdaki örneklerde nezaket kurallarına uyan kişiler hangileridir?

- A) Ahmet - Fatma
- B) Ayşe - Hakan
- C) Ahmet - Ayşe
- D) Fatma - Hakan

19) Peygamber efendimiz (s.a.v) ailesine karşı yumuşak huylu davranır, onlarla şakalaşır ve oyunlar oynardı. Bir karar vereceği zaman fikirlerini alır onlara da danıştırdı. Her zaman istekleri dinler onları kırmamaya özen gösterirdi. Örnek bir eş ve babaydı.

Yukarıdaki bilgiler aşağıdaki hangi sorunun cevabı olabilir?

- A) Hz.Muhammed (s.a.v)'in devlet adamlarıyla ilişkileri nasıldı?
- B) Hz.Muhammed (s.a.v)'in akrabalarıyla ilişkileri nasıldı?
- C) Hz.Muhammed (s.a.v)'in toplumla ilişkileri nasıldı?
- D) Hz.Muhammed (s.a.v)'in aile fertleriyle ilişkileri nasıldı?

20) Oruç ibadeti insanlara nefesine hakim olmayı, sabretmeyi, dirençli olmayı öğretir. Aç insanların çektiği sıkıntıları anlamamızı ve onlara yardımcı olmamız gerektiğini öğretir. Oruç ibadetinin gerçekleştiği ay on bir ayın sultanı Ramazan ayıdır ve bu ayın içinde bin aydan daha hayırlı olan, Kur'an-Kerim'in indirildiği Kadir gecesi bulunur. İnsanlar bu ayda daha fazla ibadet edip Kur'an okurlar.

Yukarıdaki bilgilerden aşağıdakilerden hangileri çıkarılabilir?

- I. Kur'an-ı Kerim Ramazan ayında indirilmiştir.
- II. Oruç bize sabretmeyi öğretir
- III. Oruç farz bir ibadettir.

- A) I –II
- B) II-III
- C) I-II-III
- D) I-III

1) Aşağıdakilerden hangisi boşluğa uygundur.

Tom: ?

Jack: I am from England.

- A) How are you?
- B) What is your name?
- C) Where are you from?
- D) What is this?

2) Aşağıdakilerden hangisi görseli ifade eder.



- A) police statiton
- B) restaurant
- C) hospital
- D) cinema

3) Aşağıdaki seçeneklerden hangisi boşluğa uygundur.



The apple is _____ the box.

- A) On
- B) in
- C) under
- D) ppposite

4) Aşağıdakilerden hangisi boşluğa uygundur.

Tom: _____ ?

Jack: My favorite lesson is English.

- A) Do you like pop music?
- B) What is your surname?
- C) What is your favorite lesson?
- D) Can you speak French?

5) Aşağıdakilerden hangisi resme göre doğrudur?



- A) He can't drive a bike
- B) He can't drive a car
- C) He can drive a bike
- D) He can drive a car

6) Aşağıdakilerden hangisi boşluğa uygundur.



We can _____ .

- A) A do puzzle
- B) play chess
- C) play hopscotch
- D) play tennis

7) Resimlere göre aşağıdakilerden hangisi doğrudur.



- A) P.E - English
- B) Art- Music
- C) Science- P.E
- D) Art- Social studies

8) Aşağıdaki seçeneklerden hangisi boşluğa uygundur.

Sally: Do you like playing guitar ?

Sue: Of course, _____

- A) I hate it
- B) I love it
- C) I don't like it
- D) I dislike it

9) Aşağıdakilerden hangisi boşluğa uygundur.



My brother has a hobby. He likes _____ .

- A) running
- B) dancing
- C) reading
- D) swimming

10) Aşağıdakilerden hangisi boşluğa uygundur?

Jack: _____ ?

Taner: Baseball, Soccer, Volleyball.

- A) Can you play hide and seek ?
- B) Do you like to go fishing ?
- C) What are your favorite sports ?
- D) What is your nationality ?

11) Aşağıdakilerden hangisi boşluğa uygundur?

Erce:

İsmail: No because there is no school.

- A) Do you get up early on Saturdays?
- B) What time do you get up on Monday?
- C) When do you go to guitar course?
- D) Where is your school?

12) Aşağıdakilerden hangisi boşluğa uygundur?

Sevinç: Do you your hair in the morning?

Ayça: Yes, of course I do.



- A) get
- B) comb
- C) come
- D) leave

13) Aşağıdakilerden hangisi boşluğa uygundur?

Emre:?

Ümit: I play computer games and watch TV.

- A) What is your favorite lesson?
- B) What time do you get up?
- C) Where does your mother work?
- D) What do you do at weekends?

14) Boşluğa uygun olan seçeneği işaretleyiniz.

Onur has got sore throat. He drink lemon and mint tea.



- A) shouldn't
- B) should
- C) can't
- D) don't

15) Boşluğa uygun olan seçeneği işaretleyiniz.

I have got aI shouldn't listen to loud music.

- A) headache
- B) toothache
- C) fever
- D) measles

16) Boşluğa uygun olan seçeneği işaretleyiniz.

Seda:

Gizem: I have a terrible earache

- A) When do you do your homework?
- B) What is your favorite activity?
- C) Why do you like tea?
- D) What is the matter with you?

17) Boşluğa aşağıdaki seçeneklerden hangisi gelmelidir?

Emircan:

Yusuf: It is an animation. I like it.



- A) What kind of movie is Shrek?
- B) Who is Shrek's best friend?
- C) What is your favorite movie?
- D) What is your favorite movie character?

18) Boş bırakılan yere aşağıdakilerden hangisi gelmelidir?

My favorite movie is Superman. He is so

- A) cheerful and happy
- B) evil and weak
- C) strong and brave
- D) polite and coward

19) Aşağıdakilerden hangisi boşluğa uygundur?

Ali: Let's go to Andera. We can watch 'Batman' in the cinema.

Ayşe: No, I it.

- A) love
- B) hate
- C) like
- D) enjoy

20) Aşağıdakilerden hangisi boşluğa uygundur?

Burcu: What type of movies do you watch?

Ufuk: I watch movies. They are funny.

- A) horror
- B) science fiction
- C) comedy
- D) action

CEVAP ANAHTARI					
TÜRKÇE	MATEMATİK	FEN BİLİMLERİ	SOSYAL BİL.	DİN KÜLTÜRÜ	İNGİLİZCE
1. B	1. C	1. A	1. B	1. C	1. C
2. A	2. B	2. A	2. C	2. B	2. B
3. B	3. C	3. C	3. B	3. A	3. A
4. C	4. C	4. C	4. B	4. D	4. C
5. C	5. D	5. C	5. D	5. A	5. D
6. C	6. A	6. B	6. A	6. C	6. B
7. B	7. C	7. A	7. B	7. A	7. D
8. A	8. A	8. A	8. A	8. D	8. B
9. A	9. C	9. B	9. D	9. B	9. B
10.B	10.B	10.B	10.A	10.D	10.C
11.D	11.D	11.B	11.C	11.C	11.A
12.A	12.C	12.D	12.A	12.B	12.B
13.D	13.C	13.B	13.D	13.D	13.D
14.B	14.B	14.B	14.A	14.D	14.B
15.A	15.C	15.C	15.B	15.B	15.A
16.C	16.A	16.B	16.B	16.B	16.D
17.A	17.C	17.D	17.C	17.A	17.A
18.B	18.A	18.C	18.B	18.D	18.C
19.C	19.C	19.C	19.C	19.D	19.B
20.B	20.B	20.B	20.D	20.A	20.C

Çalışmada Emegi Geçen Öğretmenlerimiz

Ortaokul Koordinatörü Sancaklar Ortaokulu Müdürü

Bekir YEŞİL

Fatih Projesi İl Koordinatörü

Tarık IŞIKTAŞ

Bilişim Teknolojileri Öğretmeni

Okşan UZUNBOYLAR

Türkçe Öğretmeni

Özlem EKİN

Matematik Öğretmeni

Derya KARAGÜZEL

Fen Bilimleri Öğretmeni

Mehtap KAŞ

Sosyal Bilgiler Öğretmeni

Mehmet Burak KARS

Din Kültürü Öğretmeni

Asiye NAS

Din Kültürü Öğretmeni

Mahsum KARAÇAY

Bu çalışma Siirt İl Milli Eğitim Müdürlüğü Öğretmenleri tarafından hazırlanmıştır.

Emeklerinden dolayı teşekkür ederiz.