



5. Sınıf

# Haftalık Ödev

17-21 MAYIS



**Siirt**  
İL MİLLÎ EĞİTİM MÜDÜRLÜĞÜ

[www.  
siirt.meb.gov.tr](http://www.siirt.meb.gov.tr)



1) Aşağıdaki cümlelerin hangisinde altı çizili kelime eş sesli ( sesteş ) değildir?

- A) Kır saçlı adam bana bakıp gülümsedi.
- B) Güz mevsiminde çok yağmur yağar.
- C) Dolu yağışı ekinlere zarar verdi.
- D) Dolapta yağ kalmamış.

2) “Erkenden- dedem- çalışır-geç-tarlaya-kadar-gider-vakte” kelimeleriyle oluşturulacak anlamli ve kurallı cümle hangi seçenekte verilmiştir?

- A) Dedem erkenden tarlaya gider,geç vakte kadar çalışır.
- B) Erkenden gider tarlaya, dedem çalışır geç vakte kadar.
- C) Dedem geç tarlaya gider ,erkenden vakte kadar çalışır.
- D) Vakte geç kadar tarlaya gider,erkenden çalışır dedem.

3) Aşağıdaki noktalama işaretlerinden hangisinden sonra büyük harfle başlanmaz?

- A) Nokta (.)
- B) Ünlem (!)
- C) Noktalı Virgül(;)
- D) Soru İşareti(?)

(1) Empati, bir insanın, kendisini karşısındaki insanın yerine koyarak onun duygularını ve düşüncelerini anlamasıdır.(2)Empati kurarsak diğer insanlarla ilişkilerimiz güçlenir.(3)Bize yapılan bir davranışı anlamak için çaba gösteririz.(4) Bu, çok değerli bir davranıştır.

4) Yukarıdaki metinle ilgili olarak hangisi yanlıştır?

- A) 1.Cümle tanım cümlesidir.
- B) 2.Cümle koşul (şart )cümlesidir.
- C) 3.Cümle amaç-sonuç cümlesidir.
- D) 4.Cümle neden -sonuç cümlesidir.

5) Aşağıdaki cümlelerin hangisinde “tutmak” sözcüğü mecaz anlamda kullanılmıştır?

- A) Kolunun altındaki kitabı sıkı sıkı tutuyordu.
- B) Ustam elindeki tornavidayı tutmamı istiyordu.
- C) Küçük çocuk virüsle ilgili söylenenleri aklında tutmuştu.
- D) Çilek satan adamın uzattığı parayı tutacak gibi oldu.

“Oyun, çocukların ruhsal eğitiminde önemli bir yer tutar ve gelişmelerini sağlar. Oyundan ve oyuncaklardan mahrum bazı çocukların gelecekte asık yüzlü ve somurtkan kişiler oldukları görülmüştür. Oyunlar, aşırı olmadığı sürece çocuklar için vazgeçilmez eğlence kaynaklarıdır.”

6) Yukarıdaki paragrafın ana düşüncesi aşağıdakilerden hangisidir?

- A) Çocukların aşırı oyun oynamaları ruhsal gelişimleri için zararlıdır.
- B) Oyun ve oyuncaklar çocuğun ruhsal gelişimi için gereklidir.
- C) Gelecekte mutlu çocuklar görmek istiyorsak onlarla oynamalıyız.
- D) Çocukların eğitiminde oyunların ve oyuncakların bir etkisi yoktur.

7) Aşağıdaki sözcüklerden hangisi birden fazla yapım eki almıştır?

- A) Simitçi
- B) Gözlükçü
- C) Çiçekçi
- D) Oduncu

8) “Yalnız” sözcüğü aşağıdaki cümlelerin hangilerinde aynı anlama gelecek şekilde kullanılmıştır?

- 1. Artık bu evde yalnız yaşamak istemiyorum.
- 2. Dediğin yere gelirim yalnız bir şartım var.
- 3. Yalnız ben çözdüm o zor soruyu.
- 4. Odada yalnız kalınca içi hüznü dolmuştu.

- A) 1-2
- B) 2-3
- C) 1-3
- D) 1-4

Bir parkta iki çocuk bankın birine oturmuş tartışıyorlardı. Çocuklardan küçük ve sarı saçlı olanı sürekli “Hayır, senin dediğin gibi değil.” diyordu. Yavaşça çocukların yanına yaklaştım. Bir matematik sorusunun çözümü üzerine tartışıyorlardı. O an anladım ki çalışmak isteyen her yerde çalışabilir. İmrenmedim değil çocuklara.

9) Parçadan, aşağıdakilerden hangisine ulaşamaz?

- A) Çocukların aynı sınıfta olduklarına
- B) Küçük ve sarı saçlı olanın sürekli itiraz ettiğine
- C) Çocukların matematik sorusu çözdüğüne
- D) Parkta iki çocuğun ders çalıştığına



“Musab’ın karnı acıkmıştı. Sepetteki elmalardan bir elma alıp ağzına götürdü .....eline aldığı elma çürüktü.”

10) Bu metindeki boşluğa düşüncenin akışına göre aşağıdakilerden hangisi yazılmalıdır?

- A) bu nedenle
- B) çünkü
- C) ancak
- D) bundan dolayı

11) Aşağıdaki cümlelerin hangisinde kişileştirme yapılmamıştır?

- A) Bir gül uyanıp geriniyordu derin uykusundan.
- B) Neden gülüyorsunuz ağlanacak halinize?
- C) Gökyüzü bu kadar yer kapladığı için utanıyordu.
- D) Yağmurlar küsmüştü yeryüzüne, inmiyordu artık.

12) Aşağıdaki şiire bir görsel eklemek istediğimizde en uygun hangisi olur?

*Dalgalandığın yerde ne korku ne keder...  
Gölgede bana da bana da yer ver.  
Sabah olmasın, güneş doğmasın ne çıkar  
Yurda ay yıldızın ışığı yeter.*

A)



B)



C)



D)



Sevdiklerinizle olmanın verdiği mutluluk ve gerçekleştirmek isteyip de korkularınız, endişeleriniz yüzünden bugüne kadar gerçekleştiremediğiniz düşleriniz sizin yaşamınızdaki kırlangıçlarınızdır. Onlar bir gün uçup gidecek hayatınızdan. O gün geldiğinde kırlangıçlarınızın ardından "Keşke..." demek istemiyorsanız avucunuzdan kaçıp gitmeden onların değerini bilin.

13) Bu parçada asıl anlatılmak istenen aşağıdakilerden hangisidir?

- A) Mutluluk her an insanın karşısına çıkmayabilir.
- B) Her insan bazen mutsuzluğu tadabilir.
- C) İnsan, yaşamına anlam katan her şeyin kıymetini bilmelidir.
- D) Korkularımız, endişelerimiz hayallerimize engel olabilir.

14) " - - - - anlamak - - - - anlamaktan iyidir."

Bu cümlede boş bırakılan yerlere aşağıdakilerden hangisinde verilenler getirilmelidir?

- A) Zor-çok
- B) Kötü-doğru
- C) Az-ters
- D) Yanlış-güç

Seyahate çıkmadan önce, ne olur ne olmaz diye yanıma gereğinden daha fazla yiyecek ve giyecek alırım. Aracımın tüm bakımlarını yaptırırım. Başıma gelebilecek şeyler için önceden hazırlıklı olurum.

15) Bu sözleri söyleyen kişi aşağıdakilerden hangisiyle nitelendirilebilir?

- A) Becerikli                      B) Tedbirli  
C) Sakin                         D) Endişeli

16) Aşağıdaki cümlelerin hangisinde kurgusal ögelere yer verilmiştir?

- A) Pervari’de bugün kar yağacak.  
B) Kızlar Tepesi’ne kocaman bir havuz yapılmış.  
C) Türkiye’nin başkenti neresidir?  
D) Kuşların kanadına tutunarak gittik uzak diyarlara.

17) Aşağıdaki atasözlerinden hangisi “Bir işi yapmak istemeyip bazı sebepler ileri sürmek” anlamındadır?

- A) Misafirin umduğu, ev sahibine iki öğün olur.  
B) Köylü, misafir kabul etmeyiz, demez; konacak konak yoktur, der.  
C) Şaşkın misafir, ev sahibini ağırlar.  
D) Misafir umduğunu değil, bulduğunu yer.



18) Yukarıdaki karikatürde verilmek istenen mesaj seçeneklerden hangisinde yer almaktadır?

- A) En güzel dinlenme şekli yatarken TV izlemektir.  
B) Kitaplar yastık ve yorgan olarak kullanılabilir.  
C) TV, kitap okumayı engellemektedir.  
D) Yatak odasında TV bulundurmak gereklidir.

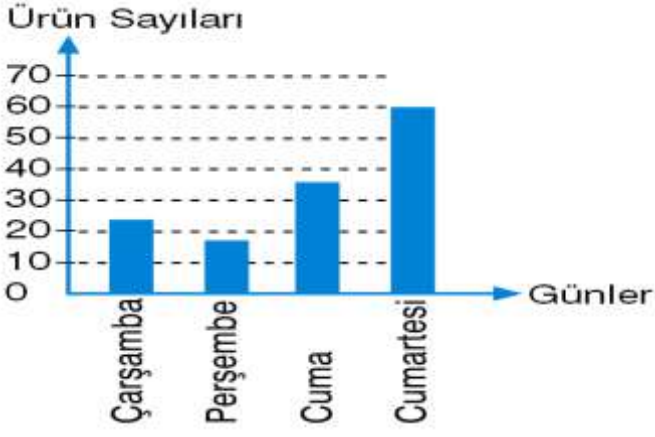
Tilki ile kedi sohbet ediyorlarmış. Tilki durmadan kurnaz olduğunu anlatıyormuş. Söylediğine göre düşmanları onu alt edemezmiş. Çünkü onlardan kurtulacak bir sürü hile biliyormuş. Kedi biraz da utanarak “Ben fazla oyun bilmem ki.” demiş. “Düşmanlarımdan elinden kurtulmak için tek bir yol bilirim. O da kaçmaktır.”

Tilki: “Kedi kardeş!” demiş. “Ben her tehlike karşısında başımın çaresine bakabilirim. Ama senin durumuna üzülüyorum.”

Az sonra bir sürü köpeğin bağırışmalarını duymuşlar. Kedi hemen yanındaki ağacın dallarına sıçrayarak üstteki bir yaprak kümesinin içine saklanmış. Tilki ise acaba şu hileyi mi yapsam yoksa bu hileyi mi diye düşünmeye başlamış. Tam birisini uygulayacakmış ki köpekler etrafını çevirip onu yakalamış. Bütün olanları yukarıdan seyreden kedi çok hile bilmediğine şükretmiş.

19) Yukarıdaki metin türü aşağıdakilerden hangisidir?

- A) Fabl                                      B) Öykü  
C) Tiyatro                                 D) Deneme



Yukarıdaki grafikte, bir teknoloji mağazasında 4 gün boyunca satılan ürün sayıları gösterilmektedir.

20) Bu grafiğe göre aşağıdakilerden hangisi kesin olarak söylenebilir?

- A) Ürün satışı 4 gün boyunca sürekli azalmıştır.
- B) Cuma günü satılan ürünler Perşembe günü satılan ürünlerden daha çok beğenilmiştir.
- C) Pazartesi ve salı günleri de cumartesiden daha az ürün satılmıştır.
- D) 4 gün arasında en çok ürün, Cumartesi günü satılmıştır.

Sevgi Hanım 600 cm'lik kumaşı eşit uzunlukta parçalara ayırması için Esra hanıma veriyor. Eğer bu kumaş 20cm uzunlukta eş parçalara ayrılırsa yapılan her kesme işi için 80 kr, 30 cm uzunlukta eş parçalara ayrılırsa her kesme işi için 90 kr vereceğini söylüyor.

1) Buna göre Esra Hanım kumaşı karlı olan kesme işini yaparsa kaç lira karlı çıkar?

- A) 5,1      B) 6,1      C) 7,1      D) 8,1

2) Ahmet Bey elindeki 84 cevizi üç çocuğuna paylaşıyor. Büyük oğlu ortanca oğlundan 5 fazla, ortanca oğlu da küçük oğlundan 5 fazla ceviz aldığına göre küçük oğlu kaç ceviz almıştır?

- A) 20      B) 21      C) 22      D) 23

3) Seksen iki milyon yedi yüz altmış beş bin dokuz yüz otuz dört sayısının birler ve yüz binler basamağındaki rakamlar yer değiştirirse sayıda nasıl bir değişim olur?

- A) 299997 azalır  
B) 299997 artar  
C) 279999 azalır  
D) 279999 artar

4) 15-30-25-A-45-90-B-170 örüntüsünde A ve B yerine gelmesi gereken sayıların toplamı kaçtır?

- A) 130      B) 135      C) 140      D) 145

- I.  $53 = 125$   
II.  $93 = 729$   
III.  $113 = 1332$   
IV.  $63 = 216$

5) Yukarıda verilen işlemlerden hangisi yanlıştır?

- A) I      B) II      C) III      D) IV

6) Uzun maraton koşucu 2 saat 32 dakika 12 saniye de koştuğu maratonu 2 saat 33 dakika 4 saniye de koşup rekor kırmıştır. Buna göre koşucu toplam kaç saat maraton koşmuştur?

- A) 5 saat 5 dakika 16 saniye  
B) 4 saat 5 dakika 16 saniye  
C) 5 saat 45 dakika 14 saniye  
D) 4 saat 45 dakika 16 saniye

7) Manav aldığı elmayı 45 kuruştan alıp 85 kuruştan satıyor. Manav gün sonunda 102 liralık satış yaptığına göre manav kaç TL kar elde etmiştir?

- A) 50      B) 48      C) 46      D) 44

8) Görkem başarılı bir maraton koşucusudur. Her ay koştuğu mesafeyi 140 metre daha arttırmaktadır. 300 metre ile başlayan Görkem 9 ay sonra kaç metre koşmayı başarmıştır?

- A) 1280      B) 1420      C) 1560      D) 1620

**Ödev:**  
Akın kuruyemişçiye giderek kilosu 7 TL olan leblebiden 250 gram, kilosu 18 TL olan fındıktan 150 gram almıştır.  
Akın kuruyemişçiye 5 TL verdiğine göre, kaç TL para üstü alır?

**Çözüm:**

1. adım:  $7 \times \frac{250}{1000} = \frac{1750}{1000} = 1,75$  TL

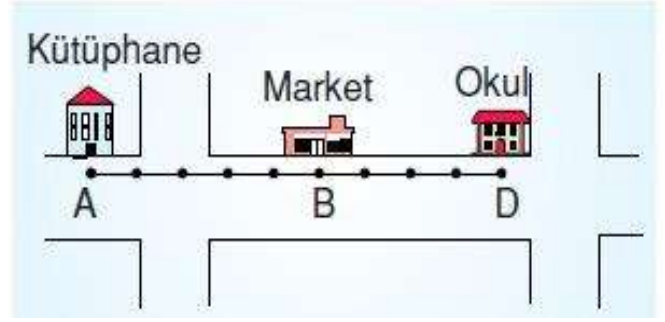
2. adım:  $18 \times \frac{150}{1000} = \frac{2700}{1000} = 2,7$  TL

3. adım:  $1,75 + 2,7 = 4,45$  TL

4. adım:  $5 - 4,45 = 0,65$  TL

9) Öğretmenin verdiği ödevin çözümünü defterine yapan Akın ilk hatayı kaçınıcı adımda yapmıştır?

- A) 1      B) 2      C) 3      D) 4



10) Kroki üzerinde çizilen doğru parçasında ardışık noktalar arasındaki uzaklıklar eşittir. Kütüphane, market ve okul sırasıyla A, B ve C noktalarında bulunmaktadır. Kütüphanenin markete uzaklığı 1,5 km olduğuna göre, market ile okul arası kaç kilometredir?

- A) 0,9      B) 1      C) 1,2      D) 1,4

|   |   |
|---|---|
| <b>1. kampanya</b><br>Peşinat: 80 TL<br>Taksit: 40,75 TL<br>Taksit sayısı: 6  | <b>2. kampanya</b><br>Peşinat: 60 TL<br>Taksit: 35,5 TL<br>Taksit sayısı: 8   |
| <b>3. kampanya</b><br>Peşinat: 90 TL<br>Taksit: 28,25 TL<br>Taksit sayısı: 10 | <b>4. kampanya</b><br>Peşinat: 70 TL<br>Taksit: 25,75 TL<br>Taksit sayısı: 12 |

Efe kendisine bir fotoğraf makinesi almak istiyor.

11) Buna göre, yapılan kampanyalar için aşağıda verilenlerden hangisi yanlıştır?

- A) kampanyada toplam 324,5 TL ödenecektir.  
B) kampanyada toplam 344 TL ödenecektir.  
C) kampanyada 2. kampanyadan 28,5 TL daha fazla para ödenecektir.  
D) kampanyada 1. kampanyadan 25 TL daha fazla para ödenecektir.

Bir çuvalda 80,4 kg leblebi olan çuvalın tamamı 0,4 kg'lık küçük paketlere doldurulup paketlerin tanesi 2,5 TL'ye satılacaktır.

12) Buna göre, toplam gelir kaç TL olur?

- A) 512      B) 502,5      C) 492,5      D) 468



14) Annesi Derya'ya bir miktar para veriyor ve bakkaldan 2 ve 3 kg arasında un almasını istiyor. Derya'nın aldığı un kaç kg olabilir?

- A)  $\frac{25}{3}$  kg      B)  $\frac{15}{6}$  kg      C)  $\frac{19}{3}$  kg      D)  $\frac{11}{9}$  kg

| Esra              | Melike            | Ece               | Esmâ              |
|-------------------|-------------------|-------------------|-------------------|
| $\frac{25}{3}$ kg | $\frac{29}{4}$ kg | $\frac{23}{3}$ kg | $\frac{25}{4}$ kg |

13) Yukarıda ağırlıkları verilen 4 kişiden en ağır olanı hangisidir?

- A) Esra  
B) Melike  
C) Ece  
D) Esmâ



Çilek:300 kg

Domates:300 kg

Şekilde seranın yarısı çilek, yarısı domates ekilmiştir. Yazın aşırı sıcaklardan dolayı çileklerin  $\frac{3}{5}$ 'i, domateslerin  $\frac{2}{15}$ 'i kurumuştur.

15) Buna göre bu serada kaç kg sağlam ürün kalmıştır?

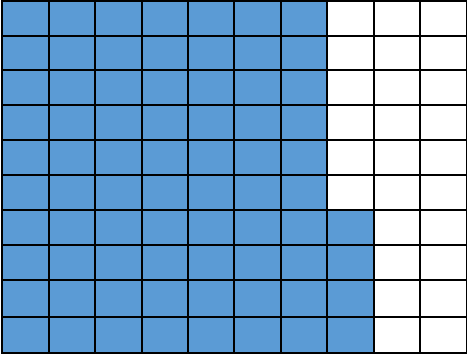
- A) 120      B) 160      C) 380      D) 440



Mehmet Amca, sahibi olduđu 3 farklı arsayı 5 çocuđu arasında paylaşmak istiyor. Arsaların bir tanesini kendisine ayırıp diğeri ikisini eşit şekilde çocuklara bölüyor.

16) Buna göre bir çocuđa düşen hisse miktarı aşağıdakilerden hangisi ile gösterilebilir?

- A)  $\frac{1}{6}$       B)  $\frac{2}{3}$       C)  $\frac{3}{5}$       D)  $\frac{2}{5}$



17) Yukarıdaki kareli kâğıtta boyalı bölgenin yüzde sembolü ile gösterimi aşağıdakilerden hangisidir?

- A) %6,4  
B) %7,4  
C) %64  
D) %74

18) Aşağıdakilerden hangisinin değeri diğerlerinden farklıdır?

- A)  $\frac{10}{15}$       B) %75      C) 0,75      D)  $\frac{3}{4}$

19) Aşağıdaki eşitliklerden hangisi yanlıştır?

- A)  $\frac{7}{10} = \%70$   
B)  $\frac{11}{20} = \%55$   
C)  $\frac{8}{50} = \%18$   
D)  $\frac{75}{100} = \%75$

- I. % 32 < % 44 < % 65  
II. % 76 > % 46 > % 53  
III. % 57 < % 66 < % 89  
IV. % 33 > % 21 > % 17

20) Yukarıdaki sıralamalardan hangisi yanlıştır?

- A) I      B) II      C) III      D) IV

1)



Resimde verilen kelebek, dünyanın en güzel kelebeklerinden biri olan Goliath Birdwing Kelebeği'dir. Dünya'nın en büyük ikinci kelebeğidir. Genellikle Endonezya yağmur ormanlarında yaşamaktadır.

**Yukarıdaki resimde verilen canlı aşağıdaki sınıflardan hangisini aittir?**

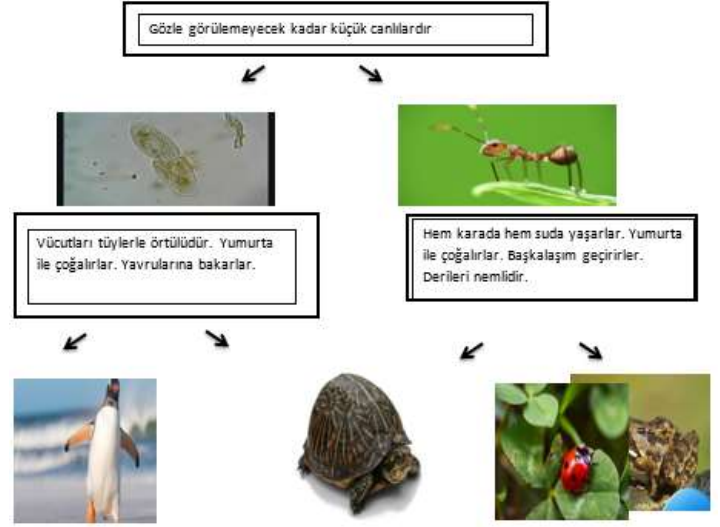
- A) Omurgasız hayvanlar
- B) Balıklar
- C) Kuşlar
- D) Sürüngenler



Wingsuit uçuşu, yüksek bir noktadan veya bir uçaktan özel yapılmış kıyafetler ile serbest uçmadır. Bu özel kıyafetler özellikle havadaki düşüş hızını yavaşlatmak için özel geliştirilmiştir. Tehlikeli bir spordur ve yere iniş sırasında paraşüt kullanılır.

**2) Wingsuit uçuşunda kullanılan kıyafetler ve paraşütün sürtünme kuvvetine etkisi, aşağıdaki verilen örneklerden hangisi ile benzerdir?**

- A) Kapı menteşelerinin yağlanması
- B) Buz pateni sporcularının ayakkabıları
- C) Araba lastiklerine zincir takılması
- D) Gemilerin burunlarının sivri şeklinde tasarlanması



**3) Yukarıda verilen bilgiler bazı canlı türlerine aittir. Bu bilgiler doğrultusunda özelliklere ait canlılar bulunarak ilerlendiğinde, ulaşılan canlı aşağıdakilerden hangisidir?**

- A) Penguen
- B) Kaplumbağa
- C) Kurbağa
- D) Uğur Böceği

- 4) Cem ve Deniz farklı zamanlarda Ay'ı gözlemlemişlerdir. Ay'ı gördüklerinde aşağıdakileri soruları sormuşlardır.

**Deniz:** Ay şu an ne kadar parlak! Şekli tam bir daire gibi çok net görüyorum. Acaba 1 hafta önce şekli nasıl görünüyordur ve hangi evrededir?

**Cem:** Ay'ı gözlemlediğim tarihte Ay'ın sağ tarafı aydınlıktı, şekli ise "D" harfine benziyordu. Peki 2 hafta sonra hangi evrede olur ve şekli nasıl görünecektir?

**Deniz ve Cem'in sorularının cevapları aşağıdaki hangisinde doğru verilmiştir?**

DENİZ'İN CEVABI

CEM'İN CEVABI

A)



B)



C)



D)



- 5) Metan oyuncak arabasını asfalt ve çakıllı yolda hareket ettirmiştir. Aracın hareket etmesi için gereken kuvvetleri dinamometre ile ölçmüştür. Metan çakıllı yolda aracını hareket ettirmek için gereken kuvveti 420 N olarak ölçmüştür. **Metan her iki ölçümü de aynı dinamometreyi kullanarak yaptığına göre asfalt yolda aracın hareket etmesi için gereken kuvvet (dinamometrede okunan değer) kaç N'dur?(Dinamometrenin bölmeleri eşittir.)**

A) 70 N      B) 210 N      C) 280 N      D) 420 N

- 6) Şekildeki tabloda gök cisimlerine ait bilgiler yer almaktadır.

|  |  |                                  |
|--|--|----------------------------------|
| 1 Dünya'ya en yakın yıldızdır.                       | 2 İlk dördün, son dördün gibi evreleri vardır. | 3 Dünya'nın tek doğal uydusudur. |
| 4 Şimdilik yaşamın olduğu bilinen tek gök cisimidir. | 5 Kendi eksen etrafında dönme hareketi yapar.  | 6 Isı ve ışık kaynağıdır.        |

**Güneş'e ait özelliklerin yer aldığı kutucuklardaki sayıların toplamı aşağıdakilerden hangisidir?**

A) 9      B) 10      C) 12      D) 15

7) Öğretmen: Merhaba çocuklar bugün sizden mikroskopik canlıların faydalarını gösteren görsellerin yer aldığı bir pano hazırlamanızı istiyorum.

Fen Bilimleri Öğretmeni olan Ayşenur Hanım çocuklara yukarıdaki açıklamayı yaparak ödev vermiştir. **Buna göre öğrenciler aşağıdaki görsellerden hangisini ya da hangilerini kullanmalıdır?**



I. Ekmek



II. Yoğurt



III. Peynir



IV. Mantarlı Ayak

- A) I ve II  
B) II ve III  
C) I, II ve III  
D) I ve IV



- K → Yer Çekimi  
L → İtme Kuvveti  
M → Sürtünme Kuvveti

8) K, L ve M okları hedefe atıldığında hangi oklar hangi bölmelere gelmelidir?

|    | K | L | M |
|----|---|---|---|
| A) | ☆ | 😊 | ♡ |
| B) | ☆ | ♡ | 😊 |
| C) | 😊 | ☆ | ♡ |
| D) | ♡ | ☆ | 😊 |



- Bitkinin solunum yapmasını sağlar.
- Bitkinin terlemesini sağlar.
- Bitkinin boşaltım yapmasını sağlar.
- Bitkinin besin üretmesini sağlar.

9) Fen Bilimleri Öğretmeni Osman Bey yukarıdaki bilgileri vererek bu bilgilerin bitkinin kısımlarından hangisine ait olduğunu sormuştur. **Aşağıdaki öğrencilerden hangisi doğru cevap vermiştir?**

- A) Nur: Kök
- B) Kasım: Gövde
- C) Eylül: Yaprak
- D) Harun: Çiçek

10) Aşağıda verilen resimlerden hangisinde **sürtünme kuvvetinin artırılmasına** ait bir örnek **bulunmamaktadır?**

A)



C)



B)



D)



- Işık kaynağı değildir, sadece üzerine gelen ışınları yansıtır.
- Canlıların üzerinde yaşadığı tek gezegendir.
- Dünya'nın tek doğal uydusu dur.
- Ay' ın yüzeyine göktaşlarının çarpması sonucu oluşur.

11) Yukarıda sorulan sorulardan hangisinin cevabı aşağıda **yoktur?**

- A) Krater
- B) Ay
- C) Güneş
- D) Dünya

12) Fen bilimleri öğretmeni Ayça Hanım öğrencilerine Güneş ile söyleyeceği her doğru bilgi için 5 puan alacağını söylüyor.

Öğrencilerden Ali aşağıdaki bilgileri veriyor.

- Güneş orta büyüklükte ve küre şeklinde bir yıldızdır.
- Güneş Dünya' ya en yakın yıldızdır.
- Güneş hem kendi eksenini etrafında hem de Dünya'nın eksenini etrafında dönme hareketi yapar.
- Dünya'mızın Güneş etrafında bir tur dönmesi ile mevsimler oluşur.

**Buna göre Ali bu etkinlikten kaç puan almıştır?**

- A)
- B) 10
- C) 15
- D) 20

13) Fen bilimleri öğretmeni mantarlar konusunu işledikten sonra mantarların isimleri ve özelliklerini içeren tabloyu karışık bir şekilde aşağıdaki gibi vermiştir.

- 1- Bazı türleri yenilebilirken bazıları zehirlidir
- 2- Günlük yaşamda ekmek pasta börek peynir yapımında kullanılan mantar türüdür.
- 3- İnsanlarda hayvanlarda ve bitkilerde hastalıklara neden olur
- 4- Açıkta bırakılan yiyeceklerin üzerinde oluşan yeşil tabakadır.

- a) Küf mantarı
- b) Parazit mantar
- c) Maya mantarı
- d) Şapkalı mantar

Buna göre aşağıdaki öğrencilerden hangisi doğru eşleştirmeyi yapmıştır?

- A) 1✓a 2✓b 3✓c 4✓d
- B) 1✓b 2 ✓c 3 ✓d 4 ✓a
- C) 1✓d 2 ✓c 3 ✓b 4 ✓a
- D) 1✓c 2✓b 3 ✓a 4 ✓d

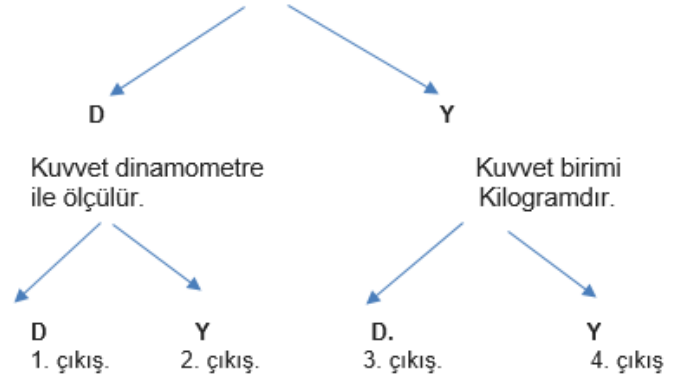
14) 5. Sınıfa giden Mehmet fen bilimleri dersinde sürtünme kuvvetini işledikten sonra evde farklı zeminlerin sürtünme üzerinde etkisini araştırmak için aşağıdaki gibi bir düzenek hazırlamıştır.

- 1- Halı zemin
- 2- Taşlı zemin
- 3- Yağlı zemin

Buna göre Mehmet' in hazırladığı düzenekten arabalara etki eden sürtünme kuvvetlerinin büyükten küçüğe doğru sıralanışı hangi seçenekte doğru verilmiştir?

- A) 1>2>3
- B) 2>3>1
- C) 3>2>1
- D) 2>1>3

Kuvvet sadece duran bir cismi harekete geçirebilir.



15) Yukarıdaki sorulara doğru cevap veren Kübra kaçınıcı çıkışa ulaşır?

- A) Çıkış
- B) Çıkış
- C) Çıkış
- D) Çıkış

- I. Dünya'dan bakıldığında Ay'ın her zaman aynı yüzü görünür.
- II. Ay'ın ana evreleri arasında geçen süre 29 gündür.
- III. Ay'ın evreleri Ay'ın kendi etrafında dönmesi sonucu oluşur.

16) Yukarıdaki ifadelerden hangisi veya hangileri söylemek yanlış olur?

- A) Yalnız I
- B) Yalnız II
- C) I ve II
- D) II ve III

**17) Aşağıdakilerden hangisini söylemek doğru olur?**

- A)** Ay, Dünya ile birlikte Güneş'in etrafında dolanır.
- B)** Dünya'nın kendi etrafında 1 tur dönmesi sonucu 1 hafta oluşur.
- C)** Dünya'nın Güneş'e dönük yüzünde gece yaşanır.
- D)** Dünya kendi etrafında dönerken Ay'ın etrafında da döner.

**18) Dünya, Güneş ve Ay'ın büyüklüklerinin büyükten küçüğe doğru sıralanışı aşağıdakilerden hangisi doğru verilmiştir?**

- A)** Ay, Güneş, Dünya
- B)** Güneş, Dünya, Ay
- C)** Ay, Dünya, Güneş
- D)** Dünya, Ay, Güneş

- I.** Fotosentez yaparlar.
- II.** Zehirli çeşitleri vardır.
- III.** Kendi besinlerini kendi üretmezler.

**19) Yukarıdaki ifadelerden hangisi veya hangilerini mantarlar için söylemek doğru olur?**

- A)** Yalnız I
- B)** Yalnız II
- C)** I ve II
- D)** II ve III

**20) Aşağıdaki ifadelerden hangisi kuvvetle ilgili doğru bir ifadedir?**

- A)** Kuvvet bütün cisimleri hareket ettirir.
- B)** Kuvvet cismin şeklini değiştirmez.
- C)** Kuvvet birimi Newton'dur.
- D)** Kuvvet birimi Kilogram'dır.

Bireylerin içinde bulunduğu duruma göre üstlendiği veya sergilediği davranışlar bütününe **rol** denir.

1) Buna göre aşağıdakilerden hangisi bir rol değildir?

- A) Kaleci olmak
- B) Öğrenci olmak
- C) Müzik dinlemek
- D) Çocuk olmak



Merhaba arkadaşlar. Adım Mina 5.sınıfa gidiyorum.

2) Buna göre;

- I. Sınıfı kirletmeme,
- II. Odasını temiz tutma,
- III. Derse zamanında gelme,

faaliyetlerinden hangileri Mina'nın okuldaki sorumlulukları arasında yer alır?

- A) I ve III
- B) I ve II
- C) Yalnız I
- D) I,II ve III

Adım Ömer. 11 yaşımdayım. On Sekiz yaşından küçük olduğum için ben bir çocuğum. Çocuk olmam nedeniyle bazı haklara sahibim.



3) Buna göre aşağıdakilerden hangisi Ömer'in çocuk olarak sahip olduğu haklardan biri değildir?

- A) Düşünce ve ifade hakkı
- B) Eğitim ve öğretim hakkı
- C) Seçme ve seçilme hakkı
- D) Sağlıklı bir çevrede yaşama hakkı

4) Aşağıdakilerden hangisinde verilen hizmet sektörü ile bu sektörün ihtiyaç duyduğu meslek grubu yanlış eşleştirilmiştir?

| <u>Hizmet Sektörü</u> | <u>Meslek</u> |
|-----------------------|---------------|
| A) Eğitim             | Öğretmenlik   |
| B) Ulaşım             | Kaptanlık     |
| C) Turizm             | Bankacılık    |
| D) Sağlık             | Doktorluk     |

5) Ülkemizde ticaretin, sanayinin, ulaşımın ve hizmet sektörünün en fazla geliştiği illerden biri de İstanbul'dur.

Buna göre İstanbul'da aşağıdaki mesleklerden hangisinin daha az olması beklenir?

- A) Bankacı
- B) Şoför
- C) Tüccar
- D) Çiftçi

6) Aşağıdakilerden hangisi, bilim insanları tarafından ortaya konulan buluşların yararlarından değildir?

- A) Yaşam kalitesini artırması
- B) Eğitimi kolaylaştırması
- C) Zamandan tasarruf sağlaması
- D) İnsanları tüketime alıştırmayı

7) Aşağıdakilerden hangisi buluş yapanların ve bilim insanlarının ortak özelliklerinden değildir?

- A) Sorgulayıcı
- B) Gözlemci
- C) Aceleci
- D) Araştırmacı

8) **Bağımlılık**; kişinin bedensel, ruhsal ve sosyal hayatını olumsuz etkiler. Bağımlılıklar toplumun felaketi sayılır.

Buna göre aşağıdakilerden hangisi teknoloji bağımlılarında görülen belirtilerden değildir?

- A) İnternette planladığından fazla zaman geçirmek
- B) Gece geç saatlere kadar bilgisayar başında kalmak
- C) Bilgisayardan uzakta iken gergin ve boşluktaymış gibi hissetmek
- D) Fatura ödemelerini internet bankacılığı ile yapmak

- I. Tavuk çiftliklerinden yumurta elde edilmesi
- II. Yumurtaların paketlenip marketlere gönderilmesi
- III. Yapılan tatlılarda yumurtaların kullanılması

9) Yukarıda verilen faaliyetlerin türü aşağıdakilerden hangisinde doğru olarak verilmiştir?

| I          | II      | III     |
|------------|---------|---------|
| A) Üretim  | Dağıtım | Tüketim |
| B) Dağıtım | Tüketim | Üretim  |
| C) Üretim  | Tüketim | Dağıtım |
| D) Dağıtım | Üretim  | Tüketim |

Türk mutfağı yemek çeşitliliği bakımından dünyanın en zengin mutfaklarından biridir.

10) Aşağıdakilerden hangisi ülkemizin yemek kültürüne ait bir yiyecek değildir?

- A) Kayseri mantısı
- B) Büryan kebabı
- C) Hamburger
- D) Cağ kebabı

Zorunlu ihtiyaçlarını karşılamak için maskesini takıp markete giden Yasir Bey alışverişini yaptıktan sonra evine dönmüştür. Marketten aldığı ürünleri kontrol eden Yasir Bey satın aldığı ürünlerin bazılarının arızalı, kullanım tarihi geçmiş veya sorunlu olduğunu görmüştür.

**11) Buna göre bilinçli bir tüketici olarak hak ve sorumluluklarını bilen biri için aşağıdakilerden hangisi doğru bir davranış olamaz?**

- A) Sorunlu ürünün yenisıyla değiştirilmesini istemek
- B) Tarihi geçmiş ürünü markete iade etmek
- C) Yenisini satın alırım diyerek ürünleri çöpe atmak
- D) Ürünün ücretsiz olarak tamir edilmesini istemek

Sosyal Bilgiler dersinde Türkiye fiziki haritasını inceleyen öğrenciler Ağrı ilinin genellikle kahverengi renk ile gösterildiğini görmüştür.

**12) Aşağıdakilerden hangisi öğrencilerin verilen bu yerle ilgili yapabilecekleri doğru bir yorum olamaz?**

- A) Yeryüzü şekilleri dağlık-engebelidir.
- B) Tarım yapabilecek geniş düzlükler azdır.
- C) Ulaşım zor ve yol yapmak maliyetlidir.
- D) Tarımda makine kullanımı rahat ve yaygındır.

“Ben Polis denilen İyon şehir devletlerinin başında bulunan kralım.(Tiran) Benim ülkemde özgür bir düşünce anlayışı bulunur ve bilimsel çalışmalara değer verilir.”

**13) Buna göre aşağıdakilerden hangisi İyon kralının bu sözünü destekler niteliktedir?**

- A) Deniz ticareti için koloniler kurmaları
- B) Hipokrat ve Pisagor gibi bilim insanını yetiştirmeleri
- C) Yönetim şekillerinin krallık olması
- D) Temel geçim kaynaklarının ticaret ve tarım olması

Ülkemizdeki bazı gelenek-göreneklerde zaman içerisinde çeşitli farklılıklar yaşanmıştır. Örneğin; geçmişte gelinin evden damat tarafından atla alınması yerini günümüzde süslenmiş arabalara bırakmış, eski zamanlarda sokakta çocuklar tarafından oynanan çelik çomak ve misket oyunlarının yerini günümüzde bilgisayar oyunları almıştır.

**14) Bu durum aşağıdaki kavramlardan hangisi ile en doğru şekilde açıklanabilir?**

- A) Kültürel Zenginlik
- B) Kültürel Değişim
- C) Kültürel Etkileşim
- D) Kültürel Süreklilik

Sosyal bilgiler derslerindeki bazı konuları daha iyi anlamak için bir grup öğrenci öğretmenlerinin rehberliğinde Siirt'ten Ankara'ya gitmiş ve burada bulunan Anadolu Medeniyetleri Müzesi'ni inceleyip çeşitli notlar almıştır.

**15) Bunların aldıkları notları inceleyen bir kişinin aşağıdaki uygarlıklardan hangisine ait eserlere rastlanması beklenemez?**

- |             |              |
|-------------|--------------|
| A) Hititler | B) Frigler   |
| C) Sümerler | D) Urartular |

Akdeniz Bölgesi'nin toplam orman alanı Karadeniz Bölgesi'ne göre az olmasına rağmen; bu bölgemizde doğal yollardan yaşanan orman yangınları Karadeniz Bölgesi'ne göre daha fazla yaşanmaktadır.

**16) Bu duruma Akdeniz Bölgesi'nin hangi özelliğinin daha çok sebep olduğu söylenebilir?**

- A) Yükseltisinin fazla olması
- B) Yaz aylarının sıcak ve kurak olması
- C) Seracılığın gelişmiş olması
- D) Denize kıyısının olması

**17) Sosyal Bilgiler dersinde Anadolu'da İlkçağda yaşayan uygarlıklarla ilgili proje ödevi hazırlayan bir öğrenci projesini hazırlarken aşağıdakilerden hangisini yaparsa bilgi hırsızlığına karşı önlem almış olur?**

- A) Resmî sitelerden araştırma yapmak
- B) Kütüphanedeki kaynaklardan faydalanmak
- C) Önemli tarihçilerin eserlerini okumak
- D) Raporunun sonunda Kaynakça kısmına yer vermek

Arkadaşlarına sunum yapmak için bir proje ödevi hazırlamak isteyen Bedirhan adlı bir öğrenci projesinin bilimsel ve gerçekçi olabilmesi için bilimsel araştırma basamaklarını kullanmak istemiştir. Bunun için araştırmasının konusunu belirleyen Bedirhan; daha sonra sırasıyla hipotez, kaynak tarama, verilerin değerlendirilmesi ve rapor haline getirme basamaklarını kullanarak araştırmasını hazırlamıştır. Raporun sonuna da Kaynakça bölümünü ekleyerek çalışmasını sonlandırmıştır.

**18) Buna göre Bedirhan ile ilgili aşağıdakilerden hangisi söylenemez?**

- A) Araştırmacıdır.
- B) Telif hakkını ihlal etmiştir.
- C) Bilimsel etiğe uygun davranmıştır.
- D) Plan ve programlı çalışır.

Türkiye geçmişten günümüze her zaman kültürel öğeleri bakımından zengin bir ülke olmuştur. Aşağıda bölgelerimiz ve bu bölgelerimizde yaygın olarak oynanan halk oyunları verilmiştir.

**19) Bu bölgelerimize ilişkin aşağıda verilen eşleştirmelerden hangisi yanlıştır?**

- A) Karadeniz Bölgesi — Horon
- B) Güneydoğu Anadolu Bölgesi — Halay
- C) Ege Bölgesi — Zeybek
- D) Doğu Anadolu Bölgesi — Hora

- Dünyanın bilinen ilk kütüphanesi olan Ninova Kütüphanesi'ni kurdular.
- Van Kale'si ve Şamran Su Kanalı'nı inşa etmişler.
- Mısırlılar ile dünyanın bilinen ilk yazılı antlaşması olan Kadeş Antlaşması'nı imzaladılar.

**20) Yukarıda özellikleri verilen uygarlıklar arasında aşağıdakilerden hangisi yer almamaktadır?**

- A) Urartular
- B) Frigler
- C) Asurlular
- D) Hititler

“Eğer yerde ve gökte Allah’tan başka ilahlar olsaydı kesinlikle ikisinin de düzeni bozulurdu.”

(Enbiya suresi, 22. ayet)

**1) Bu ayette verilen mesaj aşağıdaki hangi kavramla ilgilidir?**

- |                  |                  |
|------------------|------------------|
| <b>A) Emanet</b> | <b>B) İman</b>   |
| <b>C) İhlas</b>  | <b>D) Tevhit</b> |

“De ki: “O, Allah’tır, tektir. Allah sameddir. Doğurmamış ve doğmamıştır. O’nun hiçbir dengi yoktur.”

**2) Bu surenin konusu aşağıdakilerin hangisidir?**

- |                            |                                 |
|----------------------------|---------------------------------|
| <b>A) Allah’ın ilmi</b>    | <b>B) Allah’a iman</b>          |
| <b>C) Allah’ın birliği</b> | <b>D) Allah’ın yaratıcılığı</b> |

“Allah gökleri gördüğünüz gibi direksiz yarattı. Yeryüzüne de sizi sarsmasın diye sabit dağlar yerleştirdi ve orada her türlü canlıyı yaydı.”  
(Lokman suresi, 10. ayet)

**3) Bu ayetin mesajı aşağıdakilerin hangisidir?**

- A) Hiçbir şey Allah’tan gizli kalmaz.**  
**B) Allah’ın her şeye gücü yeter.**  
**C) En güzel isimler Allah’a aittir.**  
**D) Allah, her şeyi işitir ve görür.**

“Sınıfımızda birden çok başkan olsaydı, her biri farklı hareket eder, sınıfımızda kargaşa çıkardı. Aynı şekilde birden çok yaratıcı olsaydı, - - - - .”

**4) Bu boşluğa anlam akışına uygun olarak aşağıdaki ifadelerin hangisi gelmelidir?**

- A) çalışmaya gerek kalmazdı.**  
**B) evrende düzen kurulamazdı.**  
**C) gelecek kaygısı yaşanmazdı.**  
**D) bir düzene ihtiyaç duyulmazdı.**

Çocuğunu arayan bir anne onu sonunda buldu ve özlemlerle kucakladı. Bu durumu gören Peygamberimiz, yanındakilere sordu: “Bu kadının kendi çocuğunu ateşe atacağına ihtimal veriyor musunuz?” Sahabiler, “Asla, atmaz.” dediler. Bunun üzerine Hz. Muhammed (s.a.v.), “İşte yüce Allah, kullarına bu kadının yavrusuna olan şefkatinden daha merhametlidir.” buyurdu.

**5) Hz. Peygamber bu benzetme ile hangi mesajı vermiştir?**

- A) Merhametli olmak güzeldir.**  
**B) Tüm anneler merhametlidir.**  
**C) Merhametin fazlası zararlıdır.**  
**D) Allah annelerden daha merhametlidir.**

- I. Abdestsiz dua etmek doğru değildir.
- II. İnsan istediği her zaman dua edebilir.
- III. Sadece ibadet ettikten sonra dua edilir.

6) Dua etmeyle ilgili numaralanmış yargıların hangileri doğrudur?

- A) Yalnız I
- B) Yalnız II
- C) II ve III
- D) I, II ve III

“Göklerde ve yerde olanları Allah’ın bildiğini görmüyor musun? Üç kişinin gizli konuştuğu yerde dördüncüsü mutlaka odur. Beş kişinin gizli konuştuğu yerde altıncısı mutlaka odur. Bunlardan az veya çok olsunlar ve nerede bulunurlarsa bulunsunlar mutlaka o, onlarla beraberdir. Sonra kıyamet günü onlara yaptıklarını haber verecektir.

Doğrusu Allah, her şeyi bilendir.” (Mücâdele suresi, 7. ayet)

7) Bu ayetten aşağıdaki sonuçların hangisi çıkarılamaz?

- A) Allah tüm canlıların rızkını verir.
- B) Allah fısıldaşmaları bile duyar.
- C) İnsan nerede olursa olsun Allah bilir.
- D) Ahirette herkese konuşmaları haber verilir.

8) Yüce Allah’ın kendisini gördüğüne inanan bir kişi, bu inancına göre davranır. **Buna göre inanan bir kişinin aşağıdaki davranışların hangisini yapması beklenmez?**

- A) Sevdiği eşyaları da paylaşır.
- B) Tüm canlılara merhamet eder.
- C) Haksızlığa karşı duyarsız olur.
- D) Doğayı korumaya özen gösterir.

Samimi olmak; dine içtenlikle bağlanmak, inanç ve ibadetlerinde yalnızca Allah’ın rızasını gözetmek demektir.

9) Bu tanım aşağıdaki kavramların hangisinin tanımıdır?

- A) İhlas
- B) İlim
- C) İlah
- D) İnfak

10) Bin aydan daha hayırlı olan ve Kur’an’ın indirildiği gece aşağıdakilerden hangisidir?

- A) Kadir Gecesi
- B) Mevlit Kandili
- C) Berat Gecesi
- D) Miraç Gecesi

11) Oruç tutmamızın temel sebebi aşağıdakilerden hangisidir?

- A) Allah rızasını kazanmak
- B) Kilo vermek/zayıflamak
- C) Sabrımızı ölçmek
- D) Oruç tutmuyor denilmesini önlemek

- Demircilik sanatını iyi biliyordu.
- Demirden zırhlar yapıp satar ve geçimini kendi elinin emeğiyle sağlardı
- Nafile ibadet çok yapar, çok oruç tutar, çok namaz kıldırı.
- Kutsal kitap olarak Zebur verilmiştir.

12) Yukarıda hangi peygamberin tanımı verilmiştir?

- A) Hz. Musa
- B) Hz. İsa
- C) Hz. Muhammed
- D) Hz. Davut

13) Ramazan orucunu bilerek ve isteyerek bozanların ceza olarak 60 gün boyunca art arda oruç tutması gerekir. **Bu oruca ne ad verilir?**

- A) Kaza orucu
- B) Kefaret orucu
- C) Adak orucu
- D) Nafile orucu

Halil İbrahim “Din Kültürü sınavından 100 alırsam Allah rızası için bir günlük oruç tutacağım” demiş ve duası kabul olmuştur.

14) Buna göre Halil İbrahim aşağıdaki oruç çeşitlerinden hangisini tutmak zorundadır?

- A) Kaza orucu
- B) Kefaret orucu
- C) Adak orucu
- D) Nafile orucu

15) Her yıl Ramazan ayında maddi durumu yerinde olan Müslümanların aile bireyleri sayısınca yoksullara vermekle yükümlü oldukları şükür sadakasına ne ad verilir?

- A) Fitre(Fıtır sadakası)
- B) Zekat
- C) Sosyal yardım
- D) Sadaka-i Hayriye

“Ey iman edenler! Oruç sizden önce gelip geçmiş ümmetlere farz kılındığı gibi size de farz kılındı. Umulur ki (kötülükten) korunursunuz.”

(Bakara suresi, 183. ayet)

16) Bu ayetteki altı çizili ifade ile ilgili aşağıdaki yargıların hangisi doğrudur?

- A) Oruç farz olan bir ibadettir.
- B) İman edenler oruç tutmalıdır.
- C) İlahi dinlerde oruç ibadeti ortaktır.
- D) Oruç tutan haramlardan sakınmalıdır.

Allah'ım senin rızan için oruç uttum, sana inandım, sana sığındım, senin rızkınla orucumu açtım. Hamdolsun verdiği nimetlere sağlık ve afiyete.Ey bağışlaması bol rabbim beni ailemi devletimi milletimi ve bütün inananları koru. Rahmetini ve yardımını biz aciz kullarından esirgeme.

**17) Yukarıda yapılan dua ne duasıdır?**

- |                       |                         |
|-----------------------|-------------------------|
| <b>A) İftar duası</b> | <b>B) İmsak duası</b>   |
| <b>C) Sahur duası</b> | <b>D) Ramazan duası</b> |

Oruç tutan bir Müslüman, diğer zamanlara göre daha fazla sabır gösterir ve mümkün olduğunca kötü işlerden uzaklaşır. Beş vakit namazını kılan bir Müslüman sosyal hayatta planlı yaşamayı öğrenir.

**18) Yukarıda verilen bilgilerden aşağıdakilerden hangisi çıkarılabilir?**

- A) İbadetleri sevap kazanmak için yaparız.**  
**B) İbadetler insanların davranışlarını güzelleştirir.**  
**C) Oruç tutan insan namazlarını da kılmalıdır.**  
**D) Namaz kılmak için abdest almak gerekir.**

**19) Aşağıdakilerden hangisi Rabbena dualarının anlamında yoktur?**

- A) Rabbimiz bize dünyada iyilik ver.**  
**B) Ahirette de iyilik ver**  
**C) Beni anne babamı ve tüm inananları hesabın görüleceği günde bağışla.**  
**D) O'nun hiçbir dengi yoktur.**



**20) İki minare arasına yazılan ışıklı yazıya verilen isim aşağıdakilerden hangisidir?**

- |                    |                  |
|--------------------|------------------|
| <b>A) Cami</b>     | <b>B) Mahya</b>  |
| <b>C) Mukabele</b> | <b>D) Mihrab</b> |

Choose the best answers to fill in the blanks.

Choose the odd one!

1) \_\_\_\_\_ western. I think they are amusing.

- A) I like
- B) I don't like
- C) I love
- D) I watch

2) **Jonathan:** Does your sister  
\_\_\_\_\_ watching horror movies?

**Ashley:** No, she \_\_\_\_\_.

- A) like / doesn't
- B) hates / doesn't
- C) dislikes / does
- D) like / does

3) I like adventure movies because they are  
\_\_\_\_\_.

- A) Boring
- B) Evil
- C) Romantic
- D) Exciting

4) Popeyes is a \_\_\_\_\_ movie.

- A) History
- B) News
- C) Cartoon
- D) Comedy

Choose the best answers to fill in the blanks.

5) My friend loves comedy movies because they  
are \_\_\_\_\_.

- A) Funny
- B) Frightening
- C) Scary
- D) Boring

6) Star Wars is an \_\_\_\_\_ movie.

- A) Science Fiction
- B) Documentary
- C) Love
- D) War

7) **Gökçe:** Is this \_\_\_\_\_ teddy bear?

**Dean:** Yes, it is mine.

- A) you're
- B) you
- C) your
- D) yours

8) **Serdar:** When \_\_\_\_\_ Mehmet go to the  
work?

**Bora:** He goes to work at 8:30.

- A) Does
- B) Do
- C) Did
- D) Will

Choose the best answers to fill in the blanks.

9) **Bob:** Here are the pencils.

**İlke:** Great. Give \_\_\_\_\_ to me.

- A) it
- B) them
- C) they
- D) him



10) According to the picture above, what is the party about?

- A) Halloween party
- B) Fancy dress party
- C) Birthday party
- D) Barbecue party



11) According to the picture above, what is the party about?

- A) Birthday party
- B) Barbecue party
- C) Halloween party
- D) Slumber party

Choose the best answers to fill in the blanks.

12) **Jane :** We are organising a party for James.

**Derek :** Does he know ?

**Jane :** No, it is a \_\_\_\_\_ party.

- A) Birthday
- B) Costume
- C) Pyjamas
- D) Surprise

13) **Ali :** What is the day between Monday and Wednesday ?

**Rıza :** \_\_\_\_\_.

- A) Friday
- B) Tuesday
- C) Thursday
- D) Sunday

14) **Deniz :** Which month comes after August ?

**Betül :** \_\_\_\_\_ .

- A) April
- B) May
- C) July
- D) September

Choose the best answers to fill in the blanks.

15) Zehra : \_\_\_\_\_ ?

Eda : It is on 18 th December.

- A) Where are the candles
- B) Where is the party
- C) Are there any beverages
- D) When is your birthday

16) There are seven days in \_\_\_\_\_.

- A) a week
- B) a season
- C) a year
- D) a month

- June
- July
- August

17) Which season these months belong to?

- A) Autumn
- B) Spring
- C) Summer
- D) Winter

Choose the best answers to fill in the blanks.

18) I like swimming \_\_\_\_\_ I don't like walking.

- A) But
- B) Not
- C) And
- D) An

19) \_\_\_\_\_ Jane play soccer?

No, she \_\_\_\_\_.

- A) Can / can
- B) Can't / can't
- C) Can / can't
- D) Can't / can

20) Rabbits can run \_\_\_\_\_.

- A) Slowly
- B) Fast
- C) Late
- D) Tired

| CEVAP ANAHTARI |           |               |             |             |           |
|----------------|-----------|---------------|-------------|-------------|-----------|
| TÜRKÇE         | MATEMATİK | FEN BİLİMLERİ | SOSYAL BİL. | DİN KÜLTÜRÜ | İNGİLİZCE |
| 1. B           | 1. B      | 1. A          | 1. C        | 1. D        | 1. B      |
| 2. A           | 2. D      | 2. C          | 2. A        | 2. C        | 2. A      |
| 3. C           | 3. A      | 3. A          | 3. C        | 3. B        | 3. D      |
| 4. D           | 4. B      | 4. C          | 4. C        | 4. B        | 4. C      |
| 5. C           | 5. C      | 5. B          | 5. D        | 5. D        | 5. A      |
| 6. B           | 6. A      | 6. C          | 6. D        | 6. B        | 6. A      |
| 7. B           | 7. B      | 7. B          | 7. C        | 7. A        | 7. C      |
| 8. D           | 8. C      | 8. B          | 8. D        | 8. C        | 8. A      |
| 9. A           | 9. D      | 9. C          | 9. A        | 9. A        | 9. B      |
| 10.C           | 10.C      | 10.B          | 10.C        | 10.A        | 10.C      |
| 11.B           | 11.D      | 11.C          | 11.C        | 11.A        | 11.C      |
| 12.A           | 12.B      | 12.C          | 12.D        | 12.D        | 12.D      |
| 13.C           | 13.A      | 13.C          | 13.B        | 13.B        | 13.B      |
| 14.C           | 14.B      | 14.D          | 14.B        | 14.C        | 14.D      |
| 15.B           | 15.C      | 15.D          | 15.C        | 15.A        | 15.D      |
| 16.D           | 16.D      | 16.D          | 16.B        | 16.D        | 16.A      |
| 17.B           | 17.D      | 17.A          | 17.D        | 17.D        | 17.C      |
| 18.C           | 18.A      | 18.B          | 18.B        | 18.B        | 18.B      |
| 19.A           | 19.C      | 19.D          | 19.D        | 19.D        | 19.C      |
| 20.D           | 20.B      | 20.C          | 20.B        | 20.B        | 20.B      |

### Çalışmada Emeli Geçen Öğretmenlerimiz

Ortaokul Koordinatörü Sancaklar Ortaokulu Müdürü  
**Bekir YEŞİL**

Fatih Projesi İl Koordinatörü  
**Tarık IŞIKTAŞ**

Bilişim Teknolojileri Öğretmeni  
**Okşan UZUNBOYLAR**

Türkçe Öğretmeni  
**Hediye TANRIVEREN**

Matematik Öğretmeni  
**Dilan YILDIZ**

Matematik Öğretmeni  
**Hüseyin HARMAN**

Matematik Öğretmeni  
**Ahmet ŞENER**

Matematik Öğretmeni  
**Resul İMRE**

Matematik Öğretmeni  
**Kasım DESTAN**

Fen Bilimleri Öğretmeni  
**Ayşenur ÖZMAZI**

Sosyal Bilgiler Öğretmeni  
**Mehmet ULU**

Sosyal Bilgiler Öğretmeni  
**Bahattin ÇALAPKULU**

Fen Bilimleri Öğretmeni  
**Meltem EKİCİ**

Fen Bilimleri Öğretmeni  
**Hülya DUMAN**

Fen Bilimleri Öğretmeni  
**Adem ÇİMEN**

Din Kültürü Öğretmeni  
**Recep ÇAKAZ**

İngilizce Öğretmeni  
**Dündar AKTAŞ**

Bu çalışma Siirt İl Milli Eğitim Müdürlüğü Öğretmenleri tarafından hazırlanmıştır.  
Emeklerinden dolayı teşekkür ederiz.