





Adı ve Soyadı:.....
No :.....

30.03.2021

**DEREGÜMÜ İLKOKULU 2020 – 2021 EĞİTİM ÖĞRETİM YILI
TRAFİK GÜVENLİĞİ VE İLK YARDIM DERSİ 2. DÖNEM 1. YAZILI SORULARI**

1- Aşağıdaki işaretlerden hangisi “okul geçidi” anlamını taşır?

- A)  B) 
- C)  D) 

2-Aşağıdakilerden hangisi tehlikeli oyun alanıdır?

- A) Park B) Anayol
C) Okul bahçesi D) Bahçe

3- Aşağıdakilerden hangisi güvenli geçiş yeri değildir?

- A) Alt geçit
B) Üst geçit
C) Trafik polisinin bulunduğu yer
D) Köşe başı

4- Bir taşıt sürücüsünün aşağıdaki davranışlardan hangisini yapması sakıncalı olur?

- A) Arkasındaki yaşlı yolcularla konuşmak
B) Ani duruş ve kalkışlarda bulunmamak
C) Uykusuz araç kullanmamak
D) Gereksiz yere korna çalmamak

5- Şehir içerisinde bir yerden bir yere gitmek için ekonomik olması için aşağıdaki araçlardan hangisi kullanılmalıdır?

- A) Özel otomobil B) Taksi
C) Uçak D) Belediye otobüsü

6- Antalya'dan İstanbul'a gitmek için uçağı tercih eden kişinin tercih nedeni aşağıdakilerden hangisi olamaz?

- A) Hız B) Konfor
C) Ücret D) Güvenlik

7- Aşağıdakilerden hangisi emniyet kemeri kullanmanın yararlarındandır?

- A) Uyuyarak rahat yolculuk sağlamak
B) Ölüm ve yaralanmaları en aza indirmek
C) Akaryakıttan tasarruf sağlamak
D) Sürücünün rahat nefes almasını sağlama

8- Aşağıdakilerden hangisi kaza nedeni olabilir?

- A) Uykusuz araç kullanmak
B) Yeşil ışıkta geçmek
C) Kırmızı ışıkta durmak
D) Trafik kuralına uygun hızda gitmek

9- Yayalar, karanlıkta yürürken kolay görülebilmeleri için aşağıdaki önlemlerden hangisini almalıdırlar?

- A) Sürücüleri el işareti ile uyarmalıdırlar.
B) Açık renk giysiler giymelidirler.
C) Grup halinde yürümelidirler.
D) Koyu renkli giysiler giymelidirler.

10- Kazada yaralanan biri için öncelikli olarak aşağıdakilerden hangisi yapılmalıdır?

- A) Kazazedenin ailesine haber verilmelidir.
B) 112 Acil Yardım Merkezine telefon edilmelidir.
C) Kazazede en yakın sağlık kuruluşuna götürülmelidir.
D) Muhatara haber verilmelidir.

11- Aşağıdakilerden hangisi toplu taşıma araçlarından değildir?

- A) Vapur B) Motosiklet
C) Tramvay D) Metrobüs

12- Aşağıdaki trafik levhası ne anlama gelir?



- A) Ana yol B) Yavaşla
C) Işıklı işaret cihazı D) Demir yolu

13- Toplu taşıma araçlarına binerken ve inerken sıra yapılmasının nedeni ne olabilir?

- A) Trafiği engellemek.
- B) Başkasının hakkını çalmak.
- C) Biniş ve inişlerde kargaşa oluşmasını engellemek.
- D) Vakit kaybına sebep olmak.





14- Aşağıdakilerden hangisi trafikte geçiş üstünlüğünü ilk önce kullanır?

- A) İtfaiye
- B) Ambulans
- C) Kurtarma aracı
- D) Polis

15-Yaya kaldırımında yürürken aşağıdakilerden hangisi yapılmamalıdır?

- A) Engellere dikkat etmek.
- B) Sağdan yürümek.
- C) Yaşlılara öncelik tanımak.
- D) İtişmek kakışmak.

16- Hangisi toplu taşıma aracıdır?

- A) 
- B) 
- C) 
- D) 

17-Aşağıdakilerden davranışlardan hangisinin taşıt içinde yapılması sakıncalıdır?

- A) Taşıtın camından dışarı sarmak.
- B) Şoförü rahatsız etmemek.
- C) Emniyet kemerini takmak.
- D) Taşıtın içinde top oynamak

18-Aşağıdakilerden hangisi toplu taşıma araçlarını kullanmanın faydaları arasında değildir?

- A) Trafik yoğunluğunun azaltılması.
- B) Gidilecek yere daha çabuk varılması.
- C) Çevre kirliliğini artırmak.
- D) Daha ucuza ulaşım sağlamak.

19- Aşağıdaki ifadelerden doğru olanların başına (D), yanlış olanların başına (Y) koyunuz.

- () Bisikletin kornası ve freni bisiklete binilmeden önce kontrol edilmelidir.
- () Yayalar için KIRMIZI ışık yandığında karşıdan karşıya geçmeliyiz.
- () Karşıdan karşıya geçerken yaya geçidinin sağından yürümeliyiz.
- () Kaza sonrasında yapacağımız yanlış müdahale ile yaralıların sakat kalmasına neden olabiliriz.
- () Okula giderken kısa olan yolu değil, güvenli olan yolu seçmeliyiz

20-Aşağıdaki boşlukları, uygun kelimelerle dolduralım

durmadan - yaya kaldırımı - banketli - binilir -tek sıra

*Banket veya..... olmayan yerlerde taşıt yolunun solundan yürümeliyiz.

*Yaya kaldırımı olmayan yerlerde..... yerden yürüyebiliriz.

*Kalabalık bir grup halinde yürüyeceksek..... halinde yürümemiz uygun olur.

*Yolculuk sırasında taşıtlar tam olarak..... taşıttan inmemeliyiz

*Toplu taşıma araçlarına ön kapıdan.....arka kapıdan inilir.

Not: Her soru 5 puandır.

B A Ş A R I L A R

Mehmet AKİSTİ
4/A Sınıf Öğretmeni