

SAYI PROBLEMLERİ

9243'ün 4401 eksiğinin 4254 eksiği kaçtır?

588

4721 sayısının kaç fazlası 5362 eder?

6682

2094 eksiği 4588 eden sayı kaçtır?

1067

26 ile toplamı 7415 eden sayının 2628 eksiği kaçtır?

4761

641

ZİHİNDEN ZİNCİRLEME SORULAR

Aşağıdaki soruların cevaplarını bulun ve aşağıdan işaretleyin.

30 sayısının 5 ile bölümünün 7 katının 15 eksiği kaç eder?

5 sayısının 3 katının 7 eksiğinin 2 ile bölümü kaç eder?

4 sayısının 9 katının 20 eksiğinin 6 fazlası kaç eder?

28 sayısının 19 eksiğinin 5 katının 13 fazlası kaç eder?

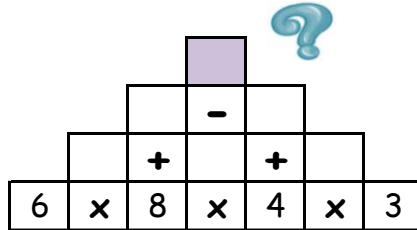
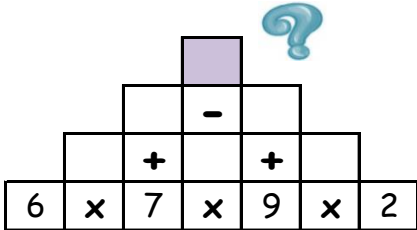
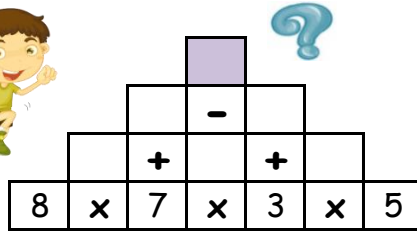
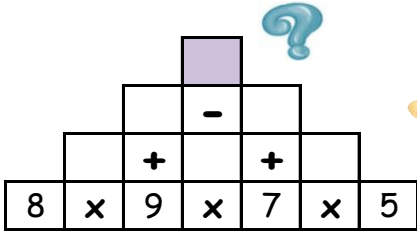
2 sayısının 4 katının 2 ile bölümünün 3 eksiği kaç eder?

3 sayısının 5 katının 34 fazlasının 7 ile bölümü kaç eder?

22 - 27 - 7 - 4 - 58 - 1

ÇARPMA TOPLAMA VE ÇIKARMA PİRAMİDİ

Piramitte işlemleri yaparak tepelerdeki sayıları bulun ve aşağıdan işaretleyin.



37 41 24

20 36 15

TERS İŞLEM PROBLEMLERİ - ÇOK ZOR

Aşağıdaki soruların cevaplarını bulun ve işaretleyin.

8 ile bölümünün 1 eksiğinin 5 katı 35 eden sayı kaçtır?

29 eksiğinin 6 katının 2 ile bölümü 9 eden sayı kaçtır?

34 fazlasının 32 eksiğinin 5 ile bölümü 7 eden sayı kaçtır?

7 katının 2 ile bölümünün 1 eksiği 6 eden sayı kaçtır?

Hangi sayının 4 katının 13 fazlasının 5 ile bölümü 5 eder?

39 eksiğinin 6 fazlasının 2 ile bölümü 6 eden sayı kaçtır?

32 - 64 - 2 - 3 - 45 - 33