

**2020-2021 EĞİTİM ÖĞRETİM YILI A.E.K İLKOKULU 4/B SINIFI**  
**FEN BİLİMLERİ DERSİ 1. DÖNEM 1. SINAVI (BEPLİ ÖĞRENCİ İÇİN)**


AD SOYAD:..... SINIF..... NO.....

**1.Dünya' nın şekli hangisidir ?( 10 puan)**

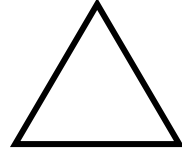
A.



B.



C.



**2. Yer kabuğunun üzerinde hangisi yoktur?(10 puan)**

A. Taş

B. Kum

C. Bulut


**3. Aşağıdakilerden hangisi hayvansal besindir? (10 puan)**

A. Et

B. Domates

C. Havuç

**4 Aşağıdaki boşluklara uygun harfleri yazınız.**



**GECE** (.....)

**GÜNDÜZ**(.....)

**DÜNYA**



**5. Hangisi sađlıklı yiyecektir?(10 puan)**

**A.**



Elma

**B.**



Hamburger

**C.**



Cips

**7. Kuyumculuk, takı ve süslemede kullanılan maden hangisidir? (10 puan)**

**A.**



Altın

**B.**



Kömür

**C.**



Bor

**8. Dünya'nın Güneş etrafında yaptığı hareket hangisidir? (10 puan)**

**A.** Dolanma hareketi

**B.** Dönme hareketi

**C.** Sallanma Hareketi

**9. Hayvansal gıdalara 2 tane örnek yazınız.**

.....

.....

**10 Bitkisel gıdalara 2 örnek yazınız.**

.....

.....

