

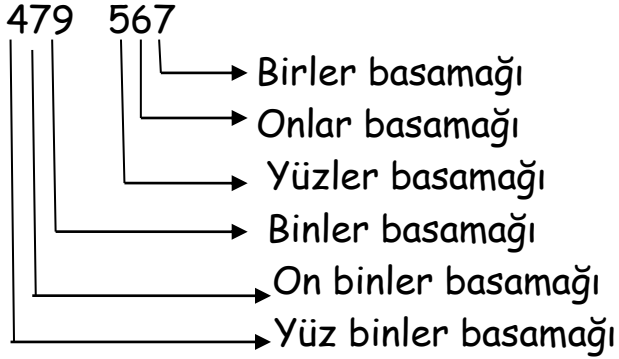
4 - G SINIFI MATEMATİK ETKİNLİĞİ " DOĞAL SAYILAR"



Aşağıda verilen doğal sayıların basamak adlarını örnekteki gibi yazınız.

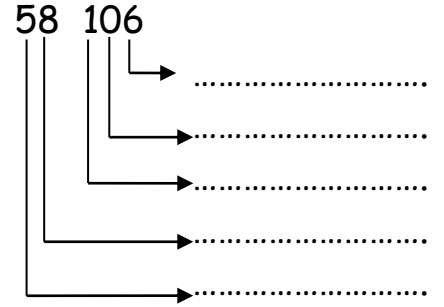
Binler Bölüğü

Birler Bölüğü



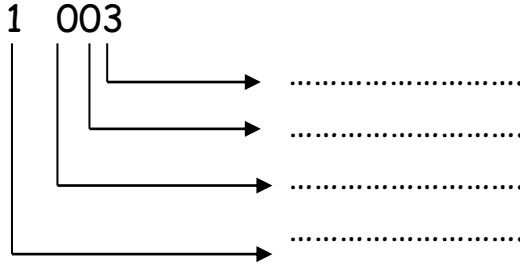
Binler Bölüğü

Birler Bölüğü



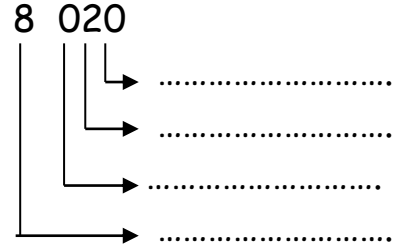
Binler Bölüğü

Birler Bölüğü



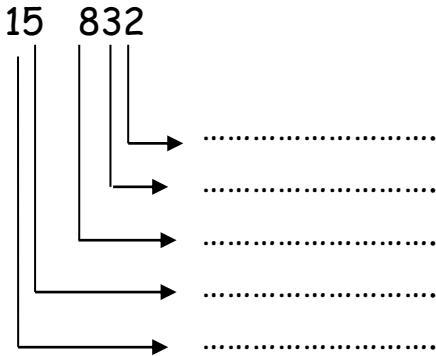
Binler Bölüğü

Birler Bölüğü



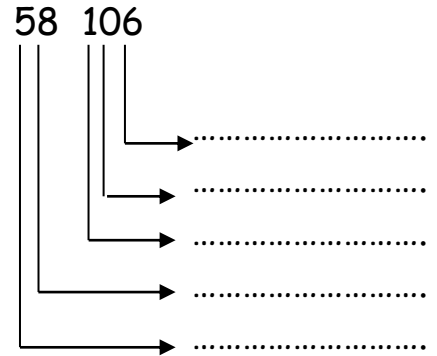
Binler Bölüğü

Birler Bölüğü



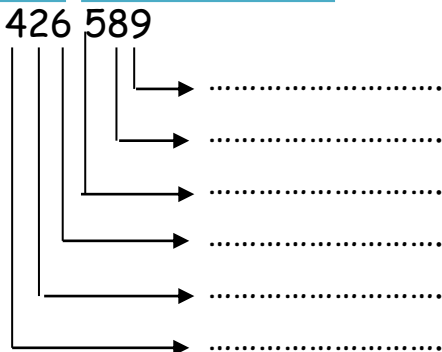
Binler Bölüğü

Birler Bölüğü



Binler Bölüğü

Birler Bölüğü



Binler Bölüğü

Birler Bölüğü

