

Haftalık Ödev

17-21 MAYIS



SIİRT
İL MİLLÎ EĞİTİM MÜDÜRLÜĞÜ

[www.
siirt.meb.gov.tr](http://www.siirt.meb.gov.tr)



1. "Ayşe günlerdir hiç konuşmuyordu. Sürekli pencereden dışarıyı seyrediyordu. Ali ve babasını el ele yürürken görünce bilmeden yumruklarını sıkmişti. Ayşe babasının yanlarında olmamasına çok içerlemişti."

Yukarıdaki metne göre Ayşe hangi duyguyu taşımaz?

- A) Sevinç B) Üzüntü
C) Özlem D) Öfke

2. Aşağıdaki cümlelerin hangisinde neden – sonuç ilişkisi yoktur?

- A) Arkadaşına güvenip gelmiş.
B) Patrona kızmış işten ayrılmış.
C) Giderken bize uğrayacakmış.
D) Bu kazağı beğenmiş almış.

3) Aşağıdakilerden hangisinde kesme işareti (') yanlış kullanılmıştır?

- A) Bugün Elazığ'a gideceğim.
B) En büyük şehir İstanbul'dur.
C) Esmâ'ları da çağırılmalısın
D) Serkan'ın abisi askerden gelmişti.

4. Aşağıdaki sözcüklerden hangisi çoğul eki (–ler, -lar) almıştır?

- A) kiler B) diler
C) siler D) eller

5. Aşağıdaki tümcelerin hangisinde topluluk ismi yoktur?

- A) Ailemle birlikte tatile gideceğim.
B) Ordumuz dün büyük bir zafer kazandı.
C) Bu sınıf başarılarıyla adından söz ettiriyor.
D) Kardeşim yaramazlık yapmadan duramaz.

6. “ dolu” sözcüğü aşağıdaki tümcelerin hangisinde farklı bir anlamda kullanılmıştır?

- A) Bu şişe süt dolu.
B) Bu yağın dolu.
C) Sınıf öğrencilerle dolu.
D) Cebim para dolu.

7. “ dış bilemek” deyiminin anlamı aşağıdakilerden hangisidir?

- A) Kötülük yapmak için fırsat beklemek
B) Birinin durumuna belli etmeden gülmek
C) Gücü yetmemek, söz geçirememek
D) Önem vermemek, dinlememek

8. Ben şu üç meyveyi çok severim()
erik() elma() kavun()

Yukarıdaki cümlede parantezlerin içine gelmesi gereken noktalama işaretleri hangi seçenekte doğru sıralanmıştır?

- A) (;) (,) (,) (.) B) (!) (.) (,) (!)
C) (.) (,) (;) (.) D) (...) (,) (;) (...)

9. "Biber" kelimesine, aşağıdaki eklerden hangisi eklenirse, yapısı değişmez?

- A) -li B) -lik C) -ler D) -ci

10. Aşağıdaki cümlelerin hangisinde özel isim kullanılmamıştır?

- A) Dayım, Rize'den döndü.
B) Öğrenciler de törende hazır bulundu.
C) Ahmet'in gözleri anahtar deliğini aradı.
D) Ayşe Hanım, çocukları çok severdi.

11. Aşağıdaki cümlelerin hangisinde "-de" eki yanlış yazılmıştır?

- A) Annem, babam, kardeşim; üçü de iyidir.
B) Siz de bizimle gelmelisiniz.
C) Yurdumuzu da, bayrağımızı da severiz.
D) Atatürk kalbimiz de yaşayacaktır.

12. "Elif, annesi ile birlikte pazardan geliyordu." Cümlesinde aşağıdaki sorulardan hangisinin cevabı yoktur?

- A) nereye B)nereden
C) kim D)kiminle

13. Aşağıdaki cümlelerin hangisinde noktalama yanlışı yapılmamıştır?

- A) Çok kitap okumalısın.
B) Türkiye'nin görülmesi gereken illerinden biri de Elazığ'dır.
C) Hafta sonu yüzmeye gidecek miyiz.
D) Bugün ne yapmak istersiniz?

14. "Ben en çok ilkbaharı sevdim. Çocukluğumda ilkbaharda doğada bulunurdum. O yeni doğmuş canlıların sesleri ve oyunları, tabiatın yeşile ve sarıya bürünmesi beni hep cezbetti. Belki de bundandır benim ilkbaharı sevmem."

Cezbetmek: Kendine çekmek, bağlamak, etkilemek.

Parçada kişi ilkbaharı sevmesini neye bağlamaz?

- A) Çocukluğunda ilkbaharda doğada bulunmasına
B) İlkbaharda birçok yeri gezmeye vaktinin olmasına
C) Yeni doğmuş canlıların sesleri ve oyunlarının kendisini cezbetmesi
D) Tabiatın yeşilinin ve sarısının kendisini cezbetmesi

15. "Eee, yeter artık" Cümlesinin sonuna hangi noktalama işareti gelmelidir?

- A) (!) B) (.) C) (?) D) (,)

16. "İmdat yardım edin" Cümlesinin sonuna hangi noktalama işareti konulmalıdır?

- A) (?) B) (.) C) (!) D) (...)

17. Aşağıdaki cümlelerin hangisinin sonuna nokta (.) konması gerekir?

- A) Öğretmen dedi ki
B) Tiyatro parasını verdin mi
C) İmdat, yardım edin
D) Gülümsemeni özledim

**18. “Onu, küçüklüğünden beri tanırım.”
Cümlesinde adıl (zamir) olan sözcük
hangisidir?**

- A) Onu B) küçüklüğünden
C) beri D) tanırım

**19. “ Bir toplumun kültür ölçüsü
tiyatrosudur. İnsanlığı onunla ölçülür.
Adama insanlık duygusu orada aşılır.
Oturmayı, kalkmayı-dinlemeyi, inceliği,
birbirimizi sevmeyi orada öğreniriz.”**

**Yukarıdaki parçaya en uygun başlık
aşağıdakilerden hangisidir?**

- A) Tiyatrosuz
B) Yaşamak insanın Eğitimi
C) Tiyatronun Eğlencesi
D) Tiyatronun Önemi




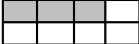
**20. "Dedemin () gençlik yıllarına ait
anlatacağı çok şeyleri vardı() Bir
keresinde şöyle demişti()" cümlesinde,
parantezlerin bulunduğu yerlere
konulması gereken noktalama işaretleri
hangi seçenekte doğru olarak
verilmiştir?**

- A) (,) (.) (:)
B) (;) (.) (;)
C) (.) (!) (:)
D) (:) (.) (!)

1. “Payı paydasından küçük olan kesirlere kesir denir.”
tümcesinde boş bırakılan yere
aşağıdakilerden hangisi gelmelidir?

- A) Basit B) Bileşik
C) Tam Sayılı D) Bütüne Eş

2. $\frac{2}{8}$ kesrinin modelle gösterimi
aşağıdakilerden hangisidir?

- A)  B) 
C)  D) 

3. Aşağıdaki kesirlerden hangisi birim kesirdir?

- A) $\frac{3}{4}$ B) $\frac{1}{7}$ C) $\frac{2}{3}$ D) $\frac{4}{6}$

4. Aşağıdaki kesirlerden hangisi basit kesirdir?

- A) $\frac{11}{12}$ B) $\frac{14}{13}$ C) $\frac{10}{10}$ D) $\frac{11}{9}$

5. Aşağıdakilerden hangisi bileşik kesirdir?

- A) $\frac{11}{14}$ B) $\frac{14}{14}$ C) $\frac{8}{9}$ D) $\frac{1}{13}$

6. Aşağıdaki kesirlerden en büyüğü hangisidir?

- A) $\frac{3}{6}$ B) $\frac{1}{6}$ C) $\frac{6}{6}$ D) $\frac{4}{6}$

7. 35 kg elmanın $\frac{3}{7}$ u kaç kg eder?

- A) 5 B) 35 C) 15 D) 20

8. 2 saatin $\frac{4}{6}$ kaç dakika eder?

- A) 40 B) 10 C) 20 D) 80

9. $6\frac{1}{5} + 1\frac{3}{5}$ işleminin sonucu nedir?

- A) $1\frac{4}{5}$ B) $3\frac{1}{5}$ C) $7\frac{4}{5}$ D) $4\frac{2}{5}$

10. $\frac{3}{4} - \frac{2}{4}$ işleminin sonucu kaçtır?

- A) $\frac{4}{4}$ B) $\frac{3}{2}$ C) $\frac{3}{4}$ D) $\frac{1}{4}$

11. 50 sayısının $\frac{3}{5}$ 'i kaçtır?

- A) 30 B) 20 C) 40 D) 10

12) 6 katı 90 olan sayının $\frac{3}{5}$ 'ü kaçtır?

- A) 3 B) 6 C) 9 D) 12

13. Birinin saatteki hızı 85 km, diğerinin hızı 90 km olan iki otomobil aynı anda karşılıklı olarak hareket ediyorlar. Otomobiller 6 saat sonra karşılaştıklarına göre A ve B şehirleri arası kaç km'dir?



A) 510 B) 1000 C) 540 D) 1050

14. Bir araç 540 km'lik yolu 6 saatte tamamladığına göre 1 saatte ortalama kaç km yol almıştır?



A) 90 B) 100 C) 85 D) 95

15. Yarısının 40 fazlası 120 olan sayının 7 katı kaçtır?

A) 280 B) 560 C) 1120 D) 700

16) Anne ile babanın yaşları toplamı 72'dir. Baba anneden 2 yaş büyük olduğuna göre baba kaç yaşındadır?

A) 35 B) 37 C) 34 D) 36

17. Kalanlı bir bölme işleminde bölen 5, bölüm 19 ise bölünen sayı en çok kaç olur?

A) 99 B) 100 C) 95 D) 91

18. Bir çıkarma işleminde eksilen, çıkan, farkın toplamı 704'tür. Eksilen kaçtır?

A) 350 B) 352 C) 355 D) 356

19. Biz 3 kardeşiz. Annem her birimize 17'şer fındık verince kendisine 69 fındık kalıyor. Annemin dağıtmadan önce kaç fındığı vardı?

A) 51 B) 86 C) 120 D) 130

20. Aşağıdaki işlemde $\blacklozenge + \bullet + \blacktriangle$ kaçtır?

	5	0	\blacklozenge	7
+	3	9	8	\bullet
	\blacktriangle	0	7	0

A) 18 B) 19
C) 20 D) 21

1. Aşağıdakilerden hangisi ışık kirliliğinin fazla olduğu yerlerden biri değildir?

- A) Alışveriş merkezi
- B) Stadyum
- C) Köy
- D) Ameliyathane

2. Aşağıdakilerden hangisi ses teknolojisinin gelişmesiyle ortaya çıkan bir sonuçtur?

- A) Floresan
- B) Radyo
- C) Isıtıcı
- D) Ampul

3. Hangisi ses şiddetini artırmaya yarayan araçlardan biri değildir?

- A) Mikrofon
- B) Steteskop
- C) Megafon
- D) Fonograf

4. Hangi seçenekteki ifade ışık kirliliğinin sonuçlarından biri değildir?

- A) Doğal hayatın zarar görmesi
- B) Gökyüzü incelemelerin doğru yapılamaması
- C) İnsan sağlığının olumsuz etkilenmesi
- D) Şehir merkezinde yüksek binaların olması

5. Aşağıdakilerden hangisi bir aydınlatma aracı değildir?

- A) Fonograf
- B) El feneri
- C) Led lambalar
- D) Mum

6. Aşağıdakilerden hangisi ses yalıtımında kullanılan bir malzeme değildir?

- A) Çimento
- B) Elyaf
- C) Çift cam
- D) Köpük

7. Işık kirliliği ışığın,

- I. Yanlış yönde
- II. Yanlış miktarda
- III. Yanlış zamanda

kullanımlarından hangileri meydana getirir?

- A) Yalnız I
- B) I ve II
- C) II ve III
- D) I,II,III

8. Aşağıdakilerden hangisi gürültünün insan s.ğlığı üzerindeki etkilerinden biri değildir?

- A) Anlamayı güçleştirir.
- B) Sinirli ve gergin olmaya neden olur.
- C) Görme duyumuzu engeller.
- D) İşitme kaybına neden olur.

9. Aşağıda verilenlerden hangisini yapmak göz sağlığımız için önemlidir?

- A) Televizyonu yakından izlemek
- B) Kitapla göz arasında 35-40 cm bırakmak.
- C) Bilgisayarı uzun süre kullanmak.
- D) Fazla ışıktaki kitap okumak.

10. Kaynağından çıkarak kulağımıza kadar gelen ses nasıl yayılır?

- A) Her yönde yayılır.
- B) Bir yönde yayılır.
- C) Yayılmaz.
- D) İki yönde yayılır.

11. Aşağıdakilerden hangisi doğal ışık kaynaklarına bir örnektir?

- A) Mum
- B) Kibrit
- C) Güneş
- D) Lamba

12. Aşağıda verilen ifadelerden hangisi yanlıştır?

- A) Ses bir enerji türüdür.
- B) Ses üreten cisimler titreşirler.
- C) Ses kaynağından uzaklaştıkça sesin şiddeti artar.
- D) Bazı cisimlerin ürettiği sesleri duyamayız.

13. Aşağıdaki bilim adamlarından hangisi aydınlanma teknolojisinin gelişmesine en büyük katkıyı sağlamıştır?

- A) Newton
- B) Thomas Edison
- C) Einstein
- D) Pastör

14. Aşağıdakilerden hangisi ışık kaynağı olmadığı halde çevresine ışık yayıyormuş gibi algılanan maddelerden biri değildir?

- A) reflektör
- B) ayna
- C) alüminyum folyo
- D) gaz lambası

15. Işığın hesap makineleri vb. araçları çalıştırması bize hangi özelliğini gösterir?

- A) Cisim olduğunu
- B) madde olduğunu
- C) enerji olduğunu
- D) somut olduğunu

16. “ Işığın yanlış yerde, yanlış miktarda, yanlış yönde ve yanlış zamanda kullanılmasına ışık kirliliği denir. “

Yukarıdaki bilgiye göre aşağıdakilerden hangisi bu olayın sonucu değildir?

- A)Kaplumbağaların yaşamlarını olumsuz etkilemesi
- B)Göçmen kuşların göç yollarını kaybetmelerine neden olması.
- C) Gök cisimlerinin incelenmesini olumsuz etkilemesi
- D) Sokakların daha güvenli hale gelmesi

17. Sesin oluşabilmesi için maddenin ne yapması gerekir?

- A) titreşmesi
- B) ısınması
- C) soğuması
- D) hareket etmesi

18. Aşağıda sesle ilgili verilen bilgilerden hangisi yanlıştır?

- A) Ses bir enerjidir
- B) Ses dalgalar halinde yayılır
- C) Ses doğrusal bir yolla yayılır
- D) Ses kaynağından uzaklaştıkça daha az duyulur

19. Aydınlatma teknolojilerinin gelişmesine önayak olan ilk icat aşağıdakilerden hangisidir?

- A) ampul
- B) floresan
- C) meşale
- D) gaz lambası

20. Göz sağlığımızı korumak için aşağıdakilerden hangisinin yapılması doğru değildir?

- A) Aydınlatma çok parlak veya loş olmamalıdır
- B) İyi görebilmek için ışık direkt gözümüze gelmelidir
- C) Yazı yazarken veya kitap okurken ışık soldan gelmelidir
- D) Işık doğrudan göze gelmemelidir

1. 1914-1918 yılları arasında yaşanan 1.Dünya Savaşı'ndan Osmanlı devleti yenik ayrılınca 30 Ekim 1918'de Mondros Ateşkes Antlaşmasını imzalamak zorunda kaldı. Bu antlaşma ile İtilaf Devletleri Anadolu'yu işgale başladılar.

Aşağıdakilerden hangisi bu durum karşısında Mustafa Kemal ve Türk halkının izlediği yollardan biri değildir?

- A)İşgalleri protesto eden mitinglerin yapılması
- B)Kongrelerin yapılması
- C)Kuvay-ı Milliye birliklerinin kurulması
- D)Osmanlı Hükümeti ile her konuda iş birliği yapılması

2. Birleşmiş Milletler Genel Kurulu tarafından çocuk haklarını savunmak ve çocukların temel ihtiyaçlarının karşılanmasına yardımcı olmak için kurulan uluslararası kuruluşun kısaltması hangisidir?

- A)UNICEF B)NATO
- C)UNESCO D)AÇEV

3. Aşağıdakilerden hangisi aile bütçesinde öncelikli harcamalar arasında yer almamalıdır?

- A)Isınma harcamaları
- B) Gıda harcamaları
- C) Tatil ve eğlence harcamaları
- D)Eğitim ve sağlık harcamaları

4. Aşağıdakilerden hangisi demokrasi kavramı ile ilgili değildir?

- A)Ulusal egemenlik
- B)Saltanat
- C)Siyasi partiler
- D)Seçimler

5. Ürün elde edilmeyen ama hizmet üreten meslekler vardır.

Aşağıdakilerden hangisi hizmet üreten mesleklerden değildir?

- A)Garson B)Doktor
- C)Çiftçi D)Şoför

6.Tarihimizde gerçekleşen bazı önemli olayları günümüzde milli bayram olarak kutlarız.

Yukarıdaki bilgiye göre aşağıdakilerden hangisi milli bayram olarak kutladığımız bir günün sebebi değildir?

- A)Cumhuriyetin ilanı
- B)Atatürk'ün Samsun'a çıkışı
- C)TBMM'nin açılması
- D)I. İnönü Savaşı



7. Merve Naz, haritada Ankara'nın kuzeybatısında olan ilde yaşamaktadır. Buna göre Merve Naz'ın yaşadığı ilde aşağıdaki tarihi yerlerden hangisi bulunur?

- A) Dolmabahçe Sarayı
- B) Diyarbakır surları
- C) Sümela Manastırı
- D) Balıklı Göl

8. Aşağıdakilerden hangisi bir öğrenci için istek olarak nitelendirilebilir?

- A) Güvenli bir yuvada büyüme
- B) Tablette oyun oynama
- C) Soğuktan korunmak için bere takma
- D) Okula gelmeden önce kahvaltı yapma

9. \triangle Belirli bir işlem sonucunda yeni bir mal ya da hizmetin meydana gelmesine verilen ad

☐ üretilen ürünlerin çeşitli araçlarla tüketiciye ulaştırılmasıdır

☐ üretilen ürünlerin tüketici tarafından alınıp kullanılmasıdır

Yukarıdaki tanımlar hangi kavramların karşılığıdır?

A) \triangle tüketim B) \triangle dağıtım

☐ dağıtım ☐ üretim

☐ üretim ☐ tüketim

C) \triangle üretim D) \triangle üretim

☐ dağıtım ☐ tüketim

☐ tüketim ☐ dağıtım

10. Yeni kimlik kartlarımızın arka yüzünde bazı bilgilerin depolandığı bir çip vardır.

Aşağıdakilerden hangi bilgi bu çipte yer alan bir bilgi değildir?

A) Aile sıra no

B) mesleğimiz

C) Parmak izi

D) Nüfusa kayıtlı olduğumuz il

11. Öğretmen "Çocuklar hava olaylarına birer örnek verir misiniz?" dedi.

Aşağıdakilerden hangisinin verdiği örnek yanlıştır?

- A)Roza: Rüzgar
- B)Ebrar: Sıcaklık
- C)Şevval: Yağış
- D)Mustafa: Sel

12. Deprem için hangisi söylenemez?

- A)Önlenebilir
- B)Zararları aza indirilebilir.
- C)Tam zamanı önceden bilinemez.
- D)Şiddeti ölçülebilir.

13. Ereğli ve Karabük demir çelik fabrikalarının Zonguldak yakınlarında kurulmasının temel nedeni aşağıdakilerden hangisidir?

- A)Ekonomik faaliyetlerinin çeşitli olması
- B)Taş kömürü yataklarının bulunması
- C)Nüfusun fazla olması
- D)Tarıma elverişli olmaması

14.Ülkemizde en çok Antalya ve çevresinde yapılan her mevsim taze meyve ve sebzeye ulaşmamızı sağlayan ekonomik faaliyet hangisidir?

- A)Madencilik
- B) Sanayi
- C)Hayvancılık
- D) Seracılık

15. Yeşil alanlara zarar vermemek, otobüse sırayla binmek, yaşlılara yardım etmek aşağıdaki alanların hangisindeki sorumluluklarımızdandır?

- A) Toplum B) Okul C)Aile D)Sınıf

16. Her birey bulunduğu gruplarda üzerine düşen görev ve sorumlulukları yerine getirmek durumundadır. Yerine getirilmeyen sorumluklar aşağıdakilerden hangisine sebep olabilir?

- A)Yapılacak işler daha çabuk biter
- B) Grubun başarısı artar
- C) Grup üyeleri arasında çatışmalar çıkar
- D)Gruptakiler arasında uyum ve sevgi artar

17. Çalışmaları sonucunda radyonun da mucidi olan İtalyan bilim insanı telsizi de icat etmiştir.

Yukarıdaki boşluğa hangi bilim insanının adı yazılmalıdır?

- A)Edison
- B)Marconi
- C)Samuel Mors
- D)George Mestral

18. Birçok icat doğadan ve doğadaki canlılardan esinlenilerek yapılmıştır.

Sivrisineğin hortumu aşağıdakilerden hangisinin icadında etkili olmuş olabilir?

- A) Makas
- B) Ataş
- C) Çengelli iğne
- D) Şırınga iğnesi

19. Dünya üzerindeki suların çok az bir kısmı içme suyu olarak kullanılabilir. Birçok insan sağlıklı içecek suya ulaşmada güçlük çekmektedir. Tükenebilir bir kaynak olan suyun israfını önlemek için aşağıdakilerden hangisini yapmak doğru olmaz?

- A) Dişlerimizi fırçalarken musluğu açık bırakmak
- B) Bozulan muslukları hemen tamir ettirmek
- C) Sifonu ihtiyaç duyulduğunda çekmek
- D) Bulaşık makinesini tam dolduktan sonra çalıştırmak

20. Aşağıdaki bilgilerden hangisi yanlıştır?


- A) Atatürk'ün il görev yeri Şam'dır.
- B) Atatürk' Gazilik ve Mareşallik ünvanı Sakarya Meydan Muharebesinin kazanılmasından sonra verildi.
- C) Atatürk "Ordular ilk hedefiniz Akdenizdir, ileri" emrini Çanakkale Savaşında vermiştir
- D) Atatürk Cumhuriyet ilan edilince Cumhurbaşkanı oldu.

1. Look at the pictures and write the words under the pictures. (Resimlere bakalım ve kelimeleri altına yazalım.)

meet with my friends
go to bed

go shopping
have breakfast

brush my teeth
get dressed
have a shower



2. WHAT TIME IS IT ?

- 1) 07:00-----
- 2) 03:40-----
- 3) 07:55 -----
- 4) 04:50 -----
- 5) 09:30 -----
- 6) 15:45 -----

- 7) 05:15 -----
- 8) 08:37 -----
- 9) 11:25 -----
- 10) 02:30 -----
- 11) 01:48 -----
- 12) 10:10 -----

3. Fill in the blanks with the suitable words. (Uygun kelimeler ile boşlukları dolduralım.)

(work have study sing start arrive use play)

1) Do you ----- a computer?

- Yes, I do.

2) I ----- English every evening.

3) Nihal and Ali ----- songs.

4) What time do the lessons ----- in the mornings?

5) My brothers ----- at the restaurant in summers.

6) I ----- home at 12:00

7) What time do you ----- breakfast?

8) The children ----- in the playground every Sunday.

4. Fill in the blanks with “in, at, on” (Boşlukları “in,at,on” ile tamamlayalım)

a. ----- 11:25

b. ----- Thursday

c. ----- 17: 40

d. ----- the weekdays

e. ----- night

f. ----- the mornings

g. ----- 1993

h. ----- noon

i. ----- the weekend

j. ----- 09:30

k. ----- February

l. ----- Tuesday

m. ----- 07:15

n. ----- 2004

o. ----- the evening

p. -----Wednesday

q. ----- Sundays and Mondays

r. ----- March

TEST TIME

1- Görseli destekleyen ifade hangi seçenekte verilmiştir?

- A. Listen to music
- B. Do homework
- C. Sing a song
- D. Wash hands



2- Boş bırakılan yere sırasıyla hangileri getirilir?

Monday Wednesday
Friday

- A. Sunday/ Saturday
- B. Tuesday/ Saturday
- C. Thursday/ Tuesday
- D. Tuesday/ Thursday

3- Aşağıdaki cümleyi söyleyen kişinin saati kaç olabilir?

Good morning!

- A. 08:30
- B. 12:00
- C. 15:15
- D. 20:00

4- “It is half past two.”

- A. 02:00
- B. 20:00
- C. 02:30
- D. 20:30

5- Boş bırakılan yere aşağıdakilerden hangisi getirilemez?

"I breakfast at eight o'clock."

- A. Drink
- B. Have
- C. Sleep
- D. Go

6- "What time do you go to school?"

- A. I go to school at 08:15
- B. I get up at 07:30
- C. I go to bed at nine, thirty.
- D. I have dinner at 19:00

7- Görseli destekleyen ifade aşağıdakilerden hangisidir?

- A. Brush teeth
- B. Leave home
- C. Arrive school
- D. Get dressed



8- Görseli destekleyen ifade aşağıdakilerden hangisidir?

- A. I meet my friends.
- B. I study English every Saturday.
- C. I go shopping with my family.
- D. I wake up at nine.



CEVAP ANAHTARI

Türkçe

1	2	3	4	5	6	7	8	9	10	11	12	13	14	15	16	17	18	19	20
A	C	C	D	D	B	A	A	C	B	D	A	C	B	A	C	D	A	D	A

Matematik

1	2	3	4	5	6	7	8	9	10	11	12	13	14	15	16	17	18	19	20
A	B	B	A	B	C	C	D	C	D	A	B	D	A	C	B	A	B	C	C

Fen Bilimleri

1	2	3	4	5	6	7	8	9	10	11	12	13	14	15	16	17	18	19	20
C	B	D	D	A	A	D	C	B	A	C	C	B	D	C	D	A	C	A	B

Sosyal Bilimler

1	2	3	4	5	6	7	8	9	10	11	12	13	14	15	16	17	18	19	20
D	A	C	B	C	D	A	B	C	B	D	A	B	D	A	C	B	D	A	C

İngilizce

Answer Key (Cevap Anahtarı)

a. Look at the pictures and write the words under the pictures. (Resimlere bakalım ve kelimeleri altına yazalım.)



Wake up / go shopping / meet my friends / have breakfast / have a shower / get dressed / brush my teeth / go to bed

1. WHAT TIME IS IT ?

- 1) 07:00 It is seven
- 2) 03:40 It is three, forty
- 3) 07:55 It is seven, fiftyfive
- 4) 04:50 It is four, fifty
- 5) 09:30 It is half past nine.
- 6) 05:45 It is quarter to six
- 7) 05:15 It is quarter past five.
- 8) 08:37 It is eight, thirty seven
- 9) 11:25 It is twenty five past eleven / It is eleven, twenty five.
- 10) 02:30 It is half past two / It is two, thirty
- 11) 01:48 It is one, forty eight.
- 12) 10:10 It is ten past ten

2. Fill in the blanks with the suitable words. (Uygun kelimeler ile boşlukları dolduralım.)

- 1) Do you **use** a computer?
- Yes, I do.
- 2) I **study** English every evening.
- 3) Nihal and Ali **sing** songs.
- 4) What time do the lessons **start** in the mornings?

- 5) My brothers **work** at the restaurant in summers.
6) I **arrive** home at 12:00
7) What time do you **have** breakfast?
8) The children **play**- in the playground every Sunday.

3. Fill in the blanks with “in, at, on” (Boşlukları “in,at,on” ile tamamlayalım)

- a. **at** 11:25
b. **on** Thursday
c. **at** 17: 40
d. **at** the weekdays
e. **at** night
f. **in** the mornings
g. **in** 1993
h. **at** noon
i. **at** the weekend
j. **at** 09:30
k. **in** February
l. **on** Tuesday
m. **at** 07:15
n. **in** 2004
o. **in** the evening
p. **on** Wednesday
q. **on** Sundays and Mondays
r. **in** March

TEST TIME

- 1- B 2- D 3-A 4- C 5-B 6-A 7-D 8-C

Çalışmada Emeği Geçen Öğretmenlerimiz

Nevzat YILMAZ

Mukaddes KAYA

Seda AYDINLI

Onur ÇELEPÇİKAY

Mesut ERDOĞAN