



RİTMİK SAYMALAR DEĞERLENDİRME TESTİ



1- Yukarıdaki ritmik saymada boş bırakılan elmaya hangi sayı yazılmalıdır?

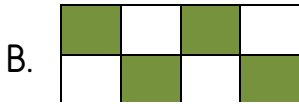


2- Altışar ritmik sayma yapan Emir 72'den sonra gelen sayıyı unuttu. Emir'in söylemesi gereken sayı kaçtır?

A. 78 B. 80 C. 76

16	34	72	54
26	48	42	64

3- Zeynep yukarıdaki tabloda sekizin katı olan kutuları boyayacaktır. Zeynep'in boyadığı tablo hangisidir?



4- Kardeşimin boyu 6'nın katı olan üç basamaklı en küçük sayı kadardır.

Mert'in kardeşinin boyu kaç santimetredir?
A. 106 B. 104 C. 102

5- 28'den başlayarak sekizer ritmik sayma yapan Gizem aşağıdaki sayılardan hangisini söyler?

A. 44 B. 38 C. 50

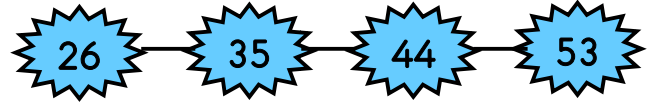
27 - - 45 - - 63

6- Yukarıdaki ritmik saymada boşluklara aşağıdakilerden hangisi gelmez?

A. 54 B. 36 C. 48

7- 63'ten başlayıp geriye doğru 7'şer ritmik sayan Mert'in 4. sırada söylediği sayı aşağıdakilerden hangisidir?

A. 4 onluk 9 birlik
B. 4 onluk 5 birlik
C. 4 onluk 2 birlik



8- Yukarıda yapılan ritmik sayma kaçar ritmik saymadır?

A. Dokuzar ileri
B. Dokuzar geri
C. Sekizer ileri

9-



6 hafta sonra tatile gideceğiz.

Esra'nın tatile gitmesini kaç gün kaldığını hangi işlemle buluruz?

A. 6 tane 6 gün
B. 6 tane 7 gün
C. 7 tane 7 gün

10- 81'den başlayıp ileri doğru dokuzar ritmik sayarken söylediğimiz 5. sayı kaçtır?

A. 122 B. 116 C. 108



15 - 24 - 33 - 41 -
51 - 60 - 69

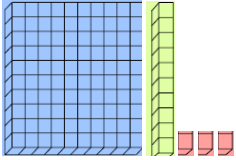
- 11- 9'ar ritmik sayma yapan İlayda hangi sayıyı hatalı söylemiştir?
A. 51 B. 41 C. 60

- 12- Aşağıda yapılan ritmik saymalardan hangisi sekizer ritmik saymadır?

A. 16 - 25 - 34 - 43

B. 27 - 34 - 41 - 48

C. 36 - 44 - 52 - 60



- 13- Hangi ritmik saymayı 71'den başlatarak yukarıda modellenmiş sayıya ulaşıyoruz?

- A. Yedişer
B. Sekizer
C. Dokuzar

- 14- 70'e yuvarlanan en küçük sayıdan başlayarak altışar ritmik sayma yapan Eyüp, 5. saymada hangi sayıya ulaşır?

- A. 83 B. 76 C. 89

18'den başlayıp kim sekizer ritmik sayma yapar?



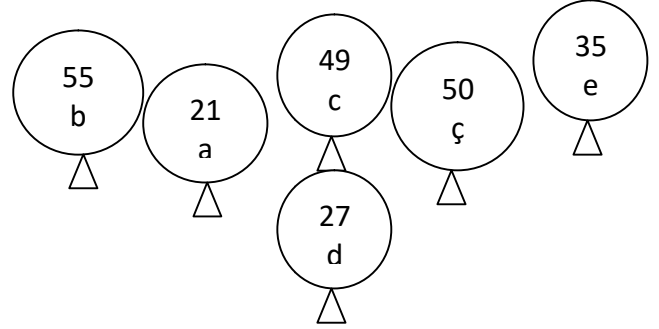
- 15- Hangi öğrenci öğretmenin sorusunu doğru cevaplamıştır?

- A. 18 - 27 - 36 - 45 - 54
B. 18 - 25 - 32 - 39 - 46
C. 18 - 26 - 34 - 42 - 50

★ 9 - 18 - 27 - 35 - 45
😊 8 - 16 - 24 - 32 - 40
♥ 7 - 14 - 28 - 35 - 42

- 16- Yukarıda yapılan ritmik saymalardan hangileri yanlış yapılmıştır?

- A. ★ 😊 B. ★ ♥ C. 😊 ♥



- 17- Yedişer ritmik sayma yapan Meryem hangi balonları boyamaz?

- A. b , ç , e
B. b , c , d
C. b , ç , d

- 18- Aşağıdaki sayılardan hangisi hem 6'nın hem de 8'in katıdır?

- A. 24 B. 36 C. 32

54 - 48 - 42 - ?...- 30

- 19- Yukarıdaki ritmik saymada "?" ile belirtilen yere gelmesi gereken sayı hangi onluğa yuvarlanır?

- A. 30 B. 40 C. 20

8 birlik + 4 onluk

- 20- Yukarıda çözümlenmiş olarak verilen sayıdan başlayarak 6'şar ritmik sayma yapan Beytullah 2. saymada hangi sayıyı söyler?

- A. 90 B. 54 C. 60