

ADI SOYADI:

Dünya'nın şekli ile ilgili öğrendiğimiz görüşlere ✓ atalım.


- ☐ Dünya düz bir dikdörtgene benzer.
- ☐ Dünya bir bardağa benzer.
- ☐ Dünya düz bir tepsiye benzer.
- ☐ Dünya büyük bir file benzer.
- ☐ Dünya büyük bir timsaha benzer.
- ☐ Dünya düz bir uçurtmaya benzer.

Dünya'nın şekli ile ilgili bilim insanlarının numaralarını görüşlere uygun yazalım.



- ☐ Dünya'nın yuvarlak olduğunu gemi ile dolaşarak ispatlamaya çalışmıştır.
- ☐ Dünya'nın şeklinin küreye benzediği söylemiş ve o dönemde cezalandırılmıştır.
- ☐ Dünya'nın küreye benzediğini söylemiş ve Dünya haritası çizmiştir.
- ☐ Pisagor'dan sonra Dünya'nın yuvarlak olduğunu kanıtlamıştır.
- ☐ Dünya'nın yuvarlak olduğunu söyleyen ilk kişidir.
- ☐ Dünya'nın şeklinin suda yüzen bir yarım küreye benzediğini söylemiştir.

### MINİ TEST



Yukarıdaki görsel hangi uygarlığın Dünya hakkındaki görüşüdür?

- A) Mayalar B) Babiller C) Eski Hintliler

	Geminin gövdesi görünür.
	Geminin yelkeni görünür.
	Geminin dumanı görünür.

Yukarıda limana yanaşan bir geminin ,Dünya'nın yuvarlaklığı açısından gelişi nasıldır?

- A) 1-2-3 B) 2-1-3 C) 2-3-1

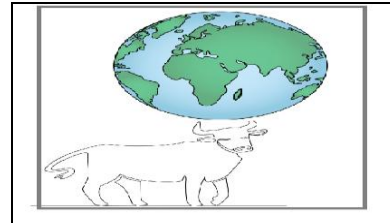
Dünya'nın şeklinin küre olduğunu söyleyen ilk kişi kimdir?

- A) Thales B) Pisago C) Macellan

çilek	portakal	armut
üzüm tanesi	muz	karpuz

Dünya'nın şekli yukarıdaki meyvelerden kaç tanesine benzer?

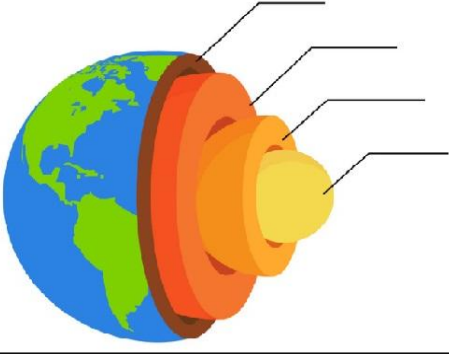
- A) 3  
B) 4  
C) 5



Yukarıdaki görseli anlatan Dünya şekli görüşü hangisidir?

- A) Dünya düz bir tepsidir.  
B) Dünya öküzün boynuzları arasındadır.  
C) Dünya fillerin sırtındadır.

Dünya'nın gözlemlenemeyen katmanlarını yazalım.



Dünya 'nın gözlemnebilen katmanlarını yazalım.

3. SINIF FEN BİLİMLERİ 1

1.

2.

3.


Tabloda kara katmanında yer alanları kahverengine, su katmanında yer alanları maviye ve hava katmanında yer alanları yeşile boyayalım.

<b>DAĞ</b>	<b>DENİZ</b>	<b>OVA</b>	<b>BULUT</b>	<b>BİNA</b>
<b>OKYANUS</b>	<b>ORMAN</b>	<b>DERE</b>	<b>TEPE</b>	<b>FIRTINA</b>
<b>KAR</b>	<b>IRMAK</b>	<b>KAYA</b>	<b>EV</b>	<b>YERALTI SULARI</b>
<b>GÖL</b>	<b>YAĞMUR</b>	<b>TAŞ</b>	<b>DOLU</b>	<b>VADI</b>

Yandaki eşleştirmeyi doğru şekilde numaralar yazarak yapalım.

1. Hava Katmanı
2. Su Katmanı
3. Çekirdek
4. Kara Katmanı
5. Manto

- ☐ Dünya 'nın merkezindeki katmandır.
- ☐ Göller bu katmanda bulunur.
- ☐ Okyanus tabanları bu katmandadır.
- ☐ Dış çekirdek ile yer kabuğu arasındaki katmandır.
- ☐ Hava olaylarının gerçekleştiği katmandır.

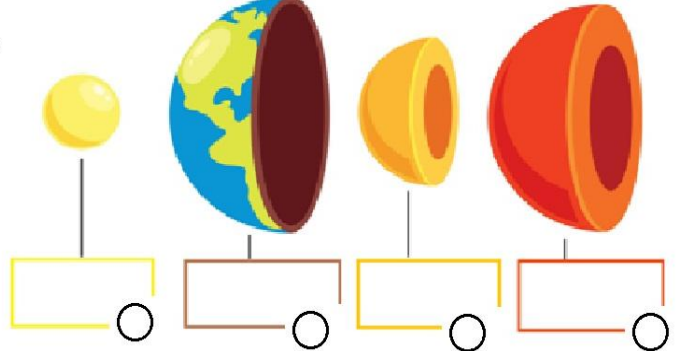


Katmanı

Katmanı

Katmanı

Dünya'nın gözlemlenemeyen katmanlarının adlarını yazarak içten dışa doğru numaralandıralım.



Soruları görsele göre cevaplayalım.



Görselin adı nedir?

Görseldeki lavlar hangi katmandan gelir?

Görselde ortaya çıkan gaz hangi katmanda yayılır?

Görselde oluşan dağ hangi katmandadır?