

ADI SOYADI:

Örüntü kurallarını yazalım.

5 11 17 23

Örüntü Kuralı:

20 22 21 23

Örüntü Kuralı:

25 35 45 55

Örüntü Kuralı:

99 97 95 93

Örüntü Kuralı:

78 71 73 66

Örüntü Kuralı:

Örüntüleri kurala göre devam ettirelim.

34

Örüntü Kuralı: 3 artar

77

Örüntü Kuralı: 2 artar, 1 azalır

85

Örüntü Kuralı: 5 artar, 10 azalır

68

Örüntü Kuralı: 4 artar, 1 azalır

18

Örüntü Kuralı: 9 artar, 6 azalır

MINİ TEST

23

33

43

53

63

73

Yukarıdaki örüntünün kuralı hangisidir ?

A) 10 azalır B) 11 artar C) 10 artar

Örüntüler belirli kurala göre ilerler.

Örüntüler rastgele ilerleyebilir.

Örüntülerde sayılar ve şekiller kullanılabilir.

Yukarıdaki ifadelerle doğruysa "D" harfi, yanlışsa "Y" harfi yazıldığında ,hangi seçenekteki sıralamaya ulaşırız?

A) DYD B) YDD C) DDD

6 artar

3 artar
1 azalır

4 azalır
2 artar

Yukarıdaki örüntü kurallarına göre hangi örüntü hatalıdır?

A) **13-19-25-31-37**

B) **34-38-36-40-38**

C) **57-60-59-61-65**

45	50	48	53	51	56	54
87	88	81	82	76	81	79
96	86	76	56	46	36	26

Yukarıdaki renklerle başlayan örüntülerden hangilerinde hata yapılmıştır?

A) SARI-MAVİ
B) SARI -YEŞİL
C) MAVİ-YEŞİL

Sayı örüntülerinin kurallarını yazalım.

3	5	7	9	11	13	15	17	19
Örüntü Kuralı:								
4	11	8	15	12	19	16	23	20
Örüntü Kuralı:								
2	0	10	8	18	16	26	22	32
Örüntü Kuralı:								

Verilen sayılardan başlayarak örüntü kuralına göre ilerleyelim.

3. SINIF MATEMATİK 5

2 artar	45							
5 azalır								
3 azalır	37							
1 artar								
10 artar	60							
5 azalır								
4 artar	51							









Örüntü kurallarını belirleyelim ve örüntüyü kurala göre devam ettirelim.









Örüntü Kuralı	Örüntü Devamı							
	71	68	65					
	99	94	89					
	17	19	21					
	11	21	31					
	120	125	130					

Örüntü kuralına göre örüntüleri devam ettirelim.

Örüntü Kuralı	Örüntü Devamı							
6 arttırarak ilerle	123							
7 azaltarak ilerle	150							
10 arttır,7 azalt	90							
8 azaltarak ilerle	148							
4 azalt, 3 arttır	69							

Görsellere karşılık gelen sayıları yazalım.

18	25	20						
9	13	11						
34	32	39						
55	63	60						
70	80	71						

Örüntü kurallarını belirleyerek örüntüleri devam ettirelim.

Örüntü Kuralı	Örüntü Devamı							