

Adı-Soyadı:

1. Aşağıda verilen matematik işlemlerini yapınız. (24p)

$$\begin{array}{r} 96 \\ - \square \\ \hline \square \square \\ - \square \\ \hline \square \end{array}$$

$$\begin{array}{r} 91 \\ - \square \\ \hline \end{array}$$

$$\begin{array}{r} 79 \\ - \square \square \\ \hline \square \square \\ - \square \square \\ \hline 0 \square \end{array}$$

$$\begin{array}{r} \square \\ - \square \\ \hline 18 \\ 4 \end{array}$$

bölünen : 52
bölen : 3
bölüm : ?
kalan : ?

$$\begin{array}{r} \dots \dots \dots \\ - \dots \dots \dots \\ \hline \dots \dots \dots \end{array}$$

$$\begin{array}{r} 57 \\ - \square \\ \hline 3 \end{array}$$

$$\begin{array}{r} 76 \\ \times 8 \\ \hline \end{array}$$

$$\begin{array}{r} 248 \\ \times 3 \\ \hline \end{array}$$

$$\begin{array}{r} 37 \\ \times 24 \\ \hline \end{array}$$


$$10 \times 50 = \square$$

$$9 \times 100 = \square$$

$$\begin{array}{r} 612 \\ - 507 \\ \hline \end{array}$$

$$\begin{array}{r} 345 \\ + 396 \\ \hline \end{array}$$


2. Aşağıda şekillerin boyalı kısımlarının kesir karşılıklarını yazınız. (12p)



.....



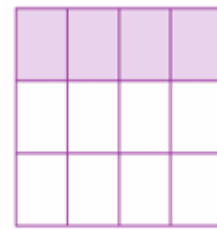
.....



.....



.....



.....



.....

3. Aşağıda verilen kesirlerin okunuşlarını ve yazılışlarını boşluklara yazınız. (12p)

$$\frac{2}{8} : \dots\dots\dots$$

$$\frac{8}{11} : \dots\dots\dots$$

$$\frac{3}{4} : \dots\dots\dots$$

Sekizde üç: —

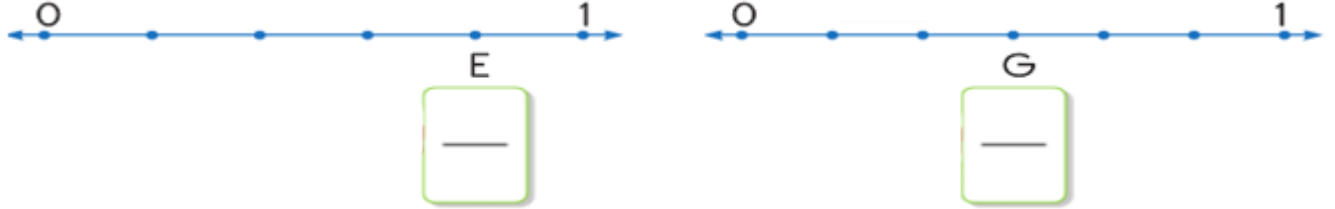
Beşte dört: —

Dokuzda iki: —

4. Aşağıda verilen kesirlerin yerini sayı doğrusu üzerinde gösterin. (6p)



5. Aşağıda sayı doğrusu üzerinde harflerle gösterilen kesirleri kutusuna yazınız. (6p)



6. Aşağıda verilen kesirlerin birim kesirlerini yazınız. (8p)



Aşağıda verilen problemleri cevaplayınız.

1. 63 yumurtanın $\frac{1}{7}$ 'ini taşırken kırdım. Kaç yumurta kalmıştır?

4. Bir simitçi 45 simidin sabah $\frac{1}{3}$ 'ini, öğlen $\frac{1}{5}$ 'ini sattı. Sattığı simitler kaç tanedir?

2. $\begin{array}{r} 7 \\ - \\ \hline 9 \end{array}$ Yandaki bölme işleminde ☸ en fazla kaç olabilir?

5. 4 düzine kalemi 3 kardeş aralarında eşit olarak paylaşıyorlar. Her birine kaç kalem düşer?

3. Marketten aldığımız beşer litrelik 15 plastik şişedeki zeytin yağını, üçer litrelik kaç cam şişeye koyabiliriz?

6. 6 kilogramını 48 TL'ye aldığımız muzdan 15 kilogram alırsam kaç TL ederim?