

1. DÖNEM MATEMATİK DEĞERLENDİRME TESTİ

1.) 3 birlik, 5 yüzlük ve 8 onluktan oluşan sayı kaçtır?

A.358

B. 583

C. 538

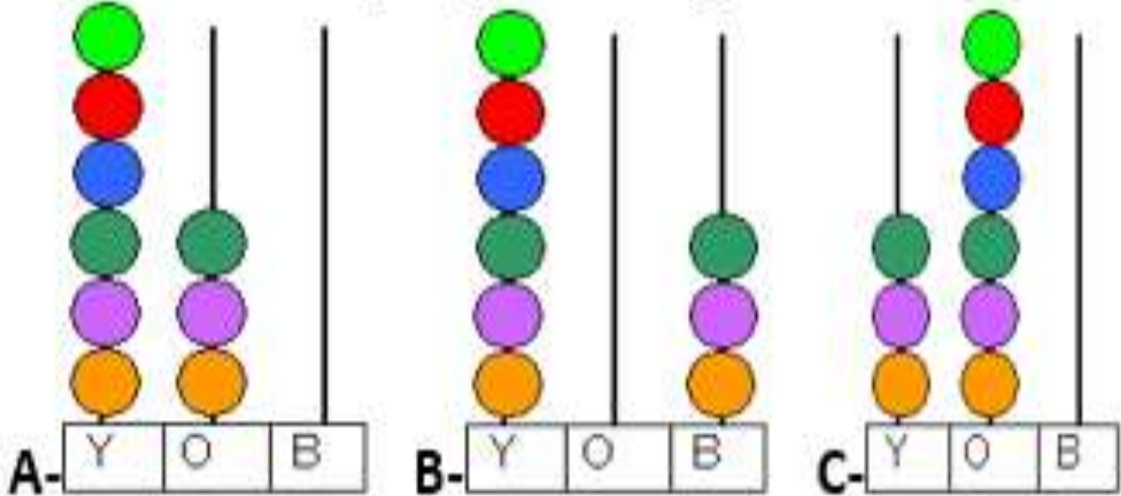
2.) “ 764 ” doğal sayısının çözümlenmiş şekli aşağıdakilerden hangisidir?

A) $(7 \times 100) + (6 \times 10) + (4 \times 1)$

B) $(7 \times 10) + (6 \times 100) + (4 \times 1)$

C) $(7 \times 100) + (4 \times 10) + (6 \times 1)$

3.) Aşağıdaki abaküslerden hangisinde “altı yüz otuz” sayısı gösterilmiştir?



4.) $27 - 36 - 45 - \dots - 63 - 72$ yandaki örüntüde boşluğa hangi sayı gelmelidir?

A) 55

B) 53

C) 54

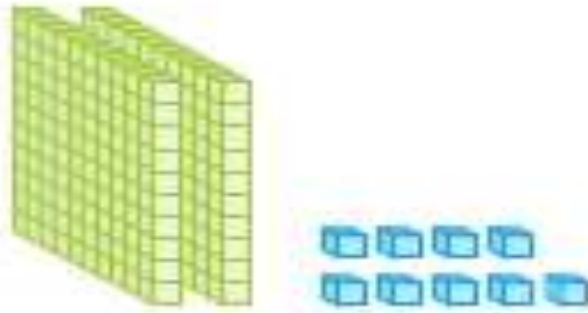
5.) “ $A > 224$ ” İfadesinde A yerine gelebilecek sayılardan en küçük olan doğal sayı kaçtır?

A) 223

B) 224

C) 225

6.)



Onluk taban bloklarıyla gösterilen sayıdan **bir sonra** gelen sayı kaçtır?

A. 210

B. 330

C. 340

7.) Aşağıdaki toplama işlemlerinden hangisinin sonucu farklıdır?

A.) 501

$$+ \underline{327}$$

B.) 354

$$+ \underline{223}$$

C.) 162

$$+ \underline{415}$$

8.) Aşağıda verilen çıkarma işlemlerinden hangisinin sonucu çift sayıdır?

A.) 589

$$\underline{- 274}$$

B.) 647

$$\underline{- 585}$$

C.) 794

$$\underline{- 275}$$

9.) Aşağıdaki karşılaştırmalardan hangisi yanlıştır?

A. 407 > 704

B. 501 > 399

C. 816 < 909

10.)

Sınıf	Öğrenci Sayısı	
	Kız	Erkek
3A	14	12
3B	11	15
3C	13	13

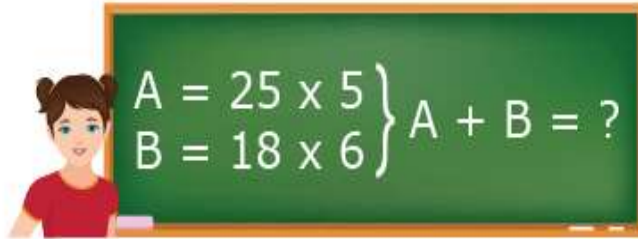
Okulumuzda 3. Sınıf öğrencileri geziye gidecektir. Sınıflardaki öğrenci sayıları yukarıdaki tabloda verilmiştir. Geziye kaç öğrenci katılmıştır?

A.) 38

B.) 40

C.) 78

11.)



Yukarıdaki çarpma işlemleri doğru yapıldığında "A+B" işleminin sonucu kaç olur?

A.) 125

B.) 233

C.) 108

12.)

$$6 \times 100 = A$$

$$10 \times 70 = B$$

$$30 \times 10 = C$$

Yukarıdaki çarpımların küçükten büyüğe sıralanışı aşağıdakilerden hangisidir?



A) $A < B < C$

B) $C < A < B$

C) $B < A < C$

13.)

\times	3	4
7		
6		


Yukarıdaki tabloya göre  +  = ?
aşağıdakilerden hangisidir?

A) 45

B) 44

C) 46

14.)



Yandaki çarpma işleminin sonucunu **onluğa yuvarlağınızda** sonuç kaçtır?

A.) 970

B.) 980

C.) 990

15.) Okulumuzda 285 kız, kızlardan 196 fazla erkek öğrenci vardır. Okulumuzun mevcudu kaçtır?

A.) 766

B.) 736

C.) 656

16.) 5 yıl önce 12 yaşımdaydım. 6 yıl sonra kaç yaşında olurum?

A.) 17

B.) 22

C.) 23

17.) Kumbaramda bulunan 450 TL paranın 128 TL'si ile bir kitap seti aldım. Kumbarama daha sonra annemin verdiği 35 TL parayı koydum. Son durumda kumbaramda kaç TL vardır?

A.) 322

B.) 357

C.) 287

18.) Bir okulda 248 erkek öğrenci vardır. Erkek öğrencilerin 79 fazlası kız öğrenci vardır. Bu okulda toplam kaç öğrenci vardır?

A) 327

B) 575

C) 744

19.) Kerem'in bilyeleri, Berat'ın bilyelerinden 58 tane fazladır. Kerem'in 95 bilyesi varsa, Berat'ın kaç bilyesi vardır?

A.) 153

B.) 37

C.) 17

20.) 493 fındığım vardı. 125 tanesini kardeşime verdim 129 tanesini yedim. Geriye kaç fındığım kaldı?

A.) 239

B.) 364

C.) 368