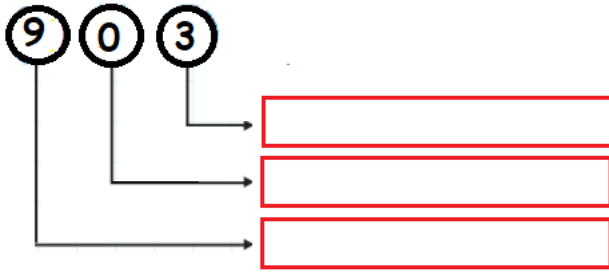
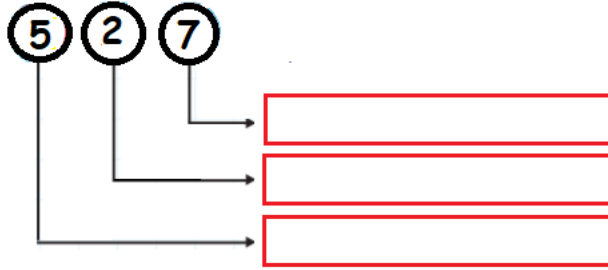
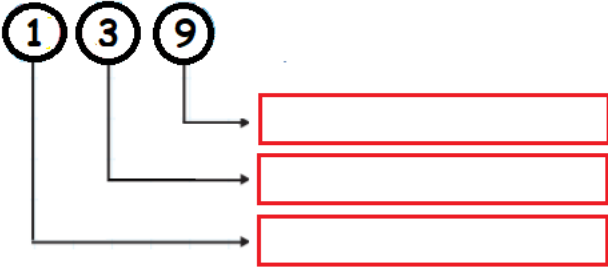
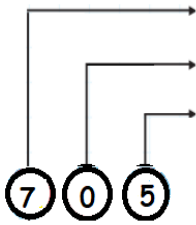
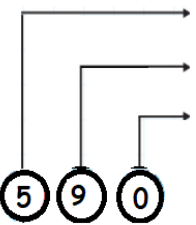
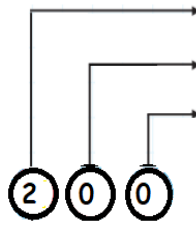
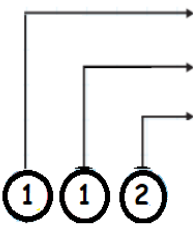
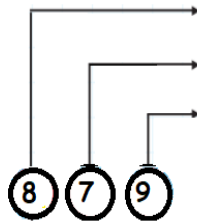
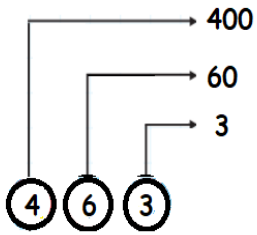


ADI SOYADI:

Sayıların basamak adlarını yazalım.



Sayıların basamak değerlerini yazalım.



MINI TEST

294

Yukarıdaki sayının yüzler ve birler basamağının basamak değerleri toplamı kaçtır?

A) 294

B) 290

C) 204

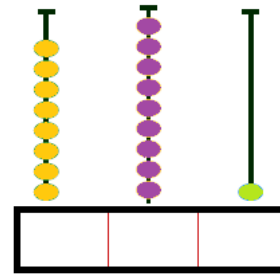
678	Yüzler basamağının basamak değeri 700'dür
911	Onlar basamağının basamak değeri 90 'dır.
305	Yüzler basamağında üç vardır.

Yukarıdaki ifadelerle doğruysa "D" harfi, yanlışsa "Y" harfi yazıldığında ,hangi seçenekteki sıralamaya ulaşırız?

A) DDY

B) YYD

C) DYY



Yukarıdaki abaküste gösterilen sayının onlar basamağı ile yüzler basamağındaki rakamlar yer değiştirirse yeni sayı hangisi olur?

A) 819

B) 981

C) 918

300	90	500
1	70	6
50	100	5

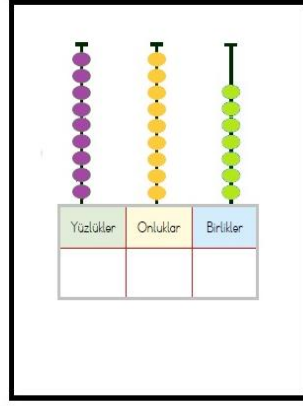
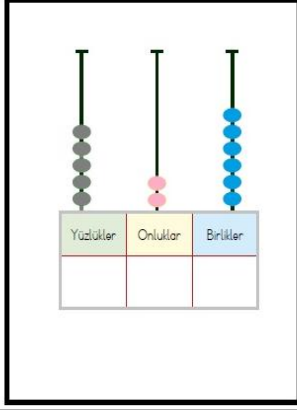
Yukarıdaki tabloda basamak değerleri verilen sayılarla yazılabilecek en büyük ve en küçük sayı kaçtır?

A) 576 , 151

B) 396 , 155

C) 596 , 151

Abaküslerde gösterilen yazalım.

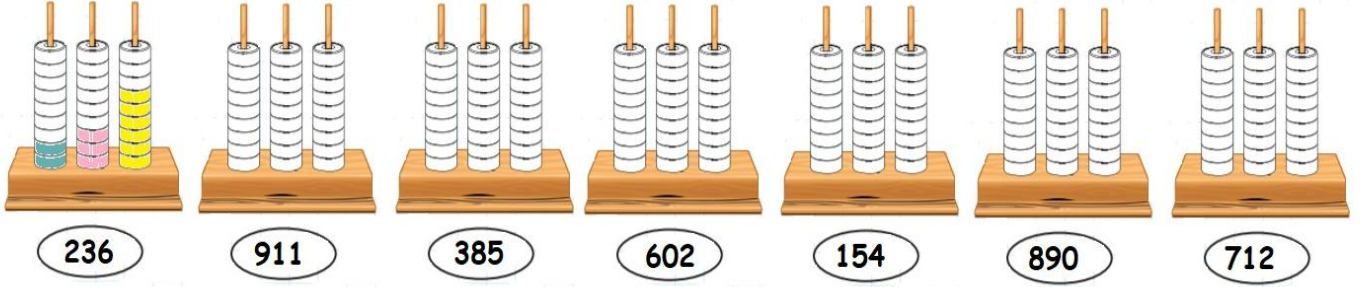


Verilen sayıdan başlayarak ilerleyelim.

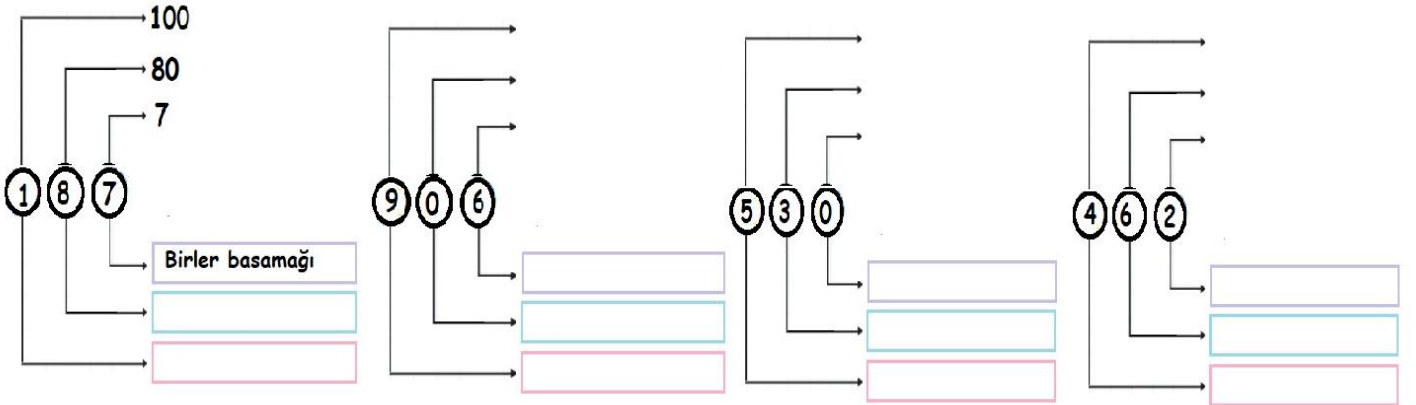
3.SINIF MATEMATİK 2

yüzer	67	167							
onar	234	244							
onar	471	481							
yüzer	92	192							

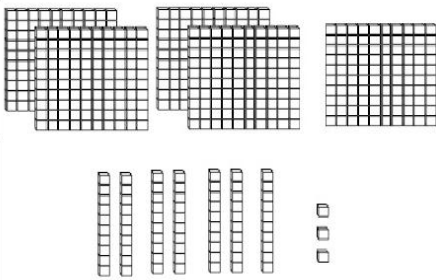

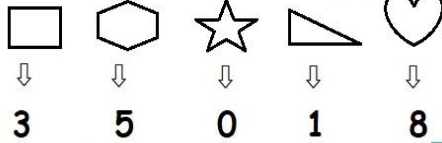
Verilen sayıları abaküslerde boyayarak gösterelim.



Sayıların basamak adlarını ve basamak değerlerini yazalım.



Şekillerle üç basamaklı sayılar oluşturalım.



.... yüzlük  
.... onluk  
.... birlik

Sayı: