

RAUF NAİL AKMAN İLKOKULU 3-A SINIFI MART AYI KAZANIM DEĞERLENDİRME SINAVI

ADI :

SOYADI :

FEN BİLİMLERİ

1) Lebibe'nin yanında oturan kardeşi oyuncak davuluna kuvvetli şekilde sürekli vuruyor. Lebibe , bu gürültüden rahatsız olduğu için kulağını elleriyle kapatıp odasına gidiyor. Odasında davul sesini duyduğu hâlde rahatsız olmadığı için kulaklarını kapatmaya ihtiyaç duymuyor.

Bunun sebebi aşağıdakilerden hangisidir?

- A) Ses kaynağından çıkan sesin şiddetinin sürekli artması
- B) Ses kaynağından uzaklaştıkça sesin şiddetinin azalması
- C) Sesin her yöne yayılması

2) Azra'nın oturduğu mahallede akşam elektrikler kesilmişti. Azra perdeyi açınca yıldızları gördü. Yoldan geçen arabaların lambaları yolu aydınlatıyordu. Azra daha sonra odasındaki mumu yaktı. Azra'nın o akşam gördüğü ışık kaynakları için aşağıdakilerden hangisi doğrudur?

- A) Hepsi yapay ışık kaynağıdır.
- B) Hepsi doğal ışık kaynağıdır.
- C) Yıldızlar doğal, araba lambası ve mum yapay ışık kaynağıdır.

3) Ailesi ile kampa giden Miraç , gece rüzgârla sallanan ağaç dallarının çıkardığı sesi duymasına rağmen ağaç dallarını görememiştir. Sabah uyandığında, gece seslerini duyduğu ağaç dallarını görmüştür.Bu durumla ilgili olarak aşağıdakilerden hangisi söylenebilir?

- A) Işık olmadan maddeleri göremeyiz.
- B) Işık olmadan sesleri işitemeyiz.
- C) Sadece yapay ışık kaynakları sayesinde görürüz.

Kaynakları farklı olan sesler aşağıda verilmiştir.

I- İnsanların çıkardığı ses

II- Müzik aletinden çıkan ses

III- Rüzgârın uğultusu

IV- Çalışan otomobilin motorundan çıkan ses

V- Gök gürültüsü

4) Buna göre, hangi seslerin kaynağı doğal ses kaynağıdır?

- A) I, II ve V
- B) I, III ve V
- C) II ve IV

5) Mehmet, çevresindeki varlıklardan birinin özelliklerini anlatmıştır.

* Kendisi hareket edemez.

* Nefes alıp veremez.

*** Büyüyemez.**

Bu varlık aşağıdakilerden hangisidir?

- A) Odasındaki oyuncak araba
- B) Evde beslediği kedi
- C) Bahçedeki elma ağacı

6) Soğuk bir kış akşamında sokakta yürüyen Veysel çatılardan buzların sarktığını görür. Ertesi gün öğle saatlerinde de güneşin etkisiyle çatılardaki buzların eriyip yerde su birikintisi oluşturduğunu görmüştür. Buna göre Veysel suyun aşağıdaki hâllerinden hangilerini görmüştür?

- A) Sadece gaz
- B) Katı ve gaz
- C) Katı ve sıvı

7) Emir salata yapan annesine yardım etmek istiyor. Salataya sirke koymak için buzdolabındaki şişelerden içinde pembemsi renkte olan sıvıyı alıyor. Bu sıvıdan emin olmak için kokladığında kokusundan dolayı sirke olduğunu anlıyor. Emir bu sıvının sirke olduğunu anlamak için hangi duyu organlarını kullanmıştır?

- A) Dil ve burun
- B) Göz ve burun
- C) Deri ve kulak

8) Aşağıdaki varlıklardan hangisinin hareketi, sallanma hareketine örnek gösterilebilir?

- A) Rüzgarın etkisiyle hareket eden ağaç yaprağı
- B) Hareket etmekte olan arabanın tekerleği

C) Çimlerin üzerinde yuvarlanan top

9) Aşağıdakilerden hangisi bitkileri hayvanlardan ayıran bir özelliktir?

- A) Yaşamak için dışarıdan bazı maddeler alabilme
- B) Kendi besinini yapabilme
- C) Solunum yapabilme

- Güneş ışınlarının zararlı etkilerinden korunmalıyız.
- Düzenli banyo yaparak vücut üzerindeki mikropları temizlemeliyiz.
- Başkalarının kullandığı tarağı kullanmamalıyız.

10) Yukarıda verilenler hangi duyu organımızın sağlığı için öncelikle gereklidir?

- A) Göz
- B) Kulak
- C) Deri

Dünya'nın katmanlarından birine ait özellikler verilmiştir.

Özellikler :

- Hayvan ve insanların yaşam alanıdır.
- Üzerinde dağlar, tepeler ve ovalar vardır.

11) Verilen özellikler aşağıdaki Dünya katmanlarından hangisine aittir?

- A) Hava katmanı
- B) Kara katmanı
- C) Su katmanı

12) Murtaza ve Zeynep, Güneş ışınlarının gece yeryüzüne nasıl ulaştığını anlamak için bir deney yapmışlardır. Bu deneyde karanlık bir ortamda el fenerinden çıkan ışığın ayna tarafından yansıtıldığında odayı görebildiklerini fark etmişlerdir. Buna göre deneyde ayna aşağıdakilerden hangisine benzetilmiştir?

A) Güneş B) Ay C) Dünya

– Hareketleri sınırlı değildir.

– Doğurarak çoğalırlar.

– Büyüme ve gelişmeleri belli bir yaşa kadardır.

13) Yukarıda yazılan özellikler aşağıdaki canlı varlıklardan hangisine ait olabilir?

A) Aslan B) Tavuk C) Çınar ağacı

TÜRKÇE

I. Yasin , her gün basketbol oynuyor.

II. Ailemi, okulumu ve ülkemi seviyorum.

III. Kitap okuyarak, anlatım gücümü geliştirdim.

1) Yukarıdakilerin hangisinde veya hangilerinde sebep-sonuç ilişkisi vardır?

A) Yalnız III B) I ve II C) II ve III

2) "Başının etini yemek." Deyiminin anlamı aşağıdakilerden hangisidir?

A) Beklediği kötü duruma düşmek.

B) Saygısızca alay etmek.

C) Bir kimseyi rahatsız etmek

3) Aşağıdaki cümlelerin hangisinde karşılaştırma yapılmıştır?

A) Bugün hava dünden daha sıcak.

B) Yarın annemle alışverişe gideceğiz.

C) Geçen hafta dedemler bize gelmişti

4) " İnsan başkasının karşılaştığı olumsuz bir durumla alay etmemeli ve gülmemelidir. Çünkü aynı durumla o da karşı karşıya gelebilir." Anlamına gelen atasözü hangisidir?

- A) Önce düşün sonra söyle.
- B) Gülü seven dikenine katlanır.
- C) Gülme komşuna gelir başına.

5) “Düşmek” sözcüğü aşağıdakilerin hangisinde “yağmak” anlamında kullanılmıştır?

- A) Havada uçan kuş vurulmuş gibi sokağa düştü.
- B) Bu kış dağlara çok kar düştü.
- C) Mirastan ona bu ev düştü.

6) Aşağıdaki cümlelerin hangisinde hayal ürünü bir anlatım vardır?

- A) İnsanlar, gemiye binip karşı kıyıya geçti.
- B) Çocuk, balığın sırtına bindi ve karşı kıyıya geçti.
- C) Otomobiliyle, sahilde gezmeyi severdi.

7) Aşağıdakilerin hangisinde eş anlamlı sözcükler bir arada kullanılmıştır?

- A) Hiç yorulmadan sabah akşam yürüdü.
- B) Bahçede güçlü kuvvetli bir adam çalışıyordu.
- C) Kadın, çocuğa yavaşça yaklaşarak bir şeyler fısıldadı.

8) Aşağıdaki seçeneklerin hangisinde “ dizi ” kelimesi farklı anlamda kullanılmıştır.

- A) Babam TV dizilerine çok bakıyor.
- B) Ablamın kanayan dizine bakamadım.
- C) Bazı televizyon dizilerini hiç sevmiyorum.

9) Ağızındaki et parçasını korumak için köpeğin biri koşarak gidiyor. Bu cümlede aşağıdaki sorulardan hangisinin cevabı yoktur?

- A) Nereye
- B) Nasıl
- C) Niçin

10) Aşağıdaki cümlelerin hangisinde özel isimlerin yazılışıyla ilgili yanlışlık yapılmıştır?

- A) Egemen ve Emirhan, umut’un amcalarıdır.
- B) Menekşe’nin annesi Konya’dan geldi.
- C) Bu dönem, Büşra’nın notları yüksekti.

11) Üç gün üç gece sandalla denizde sürüklendik. Sonunda rüzgâr bizi bir kıyıya sürükledi. Hakan ve ben diğerlerini kıyıda bırakıp yiyecek bulmaya çıktık. Hepimize yetecek kadar muz toplayıp geri döndük. Bu hikâyedeki **DENİZ SÖZCÜĞÜ , hikâyenin hangi ögesidir?**

- A) Yer
- B) Olay
- C) Zaman

12) Aşağıdakilerden hangisinde abartılı bir ifade vardır?

- A) Onu o kadar çok özlemişim ki yanından ayrılmak istemedim.
- B) Gökyüzüne kadar uzanan kollarıyla çok büyük görünüyordu.
- C) Bağıra bağıra şarkı söylemeyi çok seviyorum.

1. dikkat eden

2. daha uzun

3. Sağlığına

4. Yaşarlar

5. insanlar

13) Yukarıdaki numaralandırılmış sözcüklerle anlamlı bir cümle oluşturmak için sıralama nasıl olmalıdır?

A) 2 - 1 - 5 - 3 - 4

B) 5 - 2 - 3 - 4 - 1

C) 3 - 1 - 5 - 2 - 4

14) “i, i, n, y, t, k, e, ş” harflerinin tümü kullanılarak aşağıdaki kelimelerden hangisi yazılabilir?

A) Yetişkin

B) İletişim

C) Kişilik


15) Aşağıdaki cümlelerin hangisinde “eylemin şu an yapılmakta olduğu” anlatılmaktadır?

A) Mustafa bahçedeki çiçekleri suluyor.

B) Okulda resim yaptık

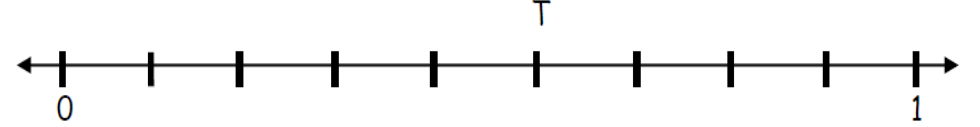
C) Nisanur bugün Ankara’ya gidecek.

MATEMATİK



1) Yukarıdaki modelin kesir olarak ifadesi aşağıdakilerden hangisidir?

A) $\frac{3}{15}$ B) $\frac{5}{14}$ C) $\frac{4}{15}$



2) Yukarıdaki sayı doğrusunda T yerine yazılacak olan kesir hangisidir?

A) $\frac{7}{10}$ B) $\frac{5}{9}$ C) $\frac{6}{8}$

3) $\frac{3}{10}$ 'unun 14 fazlası 278 olan sayının tamamı kaçtır?

A) 890

B) 880

C) 870

4) Bir ekmek 14 eş parçaya ayrılmıştır. Bu parçalardan 3 tanesini ben yedim. Benim yediğim ekmeğin **birim kesrini** belirten sayının kesirli gösterimi aşağıdakilerden hangisidir?

- A) $\frac{3}{14}$ B) $\frac{1}{14}$ C) $\frac{2}{14}$

5) 49' un 9 katının 249 fazlası kaçtır?

- A) 650 B) 690 C) 720

6) Berna kumbarada para biriktiriyor. Berna'nın kumbarasından 50 TL, 20 TL, 20 TL, 10 TL, 5 TL, 5 TL çıkmıştır. Buna göre Berna'nın kumbarasında kaç lira birikmiştir ?

- A) 110 B) 120 C) 130

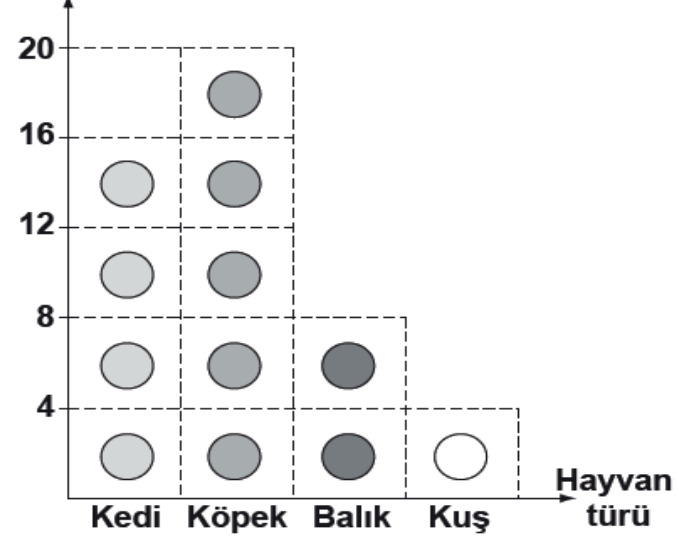
7) 745, 704, 715, 740 sayılarının küçükten büyüğe doğru sıralanışı aşağıdakilerden hangisidir?

- A) 745 < 740 < 715 < 704
B) 704 < 715 < 740 < 745
C) 704 < 715 < 745 < 740

8) Ayşe saat 22.00 da yatmış 08.00 da uyanmıştır. Fatma ise 21.00 da yatmış ve 09.00 da uyanmıştır. Fatma , Ayşe'den kaç saat fazla uyumuştur?

- A) 6 B) 3 C) 2

Öğrenci sayısı



Not: Her şekil 4 öğrenci göstermektedir.

9) Bir okuldaki öğrencilerin sevdiği hayvanlar yukarıdaki grafikte gösterilmiştir. Grafiğe göre, aşağıdakilerden hangisi doğrudur?

- A) Kuş seven 2 öğrenci vardır.
B) Balık seven 8 öğrenci vardır.
C) Köpek seven 16 öğrenci vardır.

10) “ 4, 1, 7 ” sayılarını birer kez kullanarak yazılabilecek üç basamaklı en küçük çift sayının çözümlenmiş hali hangisidir?

- A) 7 yüzlük + 1 onluk + 4 birlik
B) 1 yüzlük + 4 onluk + 7 birlik
C) 1 yüzlük + 7 onluk + 4 birlik

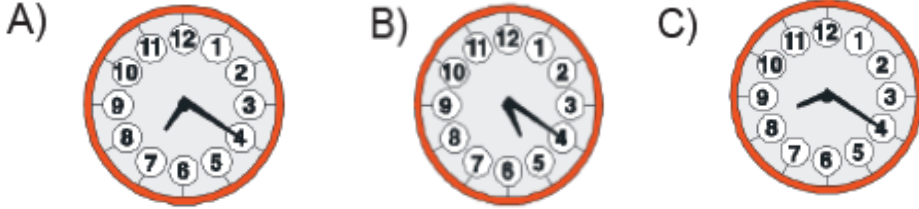
11) 74 - 70 - 66 - 62 - 60 - 58 - 54 - 50 " Örüntüde kuralı bozan sayı hangisidir ?

- A) 70 B) 58 C) 60

12) 4 birlik + 6 yüzlük + 5 onluktan oluşan sayının en yakın yüzlüğe yuvarlanmış hali aşağıdakilerden hangisidir?

- A) 700 B) 500 C) 600

13) Beril okuldan 18.05 te çıkıyor. 1 saat 15 dakika sonra eve geliyor. Beril eve geldiğinde saat kaç gösterir



14) Yukarıdaki verilen saate göre öğleden sonra saat kaçtır?

- A) 19.35 B) 20.35 C) 21.40

HAYAT BİLGİSİ



1) Yukarıda görseli verilen işaret levhası ne anlama gelmektedir?

- A) Yaya geçidi B) Yaya alt geçidi C) Yaya üst geçidi

2) Aşağıdaki davranışlardan hangisi evde kazalara neden olabilir?

- A) Ecrin : Evden çıkarken ocakları ve prizleri kontrol etmek
B) Fatmanur : Islak elle elektrikli aletleri kullanmak
C) İkra: Kişisel eşyalarımızı ortalıkta bırakmamak

3) Aşağıda, öğrenciler karşıdan karşıya geçerken yaptıkları davranışları birbirlerine anlatmaktadır.

Elif: Karşıdan karşıya geçerken alt ve üst geçitleri kullanırım.

Meryem : Karşıya geçerken önce yola adım atarım. Bir taraftan yürür, yürürkende sağıma soluma bakarım. Böylece zaman kaybetmem.

Azra : Yaya geçitlerini kullanıyorum .Buradaki trafik lambalarına uyar, kırmızıda asla geçmem.

Öğrencilerden hangisinin yaptığı yanlış bir davranıştır?

- A) Elif B) Meryem C) Azra

4) Deprem sırasında yatakta bulunan bir kişinin korunması için yapması gereken ilk hareket aşağıdakilerden hangisidir?

- A) Evin balkonuna çıkmak
B) Yatağın yanına uzanmak
C) Pencereden bağırarak yardım istemek

5) Aşağıdakilerden hangisi Cumhuriyetin getirdiği hak ve özgürlüklerden birisi değildir?

- A) Seçme ve seçilme hakkının getirilmesi
B) Özgürlüklerin kısıtlanması
C) Eğitim hakkının getirilmesi

6) Bilinçli bir tüketici satın alacağı üründe aşağıdakilerden hangisine dikkat etmelidir?

- A) Aldığı ürünün son kullanma tarihine
B) Alış – veriş yaptığı mağazanın gösterişli olmasına
C) Reklamlarda en çok tanıtılan ürünleri satın almaya

7) Bir sınıfta grip salgını olmuştur. Aşağıdaki davranışlardan hangisi, grip salgınının diğer sınıflara yayılmasına yol açabilir?

- A) Ağız ve burun kapatılacak şekilde hava aldırarak maske takılması
B) Kullanılan kağıt mendil ve diğer çöplerin çöp kutusuna atılması
C) Bütün öğrencilerin kapalı alanda spor yapması

8) İsmail , öğle yemeğini arkadaşlarıyla birlikte okul yemekhanesinde yiyor.

Çorba 1.	Makarna 2.	Bisküvi 3.
Salata 4.	Ekmek 5.	Köfte 6.

İsmail, tablodaki kaç numaralı besinleri seçerse daha dengeli beslenmiş olur?

- A) 2 ve 3 B) 1, 2, 4 ve 6 C) 1, 2, 3 ve 5

9) Aşağıdakilerden hangisi evimizde enerji tasarrufu yapmamıza katkı sağlar?

- A) Bulaşık makinesinin tam dolu olarak çalıştırılması
B) Giysilerimizin kirlenmeden sık sık makinede yıkanması
C) Kış aylarında oda sıcaklığı artınca pencerelerin açılması

Asude , büyüyünce yapmak istediği mesleğin özelliklerini araştırıp sonuçlarını aşağıdaki gibi yazmıştır.

- İnsanların hastalıklarını tedavi eder.
- Bulaşıcı hastalıkları önlemek için çalışmalar yapar.
- İnsanların sağlığının korunması için önlemler alır.

10) Buna göre Asude’nin ilgi duyduğu meslek aşağıdakilerden hangisidir?

- A) Veterinerlik B) Avukatlık C) Doktorluk

11) Deprem sırasında binanın içindeyseniz aşağıdakilerden hangisini yapmamalıyız?

- A) Balkonlardan uzak durmalıyız.
- B) Merdivenlerden koşarak aşağı inmeliyiz.
- C) Sarsıntı bitene kadar binanın içinde kalmalıyız.

“ Tuncay Öğretmen sınıfa yerel yöneticilerden birisini çağırdı. Gelen kişi görevleri hakkında öğrencilere bilgi verdi. Seçimle iş başına geldiğini söyledi.”

12) Yukarıda anlatılanlara göre sınıfa gelen kişi aşağıdakilerden hangisi olabilir?

- A) Vali B) Belediye Başkanı C) Kaymakam

13) Vali ile ilgili aşağıdaki bilgilerden hangisi doğru değildir?

- A) İle yol, temizlik, su gibi ortak ihtiyaçlarına yönelik hizmetleri verir.
- B) Devlet tarafından görevlendirildiği için devletin ildeki temsilcisidir.
- C) İlde eğitim, ulaşım, sağlık gibi devlet işlerinin yürütülmesini sağlar

14) İl veya ilçenin yol, temizlik , su gibi ortak ihtiyaçlarına yönelik hizmetleri hangisi yapar?

- A) Vali B) Kaymakam C) Belediye Başkanı

BAŞARILAR .

HAZIRLAYAN : TUNCAY YILDIRICI