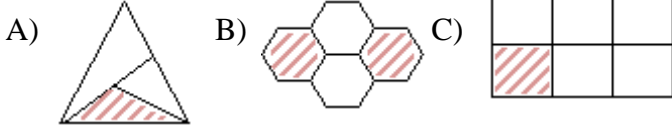


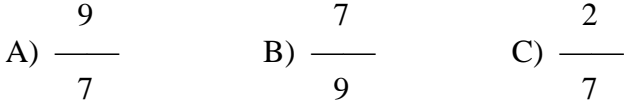
1 – Aşağıdaki taralı bölgelerden hangisi kesirle gösterilemez ?



2 –

Yedide dokuz

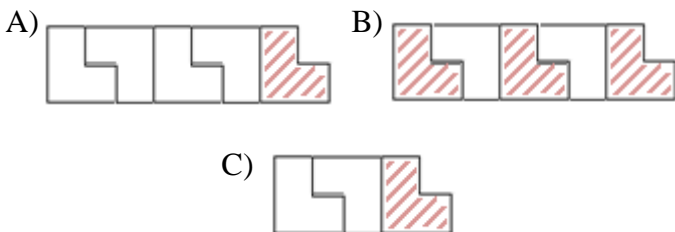
Yukarıda okunuşu verilen kesir aşağıdakilerden hangisidir ?



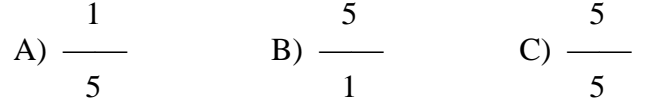
3 – Aylin ,pastanın  $\frac{1}{4}$ 'inin ,Utku  $\frac{1}{2}$ 'ini Yiğit  $\frac{1}{8}$ 'ini yemiştir. En fazla pastayı hangi çocuk yemiştir ?

A) Aylin B) Utku C) Yiğit

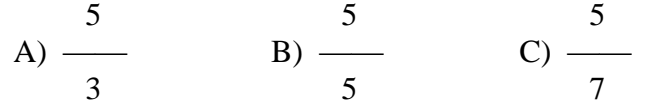
4 – 3 tane  $\frac{1}{5}$  birim kesri için aşağıdakilerden hangisi doğrudur ?



5– Aşağıdakilerden hangisi birim kesirdir ?



6 – Aşağıdaki kesirlerden hangisi en büyüktür ?



7 –  $\frac{15}{15} > \frac{\star}{15} > \frac{10}{15}$

Yukarıdaki sıralamada “☆” yerine aşağıdakilerden hangisi gelemez ?

A) 12 B) 14 C) 16

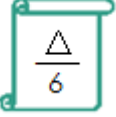
8 –  $\frac{5}{7}$  kesrini sayı doğrusunda göstermek için 0 ile 1 arasını kaç eş parçaya bölmeliyiz ?

A) 5 B) 7 C) 12

9 –  $\frac{5}{8}$  kesri hangi birim kesirlerden elde edilir ?

A) 8 tane  $\frac{1}{5}$  B) 5 tane  $\frac{1}{8}$

C) 5 tane  $\frac{1}{5}$

10 –  Yandaki kesrin bir bütünü göstermesi için “ $\Delta$ ” yerine kaç gelmelidir ?

- A) 1                      B) 3                      C) 6

11 – 12 kalemın  $\frac{1}{3}$ 'i kaç kalem eder ?

- A) 6                      B) 4                      C) 3

12 – Metin 35 bilyesinin  $\frac{3}{7}$ 'sini kardeşine veriyor. Metin kardeşine kaç bilye vermiştir ?

- A) 10                      B) 15                      C) 20

13 – Bilge , 84 sayfa kitabın  $\frac{4}{7}$ 'ünü okudu. Bilge kaç sayfa okumuştur ?

- A) 60                      B) 48                      C) 36

14 – Bir kolideki 30 yumurtanın  $\frac{1}{6}$ 'i kırık çıktı. Kırık olan yumurta sayısı kaçtır ?

- A) 3                      B) 5                      C) 25

15 – Bir bakkal 80 tane ekmeğin  $\frac{7}{10}$ 'sini sattı. Geriye kaç tane ekmek kaldı ?

- A) 24                      B) 30                      C) 36

16 – Melda ,kitabının  $\frac{4}{7}$ 'ünü okumuştur.

Melda 48 sayfa okuduğuna göre ,kitabın tamamı kaç sayfadır ?

- A) 72                      B) 84                      C) 96

17 – Annem 40 yaşındadır. Benim yaşım annemin yaşının  $\frac{1}{5}$ 'idir. Annemle benim yaşlarımızın toplamı kaçtır ?

- A) 48                      B) 45                      C) 35

18 – Bir günün  $\frac{5}{8}$  'ini uykuda geçiren bir bebek kaç saat uyumuş olur ?

- A) 12                      B) 15                      C) 18

