

Adı :

Soyadı :

Kesirler  
Değerlendirme  
Sınavı



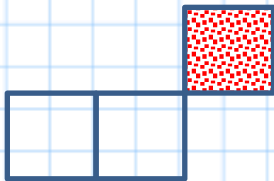
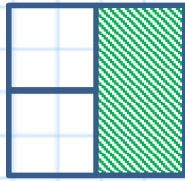
1-)  $\frac{3}{8}$  kesrini gösteren bir model çizin.

2-)  $\frac{5}{9}$  kesrinin tüm okunuşlarını yazın.

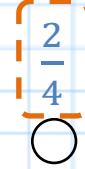
3-) Kesirli ifadelerdeki terim isimlerini yazın.

2  
—  
6


4-) Aşağıdaki modellerden hangisi  $\frac{1}{3}$  kesrini göstermektedir?



5-) Aşağıdaki sayı doğrusunda "A" harfi hangi kesri göstermektedir?



6-) Aşağıdaki çokluğun  $\frac{1}{6}$ 'ini çember içine alın.



7-) 32'nin  $\frac{1}{8}$ 'ini bulmak isteyen çocuklardan hangisi doğru işlemleri yapmıştır?



32'yi 8'e böldüm ve çıkan sonucu 1 ile çarptım.



32 ile 8'i topladım ve çıkan sonucu 1 ile çarptım.



32'yi 1'e böldüm ve çıkan sonucu 8 ile çarptım.

Adı :

Soyadı :

Kesirler  
Değerlendirme  
Sınavı



8-)

Hasan her gün okuldan geldikten sonra 3 saat ders çalışmaktadır. Çalışma süresinin  $\frac{1}{6}$ 'inde test çözmektedir. Buna göre Hasan test için kaç dakika ayırmıştır?

9-)

Kerim'in 56 lirası vardır. Parasının  $\frac{1}{7}$ 'i ile defter almıştır. Kalan parasının  $\frac{1}{8}$ 'i kadar babasından para alan Kerim'in şu an kaç lirası vardır?

10-)

Bir araç 50 kilometre gittiğinde gideceği yolun  $\frac{1}{10}$ 'ini tamamlamış oluyor. Buna görece aracın gideceği yolun tamamı kaç kilometredir?