

Adı-soyadı:

FEN DEĞERLENDİRME 1



- Yer kabuğunun altında bulunur.
- Erimiş kayalardan ve metallerden oluşur.

İp uçları verilen katman aşağıdaki-lerden hangisidir?

- A) Su katmanı
- B) Manto
- C) Çekirdek



Bulmacada hangi sorunun cevabı yoktur?

- A) En büyük ısı ve ışık kaynağımız nedir?
- B) Dünya'mızın şekli nedir?
- C) İçinde yaşadığımız katmanın adı nedir?



Atın arabaya uyguladığı kuvvetin türü nedir?

- A) Çekme
- B) İtme
- C) Döndürme

Her maddenin kendine özgü özelliği vardır. Maddeleri tanıırken öncelikli olarak bu özelliklerine bakarız.


Sıvı bir maddeyi tanıırken hangi özelliğine bakmak doğru olmaz?

- A) Kokusuna
- B) Rengine
- C) Sertliğine

Yemek masasında tuz, çorba, ekmek ve pekmez vardı.

Cümlesinde sıvı olan maddeler hangileridir?

- A) tuz, çorba
- B) çorba, pekmez
- C) ekmek, pekmez



Canlıyım, çünkü

Civcivin cümlesini aşağıdaki ifadelere hangisi ile tamamlayamaz?

- A) hareket edebiliyorum
- B) beslenebiliyorum
- C) rengim sarıdır

★ Görme olayı ışık olmasa da gerçekleşir.

● Işık bitkilerin büyümesi için gereklidir.

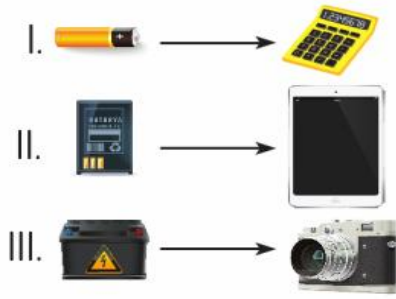
✿ Ay ışık kaynağı olmadığı hâlde Güneş'ten aldığı ışığı yansıtır.

Yukarıdaki ifadelerden hangileri doğrudur?

- A) ★ - ●
- B) ● - ✿
- C) ★ - ✿

Hangi seçenekte doğal ve yapay ışık kaynakları birlikte verilmiştir?


- A) Ateş böceği - Ampul
- B) Floresan lamba - meşale
- C) Fener balığı - yıldız



Yukarıda elektrikli araçlar ve kullandıkları elektrik kaynakları verilmiştir.

Eşleştirmelerden hangisi yanlıştır?

- A) I B) II C) III



Canlıların yaşadığı katmanların adı nedir?

	▲	●
A)	Su Katmanı	Hava Katmanı
B)	Su Katmanı	Kara Katmanı
C)	Kara Katmanı	Hava Katmanı



Dünya'mızı çevreleyen ve yer kabuğunu saran katmanın adı nedir?

- A) Su katmanı
B) Atmosfer
C) Kara katmanı




"Kardeşimin yumuşak elleri vardır."


Zehra kardeşinin ellerinin yumuşak olduğunu hangi duyu organını kullanarak anlamıştır?

- A) Göz B) Burun
C) Deri

Aşağıdaki görsellerden hangisi kuvvetin şekil değiştirme etkisine örnek verilemez?



Aşağıdaki maddelerden hangisi sert, kırılğan ve pürüzsüz özelliklere sahiptir?



Annem elektrik süpürgesiyle evi süpürürken hangi kuvvet türlerini kullanır?

- A) Döndürme - Sallama
B) İtme - Çekme
C) Yön değiştirme - Hızlanma

- Kitap
- Limon
- Çiçek
- Sarımsak
- Tuğla
- Pamuk
- Kek
- Parfüm

Yukarıdaki maddelerin kaç tanesini koku alma duyumuzla tanıyabiliriz?

- A) 4 B) 5 C) 6



- ★ Kendi besinini kendisi yapar.

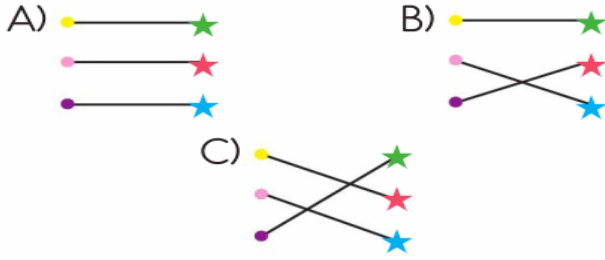


- ★ Zıplayarak hareket eder. Genellikle su kenarlarında yaşarlar.



- ★ Yumurtlayarak çoğalır, ağaçta yaşarlar.

Canlılar ile özellikleri hangi seçenekte doğru eşleştirilmiştir?



Efe akşam kitap okurken yazıları net olarak göremediğini söylemiştir.

Efe'nin net görebilmesi için aşağıdakilerden hangisi yapmalıdır?

- A) Işık miktarı azaltılmalıdır.
- B) Işık miktarı artırılmalıdır.
- C) Gündüz kitap okunmalıdır.



◆, ★ yerine aşağıdaki olaylardan hangilerinin yazılması uygun olur?

	◆	★
A)	Dolabı kapatma	Kuyudan su çıkarma
B)	Masayı kaldırma	Bardağa su koyma
C)	Çantayı taşıma	Kitabı açma

..... canlı varlıklara örnek verilebilir.

Yukarıdaki cümlede ▲ yerine hangisi yazılamaz?

- A) Ağaç
- B) Yengeç
- C) Su

Aşağıdaki ifadelerden hangisi yanlıştır?

- A) Atık piller su ve toprakta yaşayan canlılara zarar verir.
- B) Elektrik yangınlarında 110 numaralı telefonu aramalıyız.
- C) Elektrik enerjisi tükenmez bir kaynaktır.

Aşağıda verilen bilgilerden hangisi Dünya'nın yuvarlak olduğunun kanıtı değildir?

- A) Gökyüzü ve denizin ufukta birleşiyor gibi görünmesi
- B) Güneş'in yavaş yavaş doğması ve batması
- C) Limana yaklaşan geminin tamamının görünmesi

Aşağıdakilerden hangisi Dünya'nın gözlemlenemeyen katmanlarından biridir?

- A) Yer kabuğu
- B) Atmosfer
- C) Manto

Aşağıdaki araçlardan hangisi elektrik enerjisini aküden sağlar?

A)



B)



C)



★ En büyük ısı ve ışık kaynağımız Ay'dır.

★ Mum yapay ışık kaynağıdır.

★ Yıldızlar doğal ışık kaynağıdır.

Yukarıdaki ifadelerden hangisi yan-
lıştır?

A) ★

B) ★

C) ★