

## DOĞAL SAYILARI EN YAKIN ONLUĞA VE YÜZLÜĞE YUVARLAMA



Aşağıdaki soruları cevaplayıp bulduğumuz sonucu boyayalım.

611

1- 150'ye yuvarlanan en büyük sayı kaçtır?

159

2- 610'a yuvarlanan en küçük sayı kaçtır?

154

3- 525'in onluğa yuvarlandığı sayının onlar basamağındaki rakamın basamak değeri kaçtır?

20

4- 96 sayısının yuvarlandığı e yakın onluk 150 sayısından kaç azdır?

5- 200 onluğuna yuvarlanan en küçük sayı kaçtır?

30

50

195

209

60

605



Bir mağazada hazırlanan katalogda bazı ürünlerin fiyatları verilmiştir. Ahmet bey bu ürünlerin yaklaşık fiyatını yazıp bir bütçe hazırlamak istiyor. Ona yardım edip alacağı ürünlerin fiyatını yüzlüğe yuvarlayalım.

Ürün adı	Fiyatı (TL)	Yaklaşık Fiyatı
Ütü	675	.....
Elektrik süpür.	827	.....
Tost makinesi	215	.....
Su ısıtıcısı	155	.....

Ürün adı	Fiyatı (TL)	Yaklaşık Fiyatı
Televizyon	899	.....
Kahve makinesi	475	.....
Fırın	815	.....
Saç Kur. Mak.	328	.....



Ortadaki kutuda yazan sayıyı hem onluğa hem de yüzlüğe yuvarlayarak yazalım.

En Yakın  
Onluk

Sayı

En Yakın  
Yüzlük

420 ← 416 → 400...

..... ← 197 → .....

..... ← 528 → .....

..... ← 685 → .....

..... ← 292 → .....

..... ← 704 → .....

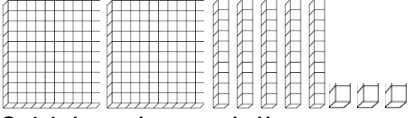
..... ← 875 → .....

..... ← 394 → .....

## EN YAKIN ONLUĞA VE YÜZLÜĞE YUVARLAMA TEST

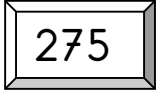
1- Ayşe bayramda 375 TL para biriktirdi. Ayşe'nin parası yaklaşık olarak kaç yüzlüktür?

- A. 300
- B. 400
- C. 500



2-Yukarıda modellenen sayı aşağıdaki sayılardan hangisinin onluğuna yuvarlanır?

- A. 255
- B. 260
- C. 250



3- Yukarıdaki sayının yuvarlandığı yüzlük ile onluğun toplamı kaçtır?

- A. 580
- B. 480
- C. 570

4- Onlar basamağında 7, birler basamağında 5, yüzler basamağında 5 olan sayının en yakın olduğu yüzlük aşağıdakilerden hangisidir?

- A. 700
- B. 500
- C. 600

5- 170'e yuvarlanan en büyük ve en küçük sayının farkı kaçtır?

- A. 8
- B. 9
- C. 7

6- Aşağıdaki sayılardan hangisi 340'a yuvarlanmaz?



A.



B.



C.

7- . 543 < ..... Noktalı yere yazılacak en küçük sayıyı hangi onluğa yuvarlarız?

- A. 500
- B. 550
- C. 540

87

102

125

156

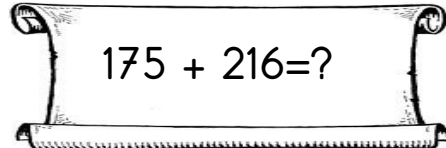
45

8- Yukarıdaki sayılardan kaç tanesi 100 sayısına yuvarlanır?

- A. 2
- B. 3
- C. 4

9- 176'dan başlayarak ileriye doğru altışar ritmik sayarken 4. Sırada söylediğimiz sayıyı yuvarladığımız en yakın onluk kaçtır?

- A. 180
- B. 190
- C. 200



10- Yukarıdaki işlemi yüzlüğe yuvarlayarak tahmin eden Kerem kaç bulmuştur?

- A. 300
- B. 400
- C. 500