

Soyadı:.....

Sınıfı:.....

No:.....

...../...../.....

.....

Bir Çokluğun Verilen Kesir Kadarını Bulma-1

30 elmanın $\frac{2}{5}$ 'si kaç elma eder?

Çözüm;

Şekil çizelim

1. Adım: Çokluğu paydaya bölelim.

2. Adım: Bölüm sayısını pay ile çarpalım.

	3	0	5
-	3	0	6
	0	0	

6 elma

6 elma

6 elma

6 elma

6 elma

6

X

1	2
---	---

28 elmanın $\frac{2}{4}$ 'si 12 elma eder?

32 cevizin $\frac{3}{4}$ 'ü kaç ceviz eder?

Çözüm:

Şekil çizelim

1. Adım: Çokluğu paydaya bölelim.

2. Adım: Bölüm sayısını pay ile çarpalım.

.....

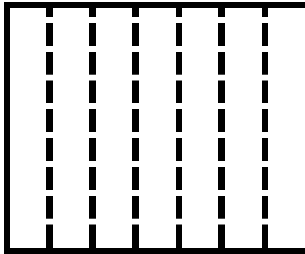
35 tane çileğin $\frac{3}{7}$ 'ü kaç çilek eder?

Çözüm:

Şekil çizelim

1. Adım: Çokluğu paydaya bölelim.

2. Adım:Bölüm sayısını pay ile çarpalım.



.....

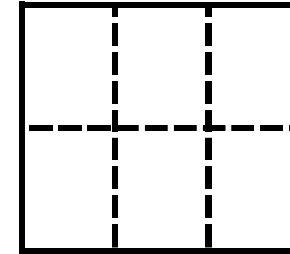
42 tane topun $\frac{2}{6}$ 'si kaç top eder?

Çözüm:

Şekil çizelim

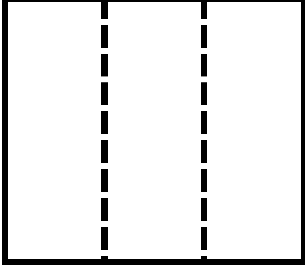
1. Adım: Çokluğu paydaya bölelim.

2. Adım: Bölüm sayısını pay ile çarpalım.

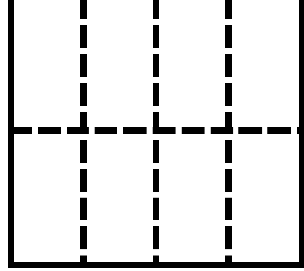


.....

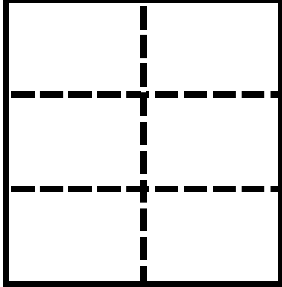
30 tane kalemin $\frac{2}{3}$ 'si kaç top eder?

Çözüm:		
1. Adım: Çokluğu paydaya bölelim.	Şekil çizelim	2. Adım:Bölüm sayısını pay ile çarpalım.
		
.....		

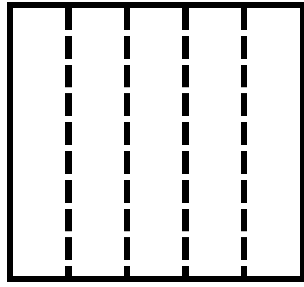
48 tane silginin $\frac{3}{8}$ 'ü kaç silgi eder?

Çözüm:		
1. Adım: Çokluğu paydaya bölelim.	Şekil çizelim	2. Adım:Bölüm sayısını pay ile çarpalım.
		
.....		

18 tane çantanın $\frac{4}{6}$ 'ü kaç çanta eder?

Çözüm:		
1. Adım: Çokluğu paydaya bölelim.	Şekil çizelim	2. Adım:Bölüm sayısını pay ile çarpalım.
		
.....		

75 tane yumurtanın $\frac{3}{5}$ 'ü kaç yumurta eder?

Çözüm:		
1. Adım: Çokluğu paydaya bölelim.	Şekil çizelim	2. Adım:Bölüm sayısını pay ile çarpalım.
		
.....		