


ADI - SOYADI:

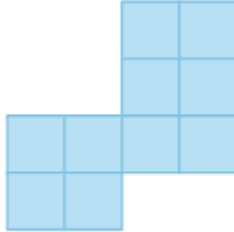
3.SINIF MATEMATİK "ALAN ÖLÇME" (TEST)

1 - Aşağıdaki şekillerden hangisinin alanı en büyüktür?

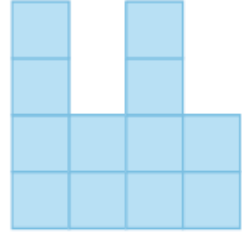
A)



B)



C)

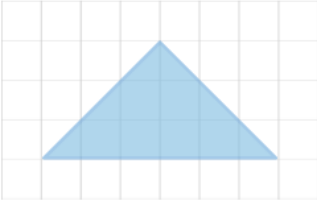


2 - Yukarıdaki dikdörtgenin alanı kaç birimdir?

A) 45

B) 36

C) 25

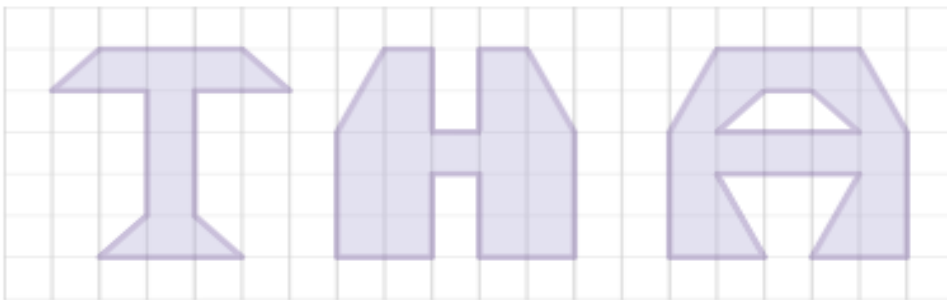


3 - Üçgenin alanı kaç birim karedir?

A) 9

B) 10

C) 11



4 - Kareli kâğıda çizilen harflerin alanları büyükten küçüğe sıralanırsa hangisi yazılır?

A)



B)



C)

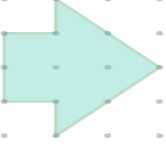


5 - Uzun kenarı 6 birim kısa kenarı 2 birim olan dikdörtgenin alanı kaç birimdir?

A) 8

B) 12

C) 16

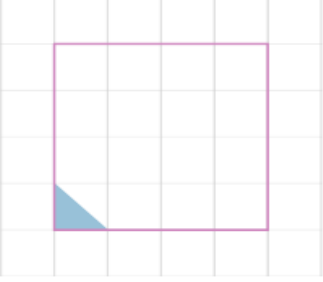


6 - Noktalı kâğıda çizilen şeklin alanı kaç birimdir?

A) 8

B) 7

C) 6



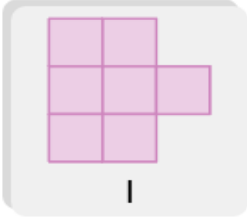
Kareli kâğıda çizilen karenin alanı üçgenlerle kaplanacaktır.

7 - Kaç üçgen kullanılarak kare kaplanır?

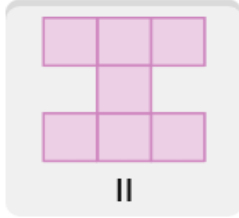
A) 32

B) 16

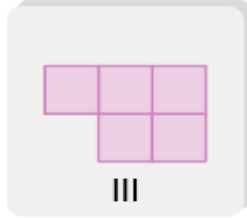
C) 8



I



II



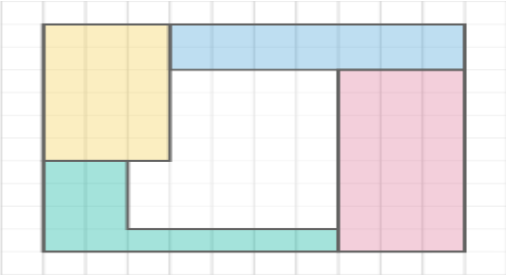
III

8 - Yukardaki şekillerden hangilerinin alanı eşittir?

A) I ve III

B) II ve III

C) I ve II



Kareli kâğıda bir ev krokisi çizilmiştir. Boyalı olmayan

kısım evin salonudur.

9 - Evin salonunun alanı kaç birimdir?

A) 28 birim

B) 22 birim

C) 31 birim

10 - Uzun kenarı 5, kısa kenarı 3 birim olan dikdörtgenin alanı hangisinden küçüktür?

A)

B)

C)

